

تم تحميل هذا الملف من موقع المناهج الإماراتية



نموذج تدريبي للاختبار النهائي

موقع المناهج ← المناهج الإماراتية ← الصف الأول ← علوم ← الفصل الثاني ← اختبارات ← الملف

تاريخ إضافة الملف على موقع المناهج: 2025-01-29 16:11:38

ملفات اكتب للمعلم اكتب للطالب | اختبارات الكترونية | اختبارات | حلول | عروض بوربوينت | أوراق عمل
منهج انجليزي | ملخصات وتقارير | مذكرات وبنوك | الامتحان النهائي للمدرس

المزيد من مادة
علوم:

التواصل الاجتماعي بحسب الصف الأول



صفحة المناهج
الإماراتية على
فيسبوك

الرياضيات

اللغة الانجليزية

اللغة العربية

التربية الاسلامية

المواد على تلغرام

المزيد من الملفات بحسب الصف الأول والمادة علوم في الفصل الثاني

أسئلة الاختبار التكويني الثالث

1

عرض بوربوينت درس فصل الربيع

2

عرض بوربوينت مراجعة درس أماكن صالحة للعيش

3

عرض بوربوينت درس تغيرات الطقس

4

عرض بوربوينت مراجعة درس ماذا يوجد في السماء

5



الاختبار النهائي الفصل الدراسي الثاني
للفصل الأول - مادة العلوم (نموذج تدريبي)
العام الدراسي 2023-2024

الاسم: الصف: الأول

حوظ الإجابة الصحيحة



- C




-B

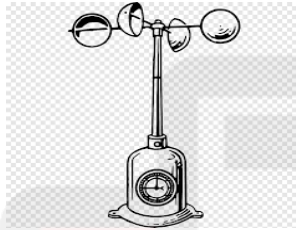


- A

1- تعطينا الضوء والحرارة



- C



-B



- A

2- أداة لقياس كمية المطر



- C




- B

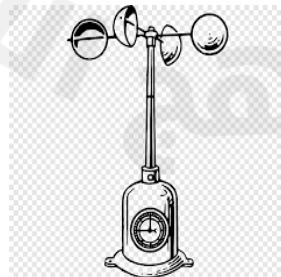


- A

3 - صورة تمثل الطقس المشمس



-C



-B



- A

4 - أداة لقياس درجة الحرارة

5- السحب الريشية



- C



-B



- A

6 - صورة توضح السحب الركامية



- C



-B



- A

7 - الصورة توضح



C - فصل الشتاء

B- فصل الخريف

A - فصل الصيف

8 - صورة توضح شكل النباتات في فصل الشتاء



- C



- B



- A

9 - صورة توضح فصل الصيف



- C



-B



- A

10 - من مظاهر فصل الشتاء



-C



-B



- A