

تم تحميل هذا الملف من موقع المناهج الإماراتية



الملف أوراق عمل الوحدة الرابعة كل مايتعلق بالحيوانات الدرس الأول

[موقع المناهج](#) ← [المناهج الإماراتية](#) ← [الصف الأول](#) ← [علوم](#) ← [الفصل الأول](#)

روابط مواقع التواصل الاجتماعي بحسب الصف الأول



روابط مواد الصف الأول على تلغرام

[الرياضيات](#)

[اللغة الانجليزية](#)

[اللغة العربية](#)

[التربية الاسلامية](#)

المزيد من الملفات بحسب الصف الأول والمادة علوم في الفصل الأول

| | |
|---|---|
| اختبار التقويم الأول | 1 |
| ورقة عمل الإختبار الأول | 2 |
| اختبار التقويم الثاني | 3 |
| تحميل دليل المدرس | 4 |
| 8 أوراق عمل | 5 |

الوحدة الرابعة: كل ما يتعلق بالحيوانات الدرس 1: أنواع الحيوانات

أي مما يلي غير صحيح بخصوص الأسماك؟

A. تعيش فالماء


B. لها رتتان

C. لها زعانف


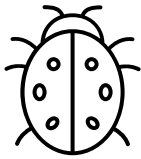
D. لها قشور




حيوان من الثدييات:




حيوان من الطيور:




حيوان من الزواحف:





يتنفس عن طريق الخياشيم:




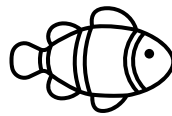
ليس من الحشرات:






تولد (لا تخرج من البيض).





من الحشرات:





تختلف عن الثدييات:



من الزواحف:



يعيش في الماء واليابسة:



يتشابه الطائر والفراشة في أن:

A. لهما نفس عدد السيقان

B. لهما منقار

C. كلاهما يطير


يغطي جسم الطائر بـ:

A. القشور


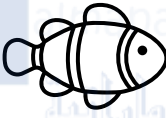
B. الشعر

C. الريش




أي من الحيوانات التالية ليست من الحشرات:




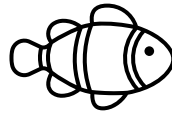

أي من الحيوانات التالية يتكون جسمها من ثلاث أجزاء:



أي من الحيوانات التالية تضع البيض فقط:



أي من الحيوانات التالية تلد فقط:



أي مما يلي غير صحيح بخصوص الأسماك:

A. لها رتتان

B. لها زعانف

C. لها قشور

أي مما يلي غير صحيح بخصوص الثدييات:

A. جسمها مغطاة بالشعر أو الفراء

B. لها رئتان

C. تلد وتعتني بصغارها

D. لها قشور

أي مما يلي غير صحيح بخصوص البرمائيات: almanahj.com/ae
المنهج الإماراتية



A. تعيش في الماء واليابسة

B. لها ريش




C. تنتقل إلى اليابسة عندما تكبر

D. لها جلد أملس ورطب

يغطي جسمها الحراشف:



لا تتنفس عن طريق الرئتين



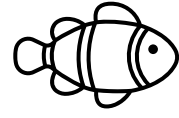


حيوانات مغطاة بالشعر أو الفراء يمكنها أن تقفز وتمشي أو تسبح أو تطير:

A. الثدييات



B. الطيور

C. الأسماك

حيوان يلد ويرضع صغاره الحليب:



حيوان له ساقان وجناحان:



للطيور _____ يساعدها على تناول الغذاء وحمل الأشياء إلى أعشاشها:

A. منقار

B. منشار

C. قشار

يعد الخفاش من _____ وهو يطير.

A. الأسماك

B. الطيور

C. الثدييات

حيوانات لها جلد جاف:

A. البرمائيات

B. الزواحف

C. الثدييات

يغطي جسم الزواحف:

A. الحراشف

B. الريش

C. القشور

حيوان له جلد أملس ورطب.

A. البرمائيات

B. الزاحف

C. الثدييات

تضع البرمائيات البيض في:

A. التربة

B. الماء

C. الصخور

حيوانات تعيش تحت الماء

A. الزواحف

B. البرمائيات

C. الأسماك

جسم الأسماك مغطى بـ:

A. الحراشف

B. الريش

C. القشور

للأسماك خياشيم تساعد على:

A. السباحة

B. التنفس

C. القفز

يتكون جسم الحشرات من — أجزاء.

6.A

4.B

3.C

للحشرات — أرجل.


6.A

4.B


3.C



من الحشرات




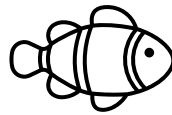
لا يعد من الحشرات



حدد الإجابة الصحيحة والخاطئة

- A. تستطيع جميع الطيور ان تطير.
- B. بعض الزواحف لها قواقع لتحافظ على سلامتها.
- C. تضع معظم الزواحف البيض.
- D. للأسماك زعانف تساعد على الطيران.
- E. الحشرات تبيض.
- F. تساعد الخياشيم الأسماك في التنفس تحت الماء.
- G. تعد الدلافين من الأسماك.
- H. الطيور حيوانات يغطي جسمها الشعر أو الفراء.
- I. يعد النمل والفراشات من الحشرات.

الحيوان الذي يعيش في الماء فقط

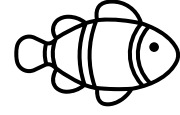


حيوان يتنفس بالخياشيم:




almanahj.com/ae
المنهاج الإماراتية



يغطي جسمه الريش:





من الثدييات ويستطيع الطيران:



الحيوان الذي يضع البيض:



يمكنه الانتقال بين الماء واليابسة:



أي مما يلي ليس من صفات الطيور:

A. يغطي جسمها الريش

B. تلد صغارها

C. لها منقار

أي مما يلي ليس من صفات الزواحف:

A. يغطي جسمها الحراشف

B. تبيض

C. تتنفس بالخياشيم

أي مما يلي ليس من صفات الثدييات:

A. تلد صغارها

B. يغطي جسمها الشعر

C. تتنفس بالخياشيم

ما الذي يساعد الطيور في الحصول على الغذاء:

A. الريش

B. المنقار

C. الرئتان



ما الي يساعد الأسماك في السباحة:

A. الزعانف

B. القشور

C. العيون

أي مما يلي ليست من صفات الأسماك:

A. يغطي جسمها قشور

B. تتنفس بالرئتين

C. لها زعانف


أي مما يلي ليست من صفات البرمائيات:

A. تعيش في الماء فقط


B. تبيض

C. جلد ناعم وأملس


لون الثدييات - حوط الزواحف - ضع خط تحت الطيور



صل بخط مستقيم بين الحيوان ونوعه فالجدول التالي:



| | | | | | |
|------|-------|-------|-------|--------|----------|
| طيور | حشرات | أسماك | زواحف | ثدييات | برمائيات |
|------|-------|-------|-------|--------|----------|



املاً الفراغ بالكلمات المناسبة

| | | |
|---------|-----|---------|
| الأسماك | تلد | الحشرات |
|---------|-----|---------|

A. تستطيع _____ التنفس تحت الماء عن طريق الخياشيم.

B. _____ القطط والدلافين صغارها لأنها من الثدييات.


C. تعيش _____ على اليابسة ولها 3 أجزاء للجسم.

ضع الكلمات التالية في الفراغات في الجدول:

(ريش – الماء – زعانف – أعشاش – قشور – جناحان)

| الطيور | الأسماك |
|----------------------------------|--------------------------------|
| A. تعيش في _____. | A. تعيش في _____. |
| B. لها _____ يساعدان في الطيران. | B. لها _____ تساعد في السباحة. |
| C. يغطي جسمها _____. | C. يغطي جسمها _____. |

صل ما يلي:

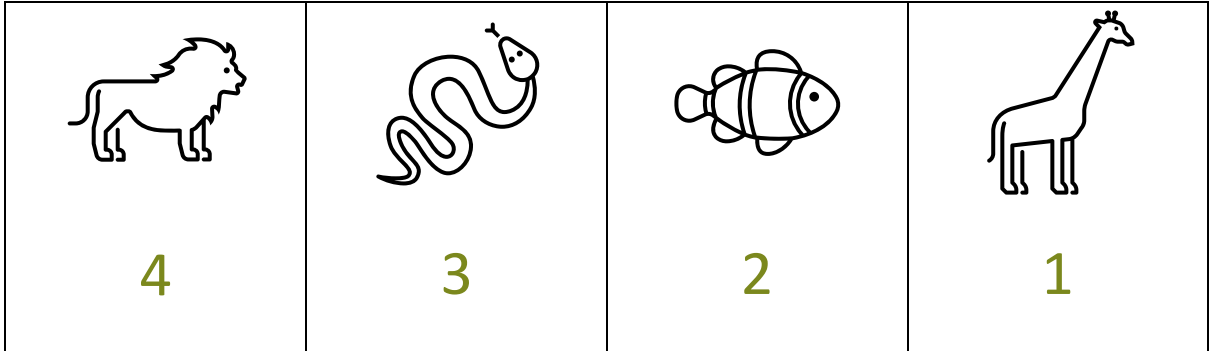


يغطي جسمها الشعر

تضع لبيض





تعيش في اليابسة
والماء

صنف الحيوانات التالية على حسب المجموعة:







| تبيض | تلد |
|-------|-------|
| _____ | _____ |
| _____ | _____ |

صنف الحيوانات التالية على حسب المجموعة:

| | | | |
|---|---|--|---|
|  |  |  |  |
| 4 | 3 | 2 | 1 |




| تتنفس بالخياشيم | تتنفس بالرئتين |
|-----------------|----------------|
| _____ | _____ |
| _____ | _____ |

صنف الحيوانات التالية على حسب المجموعة:

| | | | |
|---|---|--|---|
|  |  |  |  |
| 4 | 3 | 2 | 1 |

| يغطي جسمه الحراشف | يغطي جسمه القشور |
|-------------------|------------------|
| _____ | _____ |
| _____ | _____ |




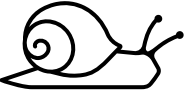






صنف الحيوانات التالية على حسب المجموعة:

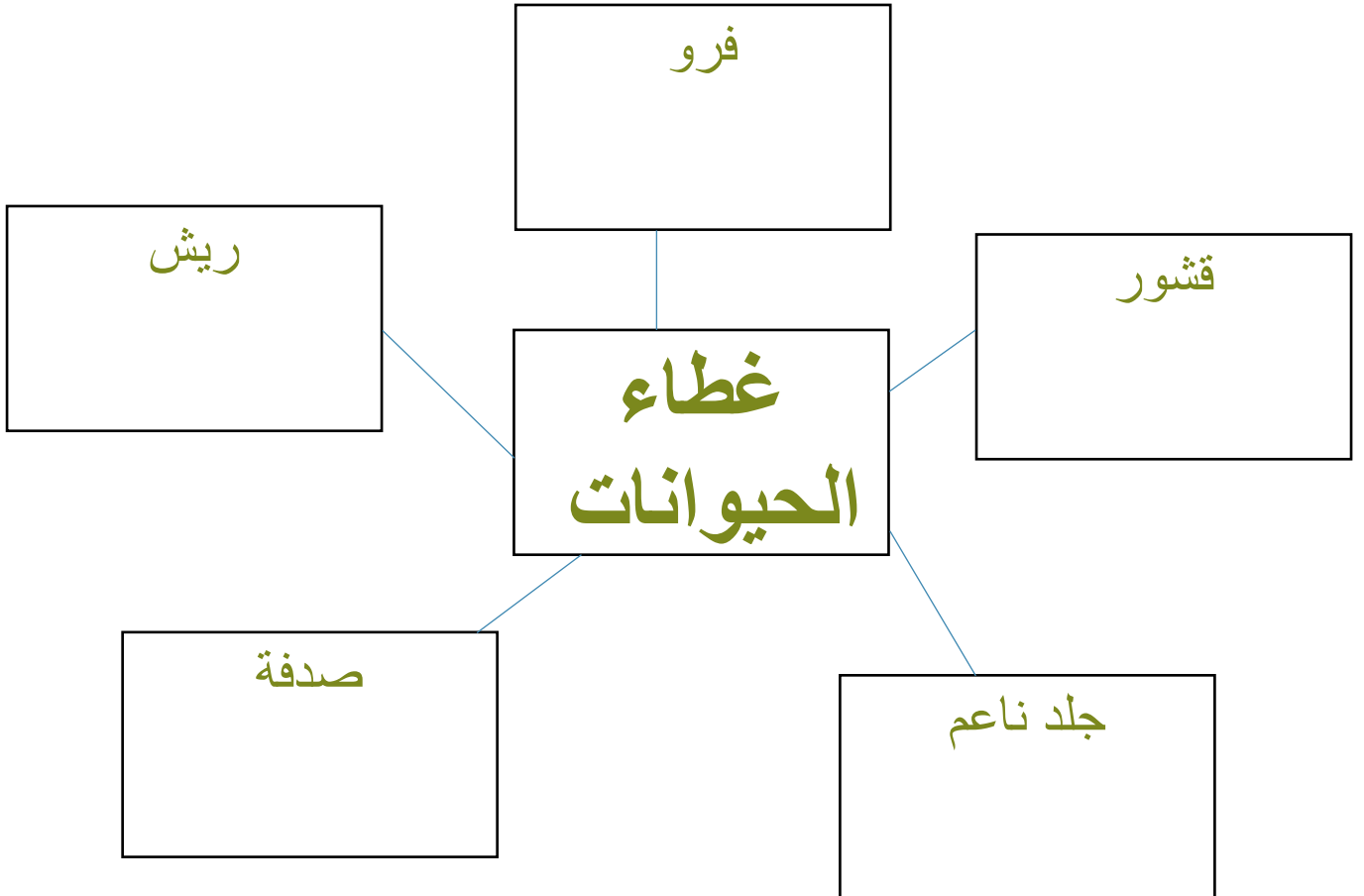
| | | |
|--|--|--|
|  3 |  2 |  1 |
|--|--|--|

| جلد أملس | جلد جاف |
|----------|---------|
| _____ | _____ |
| _____ | _____ |

صنف الحيوانات الآتية بكتابة الرقم في المكان الصحيح وفق ما يغطي

جسمها:

| | | | | |
|---|--|--|---|--|
|  5 |  4 |  3 |  2 |  1 |
|  10 |  9 |  8 |  7 |  6 |


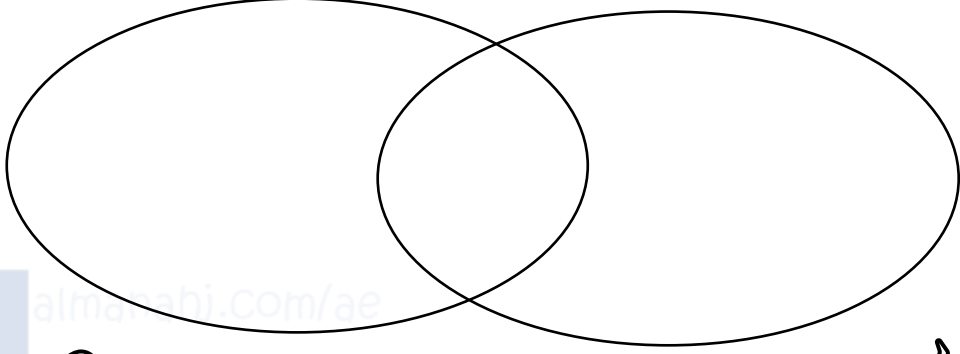


صل بخط مستقيم بين الحيوان والمجموعة التي ينتمي لها:

| | |
|---|------------|
|  | الثدييات |
|  | الطيور |
|  | الزواحف |
|  | البرمائيات |
|  | الأسماك |
|  | الحشرات |

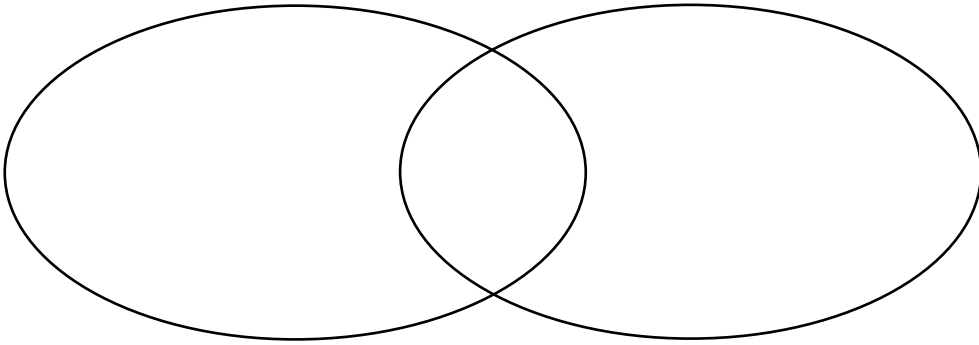
ما أوجه الشبة بين الماعز والكناري؟

لها ريش - تبيض - تلد صغارها - تتنفس بالرئتين - لها شعر




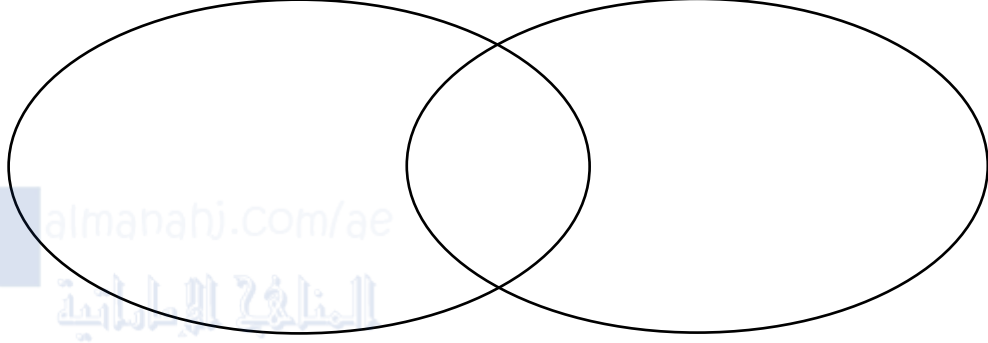
ما أوجه الشبة بين التمساح والضفدع؟

تبيض - جلد جاف - جلد أملس ورطب - 4 أرجل





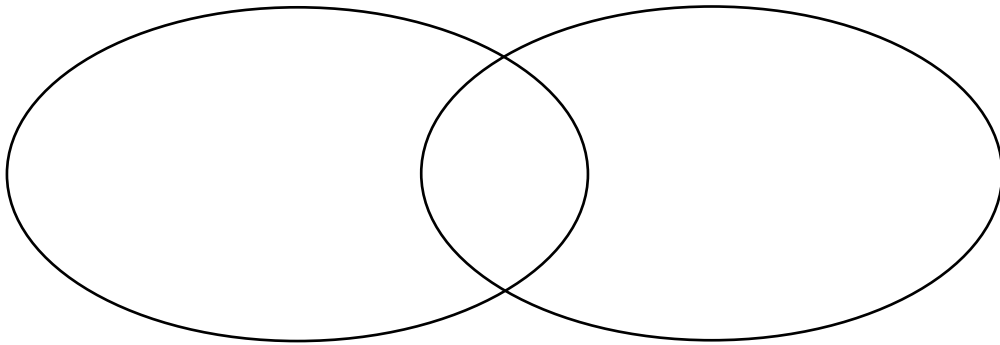
ما أوجه الشبه بين السمكة والضفدع؟

قشور - تبيض - جلد أملس ورطب - تعيش في الماء فقط - تنتقل
بين اليابسة والماء





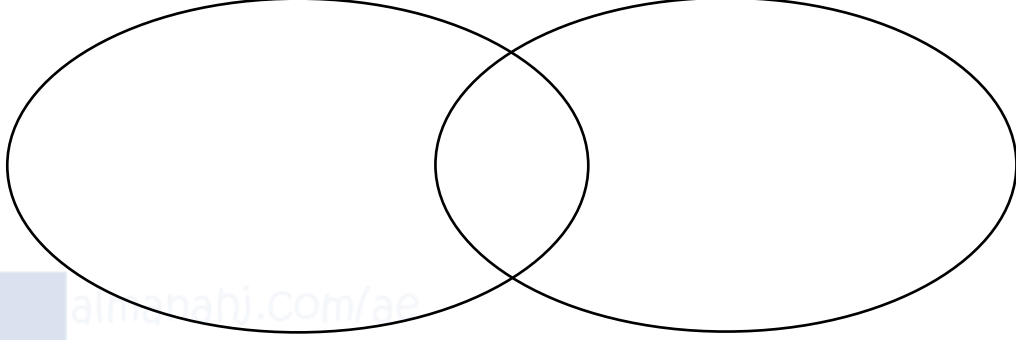
ما أوجه الشبه بين السمكة والسحفاة؟

لها قشور - تبيض - لها حراشف



ما أوجه الشبه بين السمكة والبطة؟

تبيض - تتنفس بالرئتين - لها قشور - لها ريش - تتنفس بالخياشيم



ما أوجه الشبه بين التمساح والبطة؟

تبيض - تتنفس بالرئتين - لها ريش - 2 رجلان - 4 ارجل -

لها حراشف

