

تم تحميل هذا الملف من موقع المناهج الإماراتية



almanahj.com

موقع  
المناهج الإماراتية

\*للحصول على أوراق عمل لجميع الصفوف وجميع المواد اضغط هنا

<https://almanahj.com/ae>

\* للحصول على أوراق عمل لجميع مواد الصف الأول اضغط هنا [1/ae/com.almanahj//:https](https://almanahj.com/ae/1)

\* للحصول على جميع أوراق الصف الأول في مادة اجتماعيات ولجميع الفصول, اضغط هنا [1social/ae/com.almanahj//:https](https://almanahj.com/ae/social/1)

\* للحصول على أوراق عمل لجميع مواد الصف الأول في مادة اجتماعيات الخاصة بـ الفصل الأول اضغط هنا

<https://almanahj.com/ae/1social1>

\* لتحميل كتب جميع المواد في جميع الفصول للـ الصف الأول اضغط هنا [grade1/ae/com.almanahj//:https](https://almanahj.com/ae/grade1)

\* لتحميل جميع ملفات المدرس عمر حسن اضغط هنا

للتحدث إلى بوت المناهج على تلغرام: اضغط هنا [bot\\_almanahj/me.t//:https](https://t.me/bot_almanahj)



دائرة التعليم والمعرفة  
DEPARTMENT OF EDUCATION  
AND KNOWLEDGE

مدرسة الهير للتعليم الأساسي والثانوي  
مادة الدراسات الاجتماعية والتربية الوطنية  
المعلم عمر حسن

الاسم: .....

الهدف العام : مراجعة عامة للاختبارات

| اليوم    | التاريخ    | المادة المقررة في الاختبار |
|----------|------------|----------------------------|
| الأربعاء | 29-11-2017 | الصفحات من<br>15-89        |

الصف الأول



1

- 1- تتكون من أب وأم وأخ وأخت ، هي :  
 A- السهول B- الأسرة C- الجد D- الدولة
- 2 الأسرة في دولة الإمارات العربية المتحدة أسرة :  
 A- متشاحنة B- متعاونة C- متخاصمة D- مفرقة
- 3 التعامل مع افراد أسرتي بكل :  
 A- شفقة B- احترام C- تعالي D- قسوة
- 4 أقبل راس ويد ..... كل يوم :  
 A- أبي B- امي C- العامل D- أمي وأبي
- 5 الرسم على الجدران سلوك :  
 A- صحيح B- رائع C- خطأ D- ضروري
- 6 الجلوس مع جدي وجدتي :  
 A- ممل B- صعب C- ممتع D- غير ضروري
- 7 من واجباتي ..... أخوتي الصغار :  
 A- ضرب B- مساعدة C- شتم D- القسوة
- 8 .....ابي في حمل الأغراض :  
 A- أساعد B- اترك C- أهرب من D- أرفض
- 9 انا من دولة ..... :  
 A- أبوظبي B- البحرين C- الإمارات D- السعودية
- 10 رئيس دولتي هو صاحب السمو الشيخ ..... حفظه الله :  
 A- محمد B- خليفة C- زايد D- منصور

## النشاط الثاني : صل بين الصورة والكلمة



الأم



الأب





الأخ



الجدة



الجد




العمة



العم





الأخت



الأسرة  
النواة  
الصغيرة



الأسرة  
الممتدة  
الكبيرة



اسرتي  
الكبيرة  
الإمارات






صورة تدل  
على أسرة



النشاط الرابع : ضع إشارة ( v ) على الإجابة الصحيحة وإشارة ( x ) على الإجابة الغير الصحيحة

OMAR



4



- 1- والد أُمي وأبي هو :  
 A- عمي B- أخي C- جدي D- جدتي
- 2 والدة أُمي وأبي هي :  
 A - عمي B- أخي C- جدي D- جدتي
- 3 ابن أبي وأُمي يعيش معي في البيت :  
 A - عمي B- أخي C- جدي D- جدتي
- 4 أخ « شقيق » والدي هو :  
 A - عمي B- أخي C- جدي D- جدتي
- 5 «أخ» شقيق « أُمي هو :  
 A - خالي B- أخي C- جدي D- جدتي
- 6 أخت أبي هي :  
 A عمي B- عمتي C- جدي D- جدتي
- 7 أخت أُمي هي :  
 A عمي B- أخي C- جدي D- خالتي
- 8 يسكن بجوار منزلي هو :  
 A- المهندس B- الجار C- الفنان D- المدرس
- 9 من حقوق الجار .....:  
 A- شتمه B- إزعاجه C- مساعدته D- قذف الحجارة
- 10 أسرتي الكبيرة هي :  
 A- السودان B- البحرين C- عُمان D- الإمارات
- 11 أزور صديقي كل :  
 A- سنة B- يوم C- أسبوع D- شهر
- 12 أذهب إلى المسجد كل .....:  
 A- فرض صلاة B- يوم C- أسبوع D- شهر
- 13 أسلم على جاري كل :  
 A- سنة B- يوم C- أسبوع D- شهر





والد أُمي



والدة أُمي



شقيق أُمي



شقيقة أُمي



أُمي



أختي



عساكم من عواده



مبارك النجاح



مبارك المولود



الحمد لله على السلامة




حج مبرور

























- 1- يتكون الحي من منزل و :  
 A- طاولة B- مدرسة C- شجرة D- كرة
- 2 نحن نسكن في قرية:  
 A - الختم B- الهير C- الشويب D- الفقع
- 3 تسكن في الحي عائلات :  
 A - صغيرة B- كبيرة
- 4 نحن نسكن في إمارة :  
 A - دبي B- الشارقة C- ابوظبي D- عجمان
- 5 يتكون المنزل من غرفة  
 A - نوم B- قصر C- سور D- حي
- 6 حث الإسلام على ..... بالوالدين والاقارب:  
 A البر B- العقوق C- الجحود D- المقاطعة
- 7 في كل حي تكثر..... في دولة الإمارات :  
 A المقاهي B- المول C- المساجد D- الحدائق
- 8 تشرق الشمس من :  
 A- الغرب B- الشرق C- الشمال D- الجنوب
- 9 جهة الشمال عكس .....:  
 A - الغرب B- الشرق C- الشمال D- الجنوب
- 10 جهة الشرق عكس جهة:  
 A - الغرب B- الشرق C- الشمال D- الجنوب
- 11 تغرب الشمس من جهة :  
 A- الغرب B- الشرق C- الشمال D- الجنوب
- 12 من الفئات التي تحتاج إلى استخدام الجهات  
 A- الشرطي B- الممرض C- التاجر D- النجار
- 13 قام اتحاد الإمارات في .....ديسمبر 1971:  
 A- 2 B- 3 C- 4 D- 5

النشاط الحادي عشر: صل بين الكلمة والصورة



مسجد



مدرسة




سوق



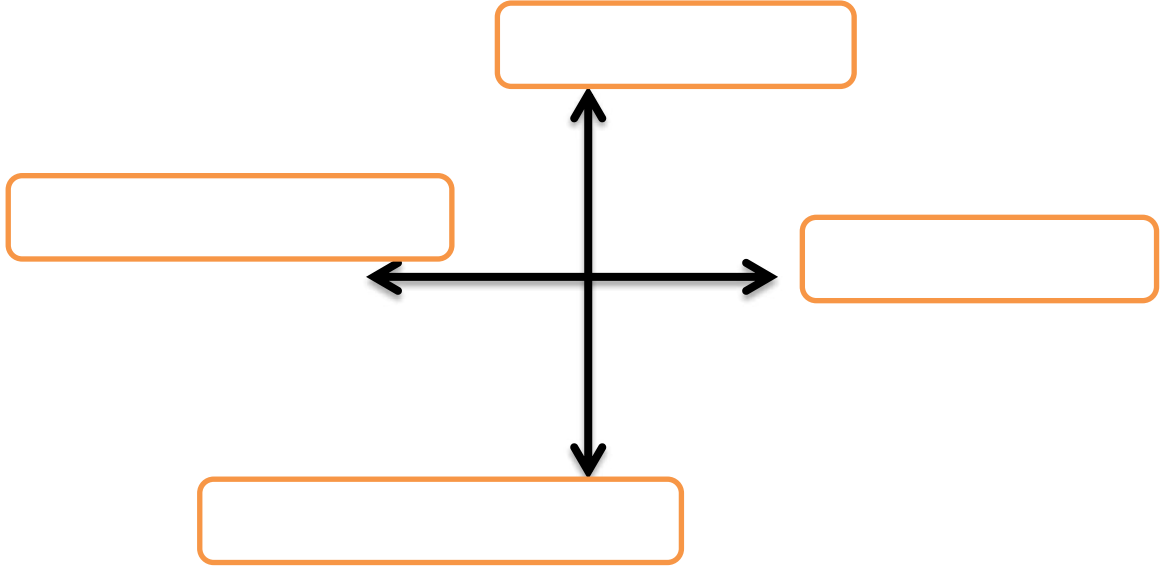
حديقة



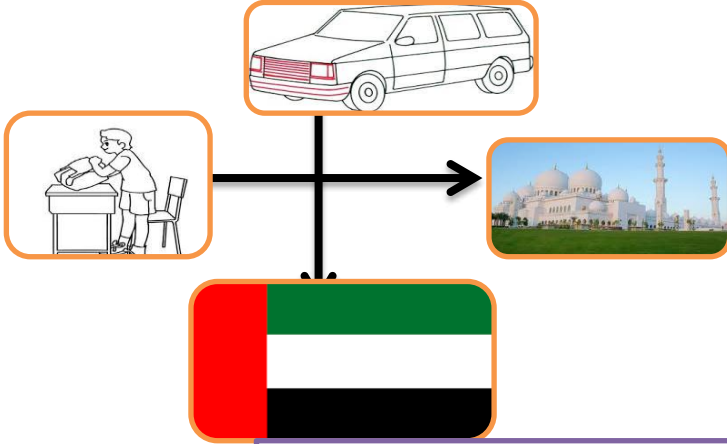
ملعب



منزل



النشاط الثالث عشر: استكمل كتابة الحروف في الكلمات الآتية



- 1- تقع السيارة في جهة الشمال
- 2- تقع المدرسة في جهة الغرب
- 3- يقع العلم في جهة الجنوب
- 4- يقع المسجد في جهة الشرق

OMAR

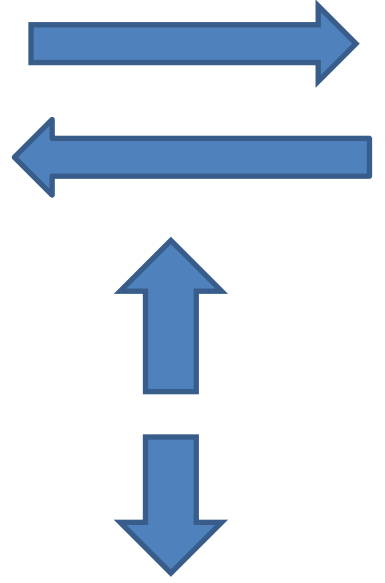
النشاط الرابع عشر: صل بخط بين الاسهم والجهة المناسبة

الجنوب


الشمال

الشرق

الغرب



النشاط الخامس عشر: حدد الجهات على رسم الولد



النشاط السادس عشر: حدد جهة الشرق والغرب على الصورة





- 1- تتكون دولة الإمارات من ..... إمارات :  
 A- سبع 7      B- ثمان 8      C- تسع 9      D- ست 6
- 2 العين عبارة عن :  
 A - قرية      B- دولة      C- مدينة      D- إمارة
- 3 الشيخ خليفة حاكم إمارة :  
 A دبي      B- الشارقة      C- ابوظبي      D- عجمان
- 4 أكبر إمارة هي :  
 A - دبي      B- الشارقة      C- ابوظبي      D- عجمان
- 5 الشيخ محمد بن راشد حاكم إمارة  
 A - دبي      B- الشارقة      C- ابوظبي      D- عجمان
- 6 رئيس الدولة هو الشيخ :  
 A خليفة      B- حمد      C- سلطان      D- محمد
- 7 نائب رئيس الدولة هم الشيخ :  
 A خليفة      B- حمد      C- سلطان      D- محمد
- 8 باني الاتحاد هو الشيخ ..... رحمه الله :  
 A- خليفة      B- زايد      C- سلطان      D- محمد
- 9 الخطوة الأولى في الاتحاد ..... :  
 A- دبي الأول      B- السديرة      C- دبي الثاني      D- قيام الدولة
- 10 الخطوة الثانية في الاتحاد ..... :  
 A - دبي الأول      B- السديرة      C- دبي الثاني      D- قيام الدولة
- 11 الخطوة الثالثة في الاتحاد ..... :  
 A - دبي الأول      B- السديرة      C- دبي الثاني      D- قيام الدولة
- 12 الخطوة الرابعة في الاتحاد ..... :  
 A دبي الأول      B- السديرة      C- دبي الثاني      D- قيام الدولة
- 13 والد ووالدة الشيخ زايد هما :  
 A- سلطان وسلامة      B- خليفة وسلامة      C- محمد وفاطمة



محمد  
بن  
راشد



خليفة



زايد



السديرة



دبي  
الثاني



دبي  
الأول



مؤسس  
الاتحاد



قيام  
الدولة





علم  
الإمارات



علم  
الإمارات



نائب  
رئيس  
الدولة  
السابق



رئيس  
الدولة  
السابق



الشورى



القيادة

النشاط العشرون : لون علم الإمارات

|  |  |
|--|--|
|  |  |
|  |  |
|  |  |



مستشفى



تعليم



رياضة



جواز السفر



الهوية



النقود والعملة






- 1- طالب من دولة الإمارات تكون جنسيته :  
 A- إمارتي B- سوداني C- مصري D- سعودي
- 2 من المستندات التي تدل على الجنسية :  
 A - الجواز B- الهوية C- الجواز والهوية
- 3 يكتب الاسم في جواز سفر وهوية الإمارات باللغة العربية واللغة :  
 A الألمانية B- الفرنسية C- الانجليزية D- الروسية
- 4 عند السفر نستخدم:  
 A - الجواز B- الهوية C- الملكية D- شهادة الميلاد
- 5 عند مراجعة المدرسة من أجل التسجيل نستخدم  
 A الجواز B- الهوية C- الملكية D- شهادة الميلاد
- 6 عند مراجعة الدوائر الحكومية نستخدم :  
 A الجواز B- الهوية C- الملكية D- شهادة الميلاد
- 7 عند مقابلة شرطي المرور نستخدم :  
 A الجواز B- الهوية C- الملكية D- شهادة الميلاد
- 8 تصدر الهوية من :  
 A- البنك B- الجوزات C- هيئة الهوية D- المرور
- 9 يصدر جواز السفر من :  
 A- البنك B- الجوزات C- هيئة الهوية D- المرور
- 10 توجد النقود في :  
 A- البنك B- الجوزات C- هيئة الهوية D- المرور
- 11 هناك عملة ورقية و..... :  
 A - حديد B- نحاس C- معدنية D- بلاستيك
- 12 ايهما أكبر 1000 دهم أو 500 درهم.....  
 A - 1000 B 500 C:100



OMAR

النشاط الرابع والعشرون : ضع دائرة على نوع العمل التي أحتاجها لشراء



النشاط الخامس والعشرون : اكتب قيمة العمل الآتية



تم بحمد الله



20