

تم تحميل هذا الملف من موقع المناهج الإماراتية



أسئلة اختبار التقويم الأول

موقع المناهج ← المناهج الإماراتية ← الصف الأول ← رياضيات ← الفصل الأول ← ملفات متنوعة ← الملف

تاريخ إضافة الملف على موقع المناهج: 2024-10-02 20:44:05

ملفات اكتب للمعلم اكتب للطالب الاختبارات الكترونية الاختبارات ا حلول اعروض بوربوينت ا أوراق عمل
منهج انجليزي ا ملخصات وتقارير ا مذكرات وبنوك الامتحان النهائي للمدرس

المزيد من مادة
رياضيات:

إعداد: سنية مصطفى توفيق

التواصل الاجتماعي بحسب الصف الأول



صفحة المناهج
الإماراتية على
فيسبوك

الرياضيات

اللغة الانجليزية

اللغة العربية

التربية الاسلامية

المواد على تلغرام

المزيد من الملفات بحسب الصف الأول والمادة رياضيات في الفصل الأول

أسئلة اختبار تجريبي

1

عرض بوربوينت أسئلة الاختبار التشخيصي

2

حل كتاب الطالب Book Resource Assessment منهج ريفيل

3

مذكرة الوحدة الثانية مفاهيم الطرح

4

كتاب دليل المعلم المجلد الأول

5



اجب عن الأسئلة التالية ❖

1- ما عدد النحل ؟



a) 6

b) 8

c) 4

d) 9

2 - حوِّط العدد الموضح في النموذج أدناه.



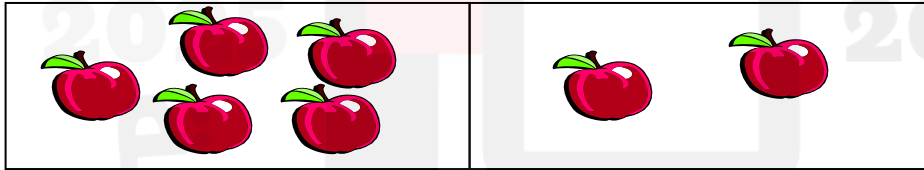
a) 11

b) 15

c) 16

d) 17

3 - حوِّط الجملة العددية المناسبة.

a) $2 + 2 = 5$ b) $5 + 2 = 7$ c) $2 + 2 = 4$ d) $3 + 3 = 6$ 4 - اكتب ناتج الجمع . $5 + 4 = \text{-----}$

a) 10

b) 8

c) 7

d) 9

5 - حوِّط العبارة التي تطابق العدد 14 .

a) اثنا عشر

b) أربعة عشر


c) ثلاثة عشر

d) خمسة عشر

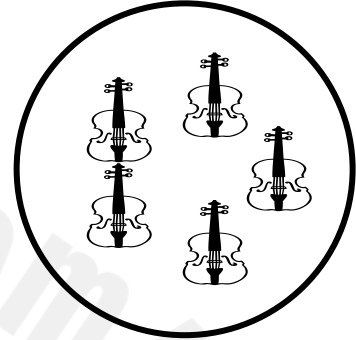
أكمل سلاسل الأعداد التالية .

0		2				6			9
---	--	---	--	--	--	---	--	--	---


عد و اكتب العدد .










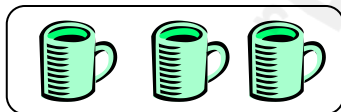




صل المجموعة بالرمز المناسب .



3



5



4