

تم تحميل هذا الملف من موقع المناهج الإماراتية



الملف أوراق عمل متنوعة على الأعداد

[موقع المناهج](#) ⇨ [المناهج الإماراتية](#) ⇨ [الصف الأول](#) ⇨ [رياضيات](#) ⇨ [الفصل الأول](#)

روابط مواقع التواصل الاجتماعي بحسب الصف الأول



روابط مواد الصف الأول على تلغرام

[الرياضيات](#)

[اللغة الانجليزية](#)

[اللغة العربية](#)

[التربية الاسلامية](#)

المزيد من الملفات بحسب الصف الأول والمادة رياضيات في الفصل الأول

أوراق عمل حول الأعداد	1
أوراق عمل حول الأعداد ومقارنتها والجمع وجاهزة للطباعة	2
مذكرة مراجعة 38 صفحة لامتحان نهاية الفصل الأول	3
أسئلة الامتحان الوزاري لامتحان نهاية الفصل الأول من	4
أسئلة الامتحان الوزاري لنهاية	5


كٲٲٲب اللوا؁بٲاٲ



..... اِسْمِي


من الصفه الأول /

كٲٲٲب اللوا؁بٲاٲ



..... اِسْمِي

من الصفه الأول /

أكتب الأعداد بخط جميل. 


5 4 3 2 1

amanah.com/ae

المنهج الإماراتي

2


تدريب على كتابة الأعداد من 1 إلى 5.

أكتب الأعداد بخط جميل. 

5 4 3 2 1

2


تدريب على كتابة الأعداد من 1 إلى 5.

أكتب الأعداد بخط جميل. 


10 9 8 7 6

amanah.com/ae

المنهج الإماراتي


أكتب الأعداد بخط جميل. 

10 9 8 7 6


أكتب الأعداد بخط جميل. 

15 14 13 12 11

amanah.com/ae
المنهج الإماراتي

أكتب الأعداد بخط جميل. 


15 14 13 12 11

أكتب الأعداد بخط جميل. 

20 19 18 17 16

amanah.com/ae

المنهج الإماراتي

أكتب الأعداد بخط جميل. 

20 19 18 17 16

أكتب الأعداد بخط جميل. ✍

1




2

3

أعد الأشياء و أكتب العدد. 🐟

 _____	 _____	 _____	 _____
---	--	--	--

ألون الأشياء حسب العدد المطلوب. 🐚

 2	 1	 3
--	---	---

6

الوحدة A - 1 و 2) أقرأ و أكتب 1 و 2 و 3.





أكتب الأعداد بخط جميل. ✍

1




2

3

أعد الأشياء و أكتب العدد. 🐟

 _____	 _____	 _____	 _____
--	--	--	--

ألون الأشياء حسب العدد المطلوب. 🐚

 2	 1	 3
---	---	---

6

الوحدة A - 1 و 2) أقرأ و أكتب 1 و 2 و 3.

أكتب الأعداد بخط جميل. ✍️

4

5

أعد الأشياء و أكتب العدد. 🐟



أكتب الأعداد بخط جميل. ✍️


4

5

أعد الأشياء و أكتب العدد. 🐟



ألون الأشياء حسب العدد المطلوب. 🐚




5



4

ألون الأشياء حسب العدد المطلوب. 🐚



5

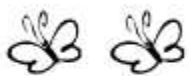


4

أكتب الأعداد بخط جميل. ✍️

0

أعد الفراشات و أكتب العدد. 🦋



ألون الزهور حسب العدد المطلوب. 🌸



3

1

2

0




8

الوحدة A - 5) قراءة الصفر و كتابته .

أكتب الأعداد بخط جميل. ✍️

0

أعد الفراشات و أكتب العدد. 🦋



ألون الزهور حسب العدد المطلوب. 🌸



3

1

2




0



8


الوحدة A - 5) قراءة الصفر و كتابته .





أوصل المجموعات المتماثلة في العدد. 



9

الوحدة A - 6) يساوي.

أوصل المجموعات المتماثلة في العدد. 



9


الوحدة A - 6) يساوي.

أكتب العدد ثم أضع دائرة حول العدد الأكبر. ✎



4


3



almanabi.com/ae

المكتب الإماراتية





أكتب العدد ثم أضع دائرة حول العدد الأكبر. ✎





4


3



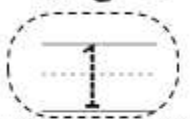




أكتب العدد ثم أضع دائرة حول العدد الأصغر.



2













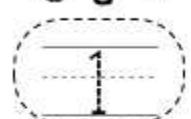
||

الوحدة A - 8) أقل من.

أكتب العدد ثم أضع دائرة حول العدد الأصغر.



2












||

الوحدة A - 8) أقل من.


أكتب العدد ثم أضع دائرة حول العدد الأكبر. 



5

4




أكتب العدد ثم أضع دائرة حول العدد الأكبر. 



5


4



أكتب العدد ثم أضع دائرة حول العدد الأصغر. 






أكتب العدد ثم أضع دائرة حول العدد الأصغر. 







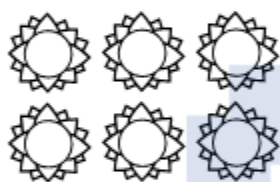
أكتب الأعداد بخط جميل. 


6

7

8

أعد الأشياء و أكتب العدد. 





أكتب الأعداد بخط جميل. 

6

7

8

أعد الأشياء و أكتب العدد. 





أكتب الأعداد بخط جميل. ✍️

9

10


أعد الأشياء و أكتب العدد. 🐟



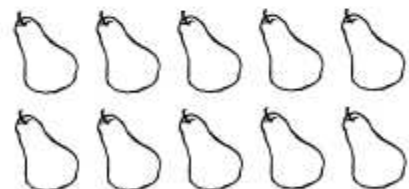
almanhaj.com/ae

المنهج الإماراتية

ألون الأشياء حسب العدد المطلوب. 🍓



10





9

أكتب الأعداد بخط جميل. ✍️


9

10

أعد الأشياء و أكتب العدد. 🐟



ألون الأشياء حسب العدد المطلوب. 🍓




10



9

أعد الحيوانات و أكتب العدد. 🐟




ألونه بالأصفر. _____ = 

ألونه بالبرتقالي. _____ = 

ألونه بالبني. _____ = 

أعد الحيوانات و أكتب العدد. 🐟




ألونه بالأصفر. _____ = 

ألونه بالبرتقالي. _____ = 

ألونه بالبني. _____ = 

أكتب العدد ثم أضع دائرة حول العدد الأكبر. ✍️




9

6




أكتب العدد ثم أضع دائرة حول العدد الأصغر. ✍️





أكتب العدد ثم أضع دائرة حول العدد الأكبر. ✍️




9


6





أكتب العدد ثم أضع دائرة حول العدد الأصغر. ✍️









أكتب العدد ثم أضع دائرة حول العدد الأكبر من 3 بواحد. 




أكتب العدد ثم أضع دائرة حول العدد الأكبر من 5 بواحد. 





أكتب العدد ثم أضع دائرة حول العدد الأكبر من 8 بواحد. 






أكتب العدد ثم أضع دائرة حول العدد الأكبر من 3 بواحد. 



أكتب العدد ثم أضع دائرة حول العدد الأكبر من 5 بواحد. 



أكتب العدد ثم أضع دائرة حول العدد الأكبر من 8 بواحد. 



ضعي دائرة على الحقيبة الأولى ناحية السبورة . لوني
الحقيبة الرابعة بالوردي.



ضعي دائرة على العلبة الخامسة ناحية الكتاب. لوني
العلبة الثامنة بالأصفر و العلبة الثالثة بالأحمر.



ضعي دائرة على القلم الثاني ناحية الدفتر . لوني
القلم السابع بالبنّي و القلم التاسع بالأخضر.



ضعي دائرة على الفرشاة الأولى ناحية الألوان. لوني
الفرشاة السادسة بالبرتقالي و الفرشاة العاشرة بالأزرق.



ضعي دائرة على الحقيبة الأولى ناحية السبورة . لوني
الحقيبة الرابعة بالوردي.



ضعي دائرة على العلبة الخامسة ناحية الكتاب. لوني
العلبة الثامنة بالأصفر و العلبة الثالثة بالأحمر.



ضعي دائرة على القلم الثاني ناحية الدفتر . لوني
القلم السابع بالبنّي و القلم التاسع بالأخضر.

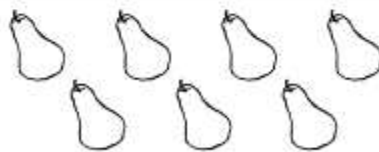
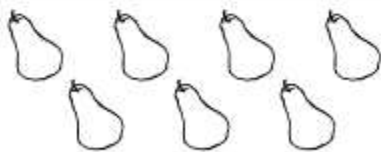
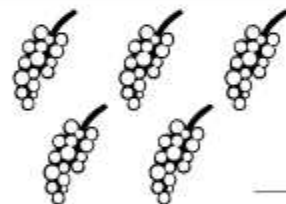


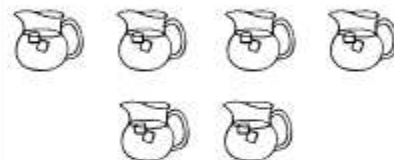
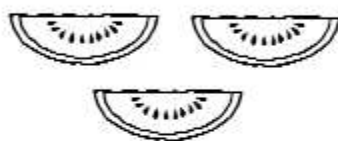
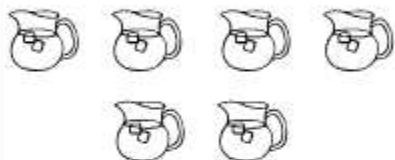
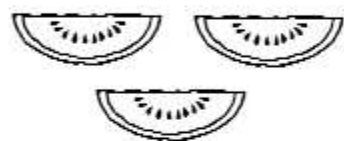





ضعي دائرة على الفرشاة الأولى ناحية الألوان. لوني
الفرشاة السادسة بالبرتقالي و الفرشاة العاشرة بالأزرق.


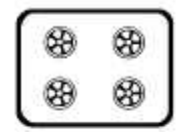



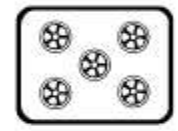
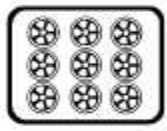


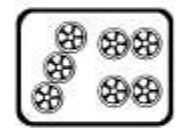
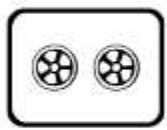


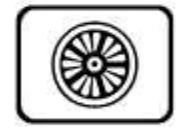
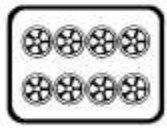


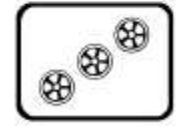
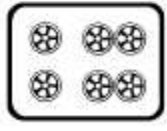



أعد الأشياء و أكتب العدد. 🐟


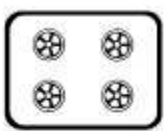



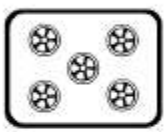
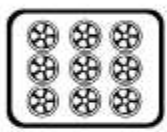







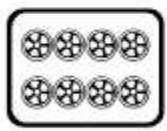


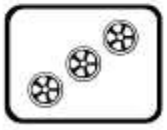
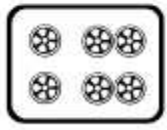

أعد الأشياء و أكتب العدد. 🐟





أصل العدد بما يمثله .

أصل العدد بما يمثله .




أكمل الأعداد الناقصة على القطار. 🖍️



21

الوحدة B - مراجعة الأعداد.

أكمل الأعداد الناقصة على القطار. 🖍️



21

الوحدة B - مراجعة الأعداد.

أكتب الأعداد بخط جميل. ✍️

11

12

أعد الأشياء و أكتب العدد. 🐟



أكتب الأعداد بخط جميل. ✍️



11

12

أعد الأشياء و أكتب العدد. 🐟





ألون الأشياء حسب العدد المطلوب. 🍷



12

11

ألون الأشياء حسب العدد المطلوب. 🍷



12

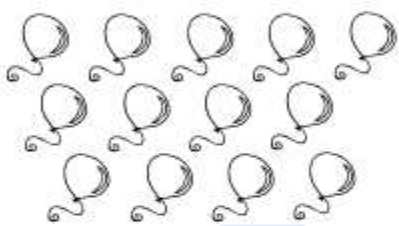
11

أكتب الأعداد بخط جميل. ✍️

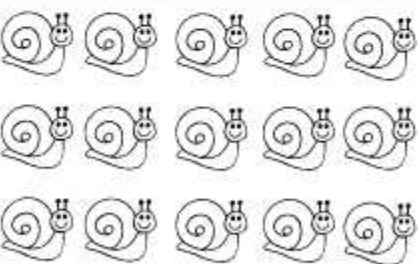
3

4

أعد الأشياء و أكتب العدد. 🐟



ألون الأشياء حسب العدد المطلوب. 🐚



14


13

أكتب الأعداد بخط جميل. ✍️

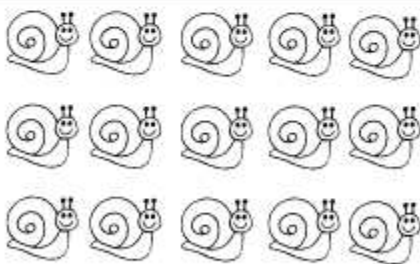
3

4

أعد الأشياء و أكتب العدد. 🐟



ألون الأشياء حسب العدد المطلوب. 🐚





14

13

أكتب الأعداد بخط جميل. ✍️

15



أعد الأشياء و أكتب العدد. 🐟




أكتب الأعداد بخط جميل. ✍️

15


أعد الأشياء و أكتب العدد. 🐟



ألون الأشياء حسب العدد المطلوب. 🐚




10




15

ألون الأشياء حسب العدد المطلوب. 🐚



10




15

أكتب الأعداد بخط جميل. ✍️

16

17

أعد الأشياء و أكتب العدد. 🐟



almanahj.com/ae

المنهج الإماراتية





أكتب الأعداد بخط جميل. ✍️

16

17

أعد الأشياء و أكتب العدد. 🐟

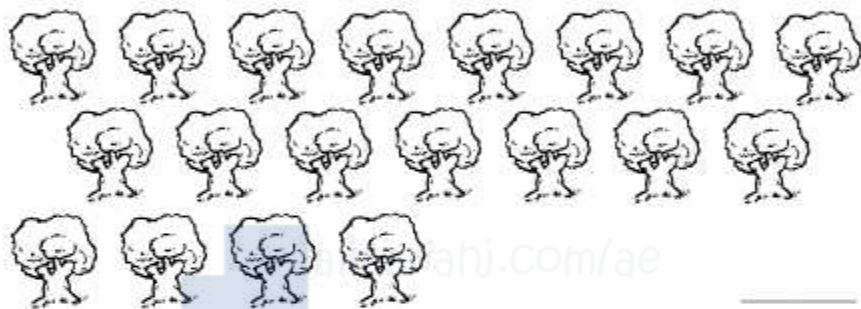


أكتب الأعداد بخط جميل. ✍️


8

9

أعد الأشياء و أكتب العدد. 🐟



المنهج الإماراتية


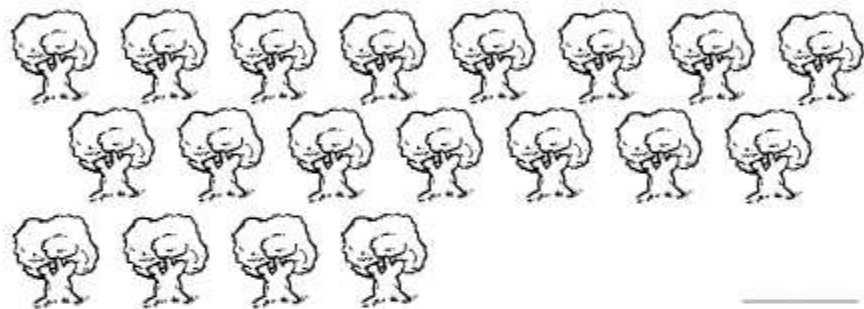


أكتب الأعداد بخط جميل. ✍️

8

9


أعد الأشياء و أكتب العدد. 🐟



أكتب الأعداد بخط جميل

20

أعد الأشياء و أكتب العدد



أكمل الأعداد الناقصة على القطار




27

الوحدة C-6 العدد 20.

أكتب الأعداد بخط جميل

20

أعد الأشياء و أكتب العدد






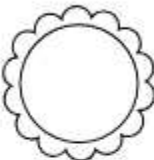


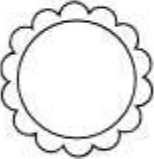








أكمل الأعداد الناقصة على القطار





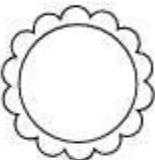
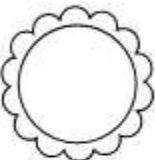
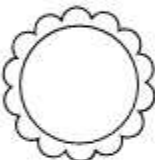

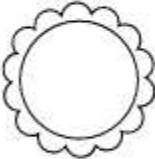
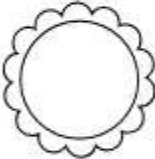
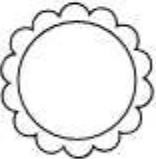

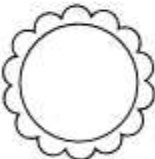




27


الوحدة C-6 العدد 20.

أكمل كتابة الأعداد الناقصة. 


	12	11	10	9
	20		18	17
27			24	23
		32		30
	40			37
	49		47	

أكمل كتابة الأعداد الناقصة. 

	12	11	10	9
	20		18	17
27			24	23
		32		30
	40			37
	49		47	

أكمل كتابة الأعداد الناقصة. 

36		34		32
52		50		48
	66			63
80		78		76
91		89		87
		98	97	

أكمل كتابة الأعداد الناقصة. 

36		34		32
52		50		48
	66			63
80		78		76
91		89		87
		98	97	