

تم تحميل هذا الملف من موقع المناهج الإماراتية



## أسئلة مراجعة التقويم الثاني

موقع المناهج ← المناهج الإماراتية ← الصف الأول ← رياضيات ← الفصل الثاني ← ملفات متنوعة ← الملف

تاريخ إضافة الملف على موقع المناهج: 2025-02-20 15:31:48

ملفات اكتب للمعلم اكتب للطالب الاختبارات الكترونية | اختبارات | حلول | عروض بوربوينت | أوراق عمل  
منهج انجليزي | ملخصات وتقارير | مذكرات وبنوك | الامتحان النهائي للمدرس

المزيد من مادة  
رياضيات:

## التواصل الاجتماعي بحسب الصف الأول



صفحة المناهج  
الإماراتية على  
فيسبوك

الرياضيات

اللغة الانجليزية

اللغة العربية

التربية الاسلامية

المواد على تلغرام

## المزيد من الملفات بحسب الصف الأول والمادة رياضيات في الفصل الثاني

أوراق عمل شاملة الوحدة الخامسة القيمة المكانية

1

نموذج تدريبي للاختبار النهائي

2

مذكرة الوحدة الرابعة استراتيجيات الطرح حتى العدد 20

3

عرض بوربوينت وحدة جمع الأعداد المكونة من رقمين وطرحها

4

عرض بوربوينت حل درس الأعداد من 11 إلى 19

5

## مراجعة صف أول الفصل الثاني (التقويم الثاني)

قارن بين الاعداد باستخدام الرموز < او > او =

$25 \bigcirc 21$

$27 \bigcirc 27$

$22 \bigcirc 20$

$26 \bigcirc 20$

$45 \bigcirc 44$

$14 \bigcirc 41$







$50 \bigcirc 40$

$42 \bigcirc 42$



23	$\bigcirc$	27	10	$\bigcirc$	100
53	$\bigcirc$	53	46	$\bigcirc$	36
89	$\bigcirc$	99	75	$\bigcirc$	76
67	$\bigcirc$	76	61	$\bigcirc$	59
15	$\bigcirc$	26	55	$\bigcirc$	47
25	$\bigcirc$	52	18	$\bigcirc$	21

## كم عدد العشرات الموضحة:

 _____ عشرات = _____	 _____ عشرات = _____
 _____ عشرات = _____	 _____ عشرات = _____
 _____ عشرات = _____	 _____ عشرات = _____

### اختر الإجابة الصحيحة :

1- لدى محمد مجموعة من القصص. فليده مجموعة من 10 و 8 إضافية. فما العدد الذي يوضح عدد القصص

- 8
- 10
- 18

2- لدى ليان مجموعة من الألعاب. لديها مجموعة من 10 ألعاب، ثم حصلت على 6 ألعاب إضافية. ما العدد الذي يمثل إجمالي الألعاب التي تمتلكها؟

- 15
- 16
- 17

3- مع خالد مجموعة من أقلام التلوين. لديه علبة تحتوي على 10 أقلام، واشترى 5 أقلام إضافية. ما عدد الأقلام التي يملكها الآن؟

- 10
- 15
- 5

4- كان لدى أحمد مجموعة من الكرات. لديه مجموعة من 10 كرات، ثم وجد 7 كرات أخرى في الحديقة. كم عدد الكرات التي لديه الآن؟

- 10
- 7
- 17

5- تفكر شيماء في عدد فيه 8 عشرات و 3 احاد. فما هو العدد؟


- 83
- 80
- 38

6- يفكر أحمد في عدد فيه 5 عشرات و 8 احاد. فما هو العدد؟

- 50
- 58
- 85

7- تفكر علياء في عدد فيه 1 عشرات و 6 احاد. فما هو العدد؟

- 16
- 61
- 60



8- عد الفلسات بالخمسات. فكم مقدارها اجمالاً؟

- 30
- 25
- 50



9- عد الفلسات بالخمسات. فكم مقدارها اجمالاً؟

- 30
- 15
- 20

10- مع مائة 4 مجموعات من الاساور تتكون كل مجموعة من 10 اساور. فما عدد الاساور مع مائة؟

- 14
- 10
- 40

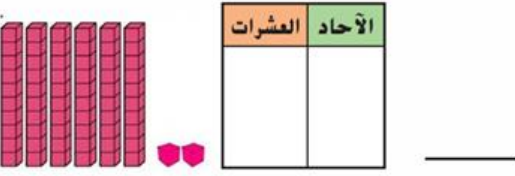
11- في أحد المقاهي، يوجد 5 صناديق من عبوات العصير، ويحتوي كل صندوق على 10 عبوات. كم عدد العبوات الموجودة في المقهى؟

- 50
- 10
- 15

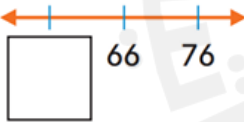
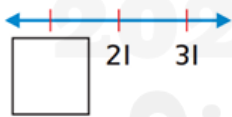
12- في قاعة المسرح، هناك 6 صفوف من الكراسي، يحتوي كل صف على 10 كراسٍ. كم عدد الكراسي في القاعة؟

- 16
- 60
- 6

اكتب العشرات و الاحاد ثم اكتب العدد



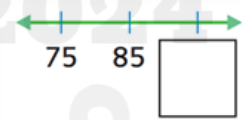
اكتب العدد الأقل بمقدار 10.



\_\_\_\_\_, 68

\_\_\_\_\_, 47


اكتب العدد الأكبر بمقدار 10.



14, \_\_\_\_\_

72, \_\_\_\_\_

حوظ 10 و اكتب العناصر الاضافية ثم اكتب العدد



10 و \_\_\_\_\_ إضافية \_\_\_\_\_



10 و \_\_\_\_\_ إضافية \_\_\_\_\_



10 و \_\_\_\_\_ إضافية \_\_\_\_\_  
ثمانية عشر



10 و \_\_\_\_\_ إضافية \_\_\_\_\_  
اربعة عشر