

شكراً لتحميلك هذا الملف من موقع المناهج الإماراتية



مذكرة الوحدة الثامنة القياس والوقت

[موقع المناهج](#) ← [المناهج الإماراتية](#) ← [الصف الأول](#) ← [رياضيات](#) ← [الفصل الثالث](#) ← [الملف](#)

تاريخ إضافة الملف على موقع المناهج: 2024-04-27 14:33:01

إعداد: نهلة المزروعى

التواصل الاجتماعي بحسب الصف الأول



اضغط هنا للحصول على جميع روابط "الصف الأول"

روابط مواد الصف الأول على تلغرام

[الرياضيات](#)

[اللغة الانجليزية](#)

[اللغة العربية](#)

[التربية الاسلامية](#)

المزيد من الملفات بحسب الصف الأول والمادة رياضيات في الفصل الثالث

[يوربوينت حل درس التمثيلات البيانية بالأعمدة](#)

1

[مذكرة الوحدة السابعة تنظيم التمثيلات البيانية واستخدامها](#)

2

[التوزيع الزمني للخطة الفصلية للمقرر](#)

3

[أسئلة الامتحان النهائي](#)

4

المزيد من الملفات بحسب الصف الأول والمادة رياضيات في الفصل الثالث

[أسئلة اختبار التقويم الختامي](#)

5



الوحدة 8 القياس والوقت



مؤسسة الإمارات
للتعليم المدرسي
EMIRATES SCHOOLS
ESTABLISHMENT

الأسم _____
الصف الأول أساسي
الشعبة _____

إعداد المعلمة: نهلة المزروعي




مُقارَنَةُ الأَطْوَالِ

الدرس 1

قارِنُ بَيْنَ الأَجْسامِ، وَحَوِّطِ الإِجابَةَ الصَّحِيحَةَ.

2. قِطْعَةُ الحَلْوَى أَقْصَرُ مِنَ الشُّطِيرَةِ، وَالشُّطِيرَةُ أَقْصَرُ مِنَ الكَرَفِيسِ.



هَلِ الكَرَفِيسُ أَطْوَلُ مِنَ قِطْعَةِ الحَلْوَى أَمْ أَقْصَرُ مِنْهَا؟
أَطْوَلُ مِنَ أَقْصَرُ مِنَ

1. الحَلْوَى المُتَلَجَّةُ أَقْصَرُ مِنْ قندولِ الذُّرَّةِ، وَقِطْعَةُ البَسْكويتِ أَقْصَرُ مِنَ الحَلْوَى المُتَلَجَّةِ.



هَلْ قِطْعَةُ البَسْكويتِ أَطْوَلُ مِنَ قندولِ الذُّرَّةِ أَمْ أَقْصَرُ مِنْهُ؟
أَطْوَلُ مِنَ أَقْصَرُ مِنَ



مُقارَنَةُ الأَطْوَالِ وَتَرْتِيبُهَا

الدرس 2

إِبْرَاهِيمُ لَدَيْهِ ثَلَاثَةُ أَجْسَامٍ، فَكَيْفَ يُمَكِّنُهُ تَرْتِيبُهَا مِنْ الأَقْصَرِ إِلَى الأَطْوَلِ؟



أَيُّهُمَا أَقْصَرُ؟



كَيْفَ يُمَكِّنُهَا تَرْتِيبُهَا مِنْ الأَطْوَلِ إِلَى الأَقْصَرِ؟



أَيُّهُمَا أَطْوَلُ؟



قارن، وحوّط الجسم الأطول



رتب الأشياء تبعًا للطول. اكتب 1 للجسم القصير،
و 2 للأقصر، و 3 للأقصر على الإطلاق.



قارن، وحوّط الجسم الأقصر.



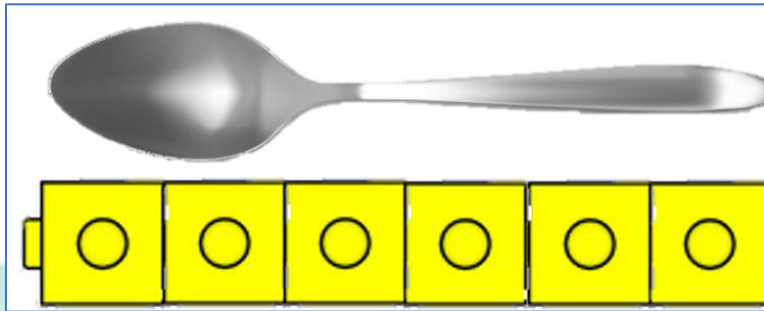

رتب الأشياء تبعًا للطول، و اكتب 1 للجسم القصير،
و 2 للأقصر، و 3 للأقصر على الإطلاق.



وحدات الطول غير القياسية

الدرس 3


استخدم الوحدات الغير قياسية لإيجاد طول الأشياء التالية:



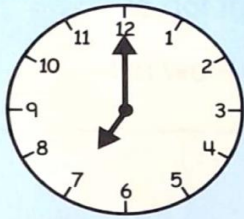
الوقتُ بالسَّاعة: السَّاعةُ التَّنَاطُريَّةُ

الدرس 5


اكتب الوقت الموضح في الساعة التناظرية




___ : 00




___ : 00




___ : 00



8 : 00




___ : 00




___ : 00




___ : 00




___ : 00




___ : 00



:



:




:

صل الوقت الصحيح بالساعة التناظرية المناسبة



Telling Time

Draw a line to match.



3:00




5:00



9:00



1:00



11:00



4:00



6:00



12:00

© Evan-Moor Corporation

3


Telling Time • LL 6934

ارسم عقرب الساعات الموضح في الساعة التناظرية


Telling Time

to the hour


Write in the hour hand on each clock




6:00




11:00




5:00




3:00




4:00




1:00



12:00



2:00



9:00










PaperTrailDesign.com

إعداد المعلمة: نهلة المزروعى

الوقت بالساعة: الساعة الرقمية

الدرس 6

What time is it?
Look at the clocks below. Draw the second clock hand to display the time shown at the bottom of each clock.

 1:00	 7:00	 10:00
 6:00	 9:00	 8:00
 2:00	 4:00	 11:00







Kiboomu Preschool Education

ارسم
عقرب
الساعات
للموقت
الموضح في
الساعة
التناظرية

SUPERSTAR WORKSHEETS

Telling Time to the Hour

Write the time in the box below the clock.

 :	 :
 :	 :
 :	 :

Project 101 © 2010 by Mrs. P. S. S.

اكتب
الوقت
الموضح في
الساعة
التناظرية


الوقتُ بنصفِ السّاعة: السّاعةُ التّناظريّةُ

الدرس 7

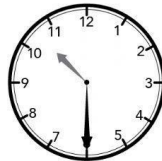




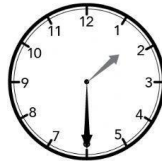
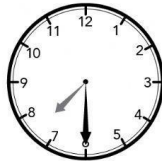
Name _____ Date _____

Telling Time — Half past

Write the time below each clock.



5:30

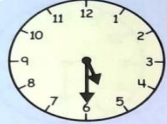


www.cleverlearner.com


اكتب
الوقت
الموضح في
الساعة
التناظرية

Telling Time


Write the time.



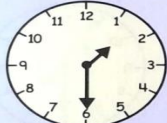
5:30




:




half past 2




:




:




half past _____



:



:



half past _____

© In-Moor Corporation 9 Telling Time • LL 693

اكتب
الوقت
الموضح في
الساعة
التناظرية

إعداد المعلمة: نهلة المزروعي

اكتب الوقت الموضح في الساعة التناظرية

الوقتُ بنصفِ السّاعة:
السّاعة الرّقميّة

الدرس 8

Date: _____



Clock Half Hour Analog

Name _____ Date _____

Read the clock and write the time.



Time: To the half hour



 :	 :	 :	 :
 :	 :	 :	 :
 :	 :	 :	 :

اكتب الوقت الموضح في الساعة التناظرية

الوقتُ بالساعة
ونِصْفِ السّاعةِ

الدرس 9

Name _____

I can
Write The Time



Write the digital time.



:



3:30



:



7:00



:



3:00



:



4:30



:



10:00

©ABC Helping Hands

TELLING TIME
Write the time shown

_____	_____	_____
_____	_____	_____
_____	_____	_____

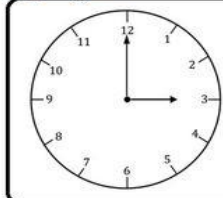
Name :



Which Clock

Name:

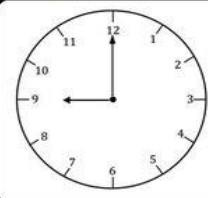
is it?



5:00

12:00

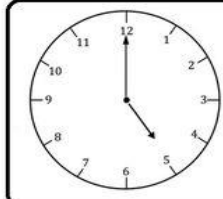
3:00



9:00

12:00

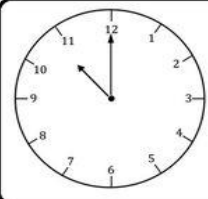
3:00



5:00

12:00

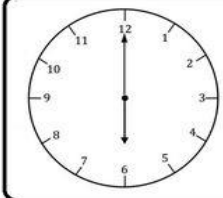
3:00



11:00

12:00


3:00



5:00

6:00

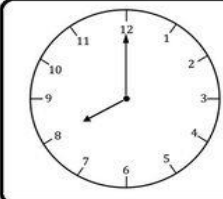
3:00



4:00

12:00

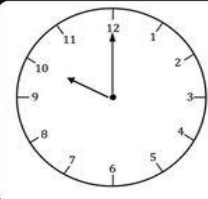
2:00



8:00

12:00

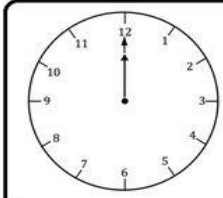
3:00



5:00

12:00

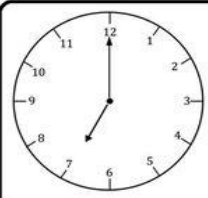
10:00



5:00

12:00

4:00



5:00

7:00

3:00

اختر
الوقت
الموضح في
الساعة
التناظرية



Worksheets PDF

Teaching Resources

Name:

Date:

Telling Time

Choose the correct time.



11:00

11:40

11:10



5:30

5:00

5:25



2:10

2:30

2:00



4:15

4:00

4:30



9:50

9:00

9:20



10:30

10:40

10:00

حل المسائل التالية

تَصِلُ بَدْرِيَّةُ إِلَى مَنْزِلِهَا السَّاعَةَ 3 ،
وَتَصِلُ حِصَّةُ إِلَى الْمَنْزِلِ بَعْدَ سَاعَةٍ وَاجِدَةً،
فَفِي أَيِّ سَاعَةٍ تَصِلُ حِصَّةُ إِلَى مَنْزِلِهَا؟

يَذْهَبُ حَمْدَانُ إِلَى تَمْرِينِ كُرَةِ الْقَدَمِ فِي
تَمَامِ 4 وَالتَّصْفِ. إِعْرِضْ هَذَا الْوَقْتِ عَلَى
السَّاعَةِ. إِذَا اسْتَمَرَّ التَّمْرِينُ سَاعَةً وَاجِدَةً،
فَمَتَى يَنْتَهِي؟ اكْتُبِ الْوَقْتَ .

عَادَ صَفُّ السَّيِّدَةِ حَوْلَةَ مَنْ الْإِسْتِرَاحَةِ
فِي تَمَامِ السَّاعَةِ 2:00. وَقَدْ ظَلُّوا فِي
الْإِسْتِرَاحَةِ لِمُدَّةِ سَاعَةٍ، فَفِي أَيِّ سَاعَةٍ
ذَهَبُوا إِلَى الْإِسْتِرَاحَةِ؟

رَاشِدٌ يَبْدَأُ وَاجِبَهُ الْمَنْزِلِيَّ فِي تَمَامِ السَّاعَةِ 6، وَيُنْهِيه بَعْدَ 30 دَقِيقَةً،
اكْتُبْ هَذَا الْوَقْتَ عَلَى السَّاعَةِ.

