

## شكراً لتحميلك هذا الملف من موقع المناهج الإماراتية



## مذكرة كتابة الأعداد

موقع المناهج ← المناهج الإماراتية ← الصف الأول ← رياضيات ← الفصل الأول ← الملف

تاريخ نشر الملف على موقع المناهج: 05:18:40 2023-10-05

## التواصل الاجتماعي بحسب الصف الأول



## روابط مواد الصف الأول على تلغرام

[الرياضيات](#)

[اللغة الانجليزية](#)

[اللغة العربية](#)

[التربية الاسلامية](#)

## المزيد من الملفات بحسب الصف الأول والمادة رياضيات في الفصل الأول

[ورقة عمل طرق تكوين العددين 4 و 5](#)

1

[نموذج تدريبي اختباري](#)

2

[ورقة عمل مراجعة التقويم الأول](#)

3

[أسئلة الاختبار التشخيصي](#)

4

[قراءة وكتابة الأعداد من 1 إلى 20](#)

5


# كٲٲٲب اللواؒبٲاٲ



إسمي .....


من الصف الأول / .....

# كٲٲٲب اللواؒبٲاٲ



إسمي .....


من الصف الأول / .....

أكتب الأعداد بخط جميل. 

5 4 3 2 1

2


تدريب على كتابة الأعداد من 1 إلى 5.

أكتب الأعداد بخط جميل. 

5 4 3 2 1

2


تدريب على كتابة الأعداد من 1 إلى 5.

أكتب الأعداد بخط جميل. 

10 9 8 7 6

3


تدريب على كتابة الأعداد من 6 إلى 10.

أكتب الأعداد بخط جميل. 

10 9 8 7 6

3


تدريب على كتابة الأعداد من 6 إلى 10.

أكتب الأعداد بخط جميل. 

15 14 13 12 11

4


تدريب على كتابة الأعداد من 11 إلى 15.

أكتب الأعداد بخط جميل. 

15 14 13 12 11

4


تدريب على كتابة الأعداد من 11 إلى 15.

أكتب الأعداد بخط جميل. 

20 19 18 17 16

5

تدريب على كتابة الأعداد من 16 إلى 20.

أكتب الأعداد بخط جميل. 

20 19 18 17 16

5

تدريب على كتابة الأعداد من 16 إلى 20.





أكتب الأعداد بخط جميل. ✎

1




2

3

أعد الأشياء و أكتب العدد. 🐟

 _____ _____ _____	 _____ _____ _____	 _____ _____ _____	 _____ _____ _____
---	--	--	--

ألون الأشياء حسب العدد المطلوب. 🐞

 2	 1	 3
--	---	---

6

الوحدة A - 1 و 2) أقرأ و أكتب 1 و 2 و 3.





أكتب الأعداد بخط جميل. ✎

1




2

3

أعد الأشياء و أكتب العدد. 🐟

 _____ _____ _____	 _____ _____ _____	 _____ _____ _____	 _____ _____ _____
--	--	--	--

ألون الأشياء حسب العدد المطلوب. 🐞

 2	 1	 3
---	---	---

6

الوحدة A - 1 و 2) أقرأ و أكتب 1 و 2 و 3.

أكتب الأعداد بخط جميل. ✎

4

5

أعد الأشياء و أكتب العدد. 🐟




\_\_\_\_\_

\_\_\_\_\_

\_\_\_\_\_

ألون الأشياء حسب العدد المطلوب. 🐚



5



4

7

الوحدة A - 3 و 4) أقرأ و أكتب 4 و 5 .

أكتب الأعداد بخط جميل. ✎

4

5

أعد الأشياء و أكتب العدد. 🐟




\_\_\_\_\_

\_\_\_\_\_

\_\_\_\_\_

ألون الأشياء حسب العدد المطلوب. 🐚



5



4

7

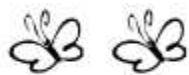
الوحدة A - 3 و 4) أقرأ و أكتب 4 و 5 .



أكتب الأعداد بخط جميل. ✎

0

أعد الفراشات و أكتب العدد. 🦋



\_\_\_\_\_

\_\_\_\_\_

\_\_\_\_\_

\_\_\_\_\_

ألون الزهور حسب العدد المطلوب. 🌸



3

1

2

0




8

الوحدة A - 5) قراءة الصفر و كتابته .

أكتب الأعداد بخط جميل. ✎

0

أعد الفراشات و أكتب العدد. 🦋



\_\_\_\_\_

\_\_\_\_\_

\_\_\_\_\_

\_\_\_\_\_

ألون الزهور حسب العدد المطلوب. 🌸




3

1

2




0



8


الوحدة A - 5) قراءة الصفر و كتابته .




أوصل المجموعات المتماثلة في العدد. 



9

الوحدة A - 6) يساوي.

أوصل المجموعات المتماثلة في العدد. 



9

الوحدة A - 6) يساوي.

أكتب العدد ثم أضع دائرة حول العدد الأكبر. ✎



4

3




\_\_\_\_\_

\_\_\_\_\_



\_\_\_\_\_

\_\_\_\_\_



\_\_\_\_\_

\_\_\_\_\_

أكتب العدد ثم أضع دائرة حول العدد الأكبر. ✎



4

3





\_\_\_\_\_

\_\_\_\_\_




\_\_\_\_\_


\_\_\_\_\_



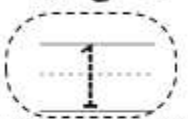
\_\_\_\_\_

\_\_\_\_\_

أكتب العدد ثم أضع دائرة حول العدد الأصغر. 



2



\_\_\_\_\_



\_\_\_\_\_



\_\_\_\_\_



\_\_\_\_\_





\_\_\_\_\_

\_\_\_\_\_


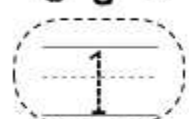
||

الوحدة A - 8) أقل من.

أكتب العدد ثم أضع دائرة حول العدد الأصغر. 



2



\_\_\_\_\_



\_\_\_\_\_



\_\_\_\_\_



\_\_\_\_\_




\_\_\_\_\_

\_\_\_\_\_

||

الوحدة A - 8) أقل من.

أكتب العدد ثم أضع دائرة حول العدد الأكبر. 




5

4



\_\_\_\_\_

\_\_\_\_\_

أكتب العدد ثم أضع دائرة حول العدد الأكبر. 




5

4



\_\_\_\_\_

\_\_\_\_\_

أكتب العدد ثم أضع دائرة حول العدد الأصغر. 




\_\_\_\_\_

\_\_\_\_\_



\_\_\_\_\_

\_\_\_\_\_

أكتب العدد ثم أضع دائرة حول العدد الأصغر. 




\_\_\_\_\_

\_\_\_\_\_



\_\_\_\_\_


\_\_\_\_\_



أكتب الأعداد بخط جميل. 

6

7

8

أعد الأشياء و أكتب العدد. 



\_\_\_\_\_

-----

\_\_\_\_\_

\_\_\_\_\_

-----

\_\_\_\_\_

\_\_\_\_\_

-----

\_\_\_\_\_



\_\_\_\_\_

-----

\_\_\_\_\_


\_\_\_\_\_

-----

\_\_\_\_\_

13


الوحدة B - 1 و 2 و 3) أقرأ و أكتب 6 و 7 و 8.



أكتب الأعداد بخط جميل. 

6

7

8

أعد الأشياء و أكتب العدد. 



\_\_\_\_\_

-----

\_\_\_\_\_

\_\_\_\_\_

-----

\_\_\_\_\_

\_\_\_\_\_

-----

\_\_\_\_\_



\_\_\_\_\_

-----

\_\_\_\_\_

\_\_\_\_\_

-----

\_\_\_\_\_

13



الوحدة B - 1 و 2 و 3) أقرأ و أكتب 6 و 7 و 8.

أكتب الأعداد بخط جميل. ✍️

9

10

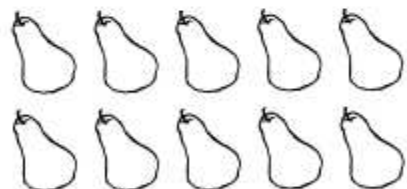

أعد الأشياء و أكتب العدد. 🐟



\_\_\_\_\_

\_\_\_\_\_

ألون الأشياء حسب العدد المطلوب. 🍓



10



9

أكتب الأعداد بخط جميل. ✍️

9

10


أعد الأشياء و أكتب العدد. 🐟



\_\_\_\_\_

\_\_\_\_\_


ألون الأشياء حسب العدد المطلوب. 🍓




10

9


أعد الحيوانات و أكتب العدد. 





ألونه بالأصفر. \_\_\_\_\_ = 

ألونه بالبرتقالي. \_\_\_\_\_ = 

ألونه بالبني. \_\_\_\_\_ = 

أعد الحيوانات و أكتب العدد. 



ألونه بالأصفر. \_\_\_\_\_ = 

ألونه بالبرتقالي. \_\_\_\_\_ = 

ألونه بالبني. \_\_\_\_\_ = 



أكتب العدد ثم أضع دائرة حول العدد الأكبر. ✍️



9


6



\_\_\_\_\_

\_\_\_\_\_

أكتب العدد ثم أضع دائرة حول العدد الأصغر. ✍️



\_\_\_\_\_


\_\_\_\_\_



\_\_\_\_\_

\_\_\_\_\_

أكتب العدد ثم أضع دائرة حول العدد الأكبر. ✍️



9


6



\_\_\_\_\_

\_\_\_\_\_

أكتب العدد ثم أضع دائرة حول العدد الأصغر. ✍️




\_\_\_\_\_

\_\_\_\_\_



\_\_\_\_\_

\_\_\_\_\_


أكتب العدد ثم أضع دائرة حول العدد الأكبر من 3 بواحد. 





\_\_\_\_\_

-----

\_\_\_\_\_


أكتب العدد ثم أضع دائرة حول العدد الأكبر من 5 بواحد. 






\_\_\_\_\_

-----

\_\_\_\_\_


أكتب العدد ثم أضع دائرة حول العدد الأكبر من 8 بواحد. 



\_\_\_\_\_

-----

\_\_\_\_\_


أكتب العدد ثم أضع دائرة حول العدد الأكبر من 3 بواحد. 





\_\_\_\_\_

-----

\_\_\_\_\_


أكتب العدد ثم أضع دائرة حول العدد الأكبر من 5 بواحد. 





\_\_\_\_\_

-----

\_\_\_\_\_

أكتب العدد ثم أضع دائرة حول العدد الأكبر من 8 بواحد. 



\_\_\_\_\_

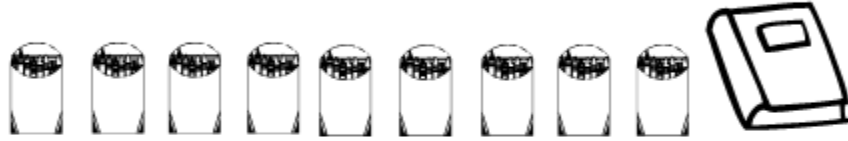
-----

\_\_\_\_\_

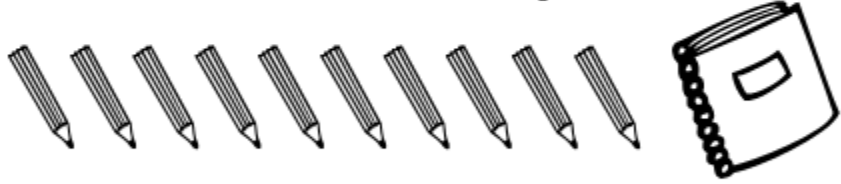
ضعي دائرة على الحقيبة الأولى ناحية السبورة . لوني  
الحقيبة الرابعة بالوردي.



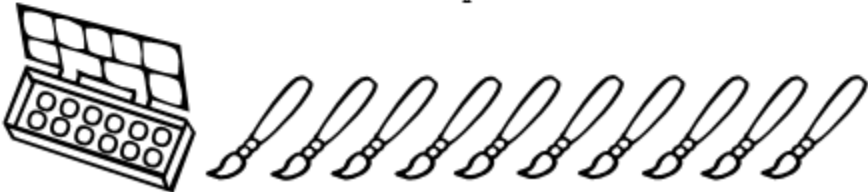
ضعي دائرة على العلبة الخامسة ناحية الكتاب. لوني  
العلبة الثامنة بالأصفر و العلبة الثالثة بالأحمر.



ضعي دائرة على القلم الثاني ناحية الدفتر . لوني  
القلم السابع بالبنّي و القلم التاسع بالأخضر.



ضعي دائرة على الفرشاة الأولى ناحية الألوان. لوني  
الفرشاة السادسة بالبرتقالي و الفرشاة العاشرة بالأزرق.



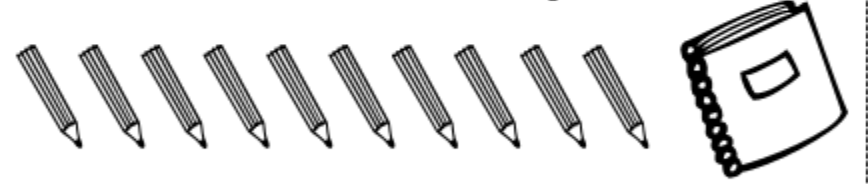
ضعي دائرة على الحقيبة الأولى ناحية السبورة . لوني  
الحقيبة الرابعة بالوردي.



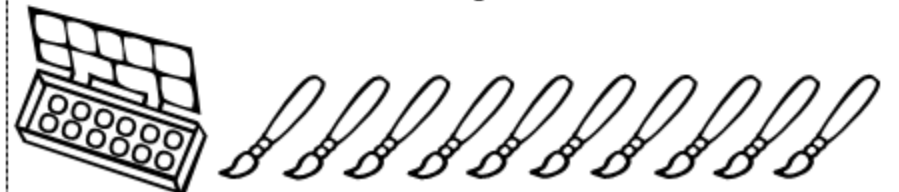
ضعي دائرة على العلبة الخامسة ناحية الكتاب. لوني  
العلبة الثامنة بالأصفر و العلبة الثالثة بالأحمر.




ضعي دائرة على القلم الثاني ناحية الدفتر . لوني  
القلم السابع بالبنّي و القلم التاسع بالأخضر.



ضعي دائرة على الفرشاة الأولى ناحية الألوان. لوني  
الفرشاة السادسة بالبرتقالي و الفرشاة العاشرة بالأزرق.




أعد الأشياء و أكتب العدد. 🐟



\_\_\_\_\_

.....


\_\_\_\_\_



\_\_\_\_\_

.....

\_\_\_\_\_



\_\_\_\_\_

.....


\_\_\_\_\_



\_\_\_\_\_

.....

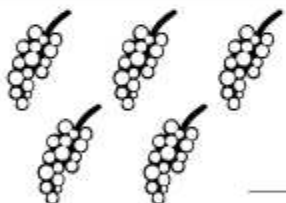
\_\_\_\_\_



\_\_\_\_\_

.....

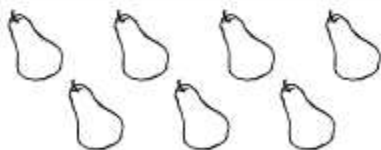
\_\_\_\_\_



\_\_\_\_\_

.....

\_\_\_\_\_



\_\_\_\_\_

.....

\_\_\_\_\_




\_\_\_\_\_

.....

\_\_\_\_\_

أعد الأشياء و أكتب العدد. 🐟



\_\_\_\_\_

.....


\_\_\_\_\_



\_\_\_\_\_

.....

\_\_\_\_\_



\_\_\_\_\_

.....


\_\_\_\_\_



\_\_\_\_\_

.....

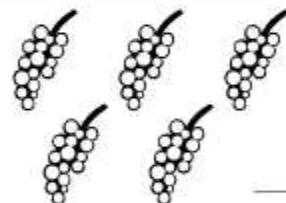
\_\_\_\_\_



\_\_\_\_\_

.....

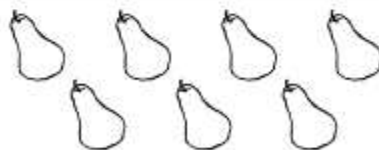
\_\_\_\_\_



\_\_\_\_\_

.....

\_\_\_\_\_



\_\_\_\_\_

.....

\_\_\_\_\_


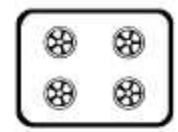



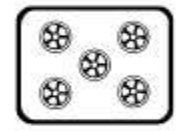
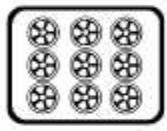


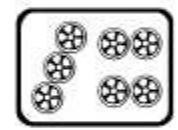
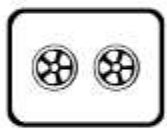


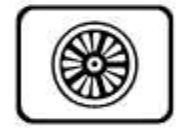
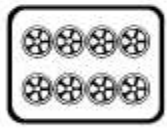


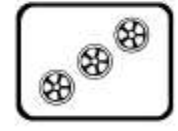
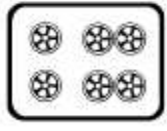



\_\_\_\_\_


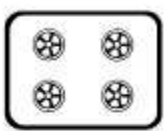



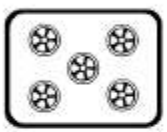
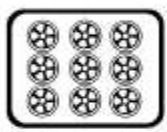


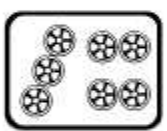




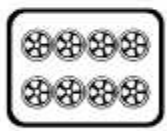


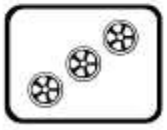
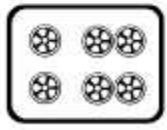

.....

\_\_\_\_\_



أصل العدد بما يمثله .

أصل العدد بما يمثله .




أكمل الأعداد الناقصة على القطار. 🖍️



21


الوحدة B - مراجعة الأعداد.

أكمل الأعداد الناقصة على القطار. 🖍️




21

الوحدة B - مراجعة الأعداد.


أكتب الأعداد بخط جميل. 

11

12


أعد الأشياء و أكتب العدد. 




أكتب الأعداد بخط جميل. 



11

12

أعد الأشياء و أكتب العدد. 





ألون الأشياء حسب العدد المطلوب. 



12

11

ألون الأشياء حسب العدد المطلوب. 



12


11

أكتب الأعداد بخط جميل. ✍️

13

14

أعد الأشياء و أكتب العدد. 🐟




أكتب الأعداد بخط جميل. ✍️

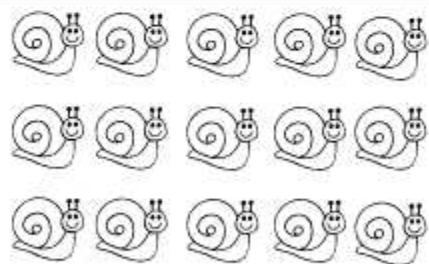
13

14

أعد الأشياء و أكتب العدد. 🐟



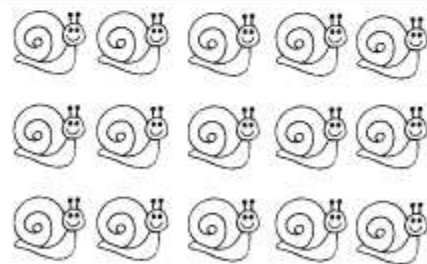
ألون الأشياء حسب العدد المطلوب. 🐚



14

13

ألون الأشياء حسب العدد المطلوب. 🐚



14



13



أكتب الأعداد بخط جميل. ✍️

15


أعد الأشياء و أكتب العدد. 🐟




\_\_\_\_\_

\_\_\_\_\_

ألون الأشياء حسب العدد المطلوب. 🐚



10





15

أكتب الأعداد بخط جميل. ✍️

15


أعد الأشياء و أكتب العدد. 🐟




\_\_\_\_\_

\_\_\_\_\_

ألون الأشياء حسب العدد المطلوب. 🐚



10




15

أكتب الأعداد بخط جميل. ✎

16

17


أعد الأشياء و أكتب العدد. 🐟



\_\_\_\_\_

.....

\_\_\_\_\_



\_\_\_\_\_

.....


\_\_\_\_\_

أكتب الأعداد بخط جميل. ✎

16

17


أعد الأشياء و أكتب العدد. 🐟



\_\_\_\_\_

.....

\_\_\_\_\_



\_\_\_\_\_

.....

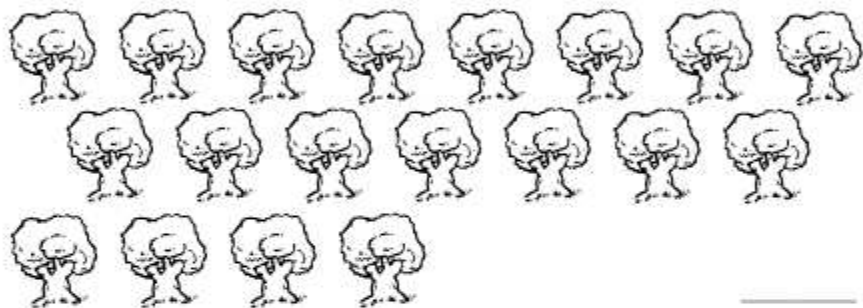
\_\_\_\_\_

أكتب الأعداد بخط جميل. ✍️

8

9


أعد الأشياء و أكتب العدد. 🐟



\_\_\_\_\_

.....

\_\_\_\_\_



\_\_\_\_\_

.....


\_\_\_\_\_

أكتب الأعداد بخط جميل. ✍️

8

9


أعد الأشياء و أكتب العدد. 🐟



\_\_\_\_\_

.....

\_\_\_\_\_



\_\_\_\_\_


.....

\_\_\_\_\_

أكتب الأعداد بخط جميل. ✍️

20

أعد الأشياء و أكتب العدد. 🐟



أكمل الأعداد الناقصة على القطار. ✍️



27

الوحدة C-6 العدد 20.

أكتب الأعداد بخط جميل. ✍️

20

أعد الأشياء و أكتب العدد. 🐟






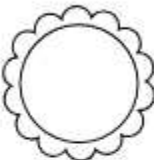


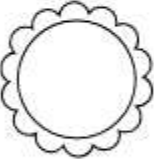
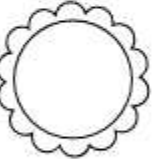
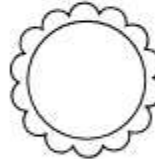






أكمل الأعداد الناقصة على القطار. ✍️





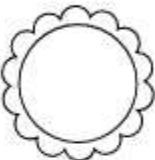


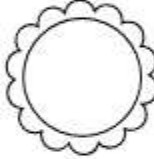
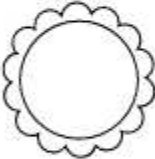

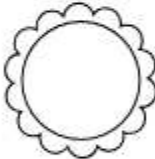

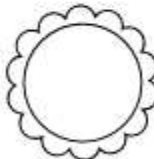




27


الوحدة C-6 العدد 20.

أكمل كتابة الأعداد الناقصة. 


	12	11	10	9
	20		18	17
27			24	23
		32		30
	40			37
	49		47	

أكمل كتابة الأعداد الناقصة. 

	12	11	10	9
	20		18	17
27			24	23
		32		30
	40			37
	49		47	

أكمل كتابة الأعداد الناقصة. 

36		34		32
52		50		48
	66			63
80		78		76
91		89		87
		98	97	

أكمل كتابة الأعداد الناقصة. 

36		34		32
52		50		48
	66			63
80		78		76
91		89		87
		98	97	