

تم تحميل هذا الملف من موقع المناهج الإماراتية



*للحصول على أوراق عمل لجميع الصفوف وجميع المواد اضغط هنا

<https://almanahj.com/ae>

* للحصول على أوراق عمل لجميع مواد الصف الأول اضغط هنا

<https://almanahj.com/ae/1>

* للحصول على جميع أوراق الصف الأول في مادة رياضيات وجميع الفصول, اضغط هنا

<https://almanahj.com/ae/1>

* للحصول على أوراق عمل لجميع مواد الصف الأول في مادة رياضيات الخاصة بـ اضغط هنا

<https://almanahj.com/ae/1>

* لتحميل كتب جميع المواد في جميع الفصول للـ الصف الأول اضغط هنا

<https://almanahj.com/ae/grade1>

للتحدث إلى بوت المناهج على تلغرام: اضغط هنا

https://t.me/almanahj_bot

المادة : رياضيات
الاسم :
الصف : الأول / الشعبة
معلمة المادة : هند كامل







دولة الإمارات العربية المتحدة
دائرة التعليم والمعرفة
مدرسة الرؤية الخاصة

ورق عمل رياضيات

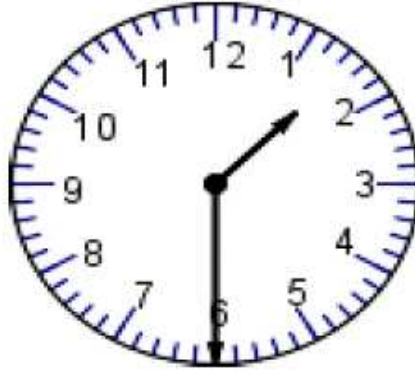

الفصل الدراسي الثالث العام الدراسي 2018-2019

السؤال الأول :

اختر الإجابة الصحيحة :



اكتب الوقت الذي تظاهرة الساعة :



ارسم عقرب الساعة الموضحة للساعة الرقمية :



5:30



9:00

المادة : رياضيات
الاسم :
الصف : الأول / الشعبة
معلمة المادة : هند كامل



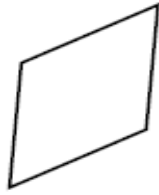
دولة الإمارات العربية المتحدة
دائرة التعليم والمعرفة
مدرسة الرؤية الخاصة

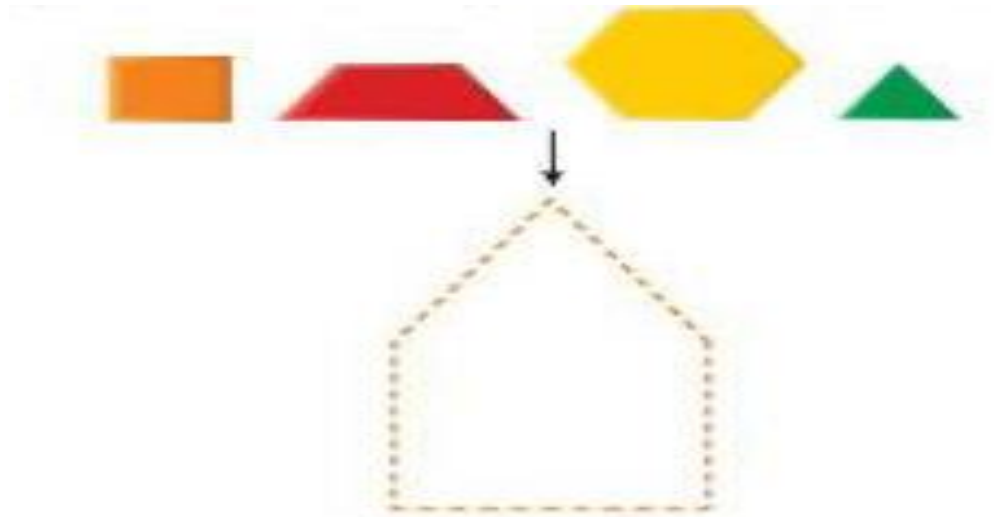
ورق عمل رياضيات

الفصل الدراسي الثالث العام الدراسي 2018-2019

السؤال الأول :

ضع دائرة حول الأشكال المستخدمة لتكوين الشكل :





المادة : رياضيات
الاسم :
الصف : الأول / الشعبة
معلمة المادة : هند كامل



دولة الإمارات العربية المتحدة
دائرة التعليم والمعرفة
مدرسة الرؤية الخاصة

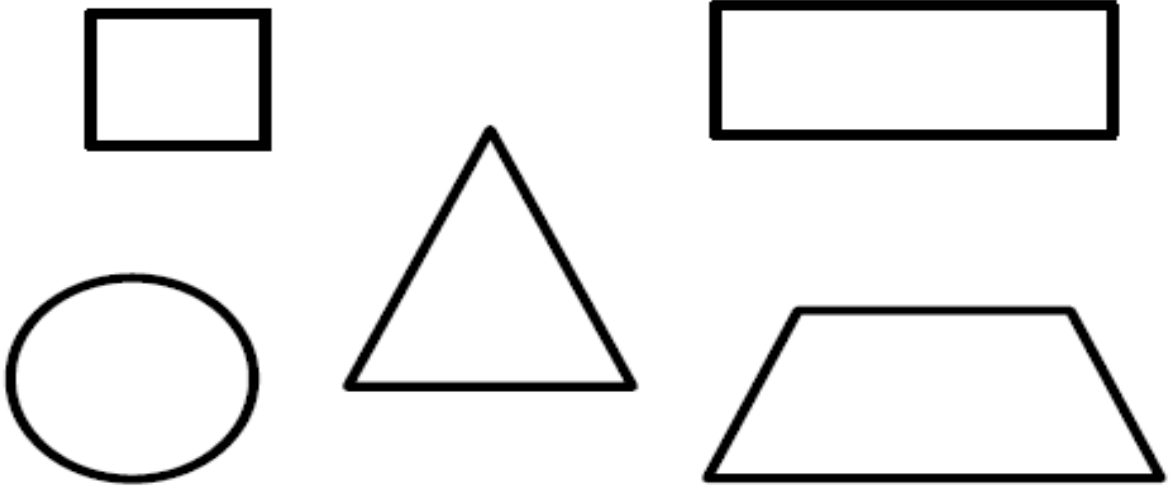
ورق عمل رياضيات

الفصل الدراسي الثالث العام الدراسي 2018-2019

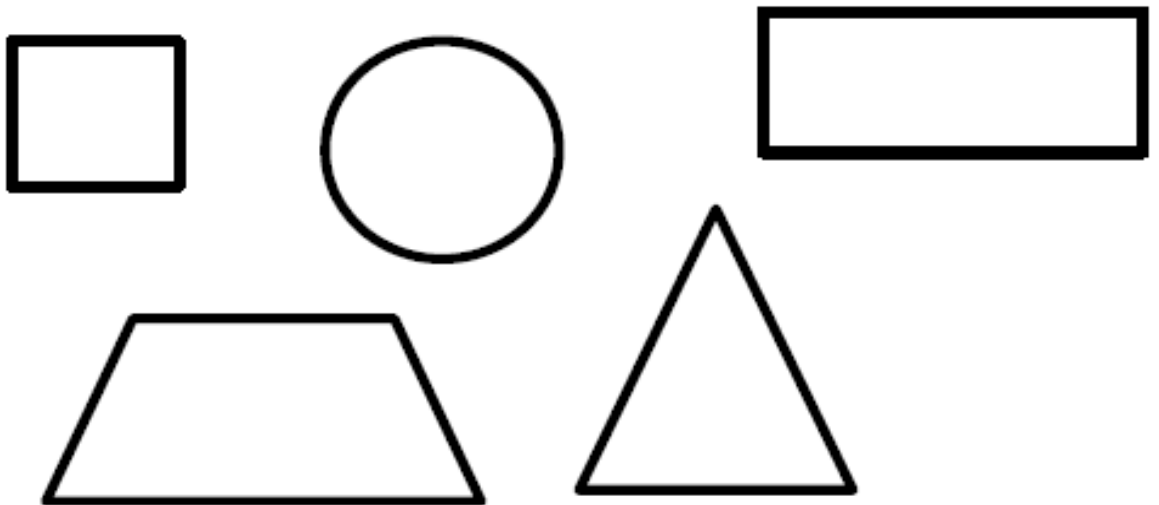
السؤال الأول :

حوظ :


الأشكال التي لها 0 رؤوس





الأشكال التي لها 4 أضلاع



الأشكال غير المنحنية



الأشكال التي لها 4 أضلاع بنفس الطول



المادة : رياضيات
الاسم :
الصف : الأول / الشعبة
معلمة المادة : هند كامل



دولة الإمارات العربية المتحدة
دائرة التعليم والمعرفة
مدرسة الرؤية الخاصة

ورق عمل رياضيات

الفصل الدراسي الثالث العام الدراسي 2018-2019

السؤال الأول :

اكتب عدد الرؤوس و عدد الأضلاع :

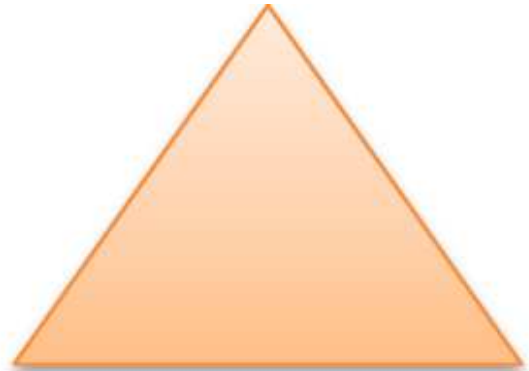
.....

.....



.....

.....



.....

.....

