

احصل على جميع روابط الصفوف

وفق المنهاج الإماراتي

عبر بوت الروابط على تلغرام

t.me/uaelinks_bot

امتحان نهاية الفصل الثالث - الصف الأول - مدة الطسوم - العلم الدراسي 2018 / 2019 م

رابعاً: 24 - اكتب كلمة واحدة من الكلمات التالية لتكمل ما يأتي.

الضموم - ببطء - صوتاً - بسرعة

يسكب بسرعة



يسكب ببطء



يقرأ بواسطة الصوت



يصدر صوتاً



انتهت الأسئلة ،،،،

14 - قوّة احتكاك.



15 - يجذب للمغناطيس.



16 - طواحين الهواء (طاقة الرياح) .



17 - مصدر معظم الطاقة الحرارية.



18 - صوت مرتفع.



- يحظر تصوير أو تداول الورقة الامتحانية قبل أو أثناء أو بعد الامتحان من خلال البريد الالكتروني أو وسائل التواصل الاجتماعي أو أي وسيلة أخرى
 - ومن يخالف ذلك سيخضع في حقّه الإجراءات القانونية المنيعة
 - على إدارات المدارس ولجان الامتحانات ومراكز التقدير مراعاة ذلك، ورصد المخالفات، واتخاذ الإجراءات اللازمة



السؤال الأول

لنا ارسم خطاً تحت الإجابة الصحيحة.

1 - يطفو فوق الماء .

60



2 - يثوب في الماء .



3 - خشن .



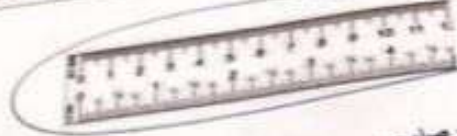
4 - لقياس الكتلة .



- يحظر تصوير أو تداول الورقة الامتحانية قبل أو أثناء أو بعد الامتحان من خلال البريد الإلكتروني أو وسائل التواصل الاجتماعي أو أي وسيلة أخرى ومن يخالف ذلك سيخضع في حقه الإجراءات القانونية المتبعة.
- على إدارات المدارس ولجان الامتحانات ومراكز التقدير مراعاة ذلك ورصد المخالفات واتخاذ الإجراءات اللازمة



5 - تقياس الطول.



6 - صلب.



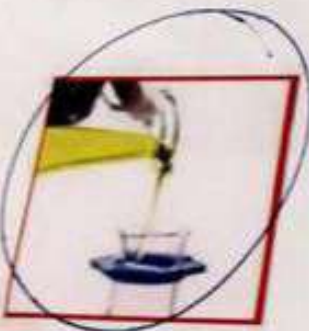
7 - ينكسر.



8 - ليس له ظل.



9 - ينسكب (يسيل).



- يحظر تصوير أو تداول الورقة الامتحانية قبل أو أثناء أو بعد الامتحان من خلال البريد الالكتروني أو وسائل التواصل الاجتماعي أو أي وسيلة أخرى.
ومن يخالف ذلك سيعقد في حقه الإجراءات القانونية المتبعة.
- على إدارات المدارس ولجان الامتحانات ومراكز التطوير مراعاة ذلك، ورفض المخالفات واتخاذ الإجراءات اللازمة.



19 - يُعبر الضوء .



20 - الجانبية .



المسألة الثاني

40

أولاً : 21- ضع إشارة (✓) أو (×) أمام كل مما يأتي.

alManahj.com/ae



الغاز له شكل محدد (..)

الجسم الصلب له شكل محدد (✓)

المائل له شكل محدد (..)

- يحظر تصوير أو تداول الورقة الامتحانية قبل أو أثناء أو بعد الامتحان من خلال البريد الإلكتروني أو وسائل التواصل الاجتماعي أو أي وسيلة أخرى ومن يخالف ذلك سيخضع في حقه الإجراءات التأديبية المتبعة
- على إدارات المدارس ولجان الامتحانات ومراكز التقدير مراعاة ذلك ورصد المخالفات واتخاذ الإجراءات اللازمة






ثانياً : 22 -

صل بخط بين الأداة واسمها

المهمة	
قصاص نسيج الخياطة	
ملاحظة الأجزاء الصغيرة من الورقة	
قياس الأشياء	
قصر طول	

ثالثاً : 23 - اكتب الكلمات المناسبة مما يأتي أسفل كل صورة في الجدول التالي

أحمر - أزرق - أصفر

		
صمغ	إسفنجة بحري	ذميرة
أحمر	أصفر	أزرق

- يذوق لظهور أو تذوق الورقة الاستجابية قبل أو بعد الاختبار من خلال التبريد التلقائي أو وسائل التوافق التلقائي أو أي وسيلة أخرى ومن بخلاف ذلك سيبدأ في تلفه - الإحتياجات القانونية الصعبة - على إدارات المدارس والمدارس الابتدائية ومراكز التقديرو معالجة ذلك - وحدة المناظرة والحدود المهنية للدرجة

10 - يقيس السائل.



11 - فيه غاز.



12 - تسير في خط مستقيم.



13 - يسحب.



- يحظر تصوير أو تداول الورقة الامتحانية قبل أو أثناء أو بعد الامتحان من خلال البريد الالكتروني أو وسائل التواصل الاجتماعي أو أي وسيلة أخرى ومن يخالف ذلك سرتخد في حقه الإجراءات القانونية المتبعة.
- على إدارات المدارس ولجان الامتحانات ومراكز التقدير مراعاة ذلك ورصد المخالفات واتخاذ الإجراءات اللازمة.