

شكراً لتحميلك هذا الملف من موقع المناهج الإماراتية



الاختبار التكويني الأول

[موقع المناهج](#) ← [المناهج الإماراتية](#) ← [الصف الأول](#) ← [رياضيات](#) ← [الفصل الأول](#) ← [الملف](#)

تاريخ نشر الملف على موقع المناهج: 06:13:46 2023-10-11

التواصل الاجتماعي بحسب الصف الأول



روابط مواد الصف الأول على تلغرام

[الرياضيات](#)

[اللغة الانجليزية](#)

[اللغة العربية](#)

[التربية الاسلامية](#)

المزيد من الملفات بحسب الصف الأول والمادة رياضيات في الفصل الأول

مذكرة كتابة الأعداد	1
ورقة عمل طرق تكوين العددين 4 و 5	2
نموذج تدريبي اختباري	3
ورقة عمل مراجعة التقويم الأول	4
أسئلة الاختبار التشخيصي	5

الاختبار التكويني الأول في مادة الرياضيات
للفصل الدراسي الأول
2023 - 2024 م

اسم الطالب/ة الصف الأول

10

السؤال الأول : حوّل الإجابة الصحيحة



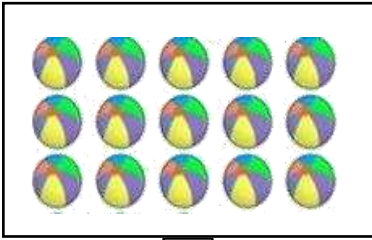
1- عدد التفاحات هو

A 7

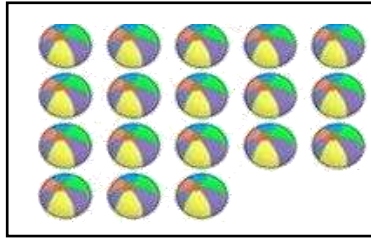
B 4

C 5

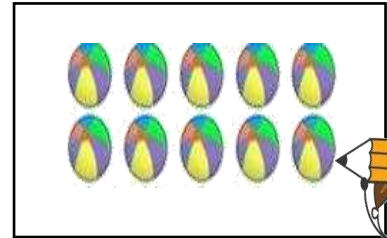
2- اختر المجموعة التي تحتوي على العدد 15




A



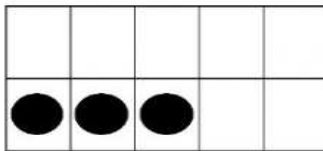
B



C




A 3



B 13

3- عدد النقاط في لوحة العشرات تساوي

C 18



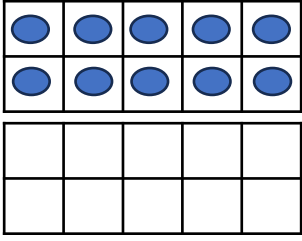
4- عدد بين 7 و 9 هو

A 6

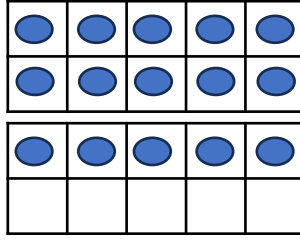
B 8

C 10

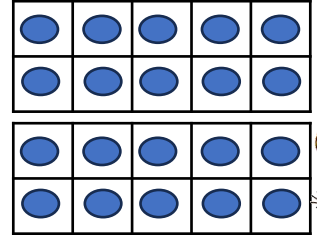
5- لوحة العشرات التي تحتوي على العدد 20 هي



A



B





C



6

السؤال الثاني عد واكتب العدد الصحيح ..







4

السؤال الثالث : اكمل كتابة الاعداد ..



1	2		4	
---	---	--	---	--

10		12	13		
----	--	----	----	--	--

15		17			20
----	--	----	--	--	----

