

تم تحميل هذا الملف من موقع المناهج الإماراتية



الملف أوراق عمل العد بالعشرات

[موقع المناهج](#) ← [المناهج الإماراتية](#) ← [الصف الأول](#) ← [رياضيات](#) ← [الفصل الثاني](#)

روابط مواقع التواصل الاجتماعي بحسب الصف الأول



روابط مواد الصف الأول على تلغرام

[الرياضيات](#)

[اللغة الانجليزية](#)

[اللغة العربية](#)

[التربية الاسلامية](#)

المزيد من الملفات بحسب الصف الأول والمادة رياضيات في الفصل الثاني

[كل ما يخص الاختبار التكويني لمادة الرياضيات للصف الأول يوم الأحد 9/2/2020](#)

1

[أسئلة الامتحان التكويني الأول](#)

2

[التوزيع الزمني](#)

3


[مشروع عن الترتيب التنازلي وآخر عن الجمع](#)

4


[3 اوراق عمل بعنوان \(اكتب العدد الناقص\)](#)

5

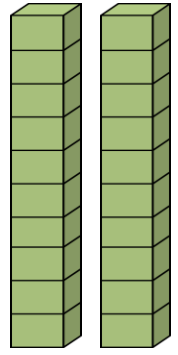
عد مجموعات العشرات واكتب العدد



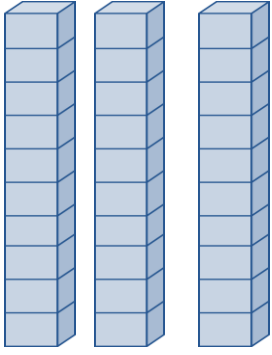
..... = عشرات



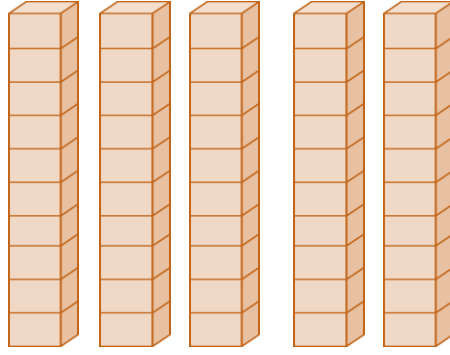
..... = عشرات



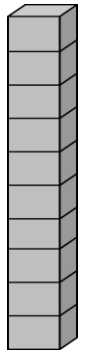
..... = عشرات



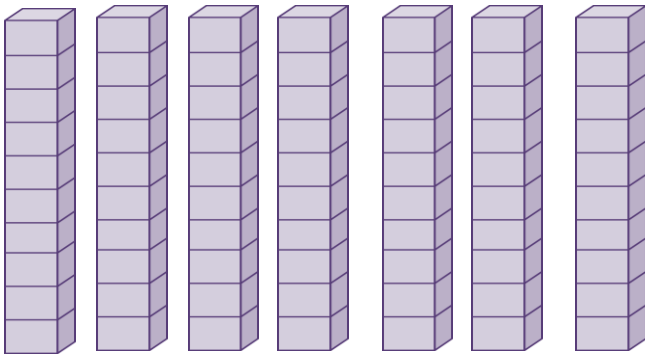
..... = عشرات



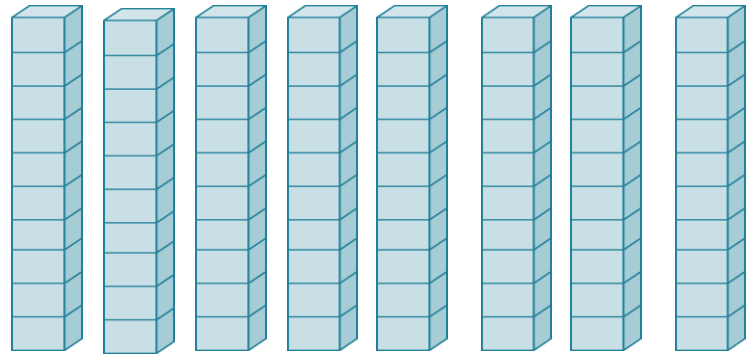
..... = عشرات



..... = عشرات



..... = عشرات



..... = عشرات

أكمل العد بالعشرات

10 , 20 , , , , , , ,

5 , 15 , , , , , ,

3 , 13 , 23 , , , , , ,


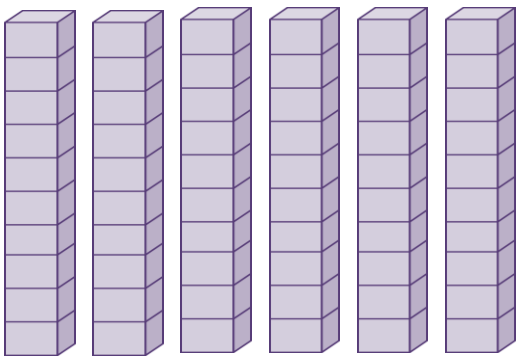
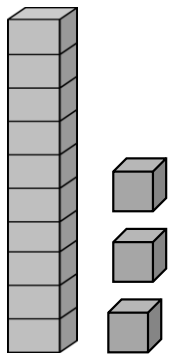
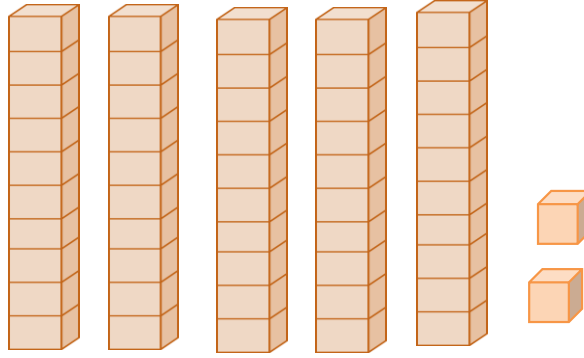

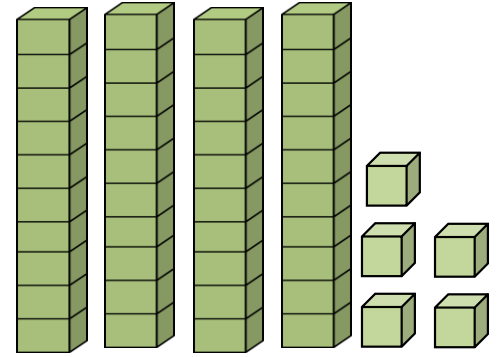
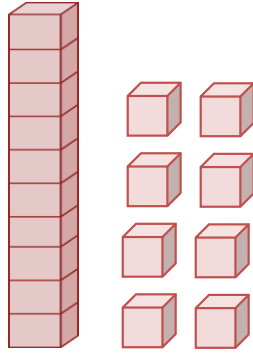
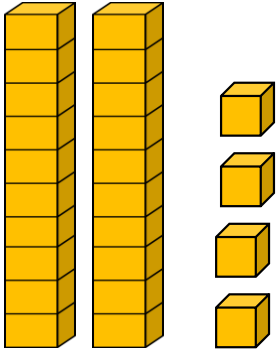
42 , 52 , , , , ,

36 , 46 , 56 , 66 , , , , ,

11 , 21 , , , , , ,

68 , 78 , , , , , ,

عد ثم أكتب كل عدد



أكمل كتابة الأعداد ...

34 , 35 ,36 , , , , , , , ,

3 , 4 , 5 , 6, 7, , , , ,

50 , 51 ,52 , , , , , ,

76 , 77, 78 , , , , ,

98 , 99, , , , , ,

111 , 112 , , , , , ,

118 , 119 , , , , , ,

عد ثم أجمع

4 عشرات + 2 عشرات = عشرات

6 عشرات + 4 عشرات = عشرات

3 عشرات + 5 عشرات = عشرات

7 عشرات + 1 عشرات = عشرات

2 عشرات + 0 عشرات =

6 عشرات + 2 عشرات =

1 عشرات + 8 عشرات =

5 عشرات + 5 عشرات =

$$\begin{array}{r} 4 \text{ عشرات} \\ + \\ 3 \text{ عشرات} \\ \hline \end{array}$$

$$\begin{array}{r} 5 \text{ عشرات} \\ + \\ 1 \text{ عشرات} \\ \hline \end{array}$$

$$\begin{array}{r} 8 \text{ عشرات} \\ + \\ 0 \text{ عشرات} \\ \hline \end{array}$$

$$\begin{array}{r} 7 \text{ عشرات} \\ + \\ 2 \text{ عشرات} \\ \hline \end{array}$$

$$\begin{array}{r} 5 \text{ عشرات} \\ + \\ 2 \text{ عشرات} \\ \hline \end{array}$$

$$\begin{array}{r} 1 \text{ عشرات} \\ + \\ 2 \text{ عشرات} \\ \hline \end{array}$$

عد ثم أجمع

$$\begin{array}{r} 30 \\ + \\ 20 \\ \hline \end{array}$$

$$\begin{array}{r} 40 \\ + \\ 30 \\ \hline \end{array}$$

$$\begin{array}{r} 40 \\ + \\ 10 \\ \hline \end{array}$$

$$\begin{array}{r} 50 \\ + \\ 30 \\ \hline \end{array}$$

$$\begin{array}{r} + \\ 20 \\ \hline \end{array}$$

$$\begin{array}{r} 80 \\ + \\ 20 \\ \hline \end{array}$$

$$\begin{array}{r} 10 \\ + \\ 10 \\ \hline \end{array}$$

$$\begin{array}{r} 20 \\ + \\ 20 \\ \hline \end{array}$$

$$\begin{array}{r} 60 \\ + \\ 20 \\ \hline \end{array}$$

$$\begin{array}{r} 70 \\ + \\ 20 \\ \hline \end{array}$$

عد ثم أجمع

$$\begin{array}{r} 39 \\ + \\ 27 \\ \hline \end{array}$$

$$\begin{array}{r} 45 \\ + \\ 9 \\ \hline \end{array}$$

$$\begin{array}{r} 47 \\ + \\ 5 \\ \hline \end{array}$$

$$\begin{array}{r} 38 \\ + \\ 4 \\ \hline \end{array}$$

$$\begin{array}{r} + \\ 5 \\ \hline \end{array}$$

$$\begin{array}{r} 86 \\ + \\ 6 \\ \hline \end{array}$$

$$\begin{array}{r} 17 \\ + \\ 14 \\ \hline \end{array}$$

$$\begin{array}{r} 28 \\ + \\ 3 \\ \hline \end{array}$$

$$\begin{array}{r} 39 \\ + \\ 13 \\ \hline \end{array}$$

$$\begin{array}{r} 26 \\ + \\ 7 \\ \hline \end{array}$$

عد ثم أجمع

$$\begin{array}{r} 37 \\ + \\ 37 \\ \hline \end{array}$$

$$\begin{array}{r} 46 \\ + \\ 19 \\ \hline \end{array}$$

$$\begin{array}{r} 45 \\ + \\ 15 \\ \hline \end{array}$$

$$\begin{array}{r} 39 \\ + \\ 14 \\ \hline \end{array}$$

$$\begin{array}{r} + \\ 25 \\ \hline \end{array}$$

$$\begin{array}{r} 56 \\ + \\ 6 \\ \hline \end{array}$$

$$\begin{array}{r} 57 \\ + \\ 14 \\ \hline \end{array}$$

$$\begin{array}{r} 28 \\ + \\ 3 \\ \hline \end{array}$$

$$\begin{array}{r} 39 \\ + \\ 31 \\ \hline \end{array}$$

$$\begin{array}{r} 26 \\ + \\ 27 \\ \hline \end{array}$$

عد ثم أ طرح

$$\begin{array}{r} 90 \\ - 60 \\ \hline \end{array}$$

$$\begin{array}{r} 30 \\ - 20 \\ \hline \end{array}$$

$$\begin{array}{r} 70 \\ - 50 \\ \hline \end{array}$$

$$\begin{array}{r} 20 \\ - 20 \\ \hline \end{array}$$

$$\begin{array}{r} 80 \\ - 40 \\ \hline \end{array}$$

$$\begin{array}{r} 60 \\ - 10 \\ \hline \end{array}$$

$$\begin{array}{r} 90 \\ - 30 \\ \hline \end{array}$$

$$\begin{array}{r} 70 \\ - 20 \\ \hline \end{array}$$

$$\begin{array}{r} 80 \\ - 30 \\ \hline \end{array}$$

$$\begin{array}{r} 60 \\ - 40 \\ \hline \end{array}$$

عد ثم أشرح

6 عشرات - 4 عشرات = عشرات

4 عشرات - 2 عشرات = عشرات

7 عشرات - 1 عشرات = عشرات

6 عشرات - 4 عشرات = عشرات

6 عشرات - 2 عشرات =

2 عشرات - 0 عشرات =

5 عشرات - 5 عشرات =

9 عشرات - 8 عشرات =

5 عشرات

-

1 عشرات

4 عشرات

-

3 عشرات

7 عشرات

-

2 عشرات

8 عشرات

-

0 عشرات

9 عشرات

-

2 عشرات

5 عشرات

-

2 عشرات

أكتب حقائق الجمع المترابطة

$40 - 10 = \dots$

$\dots + \dots = \dots$

$60 - 40 = \dots$

$\dots + \dots = \dots$

$\dots - \dots = \dots$

$50 + 40 = \dots$

$\dots - \dots = \dots$

$70 + 20 = \dots$

$80 - 30 = \dots$

$\dots + \dots = \dots$

$100 - 30 = \dots$

$\dots + \dots = \dots$

$\dots - \dots = \dots$

$40 + 60 = \dots$

$\dots - \dots = \dots$

$50 + 30 = \dots$



$\dots - \dots = \dots$

$80 + 10 = \dots$

$40 - 10 = \dots$



$\dots + \dots = \dots$

أكتب عدد العناصر الاضافية . ثم اكتب العدد





ستة عشر

10 و إضافة





ثلاثة عشر

10 و إضافة





.....
10 و إضافة





.....
10 و إضافة

عد ثم أكتب العدد

العشرات	الأحاد
	



.....

العشرات	الأحاد
	



.....

العشرات	الأحاد
	

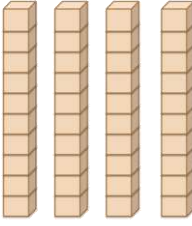

.....

العشرات	الأحاد
	

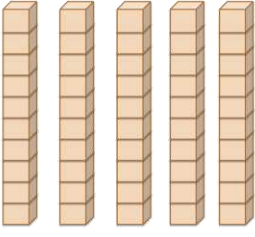
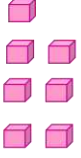
.....

العشرات	الأحاد
	

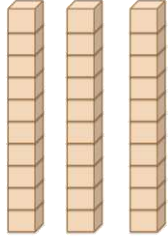
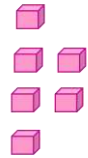
.....

العشرات	الأحاد
	

.....

العشرات	الأحاد
	




.....



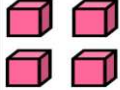
العشرات	الأحاد
	

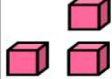
.....


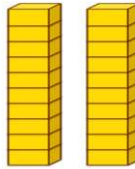
عد ثم أكتب العدد




المئات	العشرات	الآحاد
		


المئات	العشرات	الآحاد
		

المئات	العشرات	الآحاد
		

المئات	العشرات	الآحاد
		

المئات	العشرات	الآحاد
		

المئات	العشرات	الآحاد
		

المئات	العشرات	الآحاد
		

المئات	العشرات	الآحاد
		
