

تم تحميل هذا الملف من موقع المناهج الإماراتية



الملف الخطة الأسبوعية للأسبوع الخامس الحلقة الثانية في مدرسة أبو أيوب الأنصاري

موقع المناهج ← المناهج الإماراتية ← ملفات مدرسية ← المدارس ← الفصل الأول

روابط مواقع التواصل الاجتماعي بحسب ملفات مدرسية



روابط مواد ملفات مدرسية على تلغرام

[الرياضيات](#)

[اللغة الانجليزية](#)

[اللغة العربية](#)

[التربية الاسلامية](#)

المزيد من الملفات بحسب ملفات مدرسية والمادة المدارس في الفصل الأول

[توجيهات بدء الدراسة للعام الدراسي الجديد](#)

1

[امتحانات منتصف الفصل الأول للصفين الحادي عشر والثاني عشر في مدرسة الشعلة الخاصة](#)

2

[امتحانات منتصف الفصل الأول للصفين التاسع والعاشر في مدرسة الشعلة الخاصة](#)

3

[امتحانات منتصف الفصل الأول للصفوف الخامس حتى الثامن في مدرسة الشعلة الخاصة](#)

4

[امتحانات منتصف الفصل الأول للصفوف الأول حتى الرابع في مدرسة الشعلة الخاصة](#)

5

الجزء الأول

كل مفردة : 3 درجات

60

ضع دائرة حول رمز الإجابة الصحيحة فيما يأتي:



1. اي مما يلي يعتبر من الاجسام الصلبة ؟

تم تحميل هذا من



2. يستخدم الاشخاص الطاقة لتدفئة منازلهم .


الحرارة

الضوء

الرياح





3. أي السوائل ينساب بسرعة :




4. أي مادة تذوب في الماء ؟

5. أي من الأجسام التالية تحتوي على مادة غازية بداخلها ؟





6. ما الأداة التي تجعل الأجسام تبدو أكبر حجماً ؟



7. ما الأداة التي تُستخدم لقياس الكتلة ؟

الرياح

الجازولين

الحرارة



8. يزود السيارة بالطاقة لكي تتحرك

قاسي ولونه أحمر

ناعم ولونه بني

صلب ولونه أبيض



9. من خصائص هذا الدب ؟



10. توجد الكرة اسفل الطاولة

الاحتكاك

الجاذبية



11. ما الذي يجعل الكرة و التفاحة تسقط إلى اسفل

الاحتكاك

الجاذبية



12. لتقليل سرعة الارجوحة وإيقافها



دفع - سحب

دفع - سحب

دفع - سحب

دفع - سحب

13

14. يحصل جسمك على الطاقة من



الغذاء

الرياح

الضوء

15. معظم الطاقة الحرارية على الأرض مصدرها

الشمس

المصابيح

القمر

16. من أجسام التي يمكن أن يعبر الضوء خلالها



الألعاب

الزجاج الشفاف

جسم الإنسان

17. عواء الذئب يعتبر صوتاً



رقيق

غليظ

18. يصدر الصوت عندما يحدث

ضوضاء

اهتزاز

هدوء


19. الاهتزاز البطئ يصدر صوتاً

مرتفع

بطئ

غليظ

20. يسقط معظم الضوء على الأرض من






السؤال الثاني:

أ) صنّف حالات المادة و ثم اكتب الرقم الصحيح أسفل الصورة المناسبة :







1- الحالة الصلبة

2- الحالة السائلة

3- الحالة الغازية



ب) اكتب الرقم المناسب في الجدول حسب انجذاب المواد او تنافرها من المغناطيس

 3 طاولة	 2 مسمار	 1 كتاب
 6 منشار	 5 دبوس	 4 كرسي خشبي

لا يجذبه المغناطيس	يجذبه المغناطيس
.....
.....
.....

السؤال الثالث:

صل بخط بين مصدر الضوء والصورة المناسبة لها :



مصدر طبيعي



مصدر صناعي



صل بخط بين درجة الصوت والصورة المناسبة لها:




أصوات مرتفعة

أصوات منخفضة



لون الإجابة الصحيحة : كل مفردة : 1 درجة



تنافر

تجاذب



تنافر

تجاذب