

تم تحميل هذا الملف من موقع المناهج الإماراتية



الملف أوراق عمل درس الموقع والحركة

[موقع المناهج](#) ← [المناهج الإماراتية](#) ← [الصف الأول](#) ← [علوم](#) ← [الفصل الثالث](#)

روابط مواقع التواصل الاجتماعي بحسب الصف الأول



روابط مواد الصف الأول على تلغرام

[الرياضيات](#)

[اللغة الانجليزية](#)

[اللغة العربية](#)

[التربية الاسلامية](#)

المزيد من الملفات بحسب الصف الأول والمادة علوم في الفصل الثالث

مقررات الفصل الثالث	1
ملخص شامل للوحدة التاسعة (الحركة) مع جميع أوراق العمل الخاصة بهذه الوحدة.	2
دليل علوم	3
مقررات الفصل الثالث	4
أوراق عمل (من صفات المادة)	5



الاسم:

الصف الأول / شعبة:

التاريخ:

❖ الفكرة الرئيسية: يمكن للأجسام ان تتحرك بطرق عدة وبسرعات مختلفة وتغير موقعها.
أهداف الدرس:

• ان تصف موقع جسم ما بالنسبة للأجسام الأخرى.

أولاً: تأملی الصورة جيداً ثم جاوبی على الاسئلة:



ماموقع السيارة بالنسبة للطاولة ؟

.....

ماموقع الكرسي بالنسبة للطاولة ؟

.....

ماموقع الكرة بالنسبة للطاولة ؟

.....

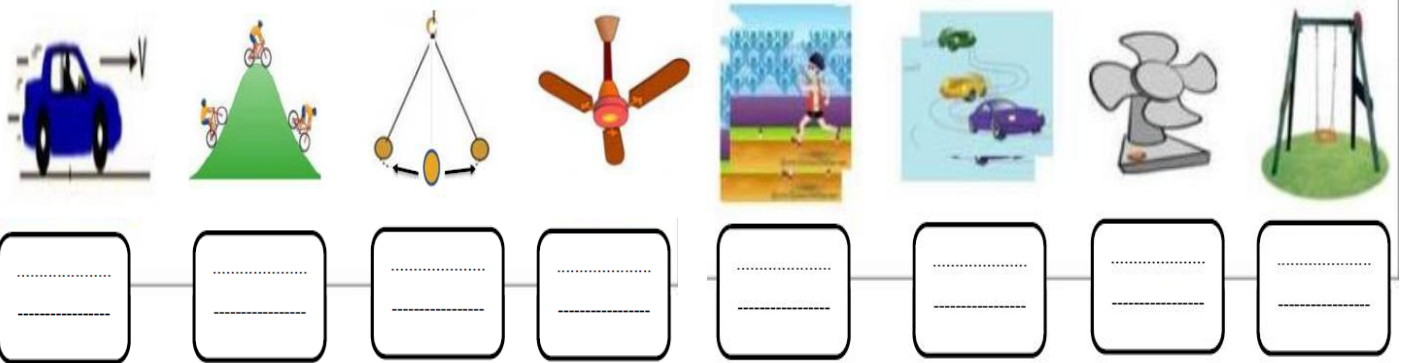
ماموقع الكتاب بالنسبة للطاولة ؟

.....

*** أكتب الكلمات التي ساعدتك على تحديد الموقع .

..... / / / / / /

ثانياً: اكتبی نوع الحركة المناسبة تحت الصورة:



.....
.....

.....
.....

.....
.....

.....
.....

.....
.....

.....
.....

.....
.....

.....
.....

(ج) السرعة

(ب) الحركة

(أ) الموقع

ثالثاً: أكملی الفراغ بالكلمة المناسبة:

بين _____ إذا كان الشيء في الأمام أو الخلف أو في الأعلى أو في الأسفل.

يتغير موقع الأشياء عند _____.

هي العجلة أو البطء الذي تتحرك به الأجسام. _____



الاسم:

الصف الأول / شعبة:

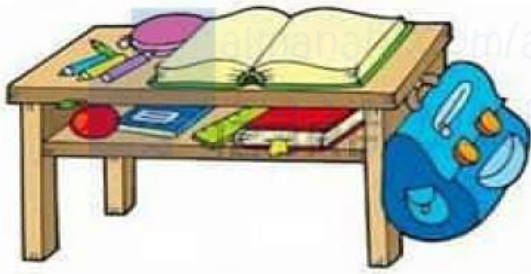
التاريخ:

درس: الموقع والحركة
ورقة عمل
الفريق الأزرق

❖ الفكرة الرئيسية: يمكن للأجسام ان تتحرك بطرق عدة وبسرعات مختلفة وتغير موقعها.
أهداف الدرس:
• ان تصف موقع جسم ما بالنسبة للأجسام الأخرى.

(يمين - يسار - بين -- فوق - تحت)

أولاً: حددي موقع الاجسام التالية:



أ) التفاحة _____ اقلام التلوين.

ب) الطاولة _____ الحقيبة.

ت) الكتاب الأخضر _____ الكتاب الأحمر.

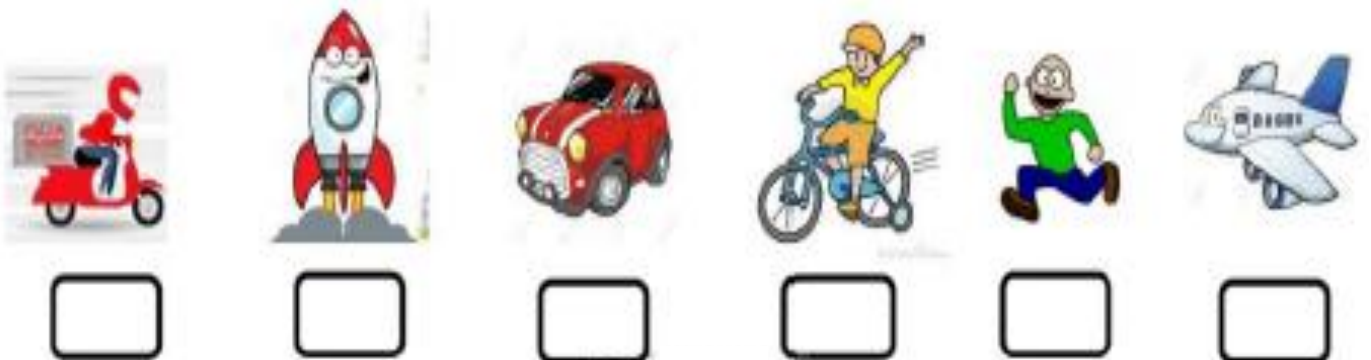
ث) المسطرة _____ الدفتر الأزرق.

ج) القلم الأصفر _____ القلم الأزرق و البنفسجي.

ثانياً: اختاري الإجابة الصحيحة لتوضيح نوع الحركة:

	منحني	متعرج	دوراني
	مستقيم	متعرج	تارجح
	دوران	منحني	متعرج
	منحني	دوراني	متعرج

ثالثاً: رتبي السرعات من الأكثر سرعة للأقل سرعة:





الاسم:

الصف الأول / شعبة:

التاريخ:

درس: الموقع والحركة

ورقة عمل

الفريق الاحمر

❖ الفكرة الرئيسية: يمكن للأجسام ان تتحرك بطرق عدة وبسرعات مختلفة وتغير موقعها.

أهداف الدرس:

ان تصف موقع جسم ما بالنسبة للأجسام الاخرى

أولاً: حوطي الكلمة المناسبة:



- 1- الفيل يقع (خلف – أمام) الزرافة .
- 2- القرد يوجد (فوق – تحت) الشجرة .
- 3- الزرافة على (يمين - يسار) الغزال .
- 4- الاسد يقع (بين – يسار) القرد و الغزالة .
- 5- الأزهار على (يمين – يسار) الزرافة .



يقف الولد (يسار – يمين) البنت.



يمين الزحليقة

يمين الزحليقة

1. نصف موقع الفتاة رقم 1 بأنها في

أسفل الزحليقة أعلى الزحليقة

2. نصف موقع الفتى رقم 2 بأنه في

أسفل الزحليقة أعلى الزحليقة



B

A

3. نوع الحركة على المسار A

مستقيم متعرج دائري

4. نوع الحركة على المسار B

مستقيم متعرج دائري

ثانياً: ضعي دائرة على الجسم الأكبر سرعة:

