

تم تحميل هذا الملف من موقع المناهج الإماراتية



أوراق مراجعة استعداد اختبار التقويم الثاني

موقع المناهج ← المناهج الإماراتية ← الصف الأول ← رياضيات ← الفصل الأول ← أوراق عمل ← الملف

تاريخ إضافة الملف على موقع المناهج: 2024-10-25 12:32:47

ملفات اكتب للمعلم اكتب للطالب | اختبارات الكترونية | اختبارات | حلول | عروض بوربوينت | أوراق عمل
منهج انجليزي | ملخصات وتقارير | مذكرات وبنوك | الامتحان النهائي للمدرس

المزيد من مادة
رياضيات:

التواصل الاجتماعي بحسب الصف الأول



صفحة المناهج
الإماراتية على
فيسبوك

الرياضيات

اللغة الانجليزية

اللغة العربية

التربية الاسلامية

المواد على تلغرام

المزيد من الملفات بحسب الصف الأول والمادة رياضيات في الفصل الأول

اختبار التقويم الأول الوحدة الأولى

1

مذكرة الوحدة الثالثة استراتيجيات الجمع حتى 20

2

كتاب الطالب المجلد الأول

3

أوراق عمل خطة علاجية للمادة

4

أسئلة اختبار التقويم الأول

5

هيا يا صديقي المتميز .. ركز جيداً على الجمل التالية واكتب العدد المتبقي؟



رسمت نورة في لوحاتها 9



ومن ثم مسحت هند منها 4



فكم

بقي ---

فكم

في البحيرة 8



خرجت منها 5



فكم بقي في البحيرة؟

بقي ---



كان في الثلاجة 8



تناولت منها فاطمة 5



فما عدد الباقية؟

بقي ---



كان لدى أحمد 7



أكل منها 4




فما عدد الباقية؟

بقي ---

ضعي دائرة حول رمز الإجابة الصحيحة فيما يلي:

1. أي جمل الأعداد تعبر عن الشكل؟



a) $3 - 3 = 0$

b) $8 - 3 = 5$

c) $3 + 5 = 8$

2. ضعي دائرة حول الصواب أو الخطأ

$8 - 8 = 8$

خطأ

صواب

3. كم عدد الحيوانات الواقفة بلا حراك



a) 3

b) 4

c) 5

ضعي دائرة حول رمز الإجابة الصحيحة فيما يلي:


4. أوجدني ناتج طرح

$$10 - 4$$

a) 4

b) 10

c) 6



$$5 - 0 =$$

5. اطرحي

a) 5

b) 0

c) 2

6. اطرحي

6

- 5

a) 6

b) 5

c) 1

7. لدى مريم 8 تفاحات. أكلت منهم 3 تفاحات. فكم عدد

التفاحات المتبقية لديها؟

a) 3

b) 8

c) 5

أوجد الجزء ، اكتب العدد

الطرح

جزء	جزء
_____	5
الكل	
10	

جزء	جزء
_____	7
الكل	
10	

جزء	جزء
_____	2
الكل	
10	

جزء	جزء
_____	8
الكل	
8	

جزء	جزء
_____	5
الكل	
6	

جزء	جزء
_____	1
الكل	
4	

جزء	جزء
_____	7
الكل	
9	

جزء	جزء
_____	2
الكل	
5	

جزء	جزء
_____	6
الكل	
9	

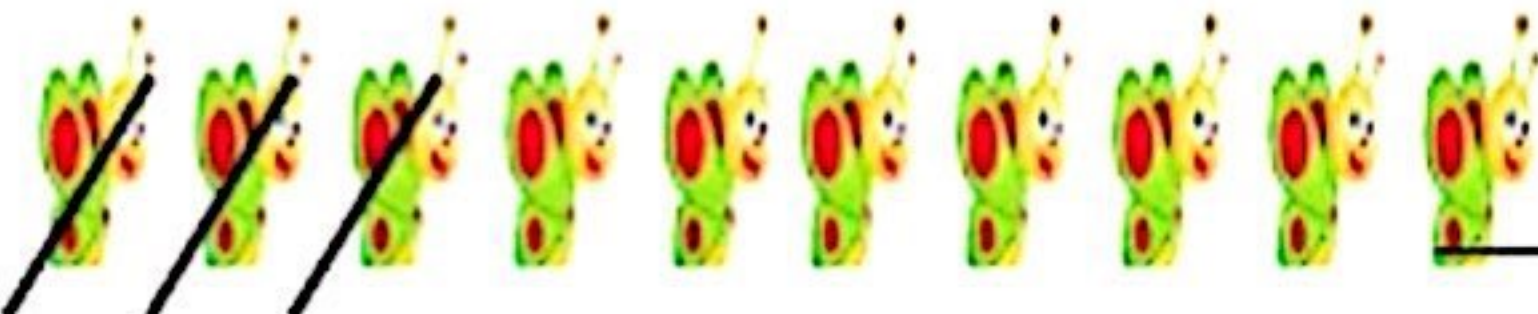

جزء	جزء
_____	5
الكل	
7	

جزء	جزء
_____	2
الكل	
7	

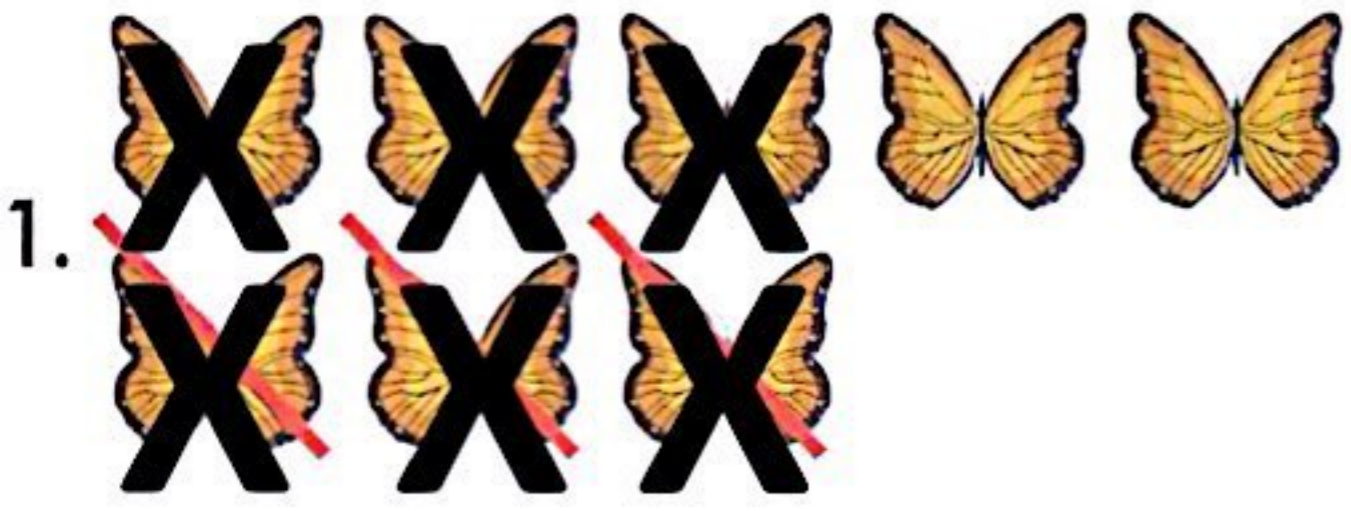
جزء	جزء
_____	1
الكل	
6	

الطرح


عبر عن الصور بجملة طرح عديدة




اكتبى جملة طرح عددية :



— ○ — ○ —




— ○ — ○ —




— ○ — ○ —



— ○ — ○ —



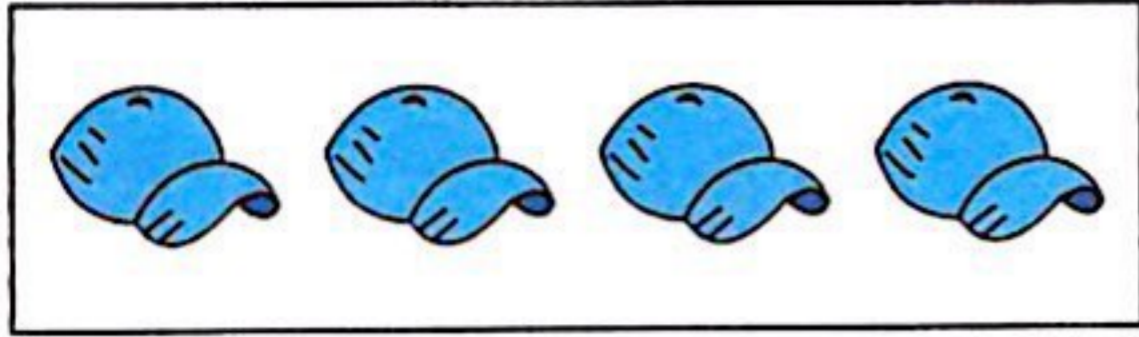
— ○ — ○ —



— ○ — ○ —

اكتبى جملة طرح عددية :

1.



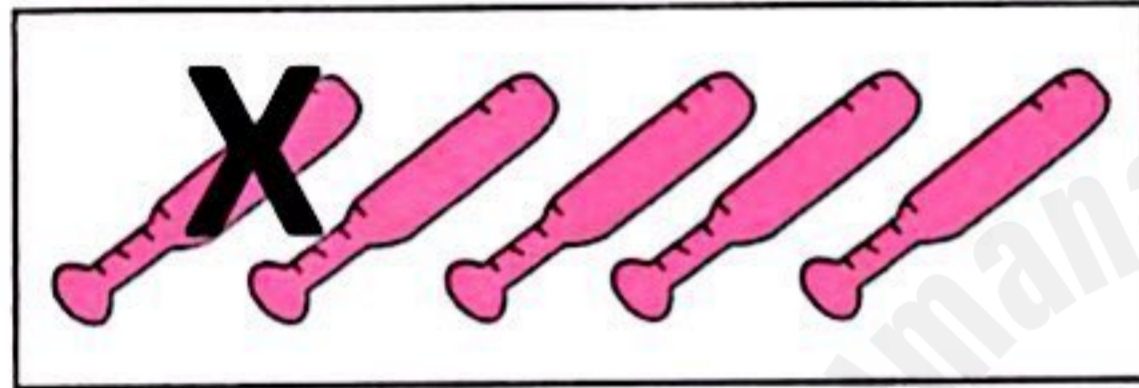
$$\underline{\quad} - \underline{\quad} = \underline{\quad}$$

2.



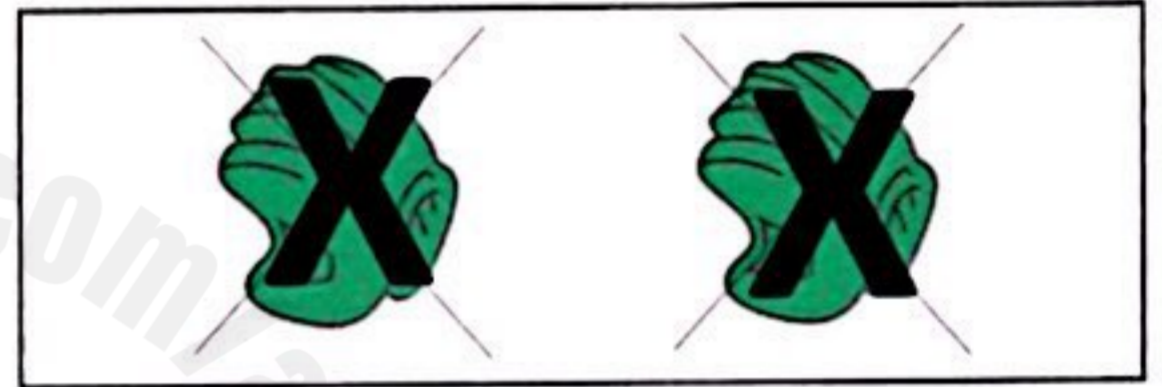
$$\underline{\quad} - \underline{\quad} = \underline{\quad}$$

3.




$$\underline{\quad} - \underline{\quad} = \underline{\quad}$$

4.



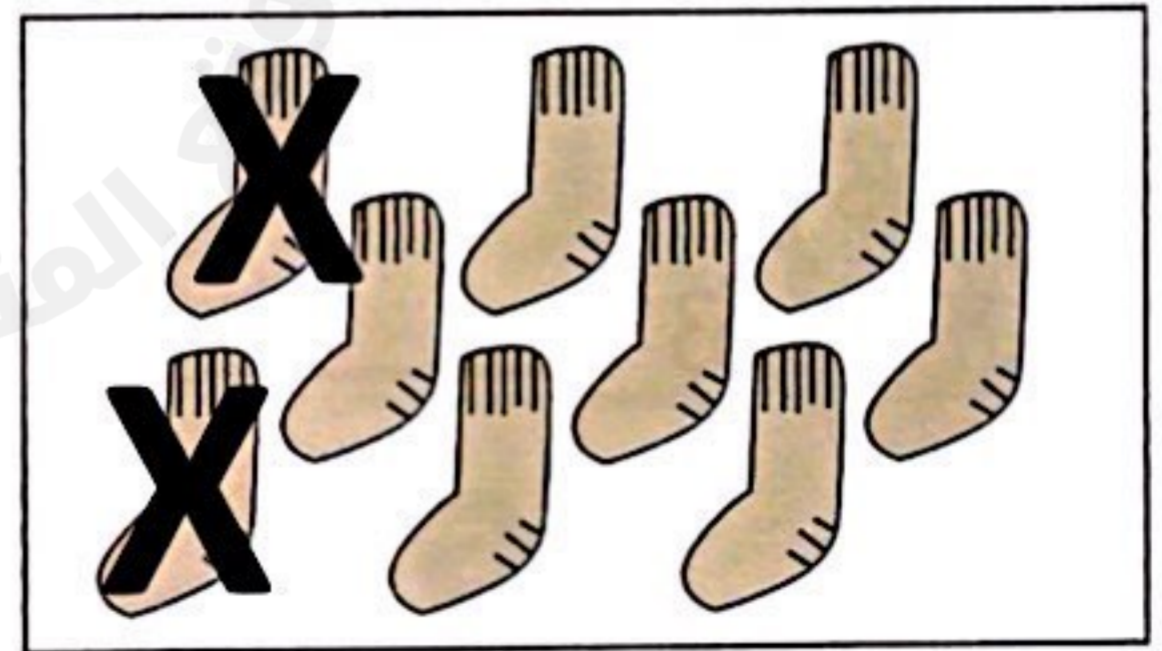
$$\underline{\quad} - \underline{\quad} = \underline{\quad}$$

5.




$$\underline{\quad} - \underline{\quad} = \underline{\quad}$$

6.



$$\underline{\quad} - \underline{\quad} = \underline{\quad}$$

اطرحي (رأسياً وأفقياً) كلاً مما يلي :



$$\begin{array}{r} 7 \\ -3 \\ \hline \end{array}$$

$$\begin{array}{r} 9 \\ -2 \\ \hline \end{array}$$

$$\begin{array}{r} 6 \\ -4 \\ \hline \end{array}$$

$$\begin{array}{r} 5 \\ -2 \\ \hline \end{array}$$

$$\begin{array}{r} 8 \\ -3 \\ \hline \end{array}$$

$$\begin{array}{r} 9 \\ -3 \\ \hline \end{array}$$

$$\begin{array}{r} 6 \\ -3 \\ \hline \end{array}$$

$$\begin{array}{r} 7 \\ -5 \\ \hline \end{array}$$

$$\begin{array}{r} 8 \\ -2 \\ \hline \end{array}$$

$$\begin{array}{r} 5 \\ -1 \\ \hline \end{array}$$

$$8 - 4 = \underline{\quad}$$

$$6 - 2 = \underline{\quad}$$

$$7 - 4 = \underline{\quad}$$

اطرحي (رأسيّاً) كلاً مما يلي :

$$\begin{array}{r} 5 \\ -3 \\ \hline \end{array}$$

$$\begin{array}{r} 6 \\ -1 \\ \hline \end{array}$$



$$\begin{array}{r} 4 \\ -3 \\ \hline \end{array}$$

$$\begin{array}{r} 3 \\ -1 \\ \hline \end{array}$$

$$\begin{array}{r} 2 \\ -0 \\ \hline \end{array}$$

$$\begin{array}{r} 1 \\ -1 \\ \hline \end{array}$$

$$\begin{array}{r} 9 \\ -2 \\ \hline \end{array}$$

$$\begin{array}{r} 7 \\ -4 \\ \hline \end{array}$$

$$\begin{array}{r} 10 \\ -5 \\ \hline \end{array}$$

$$\begin{array}{r} 8 \\ -6 \\ \hline \end{array}$$

$$\begin{array}{r} 7 \\ -2 \\ \hline \end{array}$$

$$\begin{array}{r} 6 \\ -3 \\ \hline \end{array}$$

$$\begin{array}{r} 10 \\ -2 \\ \hline \end{array}$$

$$\begin{array}{r} 8 \\ -3 \\ \hline \end{array}$$

$$\begin{array}{r} 6 \\ -4 \\ \hline \end{array}$$

$$\begin{array}{r} 5 \\ -2 \\ \hline \end{array}$$

$$\begin{array}{r} 9 \\ -6 \\ \hline \end{array}$$

$$\begin{array}{r} 4 \\ -1 \\ \hline \end{array}$$

1. أكتبي جملة الطرح عددية :




___ ○ ○ ___

2. أطرحي :



$$\begin{array}{r} 4 \\ - 2 \\ \hline \square \end{array}$$



$$9 - 3 = \underline{\quad}$$

اكتب جملة عددية تمثل القصة واوجد الناتج

الطرح

1. مع آدم 8 كرات ، 3 منها كرات صفراء و البقية زرقاء ، كم عدد الكرات الزرقاء لدى آدم ؟

_____ ○ _____ ○ _____

2. يوجد 6 قنادس داخل البركة ، خرج من البركة 4 قنادس ، كم عدد القنادس المتبقية في البركة ؟

_____ ○ _____ ○ _____

3. كان هناك 5 طيور في العش ، طار عصفوران ، كم عدد العصافير المتبقية في العش ؟

_____ ○ _____ ○ _____

4. تقف 7 ببغاوات على غصن الشجرة ، طارت 7 ببغاوات بعيداً ، فكم عدد الببغاوات المتبقية على الغصن ؟

_____ ○ _____ ○ _____

5. توجد 8 ثمرات من فاكهة البرتقال ، قطف سعيد 4 من ثمار البرتقال ، فكم عدد ثمرات البرتقال المتبقية على الشجرة ؟

_____ ○ _____ ○ _____

مع خالد 9 تفاحات ، أكل خالد تفاحتان ، كم عدد التفاح المتبقي ؟

_____ ○ _____ ○ _____

7. مع ياسر 4 أقلام ، أعطى اخته 3 أقلام ، كم عدد الأقلام المتبقية لدى ياسر ؟

_____ ○ _____ ○ _____