

تم تحميل هذا الملف من موقع المناهج الإماراتية



الملف ورقة عمل العد التنازلي للعشرات للطرح

[موقع المناهج](#) ← [المناهج الإماراتية](#) ← [الصف الأول](#) ← [رياضيات](#) ← [الفصل الثاني](#)

روابط مواقع التواصل الاجتماعي بحسب الصف الأول



روابط مواد الصف الأول على تلغرام

[الرياضيات](#)

[اللغة الانجليزية](#)

[اللغة العربية](#)

[التربية الاسلامية](#)

المزيد من الملفات بحسب الصف الأول والمادة رياضيات في الفصل الثاني

[كل ما يخص الاختبار التكويني لمادة الرياضيات للصف الأول يوم الأحد 9/2/2020](#)

1

[أسئلة الامتحان التكويني الأول](#)

2

[التوزيع الزمني](#)

3

[مشروع عن الترتيب التنازلي وآخر عن الجمع](#)

4

[3 اوراق عمل بعنوان \(اكتب العدد الناقص\)](#)

5



93-92
مدرسة الحكمة الخاصة
AL HIKMAH PRIVATE SCHOOL

الفصل الدراسي الثاني 2020 - 2021

الإمارات العربية المتحدة
وزارة التربية والتعليم
مدرسة الحكمة الخاصة
قسم التأسيسي

ورقة عمل مادة الرياضيات - الصف الأول

تدريس - مسج -

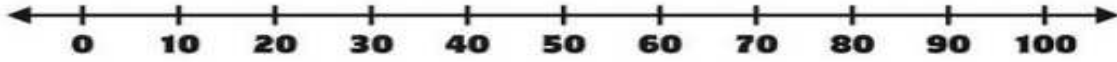
العد التنازلي للعشرات للطرح



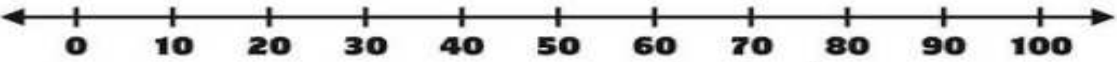
تذكر يا عبقرى!

عندما نستخدم خط الأعداد:

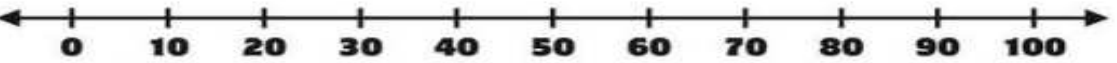
في عملية الطرح نتجه إلى العدد الأصغر (نرجع للخلف)
و في عملية الجمع نتجه إلى العدد الأكبر (نذهب للأمام)



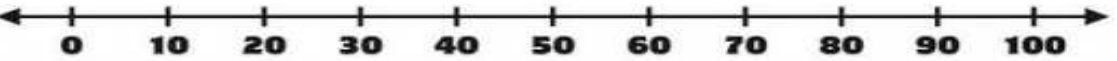
$$80 - 20 = \square$$



$$40 - 30 = \square$$



$$50 - 10 = \square$$



$$30 - 30 = \square$$



93-92
مدرسة الحكمة الخاصة
AL HIKMAH PRIVATE SCHOOL


الفصل الدراسي الثاني 2020 - 2021

الإمارات العربية المتحدة
وزارة التربية والتعليم
مدرسة الحكمة الخاصة
قسم التأسيسي

ورقة عمل مادة الرياضيات - الصف الأول

الدرس السابع:

العد التنازلي للعشرات للطرح



أنت نجم الرياضيات المتميز

هيا يا عبقرى الطرح! أوجد الناتج

$30 - 20 =$ <input type="text"/>	$40 - 30 =$ <input type="text"/>
$40 - 20 =$ <input type="text"/>	$90 - 40 =$ <input type="text"/>
$70 - 20 =$ <input type="text"/>	$80 - 50 =$ <input type="text"/>
$50 - 20 =$ <input type="text"/>	$60 - 10 =$ <input type="text"/>
$50 - 40 =$ <input type="text"/>	$50 - 30 =$ <input type="text"/>
$60 - 30 =$ <input type="text"/>	$70 - 40 =$ <input type="text"/>
$80 - 20 =$ <input type="text"/>	$80 - 30 =$ <input type="text"/>
$70 - 10 =$ <input type="text"/>	$90 - 20 =$ <input type="text"/>