

شكراً لتحميلك هذا الملف من موقع المناهج الإماراتية



أسئلة اختبار التقويم الختامي

[موقع المناهج](#) ← [المناهج الإماراتية](#) ← [الصف الأول](#) ← [رياضيات](#) ← [الفصل الثالث](#) ← [الملف](#)

التواصل الاجتماعي بحسب الصف الأول



روابط مواد الصف الأول على تلغرام

[الرياضيات](#)

[اللغة الانجليزية](#)

[اللغة العربية](#)

[التربية الاسلامية](#)

المزيد من الملفات بحسب الصف الأول والمادة رياضيات في الفصل الثالث

أسئلة الامتحان النهائي	1
أسئلة اختبار التقويم الختامي	2
أسئلة الاختبار المركزي	3
أسئلة تقويم الوحدة السابعة تنظيم التمثيلات البيانية واستخدامها	4
كراسة المعرفة الوحدة الثامنة القياس والوقت	5

اسم الطالب :
الصف الأول : ()

اختبار التقويم الختامي - مادة الرياضيات

	السؤال الأول: اختر الإجابة الصحيحة
25	

1. الشكل الذي يدل على المخروط هو:

A



B



C



2. الشكل المغلق هو

A



B



C



3. الشكل الذي له 4 أضلاع و4 رؤوس هو

A



B



C



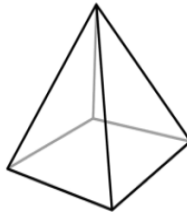
4. الجسم الذي له الوجه التالي هو



A



B




C



5. حافظة أقلام بها وجهان دائريان وليس لها رؤوس فما شكل الحافظة:

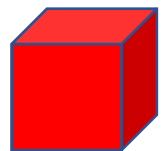
A




B




C



السؤال الثاني: اكتب عدد الأضلاع والرؤوس:



.....
.....



.....
.....




.....
.....

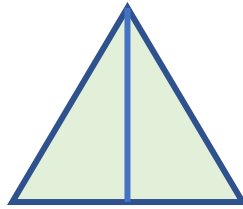
السؤال الثالث: ارسم خطوط مستقيمة لعرض الأجزاء المتساوية:



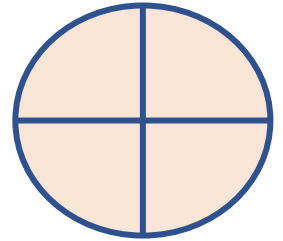
السؤال الرابع: اكتب عدد الأجزاء المتساوية فيما يلي:



.....



.....



.....

السؤال الخامس: ارسم الناقص من كل شكل:

نصف ناقص



ربع ناقص

