

تم تحميل هذا الملف من موقع المناهج الإماراتية



نموذج أسئلة الاختبار النهائي

موقع المناهج ← المناهج الإماراتية ← الصف الأول ← علوم ← الفصل الأول ← اختبارات ← الملف

تاريخ إضافة الملف على موقع المناهج: 14:01:30 2024-11-19

ملفات اكتب للمعلم اكتب للطالب الاختبارات الكترونية | اختبارات | حلول | عروض بوربوينت | أوراق عمل
منهج انجليزي | ملخصات وتقارير | مذكرات وبنوك | الامتحان النهائي للمدرس

المزيد من مادة
علوم:

إعداد: مجمع زايد التعليمي

التواصل الاجتماعي بحسب الصف الأول



صفحة المناهج
الإماراتية على
فيسبوك

الرياضيات

اللغة الانجليزية

اللغة العربية

التربية الاسلامية

المواد على تلغرام

المزيد من الملفات بحسب الصف الأول والمادة علوم في الفصل الأول

أسئلة اختبار نهاية الفصل الأول

1

أسئلة اختبار الوحدة الثانية النباتات تنمو وتتغير

2

مراجعة لاختبار التقويم الثاني

3

حل درس الثالث النباتات تعيش في أماكن كثيرة من الوحدة الثانية

4

أوراق عمل الوحدة الرابعة كل ما يتعلق بالحيوانات

5



United Arab Emirates

الاختبار النهائي للفصل الدراسي الأول للعام الدراسي 2024 - 2025 مادة العلوم الصف الأول الأساسي

اسم الطالب
الشعبة

رقم السؤال	درجة السؤال	درجة الطالب
السؤال الأول:	80	
السؤال الثاني	20	
المجموع	100	

مدى التحقق	نواتج التعلم
	تصنيف الكائنات إلى حية وغير حية
	أجزاء النبات ووظائفها
	مجموعات الحيوانات وخصائصها
	مراحل نمو الحيوانات

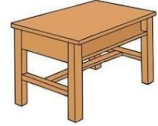


نموذج إختبار النهائي لمادة العلوم للفصل الدراسي الأول

100

السؤال الأول: حوِّط الاجابة الصحيحة : كل سؤال بـ 4 درجات

1- كائن حي



2- حاجات الحيوان




هدية

3- حيوان زاحف



4- حيوان أكل للنبات




5- حيوان يغطي جسمه القشور



6- حيوان ينتمي إلى مجموعة الحشرات



7- جزء من النبات يصنع الغذاء للنبات



8 - النبات التي تؤكل ساقه



9- الصورة المعبره عن البذور هيه



10- الصورة المعبره عن نبات حي



11- الصورة المعبرة عن الثمره



12- النبات الذي لا يحصل على ماء

يموت

ينمو

13- الحيوان الذي يغطي جسمه الحراشف



14 - الصورة المعبره عن الكائن الغير الحي



15- الصورة المعبرة عن البذور



16- حيوان يغطي جسمه الريش



17- الحيوان البرمائي

الغراب

التمساح

الضفدع

18- تتنفس الأسماك بواسطة

الأنف

الخياشيم

الرأتين

19- القطة من مجموعه

الثديات

البرمائيات

الطيور

20- عدد أرجل الحشرات

3

6

2

السؤال الثاني: صل بالإجابة الصحيحة حسب خصائص الحيوانات التي تميزها



1

6 أرجل




2



3



4



5

السؤال الثالث:

أولاً: رتب مراحل نمو الحيوان من (1 إلى 4)



2025

2024

موقع المناهج الإلكترونية