

تم تحميل هذا الملف من موقع المناهج الإماراتية



أسئلة الاختبار التكويني الثالث

موقع المناهج ← المناهج الإماراتية ← الصف الأول ← علوم ← الفصل الثاني ← اختبارات ← الملف

تاريخ إضافة الملف على موقع المناهج: 2025-01-29 15:55:08

ملفات اكتب للمعلم اكتب للطالب | اختبارات الكترونية | اختبارات | حلول | عروض بوربوينت | أوراق عمل
منهج انجليزي | ملخصات وتقارير | مذكرات وبنوك | الامتحان النهائي للمدرس

المزيد من مادة
علوم:

التواصل الاجتماعي بحسب الصف الأول



الرياضيات



اللغة الانجليزية



اللغة العربية



التربية الاسلامية



المواد على تلغرام

صفحة المناهج
الإماراتية على
فيسبوك

المزيد من الملفات بحسب الصف الأول والمادة علوم في الفصل الثاني

عرض بوربوينت درس فصل الربيع

1

عرض بوربوينت مراجعة درس أماكن صالحة للعيش

2

عرض بوربوينت درس تغيرات الطقس

3

عرض بوربوينت مراجعة درس ماذا يوجد في السماء

4

أسئلة اختبار نهاية الفصل

5



الاختبار التكويني الثالث الفصل الدراسي الثاني للصف الأول في مادة العلوم



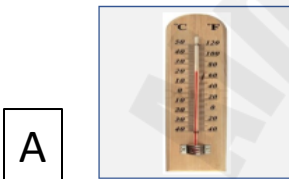
اسمي : الصف الأول /

حوظ الإجابة الصحيحة ..

1- أقرب نجم للأرض هو



2- جهاز يستخدم لمراقبة النجوم



3- خط وهمي تدور حوله الأرض

A القمر

B خط الأعداد

C المحور

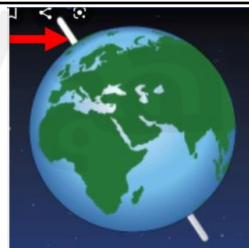
4- تبدو النجوم صغيرة لأنها

A قريبة جدا

B بعيدة جدا

C صغيرة الحجم

5- يشير السهم الأحمر الى



A المحور

B المحيط

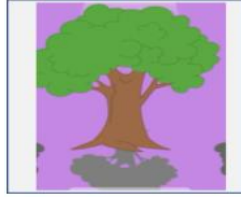
C النجوم

6 - عندما تكون الشمس مرتفعة يتكون الظل التالي

A



B



C



7- يحدث الليل والنهار بسبب

A دوران الأرض حول محورها

B دوران الأرض حول الشمس

C دوران الشمس حول الأرض



8- تحتاج الأرض لإكمال دورتها حول نفسها

A 24 ساعة

B 15 ساعة

C 12 ساعة


9- اجسام لامعة في السماء ليلا

A النجوم

B القمر

C الكواكب

10- التجربة في الصورة تبين



A تكون الظل

B الفصول الأربعة

C الليل والنهار