

تم تحميل هذا الملف من موقع المناهج الإماراتية



almanahj.com/ae



الملف أسئلة الامتحان النهائي الالكتروني بريدج

[موقع المناهج](#) ⇨ [المناهج الإماراتية](#) ⇨ [الصف العاشر العام](#) ⇨ [رياضيات](#) ⇨ [الفصل الثالث](#)

روابط مواقع التواصل الاجتماعي بحسب الصف العاشر العام



روابط مواد الصف العاشر العام على تلغرام

[الرياضيات](#)

[اللغة الانجليزية](#)

[اللغة العربية](#)

[التربية الاسلامية](#)

المزيد من الملفات بحسب الصف العاشر العام والمادة رياضيات في الفصل الثالث

[أسئلة الامتحان النهائي الورقي بريدج](#)

1

[حل أسئلة الاختبار التحريبي](#)

2

[أسئلة نموذج تدريبي](#)

3

[أسئلة الاختبار التحريبي الأول](#)

4

[حل أسئلة اختبار وزارتي تحريبي](#)

5

A spinner numbered 1 through 10 is spun. Find the probability that the number spun is a 5 given that the number spun was an odd number.

تم تدوير قرص دوار مرقم من 1 إلى 10. أوجد احتمال أن العدد الذي تم تدويره هو 5، علماً بأن العدد الذي تم تدويره كان عدداً فردياً.

- $\frac{1}{5}$
- $\frac{4}{10}$
- $\frac{1}{10}$
- $\frac{5}{10}$

تم تحميل هذا الملف من  
موقع المناهج الإماراتية

alManahj.com/ae

.a

.b

.c

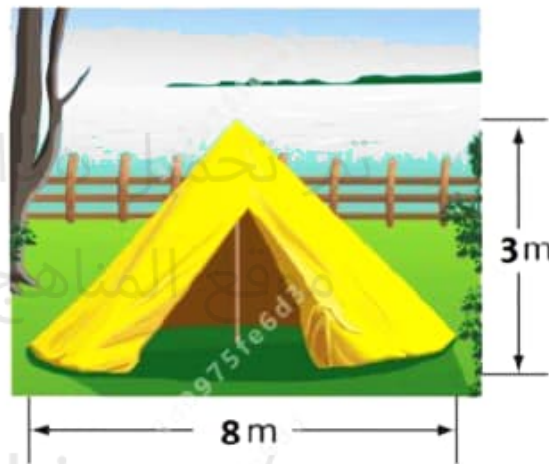
.d

A conical tent is shown below.

موضح أدناه خيمة مخروطية الشكل.

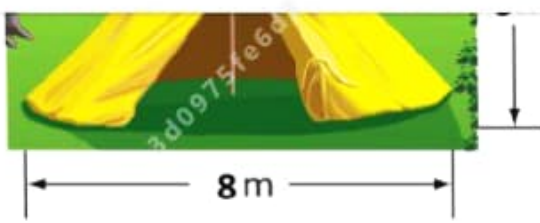
Find the lateral area of the cone.

أوجد المساحة الجانبية للخيمة.



الملف من  
المناهج الإماراتية  
alManahj.com/ae

$L = 32\pi \text{ m}^2$



$L = 32\pi \text{ m}^2$

$L = 20\pi \text{ m}^2$

$L = 64\pi \text{ m}^2$

$L = 16\pi \text{ m}^2$

تم تحميل هذا الملف من  
موقع المناهج الإماراتية

alManahj.com/ae

.a

.b

.c

.d

What is the probability that a phone number using the numbers 7, 7, 7, 7, 2, 2, 6 will be 622 - 7777?

رقم هاتف يحتوي على الأعداد 7, 7, 7, 7, 2, 2, 6. ما احتمال أن يكون يكون الرقم هو 622 - 7777؟

$\frac{1}{140}$

$\frac{1}{5040}$

$\frac{1}{720}$

$\frac{1}{105}$

تم تحميل هذا الملف من  
موقع المناهج الإماراتية

alManahj.com/ae

.a


.b

.c

.d

P1: احتمالات الأحداث البسيطة 1

تم رمي حجر نرد، أوجد احتمال ظهور عدد أقل  
من 3.



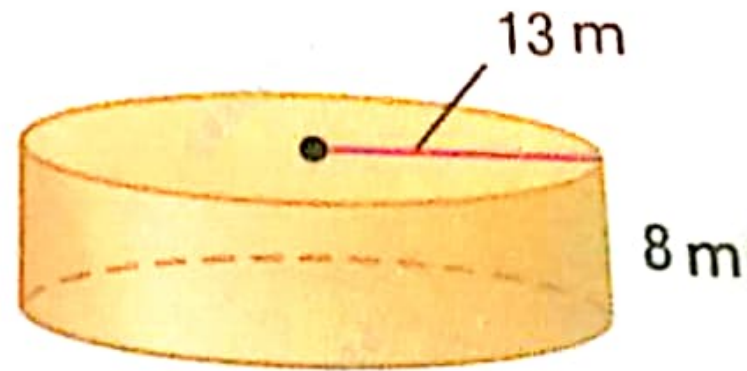
تحميل هذا الملف من  
موقع المناهج الإماراتية

alManahj.com/ae

.a

.b

.c



$208\pi \text{ m}^2$

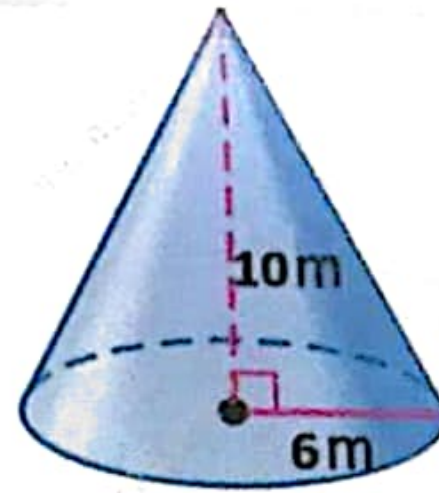
$208 \text{ m}^2$

$1352\pi \text{ m}^2$

$104\pi \text{ m}^2$

تم تحميل هذا الملف من  
موقع المناهج الإماراتية

alManahj.com/ae



$360\pi \text{ m}^3$

$60\pi \text{ m}^3$

$120\pi \text{ m}^3$

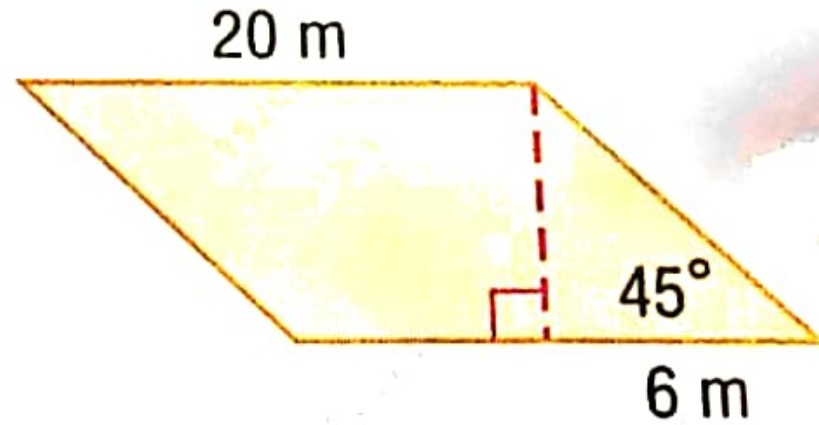
$30\pi \text{ m}^3$

تم تحميل هذا الملف من

موقع المناهج الإماراتية

alManahj.com/ae





$36 \text{ m}^2$

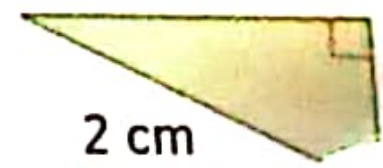
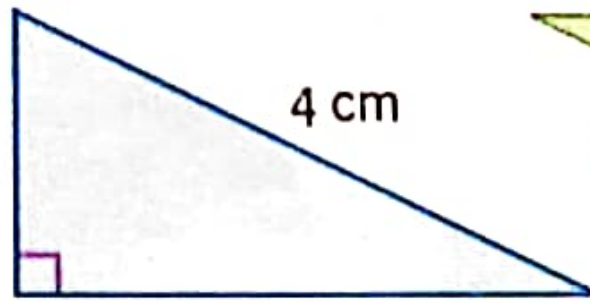
$6\sqrt{2} \text{ m}^2$

$120 \text{ m}^2$

$26 \text{ m}^2$

تم تحميل هذا الملف من  
موقع المناهج الإماراتية

alManahj.com/ae



$12 \text{ cm}^2$

$6 \text{ cm}^2$

$3 \text{ cm}^2$

$8 \text{ cm}^2$

تم تحميل هذا الملف من

موقع المناهج الإماراتية

alMarahj.com/ae

A spinner numbered 1 through 10 is spun. Find the probability that the number spun is a 5 given that the number spun was an odd number.

دوار مرقم من 1 إلى 10. أوجد

ع، علماً

ن العدد اسب

الذي تم تدويره كان عدداً فردياً.

$$\frac{5}{10}$$

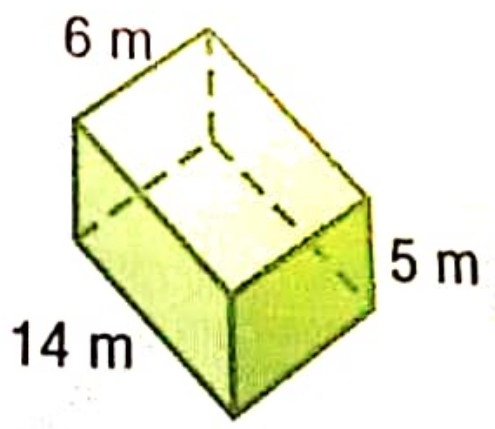
$$\frac{1}{5}$$

$$\frac{1}{10}$$

$$\frac{4}{10}$$

تم تحميل هذا الملف من  
موقع المناهج الإماراتية

[alManahj.com/ae](http://alManahj.com/ae)



Next Question

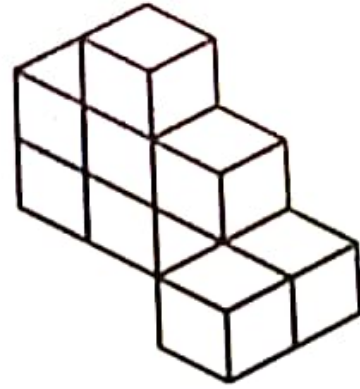
- 368 m<sup>3</sup>
- 184 m<sup>3</sup>
- 25 m<sup>3</sup>

تم تحميل هذا الملف من


موقع المناهج الإماراتية

alManahj.com/ae

420 m<sup>3</sup>



○



○




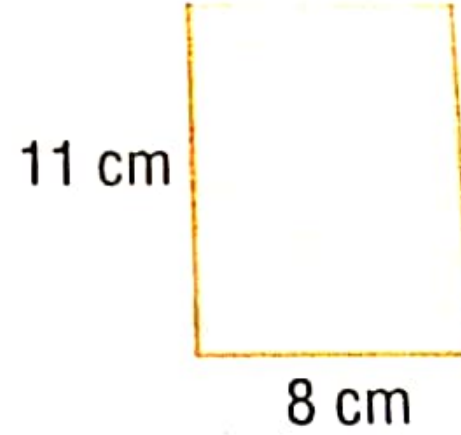
تم تحميل هذا الملف من

موقع المناهج الإماراتية

[alManahj.com/ae](http://alManahj.com/ae)

○





88 cm<sup>2</sup>

تم تحميل هذا الملف من

موقع المناهج الإماراتية

alManahj.com/ae

19 cm

44 cm<sup>2</sup>

38 cm

أوجد احتمال ظهور عدد أقل  
A die is rolled, find the probability  
of rolling a number less than 3.

من 3.

$\frac{1}{6}$

$\frac{1}{3}$

$\frac{5}{6}$

$\frac{2}{3}$

تم تحميل هذا الملف من  
موقع المناهج الإماراتية

alManahj.com/ae



A football team brings a 30 L cooler of water to their games. How many 250 mL cups can the team drink per game?

أحد فرق كرة القدم في المباريات مبرد ماء سعته 30 لتر. يمكن أن يشرب الفريق في المباراة؟

144

تم تحميل هذا الملف من

$\frac{25}{3}$

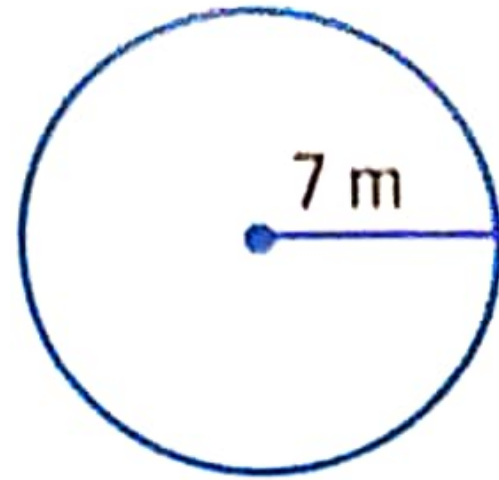
موقع المناهج الإماراتية

7500

alManahj.com/ae

120





49 m<sup>2</sup>

تم تحميل هذا الملف من  
موقع المناهج الإماراتية

44 m<sup>2</sup>

[alManahj.com/ae](http://alManahj.com/ae)

22 m<sup>2</sup>

154 m<sup>2</sup>

Find 5P3.

أوجد 5P3 .

60

10

15

20

تم تحميل هذا الملف من

موقع المناهج الإماراتية

alManahj.com/ae

Two dice are rolled. What is the probability that the sum of the numbers is 2 or 4?

عند رمي حجرين نرد، ما احتمال الحصول على عددين مجموعهما 2 أو 4؟

- $\frac{1}{3}$
- $\frac{1}{12}$
- $\frac{1}{9}$
- $\frac{1}{6}$

تم تحميل هذا الملف من موقع المناهج الإماراتية  
alManahj.com/ae

.a  
.b  
.c  
.d

Task Manager  
File Options View