

تم تحميل هذا الملف من موقع المناهج الإماراتية



almanahj.com/ae



الملف حل أسئلة الامتحان النهائي الالكتروني بريدج

موقع المناهج ← المناهج الإماراتية ← الصف العاشر العام ← رياضيات ← الفصل الثالث

روابط مواقع التواصل الاجتماعي بحسب الصف العاشر العام



روابط مواد الصف العاشر العام على تلغرام

[الرياضيات](#)

[اللغة الانجليزية](#)

[اللغة العربية](#)

[التربية الاسلامية](#)

المزيد من الملفات بحسب الصف العاشر العام والمادة رياضيات في الفصل الثالث

[أسئلة الامتحان النهائي الالكتروني بريدج](#)

1

[أسئلة الامتحان النهائي الورقي بريدج](#)

2

[حل أسئلة الاختبار التحريبي](#)

3

[أسئلة نموذج تدريبي](#)

4

[أسئلة الاختبار التحريبي الأول](#)

5



إس الستخدم:

إسم الطالب:

المجموعة:

طريقة حل الاختبار:

الكلية:

اسم المقرر:

المنطقة:

Grade10

G10GEN.MTH - Mathematics G10GEN

AL DAHMAA (354AD) الدهماء

الإمتحان:

نوع الاختبار:

العلامة المكتسبة:


الوقت المستغرق:

الصف 10 عام - الرياضيات - بريدج - الفصل الدراسي الثا...

Final

mins, 3 secs 44

53/80



تم تحميل هذا الملف من
موقع المناهج الإماراتية

alManahj.com/ae

Find 5P3.

أوجد 5P3 .

المخرجات التعليمية المرتبطة

MAT.4.03.02.003 ◦

10

.a

15

.b

60

.c

20

.d

تم تحميل هذا الملف من
موقع المناهج الإماراتية

alManahj.com/ae

A football team brings a 30 L cooler of water to their games. How many 250 mL cups can the team drink per game?
 يحضر أحد فرق كرة القدم في المباريات ميّرد ماء سعة 30 L. كم كوبًا سعة 250 mL يمكن أن يشرب الفريق في المباراة؟

المخرجات التعليمية المرتبطة

MAT.3.05.04.002 ◦

25

تم تحميل هذا الملف من

موقع المناهج الإماراتية

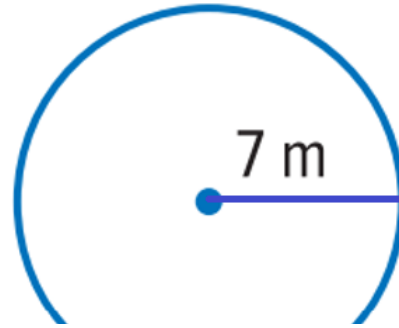
7500

alManahj.com/ae

120
144

Find the area of a circle with a radius of 7 m.

أوجد مساحة دائرة نصف قطرها 7 m.



المخرجات التعليمية المرتبطة

MAT.3.11.04.011 ◦

تم تحميل هذا الملف من

موقع المناهج الإماراتية

alManahj.com/ae

44 m²

.a

?? m²

.b

154 m²

.c

49 m²

.d



تم تحميل هذا الملف من
موقع المناهج الإماراتية

alManahj.com/ae

Find the perimeter of the rectangle.

أوجد محيط المستطيل.

11 cm



المخرجات التعليمية المرتبطة

MAT.3.11.04.003 ◦

تم تحميل هذا الملف من

موقع المناهج الإماراتية

alManahj.com/ae

88 cm²

19 cm

28 cm


.a

.b

.c

11 cm²

.d



تم تحميل هذا الملف من
موقع المناهج الإماراتية

alManahj.com/ae

Choose the top view of the solid.

حدد المنظور العلوي للمجسم.



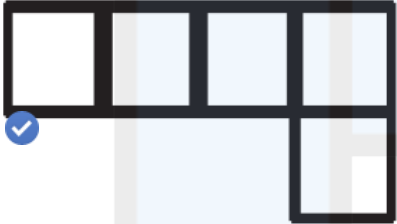
المخرجات التعليمية المرتبطة

MAT.3.11.04.001 ◦

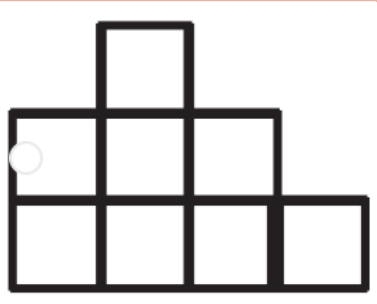
تم تحميل هذا الملف من

موقع المناهج الإماراتية

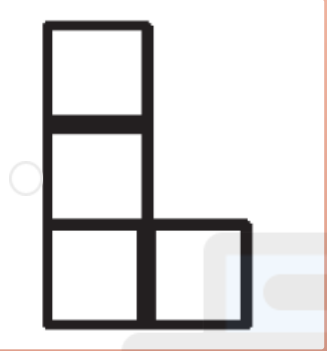
alManahj.com/ae



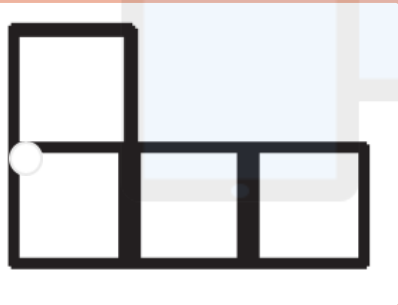
.a



.b



.c



.d

تم تحميل هذا الملف من
موقع المناهج الإماراتية

alManahj.com/ae

How many distinguishable ways are there to arrange the letters in the word "bubble"?

كم عدد الطرق المميزة لترتيب الحروف في كلمة "bubble"؟

المخرجات التعليمية المرتبطة

MAT.4.03.02.003 ◦

29

.a

250

.b

29

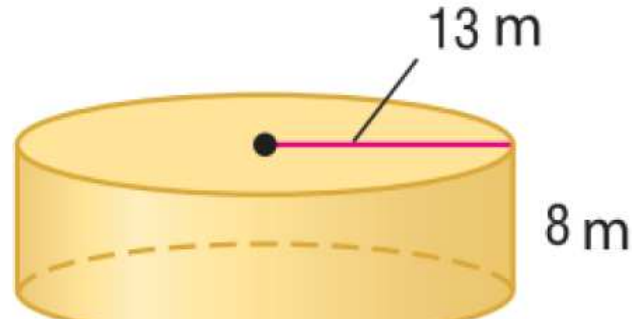
.c

120

.d

Find the lateral area of the cylinder.

أوجد المساحة الجانبية للأسطوانة.



المخرجات التعليمية المرتبطة

MAT.3.11.04.004 ◦

تم تحميل هذا الملف من

موقع المناهج الإماراتية

alManahj.com/ae

$194\pi \text{ m}^2$

.a

$1352\pi \text{ m}^2$


.b

$208\pi \text{ m}^2$

.c

298 m²

.d

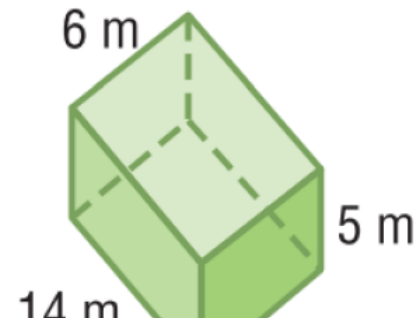


تم تحميل هذا الملف من
موقع المناهج الإماراتية

alManahj.com/ae

Find the volume of the prism.

أوجد حجم المنشور.



المخرجات التعليمية المرتبطة

MAT.3.11.04.007 ◦

تم تحميل هذا الملف من

موقع المناهج الإماراتية

alManahj.com/ae

420 m³

25 m³


258 m³

.a

.b

.c

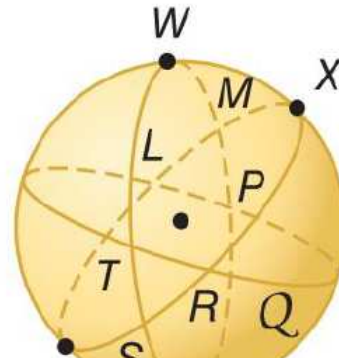
134 m³



تم تحميل هذا الملف من
موقع المناهج الإماراتية

alManahj.com/ae

Name a segment containing point S . عيّن قطعة مستقيمة تحتوي على النقطة S .



المخرجات التعليمية المرتبطة

MAT.3.11.04.013 ◦

تم تحميل هذا الملف من

موقع المناهج الإماراتية

alManahj.com/ae

\overline{WX}


.a

\overline{ML}

.b

\overline{TY}

.c

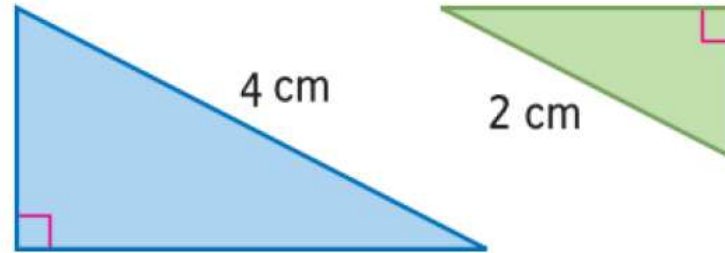


تم تحميل هذا الملف من
موقع المناهج الإماراتية

alManahj.com/ae

In the similar figures, find the area of the green figure.

في الأشكال المتشابهة، أوجد مساحة الشكل الأخضر.



المخرجات التعليمية المرتبطة

MAT.3.11.04.016 ◦

تم تحميل هذا الملف من

موقع المناهج الإماراتية

alManahj.com/ae

cm^2

12 cm^2

6 cm^2


.a

.b

.c

? cm²

.d



تم تحميل هذا الملف من
موقع المناهج الإماراتية

alManahj.com/ae

Abeer is choosing one of 4 colleges,
3 majors, 2 minors. Find the number
of possible outcomes.

تختار عبير واحدة من بين 4 كليات و 3
تخصصات أساسية و 2 من التخصص الفرعي.
أوجد عدد النتائج المحتملة.

المخرجات التعليمية المرتبطة

MAT.4.03.02.002 ◦

6

.a

8

.b

24

.c

12

.d

تم تحميل هذا الملف من

موقع المناهج الإماراتية

alManahj.com/ae

تم رمي حجر نرد، أوجد احتمال ظهور عدد أقل من 3.
 A die is rolled, find the probability of rolling a number less than 3.

1

.a

5

.b

1

.c

2

.d

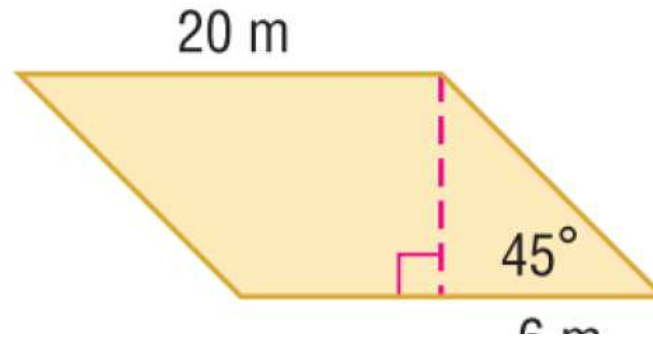
تم تحميل هذا الملف من

موقع المناهج الإماراتية

alManahj.com/ae

Find the area of the parallelogram.

أوجد مساحة متوازي الأضلاع.



المخرجات التعليمية المرتبطة

MAT.3.11.04.003 ◦

تم تحميل هذا الملف من

موقع المناهج الإماراتية

120 m²

$6\sqrt{2}$ m²

36 m²


.a

.b

.c

26 m²

.d



تم تحميل هذا الملف من
موقع المناهج الإماراتية

alManahj.com/ae

A spinner numbered 1 through 10 is spun. Find the probability that the number spun is a 5 given that the number spun was an odd number.

تم تدوير قرص دوار مرقم من 1 إلى 10. أوجد احتمال أن العدد الذي تم تدويره هو 5، علماً بأن العدد الذي تم تدويره كان عدداً فردياً.

المخرجات التعليمية المرتبطة

MAT.4.03.02.012 ◦

$$\frac{4}{10}$$

.a

$$\frac{1}{10}$$

.b

$$\frac{5}{10}$$

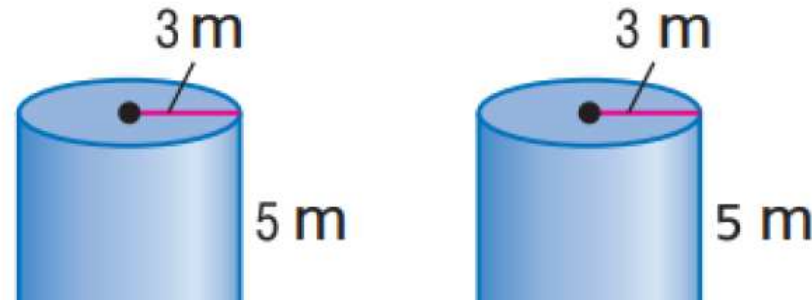
.c

$$\frac{1}{5}$$

.d

What is the scale factor of the similar figures?

ما عامل مقياس الأشكال المتشابهة؟



المخرجات التعليمية المرتبطة

MAT.3.11.04.016 ◦

تم تحميل هذا الملف من

موقع المناهج الإماراتية

1:1

5


5:1

.a

.b

.c

alManahj.com/ae



تم تحميل هذا الملف من
موقع المناهج الإماراتية

alManahj.com/ae

Two dice are rolled. What is the probability that the sum of the numbers is 2 or 4?

عند رمي حجرين نرد. ما احتمال الحصول على عددين مجموعهما 2 أو 4؟

المخرجات التعليمية المرتبطة

MAT.4.03.02.014 ◦

1
5

.a

1
6

.b

1
12

.c

1
5

.d

What is the probability that a phone number using the numbers 7, 7, 7, 7, 2, 2, 6 will be 622 – 7777?

رقم هاتف يحتوي على الأعداد 7, 7, 7, 7, 2, 2, 6 ما احتمال أن يكون يكون الرقم هو 622 – 7777؟

المخرجات التعليمية المرتبطة

MAT.4.03.02.003 ◦

$$\frac{1}{5040}$$

.a

$$\frac{1}{720}$$

.b

$$\frac{1}{140}$$

.c

$$\frac{1}{105}$$

.d

The dance committee consisted of 9 students. The committee will select 3 officers at random. What is the probability that Majed, Fahd, and Ali are selected?

تتكون لجنة الحفل من 9 طلاب. وستختار اللجنة 3 أعضاء بشكل عشوائي. ما احتمال أن يتم اختيار ماجد وفهد وعلي؟

المخرجات التعليمية المرتبطة

MAT.4.03.02.004 ◦

$$\frac{1}{84}$$


تم تحميل هذا الملف من
موقع المناهج الإماراتية

$$\frac{1}{504}$$

alManahj.com/ae

$$\frac{1}{120}$$

$$\frac{1}{2}$$



تم تحميل هذا الملف من
موقع المناهج الإماراتية

alManahj.com/ae

A conical tent is shown below.

موضح أدناه خيمة مخروطية الشكل.

Find the lateral area of the cone.

أوجد المساحة الجانبية للخيمة.



المخرجات التعليمية المرتبطة

MAT.3.11.04.005 ◦

تم تحميل هذا الملف من

موقع المناهج الإماراتية

alManahj.com/ae

$I = 32\pi \text{ m}^2$

.a


$I = 16\pi \text{ m}^2$

.b

$I = 20\pi \text{ m}^2$

.c

$$I = 64\pi \text{ m}^2$$

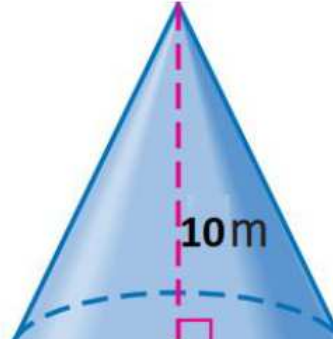


تم تحميل هذا الملف من
موقع المناهج الإماراتية

alManahj.com/ae

Find the volume of the cone.

أوجد حجم المخروط.



المخرجات التعليمية المرتبطة

MAT.3.11.04.010 ◦

تم تحميل هذا الملف من

موقع المناهج الإماراتية

$120\pi \text{ m}^3$

.a

$60\pi \text{ m}^3$


.b

$260\pi \text{ m}^3$

.c

$29\pi \text{ m}^3$

.d



تم تحميل هذا الملف من
موقع المناهج الإماراتية

alManahj.com/ae