

تم تحميل هذا الملف من موقع المناهج الإماراتية



تدريبات فيزياء حول الوزن والقوة المعيقة - الملف الثالث

موقع المناهج ← المناهج الإماراتية ← الصف العاشر العام ← فيزياء ← الفصل الثاني ← ملفات متنوعة ← الملف

تاريخ إضافة الملف على موقع المناهج: 09:45:37 2025-02-14

ملفات اكتب للمعلم اكتب للطالب الاختبارات الكترونية | اختبارات | حلول | عروض بوربوينت | أوراق عمل
منهج انجليزي | ملخصات وتقارير | مذكرات وبنوك | الامتحان النهائي للمدرس

المزيد من مادة
فيزياء:

التواصل الاجتماعي بحسب الصف العاشر العام



صفحة المناهج
الإماراتية على
فيسبوك

الرياضيات

اللغة الانجليزية

اللغة العربية

التربية الاسلامية

المواد على تلغرام

المزيد من الملفات بحسب الصف العاشر العام والمادة فيزياء في الفصل الثاني

كتاب دليل المعلم

1

أسئلة وتدريبات درس القوى والحركة

2

تدريبات في درس القوى والحركة

3

تدريبات الملف الأول - القوى والحركة

4

أسئلة الامتحان النهائي الورقي بريدج

5

أسئلة

تدريبات

فيزياء


الوزن والقوة

10TH - GENERAL

عاشر - عام

4

$$F = ma$$



عندك سؤال وحابب إجابة؟ تواصل معنا على التيلغرام




Telegram

<https://t.me/YourPhysicsCompass>



Your
Physics
Compass



السؤال

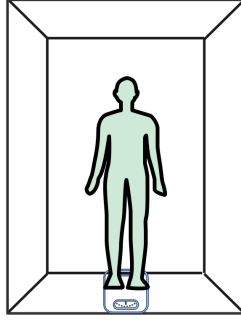
Describe the apparent weight for an object accelerating vertically upward or downward (starts from rest, reaches a constant speed, then comes to a stop)

يصف الوزن الظاهري لجسم يتسارع رأسيًا لأعلى أو لأسفل (يبدأ من السكون يتحرك بسرعة ثابتة - يتباطأ حتى يصل إلى السكون)

١

If your mass is 75.0 kg and you are standing on a household scale inside an elevator that starts from rest, accelerates upward at 2.00 m/s^2 for 2.0 s , and then continues at a constant speed. Will the scale reading during acceleration be greater than, equal to, or less than the scale reading when the elevator is at rest?

إذا كان كتلتك 75.0 kg . وتقف على ميزان منزلي داخل مصعد. بادية من السكون، يتسارع المصعد إلى أعلى بمقدار 2.00 m/s^2 لمدة 2.0 s ثم يستمر بسرعة ثابتة. هل تكون قراءة الميزان أثناء التسارع أكبر من قراءة الميزان عندما يكون المصعد في حالة السكون أو مساوية لها أو أقل منها؟



٢

When the elevator goes down with uniform acceleration (1.2 m/s^2), how does the person standing on a scale inside the elevator feel?

أي العلاقات التالية تعبر عن العلاقة بين القوة والتسارع حسب الرسم البياني الموضح

سيشعر أنه أخف وزناً
lighter. feels He

سيشعر أنه أثقل وزناً
heavier. feels He

سيشعر بانعدام وزنه.
weightless. feels He

لن يشعر بأي تغيير.
difference. no feels He

٣	
Salem weighs (840N) and has a mass of (84Kg) on Earth. What would its weight and mass be on the moon? ($g_{(Earth)} > g_{(Moon)}$)	يزن سالم (840N) وكتلته (84Kg) على سطح الأرض. كم سيكون وزنه وكتلته على سطح القمر؟ ($g_{(Earth)} > g_{(Moon)}$)
<p style="text-align: center;">الوزن: أقل من 840N Less than 840N الكتلة: تساوي من 84kg Equal to 84kg</p>	<p style="text-align: center;">الوزن: أكبر من 840N Greater than 840N الكتلة: أكبر من 84kg Greater than 84kg</p>
<p style="text-align: center;">الوزن: تساوي 840N Equal to 840N الكتلة: تساوي من 84kg Equal to 84kg</p>	<p style="text-align: center;">الوزن: أقل من 840N Less than 840N الكتلة: أقل من 84kg Less than 84kg</p>
٤	
A person who normally weighs 700 N is riding in a rather swift elevator that is moving at a constant speed of 8.9 m/s. If this person is standing on a bathroom scale inside the elevator, what would the scale read?	شخص وزنه 700N يركب مصعد يتحرك بسرعة ثابتة 9.8m/s. إذا وقف الشخص على ميزان داخل المصعد، ما قراءة الميزان؟
<p style="text-align: center;">سيشعر أنه أخف وزناً Exactly 700N</p>	<p style="text-align: center;">سيشعر أنه أثقل وزناً More than 700N</p>
<p style="text-align: center;">قد يكون أكثر أو أقل من 700 نيوتن، اعتماداً على ما إذا كان المصعد يصعد أم ينزل It could be more or less than 700 N, depending on whether the elevator is going up or down</p>	<p style="text-align: center;">لن يشعر بأي تغيير. Less than 700N</p>

السؤال	
Classifies forces into contact forces and field forces and realizes that they result from the mutual influence of causes.	يصنّف القوى إلى قوى تلامس وقوى مجال ويدرك أنها تنتج من التأثير المتبادل بين المسببات
٥	
<p>Classify the following forces into contact forces and field forces:</p> <p>The force exerted by the Earth on the Moon</p> <p>- The force exerted by a player when throwing a ball - The force of a child pulling</p> <p>The force of air resistance on moving objects</p> <p>- The attraction of a magnet to a piece of iron - Normal force - Frictional force</p>	<p>صنّف القوى التالية إلى قوى تلامس وقوى مجال:</p> <p>القوة التي تؤثر بها الأرض في القمر - القوة التي يؤثر بها اللاعب في رمي كرة قوة سحب طفل قوة مقاومة الهواء للأجسام المتحركة فيه - جذب مغناطيس لقطعة حديد القوة العمودية قوة الاحتكاك</p>
قوى مجال	قوى تلامس

السؤال

use the characteristics of interaction pair and identify the action-reaction pairs for different situations.

يصف خواص أزواج التأثير المتبادل في مواقف مختلفة.

٦

1. Draw a free-body diagram of the forces acting on the bucket.
2. Identify an action-reaction pair in the diagram.
3. If the mass of the bucket is 5 kg what is the magnitude of the tension force in the rope?

1. ارسم مخطط القوى المؤثر في الدلو.
2. حدد زوج تأثير متبادل في الشكل.
3. إذا كانت كتلة الدلو $5kg$ ، ما مقدار قوة الشد في الحبل.

