

تم تحميل هذا الملف من موقع المناهج الإماراتية



الملف أسئلة الامتحان النهائي

[موقع المناهج](#) ← [المناهج الإماراتية](#) ← [الصف الحادي عشر](#) ← [اجتماعيات](#) ← [الفصل الثالث](#)

روابط مواقع التواصل الاجتماعي بحسب الصف الحادي عشر



روابط مواد الصف الحادي عشر على تلغرام

[الرياضيات](#)

[اللغة الانجليزية](#)

[اللغة العربية](#)

[التربية الاسلامية](#)

المزيد من الملفات بحسب الصف الحادي عشر والمادة اجتماعيات في الفصل الثالث

[نموذج الهيكل الوزاري الجديد للمسايرين العام والمتقدم](#)

1

[كتاب دليل المعلم](#)

2

[كتاب التربية الأخلاقية في العصر الرقمي](#)

3

[كتاب الطالب](#)

4

[الدليل التدريبي للمادة الفصل الثالث](#)

5

P1: من خلال القراءة التحليلية للنص، أجب عن الأسئلة التالية:

1 - 6 30.00 علامة

تعرف الجريمة الإلكترونية بأنها نشاط:

a. إجرامي يستهدف أجهزة الكمبيوتر، والشبكات المعلوماتية بقصد الإساءة للآخرين

b. تدريبي لتعليم الشباب على التعامل الصحيح مع الأجهزة والشبكات الإلكترونية

c. إيجابي لتطوير مهارات استخدام الحاسوب والتقنيات الحديثة

d. ترفيهي للتواصل مع الأصدقاء والأقارب في الأماكن القريبة أو البعيدة

الإلكترونية، سرقة البيانات المالية، وتزوير الهوية، وسرقة المعلومات الشخصية، والتجسس الإلكتروني والتدخل في الأنظمة بطريقة تعرض الشبكة للخطر ومن أمثلتها أيضاً بيع السلع غير المشروعة عبر الإنترنت وهي بذلك تُعد نشاطاً إجرامياً يستهدف أجهزة الكمبيوتر بواسطة استخدام الفيروسات، وأنواع أخرى من البرمجيات الخبيثة. ونظراً لانتشار جرائم الإلكترونية، قد نتساءل عن وقاية نفسك منها. هناك العديد من النصائح لحماية جهاز الكمبيوتر الخاص بك وبياناتك الشخصية من الجرائم الإلكترونية: منها إبقاء البرنامج ونظام التشغيل محدثين. العمل على استخدام برنامج مكافحة الفيروسات وإبقائه محدثاً، استخدام كلمات مرور قوية لا يمكن للأشخاص معرفتها، وضرورة الحرص على عدم تسجيلها في أي مكان. عدم فتح المرفقات والروابط العشوائية في رسائل البريد الإلكتروني من مُرسَل لا تعرفه. وكذلك تجنب تقديم المعلومات الشخصية عبر الهاتف أو البريد الإلكتروني إلى أي جهة إلا إذا كنتَ أمتاً وتحدث إلى الشخص المعني. راقب بياناتك المصرفية واستفسر عن أي معاملات غير مألوفة مع المصرف لاكتشاف وقوعك ضحية جريمة إلكترونية بسرعة. مرتكبو الجرائم الإلكترونية الذين يستهدفون أجهزة الكمبيوتر قد يصبونها ببرمجية خبيثة لإتلاف الأجهزة أو إيقافها عن العمل. وقد يستخدمون تلك البرمجية الخبيثة في حذف البيانات أو سرقتها. سرقة الهوية في ازدياد لا يتوقف، فوفقاً لتقرير حالة مرونة الأمن السيبراني لعام 2021 زادت الهجمات الأمنية بنسبة 31% من 2020 إلى 2021، وزاد عدد الهجمات لكل شركة من 206 إلى 270 على أساس سنوي. وتُعد هذه الهجمات على الشركات ذات خطورة كبيرة لأنها تؤثر على الأفراد أيضاً فالعديد منهم يخزنون بيانات حساسة ومعلومات شخصية للعملاء يجعلهم معرضون للخطر. بالنسبة للأفراد والشركات، يمكن أن يكون تأثير الجريمة الإلكترونية عميقاً يتجاوز الضرر المادي إلى فقدان الثقة والإضرار بالسمعة.



السؤال التالي

P1: من خلال القراءة التحليلية للنص، أجب عن الأسئلة التالية.

6 - 4 30.00 علامة

السلوك الأمثل لحماية حسابك المالي:

- a. مراقبة بياناتك المصرفية باستمرار
- b. تغيير رقم حسابك المالي بشكل مستمر مما يعرضه للنسيان
- c. كتابة رقم حسابك المالي في مكان يسهل الوصول اليه
- d. تغيير المصرف المالي الذي تودع به أموالك

الإلكترونية، سرقة البيانات المالية، وتزوير الهوية، وسرقة المعلومات الشخصية، والتجسس الإلكتروني والتدخل في الأنظمة بطريقة تعرض الشبكة للخطر ومن أمثلها أيضاً بيع السلع غير المشروعة عبر الإنترنت وهي بذلك تُعد نشاطاً إجرامياً يستهدف أجهزة الكمبيوتر بواسطة استخدام الفيروسات، وأنواع أخرى من البرمجيات الخبيثة، ونظراً لانتشار الجرائم الإلكترونية، قد نتساءل عن وقاية نفسك منها. هناك العديد من النصائح لحماية جهاز الكمبيوتر الخاص بك وبياناتك الشخصية من الجرائم الإلكترونية: منها إبقاء البرنامج ونظام التشغيل محدثين، العمل على استخدام برنامج مكافحة الفيروسات وإبقائه محدثاً، استخدام كلمات مرور قوية لا يمكن للأشخاص معرفتها، وضرورة الحرص على عدم تسجيلها في أي مكان. عدم فتح المرفقات والروابط العشوائية في رسائل البريد الإلكتروني من مرسل لا تعرفه، وكذلك تجنب تقديم المعلومات الشخصية عبر الهاتف أو البريد الإلكتروني إلى أي جهة إلا إذا كنت أمتاً وتحدثت إلى الشخص المعني. راقب بياناتك المصرفية واستفسر عن أي معاملات غير مألوفة مع المصرف لاكتشاف وقوعك ضحية جريمة إلكترونية بسرعة. مرتكبو الجرائم الإلكترونية الذين يستهدفون أجهزة الكمبيوتر قد يصيبونها ببرمجية خبيثة لإتلاف الأجهزة أو إيقافها عن العمل، وقد يستخدمون تلك البرمجية الخبيثة في حذف البيانات أو سرقتها. سرقة الهوية في ازدياد لا يتوقف، فوفقاً لتقرير حالة مرونة الأمن السيبراني لعام 2021 زادت الهجمات الأمنية بنسبة 31% من 2020 إلى 2021، وزاد عدد الهجمات لكل شركة من 206 إلى 270 على أساس سنوي. وتعد هذه الهجمات على الشركات ذات خطورة كبيرة لأنها تؤثر على الأفراد أيضاً فالعديد منهم يخزنون بيانات حساسة ومعلومات شخصية للعملاء يجعلهم معرضون للخطر. بالنسبة للأفراد والشركات، يمكن أن يكون تأثير الجريمة الإلكترونية عميقاً يتجاوز الضرر المالي إلى فقدان الثقة والإضرار بالسمعة.



P1: من خلال القراءة التحليلية للنص، أجب عن الأسئلة التالية:

6 - 2 30.00 علامة

من أنواع الجريمة الإلكترونية:

- a. الاستخدام الأمثل للتقنيات الحديثة
- b. تنفيذ مشاريع مستقبلية للشباب تدعم التنمية
- c. تطوير مهارات الأطفال لاستخدام الشبكة المعلوماتية
- d. التجسس الإلكتروني

الإلكترونية، سرقة البيانات المالية، وتزوير الهوية، وسرقة المعلومات الشخصية، والتجسس الإلكتروني والتدخل في الأنظمة بطريقة تعرض الشبكة للخطر ومن أمثلتها أيضاً بيع السلع غير المشروعة عبر الإنترنت وهي بذلك تعد نشاطاً إجرامياً يستهدف أجهزة الكمبيوتر بواسطة استخدام الفيروسات، وأنواع أخرى من البرمجيات الخبيثة، ونظراً لانتشار الجرائم الإلكترونية، قد نتساءل عن وقاية نفسك منها، هناك العديد من النصائح لحماية جهاز الكمبيوتر الخاص بك وبياناتك الشخصية من الجرائم الإلكترونية: منها إبقاء البرنامج ونظام التشغيل محدثين، العمل على استخدام برنامج مكافحة الفيروسات وإبقائه محدثاً، استخدام كلمات مرور قوية لا يمكن للأشخاص معرفتها، وضرورة الحرص على عدم تسجيلها في أي مكان، عدم فتح المرفقات والروابط العشوائية في رسائل البريد الإلكتروني من مؤسّل لا تعرفه، وكذلك تجنب تقديم المعلومات الشخصية عبر الهاتف أو البريد الإلكتروني إلى أي جهة إلا إذا كنت أمناً وتحدث إلى الشخص المعني، راقب بياناتك المصرفية واستفسر عن أي معاملات غير مألوفة مع المصرف لاكتشاف وقوعك ضحية جريمة إلكترونية بسرعة، مرتكبوا الجرائم الإلكترونية الذين يستهدفون أجهزة الكمبيوتر قد يصيبونها ببرمجية خبيثة لإتلاف الأجهزة أو إيقافها عن العمل، وقد يستخدمون تلك البرمجية الخبيثة في حذف البيانات أو سرقتها، سرقة الهوية في ازدياد لا يتوقف، فوفقاً لتقرير حالة مرونة الأمن السيبراني لعام 2021 زادت الهجمات الأمنية بنسبة 31% من 2020 إلى 2021، وزاد عدد الهجمات لكل شركة من 206 إلى 270 على أساس سنوي، وتعد هذه الهجمات على الشركات ذات خطورة كبيرة لأنها تؤثر على الأفراد أيضاً فالعديد منهم يخزنون بيانات حساسة ومعلومات شخصية للعملاء يجعلهم معرضون للخطر، بالنسبة للأفراد والشركات، يمكن أن يكون تأثير الجريمة الإلكترونية عميقاً يتجاوز الضرر المالي إلى فقدان الثقة والإضرار بالسمعة.



السؤال التالي

P1: من خلال القراءة التحليلية للنص، أجب عن الأسئلة التالية.

3 - 6 30.00 علامة

تعد من الجرائم الإلكترونية في المجال الاقتصادي:

- a. تحديث المعلومات الشخصية للأفراد
- b. التواصل الإلكتروني مع الأهل والأصدقاء
- c. بيع السلع غير المشروعة عبر الإنترنت
- d. فتح الروابط ذات المصدر الموثوق

الإلكترونية، سرقة البيانات المالية، ونزوير الهوية، وسرقة المعلومات الشخصية، والتجسس الإلكتروني والتدخل في الأنظمة بطريقة تعرض الشبكة للخطر ومن أمثلتها أيضاً بيع السلع غير المشروعة عبر الإنترنت وهي بذلك تُعد نشاطاً إجرامياً يستهدف أجهزة الكمبيوتر بواسطة استخدام الفيروسات، وأنواع أخرى من البرمجيات الخبيثة، ونظراً لانتشار الجرائم الإلكترونية، قد ننسأل عن وقاية نفسك منها. هناك العديد من النصائح لحماية جهاز الكمبيوتر الخاص بك وبياناتك الشخصية من الجرائم الإلكترونية: منها إبقاء البرنامج ونظام التشغيل محدثين، العمل على استخدام برنامج مكافحة الفيروسات وإبقائه محدثاً، استخدام كلمات مرور قوية لا يمكن للأشخاص معرفتها، وضرورة الحرص على عدم تسجيلها في أي مكان، عدم فتح المرفقات والروابط العشوائية في رسائل البريد الإلكتروني من مرسَل لا تعرفه، وكذلك تجنب تقديم المعلومات الشخصية عبر الهاتف أو البريد الإلكتروني إلى أي جهة إلا إذا كنتَ آمناً وتحدثت إلى الشخص المعني. راقب بياناتك المصرفية واستفسر عن أي معاملات غير مألوفة مع المصرف لاكتشاف وقوعك ضحية جريمة إلكترونية بسرعة. مرتكبو الجرائم الإلكترونية الذين يستخدمون أجهزة الكمبيوتر قد يصيبونها ببرمجية خبيثة لإتلاف الأجهزة أو إيقافها عن العمل، وقد يستخدمون تلك البرمجية الخبيثة في حذف البيانات أو سرقتها، سرقة الهوية في ازدياد لا يتوقف، فوفقاً لتقرير حالة مرونة الأمن السيبراني لعام 2021 زادت الهجمات الأمنية بنسبة 31% من 2020 إلى 2021، وزاد عدد الهجمات لكل شركة من 206 إلى 270 على أساس سنوي. وتعد هذه الهجمات على الشركات ذات خطورة كبيرة لأنها تؤثر على الأفراد أيضاً فالعديد منهم يخزنون بيانات حساسة ومعلومات شخصية للعملاء يجعلهم معرضون للخطر. بالنسبة للأفراد والشركات، يمكن أن يكون تأثير الجريمة الإلكترونية عميقاً يتجاوز الضرر المادي إلى فقدان الثقة والإضرار بالسمعة.

السؤال التالي

P1: من خلال القراءة التحليلية للنص، أجب عن الأسئلة التالية:

6 - 6 30.00 علامة

من أخطر الأضرار وأشدّها على الأفراد عند تعرضهم للهجمات الإلكترونية:

- a. انتقالهم من مقر عملهم
- b. تلف الأجهزة والمعدات التي يستخدمونها
- c. زيادة العائد المادي الذي يحصلون عليه
- d. تعرض معلوماتهم الهامة لسرقة

تم تحميل هذا السؤال في موقع الشاهج الإلكترونية
alManahj.com/ae

الإلكترونية. سرقة البيانات المالية، وتزوير الهوية، وسرقة المعلومات الشخصية، والتجسس الإلكتروني والتدخل في الأنظمة بطريقة تعرض الشبكة للخطر ومن أمثلتها أيضاً بيع السلع غير المشروعة عبر الإنترنت وهي بذلك تُعد نشاطاً إجرامياً يستهدف أجهزة الكمبيوتر بواسطة استخدام الفيروسات، وأنواع أخرى من البرمجيات الخبيثة، ونظراً لانتشار الجرائم الإلكترونية، قد نتساءل عن وقاية نفسك منها. هناك العديد من النصائح لحماية جهاز الكمبيوتر الخاص بك وبياناتك الشخصية من الجرائم الإلكترونية: منها إبقاء البرنامج ونظام التشغيل محدثين، العمل على استخدام برنامج مكافحة الفيروسات وإبقائه محدثاً، استخدام كلمات مرور قوية لا يمكن للأشخاص معرفتها، وضرورة الحرص على عدم تسجيلها في أي مكان. عدم فتح المرفقات والروابط العشوائية في رسائل البريد الإلكتروني من مُرسل لا تعرفه، وكذلك تجنب تقديم المعلومات الشخصية عبر الهاتف أو البريد الإلكتروني إلى أي جهة إلا إذا كنت متأكدًا وتتحدث إلى الشخص المعني. راقب بياناتك المصرفية واستفسر عن أي معاملات غير مألوفة مع المصرف لاكتشاف وقوع ضحية جريمة إلكترونية بسرعة. مرتكبو الجرائم الإلكترونية الذين يستهدفون أجهزة الكمبيوتر قد يصيبونها ببرمجية خبيثة لإتلاف الأجهزة أو إيقافها عن العمل، وقد يستخدمون تلك البرمجية الخبيثة في حذف البيانات أو سرقتها. سرقة الهوية في ازدياد لا يتوقف، فوفقاً لتقرير حالة مرونة الأمن السيبراني لعام 2021 زادت الهجمات الأمنية بنسبة 31% من 2020 إلى 2021، وزاد عدد الهجمات لكل شركة من 206 إلى 270 على أساس سنوي. وتُعد هذه الهجمات على الشركات ذات خطورة كبيرة لأنها تؤثر على الأفراد أيضاً فالعديد منهم يخزنون بيانات حساسة ومعلومات شخصية للعملاء يجعلهم معرضون للخطر. بالنسبة للأفراد والشركات، يمكن أن يكون تأثير الجريمة الإلكترونية عميقاً يتجاوز الضرر المالي إلى فقدان الثقة والإضرار بالسمعة.



السؤال التالي

P1: من خلال القراءة التحليلية للنص، أجب عن الأسئلة التالية:

6 - 5 30.00 علامة

تأثير الجريمة الإلكترونية على الإنسان عميقاً يتجاوز الضرر المالي إلى:

- a. زيادة الثقة بالأهل والأصدقاء
- b. فقدان الثقة والإضرار بالسمعة
- c. زيادة عدد الأصدقاء
- d. تحسين الصحة النفسية للأفراد

الإلكترونية. سرقة البيانات المالية، وتزوير الهوية، وسرقة المعلومات الشخصية، والتجسس الإلكتروني والتدخل في الأنظمة بطريقة تعرض الشبكة للخطر ومن أمثلتها أيضاً بيع السلع غير المشروعة عبر الإنترنت وهي بذلك تعد نشاطاً إجرامياً يستهدف أجهزة الكمبيوتر بواسطة استخدام الفيروسات، وأنواع أخرى من البرمجيات الخبيثة. ونظراً لانتشار الجرائم الإلكترونية، قد نتساءل عن وقاية نفسك منها. هناك العديد من النصائح لحماية جهاز الكمبيوتر الخاص بك وبياناتك الشخصية من الجرائم الإلكترونية: منها إبقاء البرنامج ونظام التشغيل محدثين. العمل على استخدام برنامج مكافحة الفيروسات وإبقائه محدثاً، استخدام كلمات مرور قوية لا يمكن للأشخاص معرفتها، وضرورة الحرص على عدم تسجيلها في أي مكان. عدم فتح المرفقات والروابط العشوائية في رسائل البريد الإلكتروني من مرسل لا تعرفه، وكذلك تجنب تقديم المعلومات الشخصية عبر الهاتف أو البريد الإلكتروني إلى أي جهة إلا إذا كنت أمناً وتحدثت إلى الشخص المعني. راقب بياناتك المصرفية واستفسر عن أي معاملات غير مألوفة مع المصرف لاكتشاف وقوعك ضحية جريمة إلكترونية بسرعة. مرتكبو الجرائم الإلكترونية الذين يستهدفون أجهزة الكمبيوتر قد يصيبونها ببرمجية خبيثة لإتلاف الأجهزة أو إيقافها عن العمل. وقد يستخدمون تلك البرمجية الخبيثة في حذف البيانات أو سرقتها. سرقة الهوية في ازدياد لا يتوقف، فوفقاً لتقرير حالة مرونة الأمن السيبراني لعام 2021 زادت الهجمات الأمنية بنسبة 31% من 2020 إلى 2021، وزاد عدد الهجمات لكل شركة من 206 إلى 270 على أساس سنوي. وتعد هذه الهجمات على الشركات ذات خطورة كبيرة لأنها تؤثر على الأفراد أيضاً فالكثير منهم يخزنون بيانات حساسة ومعلومات شخصية للعملاء يجعلهم معرضون للخطر. بالنسبة للأفراد والشركات، يمكن أن يكون تأثير الجريمة الإلكترونية عميقاً يتجاوز الضرر المالي إلى فقدان الثقة والإضرار بالسمعة.

السؤال التالي

P2: اقرأ الأشكال والبيانات الواردة، ثم أجب:

1 - 5 25.00 علامة

من التطلعات التي تستهدفها استراتيجية الأمن المائي في الإمارات 2017-2036:

- a. خفض إجمالي الطلب على الموارد المائية بنسبة 21%
- b. خفض مؤشر إنتاجية المياه إلى 50 دولار لكل متر مكعب
- c. رفع مؤشر استهلاك الماء عما هو عليه في الوقت الحاضر
- d. مضاعفة استهلاك الأفراد من المياه النقية

القمة العالمية للمياه

للمياه

منصة دولية لتعزيز تكثف جهودها الاستنادية

من 14 إلى 17 يناير



تتطلب مشاركة نخبة من الخبراء والمختصين والأولاديين

إدارة مدافع المياه النوعية وتوظيفها لتلزم المياه

مناقشة دور التكنولوجيا في معالجة أزمة المياه

تعزيز جهود استنادية المياه في العالم

تعزيز استنادية الأمم المتحدة لاستنادية المياه

استراتيجية الأمن المائي في الإمارات 2017 - 2036

- خفض إجمالي الطلب على الموارد المائية بنسبة 21%
- زيادة نسبة إعادة استخدام المياه المعالجة إلى 95%
- زيادة مؤشر إنتاجية المياه إلى 110 دولارات لكل متر مكعب
- خفض مؤشر ندرة المياه بمقدار 3 درجات
- توفير سبعة تدرسين لمدة يومين لخارجي للبلديات العادية في النظام المائي

alManahj.com/ae

السؤال التالي

P2: اقرأ الأشكال والبيانات الواردة، ثم أجب:

3 - 5 25.00 علامة

من الأهداف الرئيسة لقمة المياه العالمية:

- a. تزويد دول العالم الفقيرة بالمياه النقية
- b.حث الدول على إيجاد مصادر جديدة للمياه
- c. تنفيذ استراتيجية الأمم المتحدة لاستدامة المياه
- d. فرض عقوبات على زيادة استهلاك المياه في الدول الصناعية

القمة العالمية للمياه

من 14 إلى 17 يناير

منصة دولية لتعزيز تكنولوجيا الاستدامة



نظمت بمشاركة نخبة من الخبراء والمختصين والأكاديمين

تحت إشراف

مفوضية المياه في العالم

مفوضية المياه في العالم

مفوضية المياه في العالم

مفوضية المياه في العالم

استراتيجية الأمن المائي

2017 - 2036 في الإمارات

- خفض إجمالي الطلب على الموارد المائية بنسبة 21%
- زيادة نسبة إعادة استخدام المياه المعالجة إلى 95%
- زيادة مؤشر إنتاجية المياه إلى 110 دولارات لكل متر مكعب
- خفض مؤشر ندرة المياه بمقدار 3 درجات
- توضيح: سعة تخزين لعدة بضعين لخزن الحالات العادية في النظام المائي

السؤال التالي

P2: اقرأ الأشكال والبيانات الواردة، ثم أجب:

2 - 5 25.00 علامة

نسبة 95% الواردة في الشكل تمثل:

- a. كمية الهدر في مصادر المياه النقية
- b. تقليل نسبة المياه المخصصة للزراعة
- c. زيادة نسبة إعادة استخدام المياه المعالجة
- d. تجنب استخدام المياه المعالجة

تم تحميل هذا الملف من موقع المناهج الإماراتية
alManahj.com/ae

القمة العالمية للمياه

المياه

من 14 إلى 17 يناير

منصة دولية لتعزيز تكنولوجيا الاستدامة



نظمنا بمشاركة نخبة من الخبراء والمختصين والأكاديميين

تحت إشراف وزارة المياه والري

القمة تعد جزءاً من فعاليات أسبوع أبوظبي للاستدامة

استراتيجية الأمن المائي

2017 - 2036 في الإمارات

- خفض إجمالي الطلب على الموارد المائية بنسبة **21%**
- زيادة نسبة إعادة استخدام المياه المعالجة إلى **95%**
- زيادة مؤشر إنتاج المياه إلى **110 دولارات** لكل متر مكعب
- خفض مؤشر ذروة المياه بمقدار **3 درجات**
- توضو سبعة ملايين وحدة بومبي خزائن المدن العادية في النظام المائي

تعزيز كفاءات استخدام المياه في العالم

مناقشة دور التكنولوجيا في معالجة أزمة المياه

إدارة مصادر المياه الوبعية وتوظيفها لتوليد المياه

تعزيز استراتيجيات الأسم المتقدمة للاستدامة المياه

الميزان التالي

P2: اقرأ الأشكال والبيانات الواردة، ثم أجب:

4 - 5 25.00 علامة

تعد القمة العالمية للمياه منصة دولية لتعزيز:

- a. تكنولوجيا الاستدامة
- b. اتفاقيات حل المنازعات الإقليمية
- c. المشاريع المحلية للمياه
- d. العلاقات الدولية

القمة العالمية للمياه

من 14 إلى 17 يناير

منصة دولية لتعزيز تكنولوجيا الاستدامة



تشارك في القمة مع نخبة من الخبراء والمختصين والأكاديميين

تعزيز القدرات
استدامة المياه
في العالم

مناقشة دور التكنولوجيا في معالجة أزمة المياه

إدارة المياه
المياه كموارد
الاعتماد المتبادل
لأهداف المياه

استراتيجية الأمن المائي في الإمارات 2017 - 2036

- خفض إجمالي الطلب على الموارد المائية بنسبة **21%**
- زيادة نسبة إعادة استخدام المياه المعالجة إلى **95%**
- زيادة مؤشر إنتاجية المياه إلى **110 دولارات** لكل متر مكعب
- خفض مؤشر ذروة المياه بـ **3 درجات**
- توفير سطح تخزين لمدة بوهي لأربعين للثلاث العادية في النظام التالي

تم تحميل هذا الملف من موقع الشارح الإماراتية alManahj.com/ae

السؤال التالي

P2: اقرأ الأشكال والبيانات الواردة، ثم أجب:

5 - 5 25.00 علامة

الجهود المحلية والعالمية لترشيد استهلاك المياه، والمحافظة على الموارد الطبيعية تدعم مفهوم:

a. المجتمع

b. التعليم

c. التكنولوجيا

d. الاستدامة

تم تحميل هذا الملف من موقع المناهج الإماراتية alManahj.com/ae

القيمة العالمية للمياه
للبلدان

منصة دولية لتعزيز تكنولوجيا الاستدامة

من 14 إلى 17 مليار

نطلق بمشاركة نخبة من الخبراء والمختصين والأكاديميين

تعزيز جهود استدامة المياه في العالم

مناقشة دور التكنولوجيا في معالجة أزمة المياه

إدارة مشاريع المياه الدولية الأهم المتعددة لخدمة المياه

نعيد استدامة الموارد الطبيعية

استراتيجية الأمن المائي في الإمارات 2017 - 2036

- خفض إجمالي الطلب على الموارد المائية بفلسفة **21%**
- زيادة نسبة إعادة استخدام المياه المعالجة إلى **95%**
- زيادة مؤشر استدامة المياه إلى **110 دولارات** لكل طن منتج
- خفض مؤشر ندرة المياه بمقدار **3 درجات**
- توفير سطح تخزين لشدة زرع زرع للذات العادية في النظام المائي

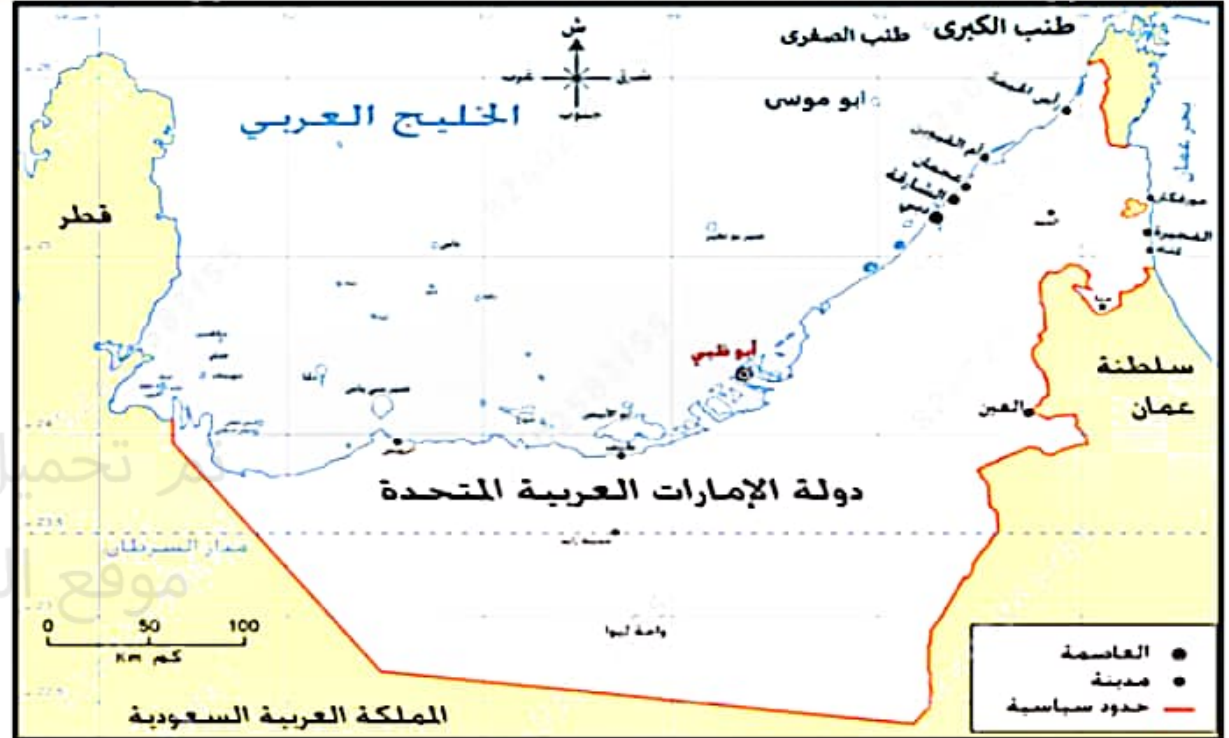
السؤال التالي

P2: اجب عن الأسئلة مستعيناً بالخريطة والفقرة المرفقة:

1 - 5 علامة 25.00

من الموانئ البحرية الإماراتية المفتوحة على العالم، في حال وقوع الأزمات واغلاق مضيق هرمز ميناء:

- a. رأس الخيمة
- b. أبو ظبي
- c. الفجيرة
- d. دبي



للترافق القائم على الجزر الإماراتية الثلاث طناب الكبرى وطناب الصغرى و أبو موسى تأثير مباشر في الاستقرار الإقليمي بمنطقة الخليج العربي. ويعود هذا بصفة أساسية إلى الموقع الاستراتيجي الذي تتمتع به هذه الجزر. حيث تقع بمحاذاة الممرين اللذين تستخدمهما السفن التجارية العالمية للملاحة عبر المياه الضحلة للخليج داخل مضيق هرمز. وتقع جزيرتا طناب الكبرى وطناب الصغرى بين الممرين المعبرين. ويمتد الممر البحري المتجه نحو الغرب من حبة مضيق هرمز إلى داخل الخليج العربي. ثم إلى الشمال بين هاتين الجزيرتين. أما الممر الممتد نحو الشرق من الخليج العربي والمتجه نحو مضيق هرمز فهو يمر إلى الجنوب من جزيرتي طناب الكبرى وطناب الصغرى. وينعطف نحو الشمال الشرقي في اتجاه مضيق هرمز إلى الجنوب من جزيرة طناب الكبرى. وتقع جزيرة أبو موسى على بعد أميال قليلة إلى الجنوب من الممر المعبري المتجه نحو الشرق. ويهدف استخدام هذين الممرين المعبرين إلى ضمان بقاء السفن التجارية في مياه عميقة

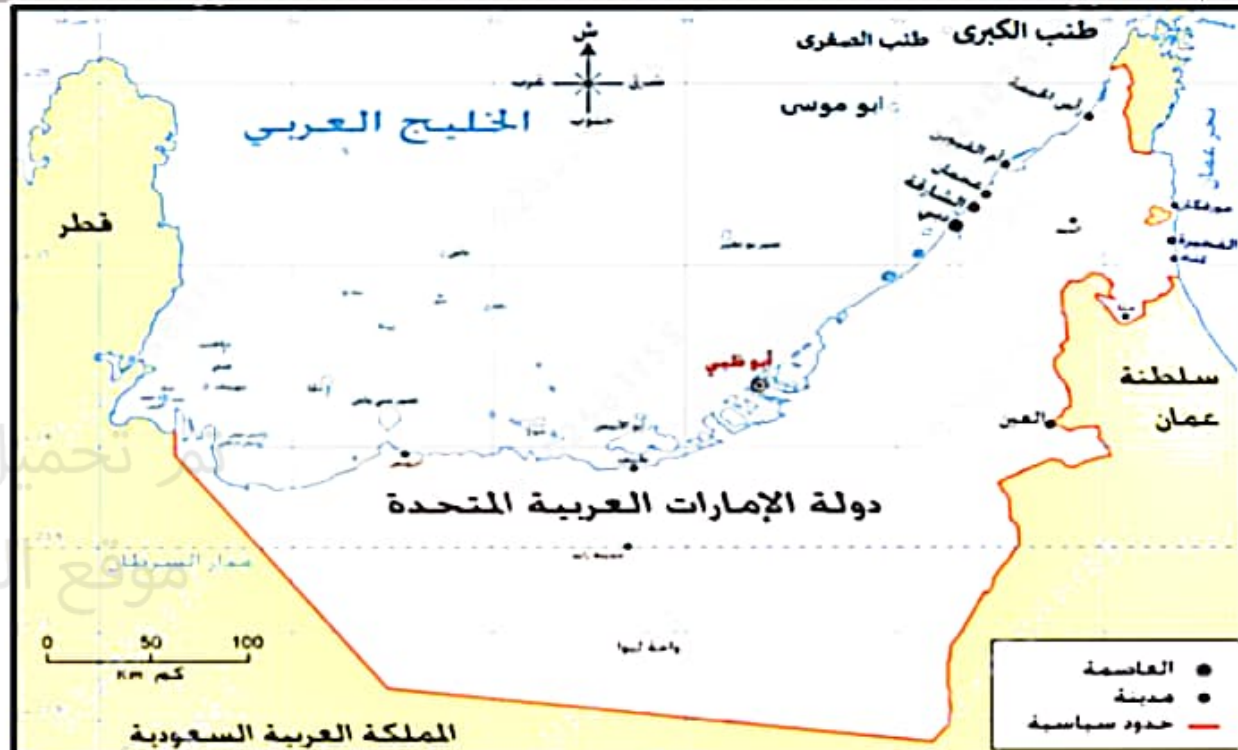
السؤال التالي

P2: اجب عن الأسئلة مستعيناً بالخريطة والفقرة المرفقة:

5 - 4 25.00 علامة

تقع الجزر الإماراتية الثلاث الخاضعة للسيطرة الخارجية بين ممرين بحريين هما:

- a. الخليج العربي وبحر العرب
- b. بحر عُمان والخليج العربي
- c. بحر العرب وبحر عُمان
- d. المحيط الهادي والخليج العربي



للنزاع القائم على الجزر الإماراتية الثلاث طناب الكبرى وطناب الصغرى و أبو موسى تأثير مباشر في الاستقرار الإقليمي بمنطقة الخليج العربي. ويعود هذا نصفه أساسية إلى الموقع الاستراتيجي الذي تمنعه به هذه الجزر. حيث تقع معاداة المعمرين اللذين تستخدمهما السفن التجارية العائمة للملاحة عبر المياه الضحلة للخليج داخل مضيق هرمز. وتقع جزيرتا طناب الكبرى وطناب الصغرى بين الممرين المحريين. ويمتد الممر المحري المنحني نحو الغرب من حبة مضيق هرمز إلى داخل الخليج العربي. ثم إلى الشمال بين هاتين الجزيرتين. أما الممر الممتد نحو الشرق من الخليج العربي والمنحني نحو مضيق هرمز فهو يمر إلى الجنوب من جزيرتي طناب الكبرى وطناب الصغرى. وينعطف نحو الشمال الشرقي في اتجاه مضيق هرمز إلى الجنوب من جزيرة طناب الكبرى. وتقع جزيرة أبو موسى على بعد أميال قليلة إلى الجنوب من الممر المحري المنحني نحو الشرق. ويهدف استخدام هذين الممرين المحريين إلى ضمان بقاء السفن التجارية في مياه عميقة

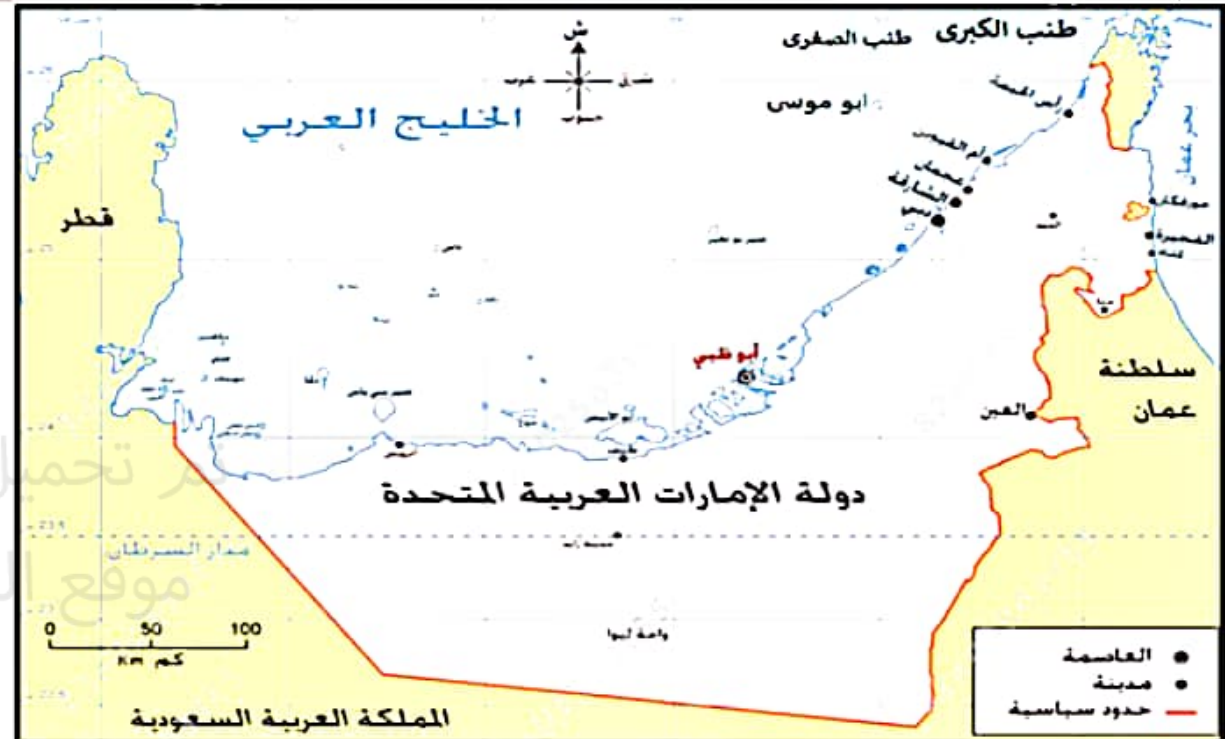
السؤال التالي

P2: اجب عن الأسئلة مستعيناً بالخريطة والفقرة المرفقة:

5 - 5 25.00 علامة

ترجع أهمية الجزر الثلاث الإماراتية الخاضعة للسيطرة الخارجية عالمياً إلى أهميتها:

- a. الاستراتيجية
- b. الصناعية
- c. الترفيهية
- d. الاجتماعية



للتراف القائم على الجزر الإماراتية الثلاث طناب الكبرى وطناب الصغرى و أبو موسى تأثير مباشر في الاستقرار الإقليمي بمنطقة الخليج العربي. ويعود هذا بصفة أساسية إلى الموقع الاستراتيجي الذي تتمتع به هذه الجزر. حيث تقع بمحاذاة الممرين اللذين تستخدمهما السفن التجارية العالمية للملاحة عبر المياه الضحلة للخليج داخل مضيق هرمز. وتقع جزيرتا طناب الكبرى وطناب الصغرى بين الممرين البحرينيين. ويمتد الممر البحري المتجه نحو الغرب من حبة مضيق هرمز إلى داخل الخليج العربي. ثم إلى الشمال بين هاتين الجزيرتين. أما الممر الممتد نحو الشرق من الخليج العربي والمتجه نحو مضيق هرمز فهو يمر إلى الجنوب من جزيرتي طناب الكبرى وطناب الصغرى. وينعطف نحو الشمال الشرقي في اتجاه مضيق هرمز إلى الجنوب من جزيرة طناب الكبرى. وتقع جزيرة أبو موسى على بعد أميال قليلة إلى الجنوب من الممر البحري المتجه نحو الشرق. ويهدف استخدام هذين الممرين البحرينيين إلى ضمان بقاء السفن التجارية في مياه عميقة

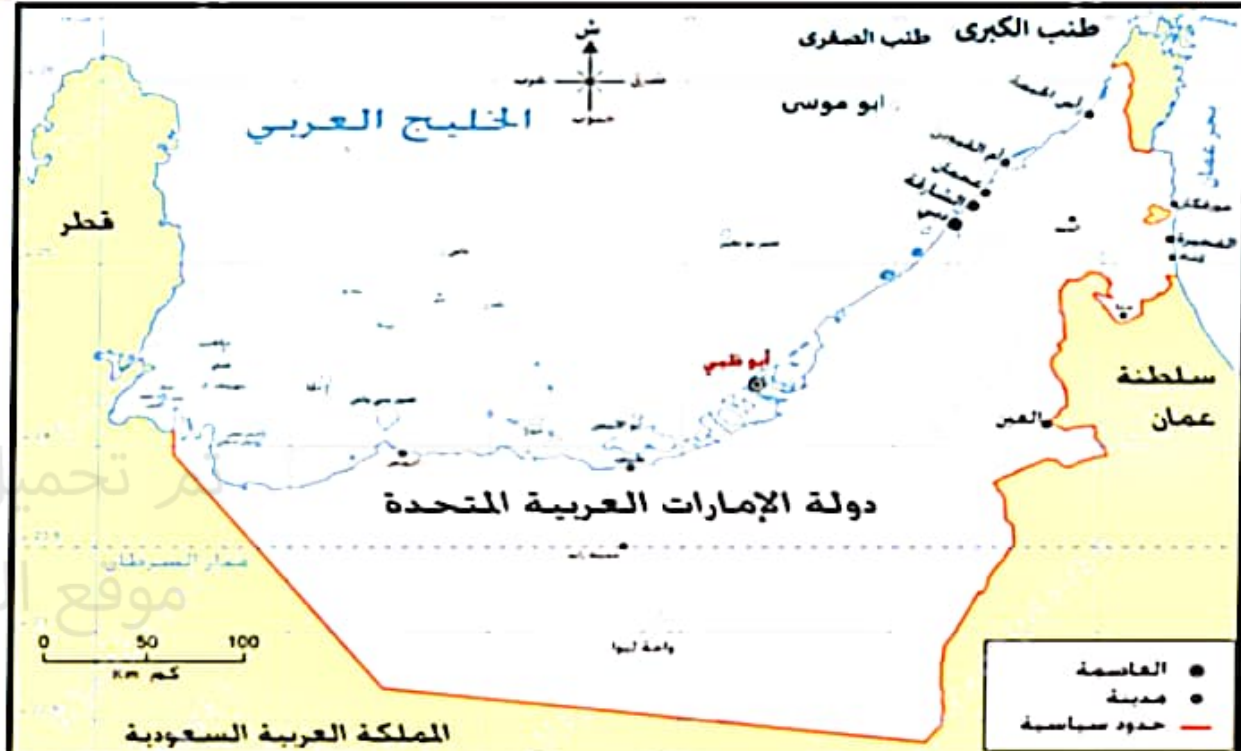
السؤال التالي

P2: اجب عن الأسئلة مستعيناً بالخريطة والعمرة المرفقة:

2 - 5 علامة 25.00

تشمل الأهمية التجارية للموانئ الخليجية مراقبة وحماية نقل:

- a. الأشخاص والبضائع
- b. النفط والغاز
- c. الأسماك والأخشاب
- d. النفط والغاز والبضائع التجارية



للتراجع القائم على الحرر الإماراتية الثلاث طناب الكبرى وطناب الصغرى و ابو موسى تأثير مباشر في الاستقرار الإقليمي بمنطقة الخليج العربي. ويعود هذا بصفة أساسية إلى الموقع الاستراتيجي الذي تتمتع به هذه الجزر. حيث تقع معاداة الممرين اللذين تستخدمهما السفن التجارية الهامة للملاحة عبر المباء الضحلة للخليج داخل مضيق هرمز. وتقع جزيرتا طناب الكبرى وطناب الصغرى بين الممرين المحريين. ويمتد الممر المحري المنحني نحو الغرب من حبة مضيق هرمز إلى داخل الخليج العربي. ثم إلى الشمال بين هاتين الجزيرتين. أما الممر الممتد نحو الشرق من الخليج العربي والمنحني نحو مضيق هرمز فهو يمر إلى الجنوب من جزيرتي طناب الكبرى وطناب الصغرى. وينعطف نحو الشمال الشرقي في اتجاه مضيق هرمز إلى الجنوب من جزيرة طناب الكبرى. وتقع جزيرة أبو موسى على بعد أميال قليلة إلى الجنوب من الممر المحري المنحني نحو الشرق. ويهدف استخدام هذين الممرين المحريين إلى ضمان بقاء السفن التجارية في مياه عميقة

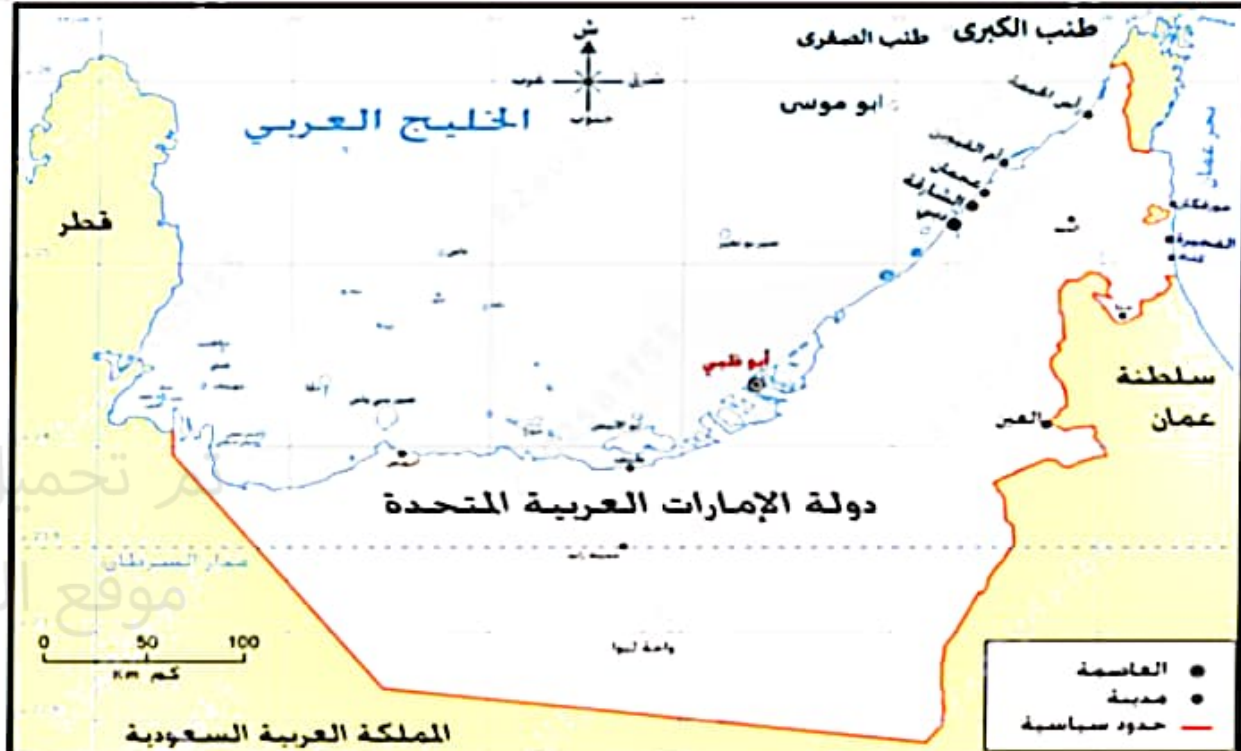
السؤال التالي

P2: اجب عن الأسئلة مستعيناً بالخريطة والعمرة المرفقة:

3 - 5 علامة 25.00

دائرة العرض الرئيسية التي تخترق أراضي دولة الإمارات هي:

- a. مدار الجدي
- b. خط الاستواء
- c. دائرة عرض 66.5
- d. مدار السرطان



لذراع الفانم على الحرر الإماراتية الثلاث طناب الكبرى وطناب الصغرى و ابو موسى تأثير مباشر في الاستفراغ الإقليمي بمنطقة الخليج العربي. ويعود هذا بصفة أساسية إلى الموقع الاستراتيجي الذي تمنع به هذه الجزر. حيث تقع بمحاذاة الممرين اللذين تستخدمهما السفن التجارية العالمية للملاحة عبر المياه الضحلة للخليج داخل مضيق هرمز. وتقع جزيرتا طناب الكبرى وطناب الصغرى بين الممرين المحررين. ويمتد الممر البحري المنحني نحو الغرب من حبة مضيق هرمز إلى داخل الخليج العربي. ثم إلى الشمال بين هاتين الجزيرتين. أما الممر الممتد نحو الشرق من الخليج العربي والمنحني نحو مضيق هرمز فهو يمر إلى الجنوب من جزيرتي طناب الكبرى وطناب الصغرى. وينعطف نحو الشمال الشرقي في اتجاه مضيق هرمز إلى الجنوب من جزيرة طناب الكبرى. وتقع جزيرة أبو موسى على بعد أميال قليلة إلى الجنوب من الممر المحرري المنحني نحو الشرق. ويهدف استخدام هذين الممرين المحررين إلى ضمان بقاء السفن التجارية في مياه عميقة

السؤال التالي

P3: مستعينا بالأشكال التالية، أجب عن الأسئلة:

2 - 6 30.00 علامة

المراكز المتقدمة التي حققتها الإمارات في مؤشر الأمن الغذائي تدل على:

- a. تخصيص ميزانية مالية كبيرة لشراء السلع والمنتجات الغذائية
- b. غياب التخطيط الاقتصادي لمواجهة الأزمات السكانية محلياً وعالمياً
- c. نقص الوعي في مجال الأمن الغذائي
- d. الرؤية المستقبلية الاستشرافية الواعية للقيادة الإماراتية

تم تحميل هذا الملف من موقع المباحث الإماراتية alManahj.com/ae

في مؤشر الأمن الغذائي 2022 إنجاز إماراتي جديد

دولة الإمارات الأولى بمنطقة الشرق الأوسط وشمال أفريقيا في المؤتمر العالمي للأمن الغذائي 2022

الأولى في المؤتمر الفرعي "توافر الغذاء" والثانية في مستوى جودة وسلامة الغذاء

مقابل المرتبة الثالثة في 2021

المؤشر يقيس الأمن الغذائي في 113 دولة

دولة الإمارات بالمرتبة الـ 23 متقدمة

شبكة الصحة للخطأ والدواء Saudi Food & Drug Authority

الهدم الغذائي

شهر الغذاء عالمياً

35% من الأسماك والمأكولات البحرية تُصدر	45% من الفواكه والخضار تُصدر	1/3 الغذاء المنتج للإنسان يُصدر
20% من الحبوب تُصدر	20% من منتجات الألبان تُصدر	30% من الحبوب تُصدر

السؤال التالي

P3: مستعينا بالأشكال التالية، أجب عن الأسئلة:

6 - 1 30.00 علامة

حققت الإمارات في المؤشر الفرعي لتوافر الغذاء عام 2022 المرتبة:

- a. الثالثة
- b. الثانية
- c. الأولى
- d. الرابعة

تم تحميل هذا الملف من موقع امناهج الإماراتية
alManahj.com/ae

في مؤشر الأمن الغذائي 2022 إنجاز إماراتي جديد

دولة الإمارات
الأولى
بمنطقة الشرق الأوسط
وشمال أفريقيا في
المؤشر العالمي للأمن
الغذائي 2022

مقابل
المرتبة الثالثة في 2021

الأولى
في المؤشر الفرعي
"توافر الغذاء"

الثانية
في مستوى جودة
وسلامة الغذاء

المؤشر يقيس الأمن الغذائي في 113 دولة

دولة الإمارات بالمرتبة 23 متقدمة

شبكة الصحة للخط والحوار
Saudi Food & Drug Authority

الهدم الغذائي

شهر الغذاء العالمي

35% من الأسماك والمأكولات البحرية تُهدر	45% من الفواكه والخضار تُهدر	1/3 الغذاء المنتج للإنسان يُهدر
20% من الحبوب تُهدر	20% من منتجات الألبان تُهدر	30% من الحبوب تُهدر

P3: مستعينا بالأشكال التالية، أجب عن الأسئلة:

6 - 6 30.00 علامة

*****بولص***** مؤشر الهدر لمصادر الغذاء في أي دولة ينعكس اقتصادياً بشكل مباشر على:

- a. علاقة الدولة بدول الجوار
- b. إنتاجية الأخراد
- c. مشاركة القطاع الخاص
- d. إنتاجية الدولة

في مؤشر الأمن الغذائي 2022 إنجاز إماراتي جديد

دولة الإمارات
الأولى
منطقة الشرق الأوسط
وشمال أفريقيا في
المؤشر العالمي للأمن
الغذائي 2022

مقابل
المرتبة السابعة في 2021

الاولى
في المؤشر الفرعي
"توافر الغذاء"

الثانية
في مستوى جودة
وسلامة الغذاء



المؤشر يقيس الأمن الغذائي في 8 دول الإمارات بالمرتبة 23 متقدمة

الهيئة العامة للغذاء والدواء
Saudi Food & Drug Authority

شهر الغذاء العالمي



السؤال التالي

P3: مستعينا بالأشكال التالية، أجب عن الأسئلة:

3 - 6 30.00 علامة

نسبة 35% عالمياً تهدر من مصادر رئيسة للغذاء هي:

- a. الأسماك والمأكولات البحرية
- b. الخضار والفواكه
- c. الحبوب والذرة
- d. اللحوم الحمراء

تم تحميل هذا الملف من موقع المناهج الإماراتية alManahj.com/ae

في مؤشر الأمن الغذائي 2022 إنجاز إماراتي جديد

دولة الإمارات الأولى بمنطقة الشرق الأوسط وشمال أفريقيا في المؤشر العالمي للأمن الغذائي 2022

الأولى في المؤشر الفرعي "توافر الغذاء"

الثانية في مستوى جودة وسلامة الغذاء

المرتبة الثالثة في 2021

مقابل

دولة الإمارات بالمرتبة الـ 23 متقدمة

الهيئة العامة للغذاء والدواء
Saudi Food & Drug Authority

الخدمات
لصحة الغذاء

هدر الغذاء عالمياً

35%	45%	1/3
من الأسماك والمأكولات البحرية تهدر	من الفواكه والخضار تهدر	الغذاء الممنوع للإنسان يهدر
20%	20%	30%
من اللحوم تهدر	من منتجات الألبان تهدر	من الحبوب تهدر

السؤال التالي

P3: مستعينا بالأشكال التالية، أجب عن الأسئلة:

6 - 5 30.00 علامة

**** بولص ***** ارتفاع نسبة الهدر من الفواكه والخضار المنتجة للاستهلاك البشري
تعكس:

- a. الوعي بقيمة المنتجات الزراعية ذات القيمة الغذائية العالية
- b. تطور الصناعات الغذائية القائمة على الفواكه
- c. الحرص على توفير الأموال
- d. السلوك غير الواعي للقيمة الاقتصادية لمنتجات غذائية هامة

في مؤشر الأمن الغذائي 2022 إنجاز إماراتي جديد

الأولى
في المؤشر الفرعي
"توافر الغذاء"

الثانية
في مستوى جودة
وسلامة الغذاء



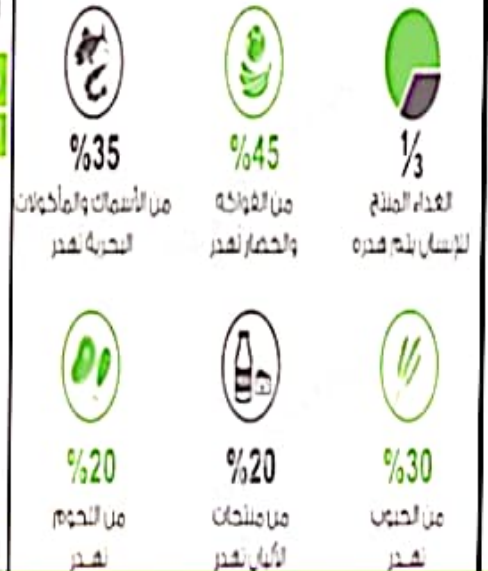
المؤشر يقيس الأمن الغذائي في دولة الإمارات بالمرتبة 23 متقدمة

الحد من
الهدر الغذائي

الهيئة العامة للغذاء والدواء
Saudi Food & Drug Authority



هدر الغذاء عالمياً



السؤال التالي

P3: مستعينا بالأشكال التالية، أجب عن الأسئلة:

4 - 6 30.00 علامة

تصل نسبة الغذاء المنتج للإنسان الذي يتم هدره إلى نحو:

- a. 75%
- b. 50%
- c. 33%
- d. 25%

تم تحميل هذا الملف من موقع أماهج الإماراتية alManahj.com/ae

في مؤشر الأمن الغذائي 2022 إنجاز إماراتي جديد

دولة الإمارات الأولى بمنطقة الشرق الأوسط وشمال أفريقيا في المؤتمر العالمي للأمن الغذائي 2022

الأولى في المؤتمر الفرعي "توافر الغذاء"

الثانية في مستوى جودة وسلامة الغذاء

المرتبة الثالثة في 2021

شبكة الصحة للخط والحواجز
Saudi Food & Drug Authority

الهدم الغذائي

شهر الغذاء عالميا

35% من الأسماك والمأكولات البحرية تهدر	45% من الفواكه والخضار تهدر	1/3 الغذاء المنتج للإنسان يتم هدره
20% من الحبوب تهدر	20% من منتجات الألبان تهدر	30% من الحبوب تهدر