

## تم تحميل هذا الملف من موقع المناهج الإماراتية



## مراجعة مهارية استعداداً للامتحان متبوعة بالإجابات

موقع المناهج ← المناهج الإماراتية ← الصف الثاني عشر ← اجتماعيات ← الفصل الأول ← ملفات متنوعة ← الملف

تاريخ إضافة الملف على موقع المناهج: 2024-12-10 16:24:08

ملفات اكتب للمعلم اكتب للطالب الاختبارات الكترونية الاختبارات احلول اعروض بوربوينت أوراق عمل  
منهج انجليزي ملخصات وتقارير مذكرات وبنوك الامتحان النهائي للمدرس

المزيد من مادة  
اجتماعيات:

إعداد: عمر حسن

## التواصل الاجتماعي بحسب الصف الثاني عشر



الرياضيات



اللغة الانجليزية



اللغة العربية



التربية الاسلامية



المواد على تلغرام

صفحة المناهج  
الإماراتية على  
فيسبوك

## المزيد من الملفات بحسب الصف الثاني عشر والمادة اجتماعيات في الفصل الأول

الهيكل الوزاري الجديد كافة المسارات

1

بوربوينت درس مراحل تطور التضاريس في الإمارات

2

بوربوينت درس ذكريات الحج الشيخ سلطان القاسمي

3

بوربوينت درس طائر الحبارى

4

بوربوينت درس بقوة الإتحاد

5



مؤسسة الإمارات للتعليم المدرسي  
EMIRATES SCHOOLS ESTABLISHMENT

# مراجعة مهارية الصف 12

مدرسة الهير

المعلم عمر حسن

العام الدراسي 2023-2024

الفصل الأول

عمر






مؤسسة الإمارات للتعليم المدرسي  
EMIRATES SCHOOLS ESTABLISHMENT

# السؤال الأول حسب الهيكل

اظهار الأفكار والتفاصيل الواردة في النص من حيث العلاقات  
والترابط فيه

الوحدة : مؤلفات الشيخ سلطان القاسمي  
نوع السؤال : نص مقروء



عمر



قال صاحب السمو الشيخ الدكتور سلطان بن محمد القاسمي عضو المجلس الأعلى حاكم الشارقة - حفظه الله - في كلمته أثناء تسلمه جائزة الشيخ زايد للكتاب: (...منذ أكثر من 40 سنة وصل إلى هذه الأرض وزير الخارجية البريطاني لحكومة حزب العمل آنذاك، وأكد للجميع أن بريطانيا لن تسحب قواعدها فيما وراء السويس، وبعد 6 أشهر وإذا بنفس الوزير لنفس الحكومة يأتي ليعلن الانسحاب المفاجئ. وكانت صدمة للجميع، وأصبحت الناس كالأغنام في الليلة الماطرة، وافتترقت الفئات، وتنايذت بالألقاب، وتداعت علينا الأمم. وإذا بنجم بلوح بالأنف من هذه الأرض، نجم لاح على صفحات الماء، كان ذلك زايد بن سلطان آل نهيان، وإذا بالرجل وبهمة الرجال يسرع الخطى ويجترح المسافات، يؤمن الخائف، ويعلم الجاهل، ويكون أمة. أقول أنه هو الأمة. ... وإذا به ينقل هذه الدولة الفتية، في مقدمة دول العالم، يرتقي بها يوماً بعد يوم، وتكتسب من خلال سياسته الحكيمة كل وفاء وكل محبة من جميع الدول. وفي يوم من أيام رمضان، وإذا بكلمات ترفضهما الأذان، ويرفض أن ينطقهما اللسان، وإذا بها تعزق الوجدان. مات زايد بن سلطان، وإذا الدموع تندفع من المحاجر والكلمات تغص بالحناجر، والسكون يعم المكان إلا من كلمات ..... اللهم لا اعتراض، اللهم لا اعتراض، اللهم لا اعتراض. وتمر بنا الأيام، نحفظ كثيراً ونضيع كثيراً، ونحن من تربي على يد زايد، ونحن من شرب من مشارب زايد وكأننا ليس بأوفياء لزايد. ومن على هذا المنبر أدعو الجميع الحاضرين في هذه الصالة والذين يشاهدوننا من خلال التلفاز... أيتها الأم... أيتها الأب.. امسك القلم واجعل أبنائك حولك، وسطر... هذا ما كان يحبه زايد، وهذا ما كان لا يحبه زايد، ونجمع تلك الأوراق، ونضعها في الصدور، ونضعها في مقدمة الدستور، وبهذا الوفاء نكون قد أوفينا زايد حقه.)

2

القيمة التي جسدها الشيخ سلطان للشيخ زايد رحمه الله	
الاخلاص	A
المحبة	B
الوفاء	C
الصدق	D

4

عمل الشيخ زايد كان يدل على	
حب العمل	A
الالتزام	B
الاخلاص	C
الجد والنشاط	D

1

الأثر السياسي الناجم عن إعلان انسحاب بريطانيا	
الانتهاء من السيطرة البريطانية	A
الفوضى العامة التي اصابت المنطقة	B
تراجع الاقتصاد والتجارة في المنطقة	C
قيام الدول الموحدة مباشرة بعد إعلان الانسحاب	D

3

ما هو الدور الذي لعبه الشيخ زايد رحمه الله في المنطقة	
التنمية الشاملة	A
نشر الأمن	B
زيادة اراتاد ابوظبي الاقتصادية	C
تنمية العلاقات التجارية مع الهند	D

عمر

البريطانية في بيروت، بشأن موضوع المساعدات التي سيقدمها الملك الفيصل ملك المملكة العربية السعودية أو جامعة الدول العربية لتمويل المشروعات التطويرية في إمارات الساحل. كان رد "تي، اف برنجلي" "T. F. Brenchley" مدير دائرة الجزيرة العربية في وزارة الخارجية البريطانية ما يلي:

إنني أوصي بأنه في المناقشة مع "سير وليام لوس" (1) "Sir William Luce"، فإن على الوزارة أن تقدم وتوفر إجابات مقترحة لحكام الشارقة من طرف السيد "بلفور بول"، ومصداقة مبدئياً من طرف "سير وليام لوس" كما يلي:

(1) للسعوديين: إن حكومة صاحبة الجلالة البريطانية ترحب من حيث المبدأ بمنحة مالية لصندوق طرق الإمارات، والذي يدار بواسطة مجلس الإمارات، والذي سوف يشار إلى العرض المقدم بشأنه في الاجتماع المقبل لمناقشته.

(2) للجامعة العربية: إن مجلس الإمارات ينظر في القريب العاجل فيما هو أفضل لإنفاق وإدارة أي دعم مالي لخططهم التطويرية، والذي يمكن أن تفكر الجامعة العربية في تقديمه.

في السابع عشر من ديسمبر سنة 1964م وصلت البعثة الفنية لجامعة الدول العربية إلى مطار الشارقة في يوم كانت العاصفة الممطرة على أشد ما تكون.. فمن مطار الشارقة إلى فندق الواحة في دبي شاهدت البعثة المعاناة التي كان يعانيها سكان الإمارات،

6

أي من التالي يمثل التوصية البريطانية كما ورد في النص للسعوديين	
A	تحويل المنحة الى قرض
B	الترحيب ومناقشة الامر
C	النظر في القريب العالج في الموضوع
D	رفض الفكرة من الجذور

8

التوصية الواردة في النص	
A	رأي
B	حقيقة
C	دليل أساسي
D	دليل ثانوي

5

الفكرة الرئيسية التي يدور حولها النص	
A	العلاقات البريطانية مع حاكم الشارقة
B	مناقشة موضوع المساعدات التي سوف تقدمها السعودية
C	التغير السياسي الذي تشهده المنطقة
D	بناء علاقات اخوية بين بريطانيا والسعودية

7

أي من التالي يمثل التوصية البريطانية كما ورد في النص للسعوديين	
A	تحويل المنحة الى قرض
B	الترحيب ومناقشة الامر
C	النظر في القريب العالج في الموضوع
D	رفض الفكرة من الجذور

عمر



## النص الرابع: مهارة تحليل النصوص

في التاسع والعشرين من أكتوبر سنة 1956 م اعتدت بريطانيا وفرنسا وإسرائيل على مصر، وأنا مشغول البال، كل ما يدور في ذهني هو: كيف أستطيع أن أجعل المعتدي يخسر ولو بمقدار إبرة؟ خرجت في اليوم الأول من نوفمبر سنة 1956م، واتجهت إلى القاعدة البريطانية في الشارقة، كانت وجهتي حظيرة الدبابات، فأخرجت بعض الأوراق التي كتبت عليها أسماء اللاعبين باللغة الإنجليزية وموعد المباراة القادمة، كانت الرياح شديدة، فتركت بعض الأوراق تتطاير ناحية السياج الخارجي للقاعدة، فذهبت والتقطت الورقة، وإذا بالسياج مكوّن من ثلاث طبقات من الأسلاك الشائكة لا يستطيع الهزّ أن ينفذ من خلالها، في اليوم الثاني، خرجت من بيتنا حتى أصل إلى موقع مخزن الذخيرة، حتى إذا ما وصلت قريباً من المبنى وإذا بي أشاهد حراسة مشددة، وفي اليوم الثالث، ذهبت ليلاً إلى القاعدة البريطانية، لأستكشف مدى قوة الحراسة حول الطائرات الحربية، فاكتشفت وقت خروج ودخول العمال وأن الحراسة مكونة من جنديين بريطانيين يحمل كل واحد منهما بندقية وفي مقدمتها حربة، وكان الجنديان يتركان الحراسة ويذهبان لشراء علب البيرة ثم يعودان، وفي اليوم الرابع، ذهبت بعد الظهر إلى مبنى مراسلات اللاسلكي والهاتف، وهو مكان ذو أهمية كبيرة بالنسبة للاتصالات الدولية التابعة للقاعدة البريطانية، وكذلك لحركة المرور الجوي بالنسبة للطائرات العابرة في السماء، ففي الخارج لا توجد حراسة إلا على المدخل الرئيسي للمبنى، وخلف المبنى كانت هناك بوابة من خشب مغلقة بدون حراسة وبدون أسوار، في اليوم الخامس، اتجهت إلى الصحراء حيث منطقة "الفلج" .. بها محطة لضخ المياه للقاعدة البريطانية، شاهدت الأنبوبة المكشوفة كما كانت، فأكدت مكانها، في اليوم السادس، اتجهت إلى "المريجة"، حيث يوجد مبنى "غري مكزي" فقد استأجره القائد الإنجليزي لفرقة المجندين "الليفيز"، وكانت سيارة المندوب السعودي في البريمي، التي أخذها القائد الإنجليزي لنفسه بعد أن استولى على البريمي، وقام بترحيل المندوب السعودي وشيوخ البريمي إلى السعودية، موجودة أمام ذلك المبنى، وليس عليها أي حراسة إلا رجل كبير السن، وبعد كل ذلك الاستطلاع الشامل، قررت أن أبدأ العمل.





10

هدفت مهمة الراوي في اليوم الأول من نوفمبر 1956م:

- a. التعرف على أنواع الأسلاك المستخدمة في السياج
- b. مقابلة أعضاء النادي الرياضي
- c. التنظيم لموعد المباراة الرياضية
- d. استكشاف مدى إمكانية اختراق منشآت القاعدة البريطانية

9

عُرِف الاعتداء العسكري على مصر في أكتوبر 1956م، باسم:

- a. الحرب الأهلية
- b. الحرب العالمية الثانية
- c. الحرب العالمية الأولى
- d. العدوان الثلاثي



النص الرابع: مهارة تحليل النصوص



11

استهدف الراوي القاعدة البريطانية في جميع استطلاعاته بهدف:

a. التعبير عن رفضه للعدوان العسكري على مصر

b. الانتقام للمندوب السعودي وشيوخ البريمي

c. التعرف على مدى تطور المعدات العسكرية البريطانية

d. مراقبة مدى انتظام الموظفين البريطانيين في مواعيد العمل

12

المبنى الذي استهدفه الراوي في استطلاعاته، والذي يُعد الأكثر أهمية للقاعدة البريطانية دولياً:

a. مبنى غري مكنزي

b. مبنى المراسلات اللاسلكي والهاتف

c. مخزن الذخيرة

d. حظيرة الدبابات



النص الرابع: مهارة تحليل النصوص



السبب والنتيجة الوارد في النص	
A	تأميم القناة السبب النتيجة العدوان الثلاثي
B	طرد المندوب السعودي
C	وجود سيارة المندوب السعودي على باب القاعدة
D	وجود الانبوبة مكشوفة

من المباني التي قرر الراوي أنها تصلح لتنفيذ مخططاته:

- a. مخزن الذخيرة ومنطقة الطائرات الحربية
- b. مبنى غري مكنزي ومبنى المراسلات
- c. مخزن الذخيرة ومحطة ضخ المياه
- d. حظيرة الدبابات ومبنى المراسلات




النص الرابع: مهارة تحليل النصوص



مؤسسة الإمارات للتعليم المدرسي  
EMIRATES SCHOOLS ESTABLISHMENT

# إجابات السؤال الأول

8	7	6	5	4	3	2	1
A	C	B	B	C	B	C	B
			13	12	11	10	9
			B	B	A	D	D



عمر






مؤسسة الإمارات للتعليم المدرسي  
EMIRATES SCHOOLS ESTABLISHMENT

# السؤال الثاني حسب الهيكل

الجهود التي تبذلها الدولة في المجال التقني للمصادر الجغرافية  
لتلبية احتياجات وحماية البيئة وتحقيق التنمية المستدامة

الوحدة : طائر الحبارى

نوع السؤال : معلوماتي شكل



عمر



هذا الطائر ذو اللون البني الفاتح يمكن أن يبقى على قيد الحياة وينمو في الموائل القاحلة، كالصحاري شديدة الحرارة، وهو ما يعني أنه ملائم تمامًا للعيش تحت الظروف المناخية للإمارات العربية المتحدة. وتتعرض إلى الافتراس، والصيد غير المشروع، وتفيد في ممارسة رياضة الصيد وتقلص مساحة موائلها شمال إفريقيا، وجزر الكناري، وغرب الصحراء الكبرى حيث يقوم الصندوق الدولي للحفاظ على الحبارى في حماية طيور الحبارى من الانقراض من خلال العمل على إكثارها بهدف الحفاظ عليها وزيادة أعدادها. وقد نجح الصندوق منذ إنشائه وحتى الآن في إنتاج نحو 400 ألف طائر حبارى. هذا وقد أجرى المركز الوطني لبحوث الطيور أبحاثًا علمية موسعة حول بيئة هذه الطيور ومسارات هجرتها على نطاقاتها المتكاثرة، وذلك على مدار الـ 25 عامًا الماضية. وقدمت هذه البحوث معلومات بيئية مهمة وحيوية للحفاظ على الحبارى. طائر الحبارى هو طائر خجول جدًا ونادرًا ما يستخدم صوته.

يتخذ بيض الحبارى لونًا تشبه الأعشاش الصحراوية كنوع من "التخفي والتمويه" من أجل حمايته من هجمات الحيوانات المفترسة طائر الحبارى يعيش عبر آلاف الكيلومترات وفي عدة أقطار. وتبقى بعض الحبارى على مدار العام، إلا أن معظمها يقضي الشتاء على بعد آلاف الكيلومترات من مناطق التكاثر. تأكل الموجود من الغذاء النباتي والحيواني فهي تأكل النباتات وتصطاد اللافقاريات والفقاريات الصغيرة مثل السحالي والقوارض الصغيرة. يقضي طائر الحبارى معظم وقته على اليابسة بحثًا عن الطعام (البذور والحشرات والكائنات الصغيرة ويعتبر طائر الحبارى هو رمز صحاري شبه الجزيرة العربية وهو الطريدة الأولى والتراثية للصقارين وهو يشكل التحدي الكبير لهم ولصقورهم واصطياده يعطيهم الإحساس بالفخر والنصر الحبارى انفرادي إلى حد كبير، والحبارى يغذي وحدها أو في مجموعات صغيرة على الخنافس والنمل والنباتات، وحتى السحالي الصغيرة، عرض التكيف ملحوظا لبيئتها الجافة، لا يحتاج الحبارى للشرب، وبدلا من ذلك يتلقى كل الماء فإنه يتطلب من احتياجاتها الغذائية، ويقوم بالمشي كيلومترات أثناء البحث عن الطعام.

بعد قراءة النص قراءة متمعنة ضع دائرة حول رمز الإجابة الصحيحة :

14 طائر الحبارى ينمو في الموائل

1- الرطبة 2- القاحلة 3- المعتدلة 4- الخصبة

15 الطريقة التي يتخذها طائر الحبارى لحماية نفسه من الحيوانات:

1 - التخفي والتمويه 2- الهرب 3- الصيد 4- النوم الطويل

16 عمل الصندوق الدولي على حماية طائر الحبارى من خلال

1- انشاء المحميات 2- التكاثر 3- حمايتها من هجمات الحيوانات 4- نقله من موطنه

D- الصفة الغالبة على طائر الحبارى

17 جريئة 2- مفترسة 3- خجولة 4- طائر مائي

E- طيور الحبارى تعتمد في غذائها على مصدر

18 نباتي 2- الحيوانات الزاحفة 3 - الأسماك 4- نباتي وفقريات صغيرة

# خطوات رائدة نحو تعزيز الاستدامة

أغرافيك: حسام الحوراني

يهدف منتدى دبي الدولي الأول لأنماط الحياة المستدامة والذي يقام بتنظيم من مؤسسة زايد الدولية للبيئة وبالتعاون مع برنامج الأمم المتحدة للبيئة، إلى تعزيز أنماط الحياة المستدامة القائمة على تغيير أنماط السلوك البشري في مختلف المجالات البيئية وترشيد الاستهلاك للحد من الهدر غير المبرر للموارد الطبيعية وإعادة تدوير النفايات تعزيزاً لثقافة الاقتصاد الأخضر، وانطلاقاً من هذه الأهداف كانت الدولة حاضرة عبر عدة خطوات وساهمت بقوة في تعزيز التوجه العالمي نحو الاستدامة.

## حملات اتحادية لترشيد الاستهلاك

ترسيخ ثقافة ترشيد استهلاك الموارد الطبيعية

معدلات استهلاك الكهرباء

تقليل الاستهلاك الكبير لموارد الطاقة المحتملة في الماء والكهرباء



مواجهة استنزاف الموارد والحفاظ على أمن الطاقة في الدولة

## خطوات التخلص من النفايات

فرز النفايات وبيعها لمصانع إعادة التدوير  
استخدام النفايات العضوية لأغراض الزراعة والتشجير  
إعادة استخدام نفايات الإطارات في صناعة المطاط ورسف الطرق

## تغيير أنماط السلوك من خلال الاستراتيجيات

«النظام الإماراتي لمنتجات الإضاءة والرقابة عليها» ويهدف لتعزيز مبادرة البصمة البيئية

500

ميغاواط تطبيق النظام يخفض استهلاك الطاقة في الدولة بما يعادل

دعوات للتحويل إلى منتجات الإضاءة الفعالة الموفرة للطاقة

منع استيراد أو تداول أي منتجات إضاءة رديئة أو منخفضة الجودة

إصدار بطاقة بيان ترشيد استهلاك الطاقة لمكبات الهواء المنزلية



20 - 30

كيلو واط في الساعة معدل استهلاك الفرد اليومي للكهرباء في الدولة

15.7

كيلو واط في الساعة معدل استهلاك الفرد عالمياً للكهرباء



1.82

كيلوغرام إنتاج الفرد اليومي في الدولة من النفايات



0.9

كيلوغرام خطة وزارة البيئة لتخفيض إنتاج النفايات اليومي بحلول 2021

5.5

ملايين طن إجمالي النفايات البلدية الصلبة غير الخطرة في الدولة خلال 2014



550

لترأ يومياً استهلاك الفرد من المياه داخل الدولة

170  
300

لتر في اليوم المعدل العالمي لاستهلاك المياه



2025



20

من الإجراءات التي اتبعتها دبي لتحقيق الاستدامة	
A	استيراد مصادر رخيصة الثمن
B	عدم النظر الى جودة مصادر الطاقة
C	منع استيراد مصادر الطاقة الرديئة
D	تقليل استهلاك الطاقة المتجددة

22

آلية التخلص من النفايات في دبي	
A	التخزين
B	الحرق
C	إعادة التدوير
D	التصدير

19

لتحقيق أنماط التنمية المستدامة لا بد	
A	تغير سلوك الفرد
B	تطوير التكنولوجيا
C	اللجوء الى الطاقة البديلة
D	التخلص من النفايات

21

ما نوع الاقتصاد الذي تسعة له دبي	
A	الاقتصاد الأخضر
B	الاقتصاد البني
C	الاقتصاد الابيض
D	الاقتصاد الأزرق


عمر



مؤسسة الإمارات للتعليم المدرسي  
EMIRATES SCHOOLS ESTABLISHMENT

# إجابات السؤال الثاني

21	20	19	18	17	16	15	14
A	C	A	4	1	1	1	2
22							
C							



عمر






مؤسسة الإمارات للتعليم المدرسي  
EMIRATES SCHOOLS ESTABLISHMENT

# السؤال الثالث حسب الهيكل

يفسر الأهمية الاستراتيجية للمكان

الوحدة : قوة الاتحاد

نوع السؤال : معلوماتي شكل



COP28  
UAE

عمر



المكان يحمل أهمية استراتيجية كبيرة في عدة سياقات، سواء كانت في المجال العسكري، الاقتصادي، أو الاجتماعي. فيما يلي شرح لبعض الجوانب الاستراتيجية للمكان:

### 1. الموقع الجغرافي:

• الموقع الجغرافي يمكن أن يكون حاسماً في تحديد قدرة الدولة على التأثير في المنطقة المحيطة بها. مثلاً، دولة تقع في مكان استراتيجي على مفترق طرق التجارة الدولية تتيح لها الفرصة لتكون مركزاً اقتصادياً قوياً. مثال على الموقع الجغرافي مضيق هرمز

### 2. الأمان والدفاع:

• المكان يؤثر على إمكانية الدفاع والأمان الوطني. المواقع ذات الطبيعة الجيوغرافية المميزة يمكن أن تساعد في تحقيق أفضل استراتيجيات الدفاع والأمان. الدول المربعة الشكل

### 3. التجارة والاقتصاد:

• المواقع الاستراتيجية على المسارات التجارية يمكن أن تجذب الأنشطة الاقتصادية وتعزز التجارة الدولية. مثلاً، ميناء بحري يقع على مياه عميقة يمكن أن يكون مركزاً هاماً للشحن البحري والتجارة. الدول المنفتحة على المسطحات المائية

### 4. الثقافة والسياسة:

• المكان يمكن أن يكون مركزاً للنشاطات الثقافية والسياسية. عواصم الدول، على سبيل المثال، غالباً ما تكون مراكز للحكومة والثقافة والتأثير السياسي. مثل ابوظبي

### 5. البيئة الطبيعية:

• بعض المناطق قد تحتوي على موارد طبيعية هامة مثل النفط أو المياه العذبة، وهذا يمكن أن يكون له تأثير استراتيجي كبير على قوة واستقرار الدولة. شبه الجزيرة العربية

### 6. البنية التحتية:

• توفر البنية التحتية الموقعية، مثل الشبكات الطرقية والسكك الحديدية والمطارات، تأثيراً كبيراً على النشاط الاقتصادي والتواصل السريع.

فهم أهمية المكان يساعد الدول والمؤسسات على تحديد استراتيجياتها بشكل أفضل والاستفادة القصوى من المميزات الجغرافية المتاحة لها.

24

يمكن أن يكون المكان حاسمًا في تحديد قدرة الدولة إشارة إلى	
A	الموقع الجغرافي
B	الموقع السياسي
C	الموقع الثقافي
D	الموقع الاجتماعي

26

ورد مثال على أهمية المكان الجغرافية كموقع من خلال	
A	ابوظبي
B	شبه الجزيرة العربية
C	الأماكن المنفتحة
D	الدول المربعة

23

أين تكمن أهمية المكان في الجانب الثقافي	
A	المكان يؤثر على إمكانية الدفاع والأمان الوطني
B	بعض المناطق قد تحتوي على موارد طبيعية هامة
C	المكان يمكن أن يكون مركزًا للنشاطات السياسية مثل عواصم الدول
D	توفر البنية التحتية الموقعية، مثل الشبكات الطرقية

25

أهمية المكان يساعد الدول والمؤسسات على تحديد استراتيجياتها بشكل	
A	أقل
B	محدود
C	متمركز
D	أفضل


عمر



مؤسسة الإمارات للتعليم المدرسي  
EMIRATES SCHOOLS ESTABLISHMENT

# إجابات السؤال الثالث

26	25	24	23
A	D	A	C



عمر






مؤسسة الإمارات للتعليم المدرسي  
EMIRATES SCHOOLS ESTABLISHMENT

# السؤال الرابع حسب الهيكل

ماذا سيحدث لو لم تستجب دول العالم للقرارات الدولية في مجال  
البيئة

الوحدة : مواكبة الاحداث الجارية  
نوع السؤال : معلوماتي شكل



عمر



## تحديات

# عدم الامتثال للقانون البيئي

## منها

**التصحّر:** هو تعرض الأرض للتدهور في المناطق القاحلة وشبه القاحلة والجافة شبه الرطبة، مما يؤدي إلى فقدان الحياة النباتية والتنوع الحيوي بها، ويؤدي ذلك إلى فقدان التربة الفوقية ثم فقدان قدرة الأرض على الإنتاج الزراعي ودعم الحياة الحيوانية والبشرية.

**التلوث** يتسبب في مخاطر على صحة الانسان قد تمتد لفترات زمنية طويلة، وظهور العديد من الأمراض، كالأضرار السرطانية بمختلف أنواعها بسبب تلوث الهواء او التربة او المياه، ونتيجة لذلك تتعرض صحة الانسان لخطر الاصابة بالأمراض المزمنة او المعدية او المميتة والتي تتمثل في امراض الجهاز التنفسي والقلب والحنك والصدر واحتقان الأنف، او الاصابة بالالتهابات جلدية او انتشار وباء الكوليرا والمalaria وفيروس شلل الاطفال وامراض الكبد بسبب احتواء الماء على انواع مختلفة من الفيروسات والبكتيريا والفطريات الضارة

**الخطر البيولوجي:** يعتبر الخطر البيولوجي الأكثر أهمية في سلامة الأغذية ويشمل الميكروبات البكتيرية والفيروسات والفطريات وسمومها والطفيليات وبيض الديدان، والتي عادة ما توجد في البيئة المحيطة بالمادة الغذائية كالتربة والهواء والماء إضافة إلى الإنسان والحيوان

صممه عمر حسن



28

من العوامل المساعدة على التصحر

A	مخالفة قوانين الطبيعية
B	عدم الالتزام بالقانون الدولي لمكافحة الحشرات الضارة
C	القطع الجائر للغابات والاعتداء على الأراضي الزراعية
D	الحرائق الطبيعية

30

المحاور التي قد تتأثر بعدم الانصياع الاممي لحماية البيئة هي

A	التصحر والتلوث والاحتباس والخطر البيولوجي
B	قطع الغابات والصيد والمخلفات المنزلية والصناعية
C	ارتفاع درجة حرارة الأرض والنظام الصناعي
D	انخفاض الميزانية المخصصة لحماية البيئة

27

من اخطار عدم الالتزام بالقوانين البيئية العالمية التصحر فما هو

A	تدهور الغابات
B	تدهور الأراضي الزراعية والغابات
C	زيادة رقعة الصحراء
D	الجفاف

29

لجأت الدول الى وضع قوانين لمنع التلوث بسبب

A	الاضرار بالصحة البشرية
B	موت الاحياء البحرية
C	زيادة الاحتباس الحراري
D	جميع ما ذكر

عمر

كل ما تريد معرفته عن

# قمة المناخ في الإمارات

2023

تنتهي << تنطلق القمة

30 نوفمبر 2023 12 ديسمبر 2023

رئاسة القمة -- الإمارات

**يترأس القمة**

**الدكتور سلطان أحمد الجابر**

**تعدّد القمة**

**مدينة إكسبو في دبي**

**أهداف القمة**

• خفض الانبعاثات إلى صافي صفري

• مقاومة ارتفاع درجات الحرارة

• التزام الدول المتقدمة بـ 100 مليار دولار سنوياً للأهداف المناخية

• التوصل لهدف جماعي جديد لتمويل العمل المناخي بعد عام 2025

**أبرز موضوعات القمة**

• خفض انبعاثات الغازات الدفيئة

• تداول انبعاثات الكربون

• التأقلم مع الظواهر المناخية المتطرفة

**الحضور: من 197 دولة**

WWW.MAATGROUP.COM

الطريق إلى COP28

## الإمارات ومكافحة تغير المناخ

### عاصمة عالمية لاستدامة الكوكب

الاستثمار الدائري

• تمليك أفضل

• غرامسة تكوير

• للقطاعات بالمنطقة

• افتتحت مركز

• أبوظبي لإدارة

• القيات

الاستثمار الأزرق

• أولس دول المنطقة

• في لمنى الاقتصاد

• الأزرق

• تحمي سواحلها

• لاستدامة ثروتها

تستضيف مقر الوكالة الدولية للطاقة المتجددة

الاستثمار الأخضر

• 2012- أطلقت

• استراتيجية

• للتنمية الخضراء

مسارات الاقتصاد الأخضر تميز:

الحياة الخضراء

التعامل مع آثار التغير المناخي

السياسات الحكومية لتشجيع الاقتصاد الأخضر

www.cop28.com

32

القيمة التي تحقق مؤتمر كوب 28

العدل	A
الاستدامة	B
الفقر	C
التنمية	D

34

تحتل الامارات المرتبة الأولى في المنطقة في

الاقتصاد الأزرق	A
الاقتصاد البني	B
الاقتصاد الأخضر	C
الاقتصاد الأبيض	D

31

أي من التالي يحقق نجاح مؤتمر كوب 28

نجاح الامارات في تنظيم المؤتمر	A
حضور اكبر عدد من الدول	B
الانصياع الى الالتزامات الدولية حول البيئة	C
الاتفاق على انعقاد مؤتمر 29 كوب	D

33

أهم اهداف المؤتمر

تقليل الانبعاثات الكربونية	A
تحقيق الامن البيئي	B
تحقيق الأمن الغذائي	C
العمل المشترك	D


عمر



مؤسسة الإمارات للتعليم المدرسي  
EMIRATES SCHOOLS ESTABLISHMENT

## إجابات السؤال الرابع

34	33	32	31	30	29	28	27
A	A	B	C	A	D	C	B



عمر





مؤسسة الإمارات للتعليم المدرسي  
EMIRATES SCHOOLS ESTABLISHMENT

# مهارات خارجية

ضروري

2025

2024

عمر



COP28  
UAE



مؤسسة الإمارات للتعليم المدرسي  
EMIRATES SCHOOLS ESTABLISHMENT

# ملاحق المراجعة

ضروري

2025

2024

عمر



COP28  
UAE

شبه الجزيرة العربية تتميز بمجموعة من الخصائص الطبيعية والبشرية التي تجعلها مميزة. فيما يلي نظرة عامة على بعض هذه الخصائص:

### الخصائص الطبيعية:

#### 1. المناخ:

1. يسود في معظم المنطقة من شبه الجزيرة العربية مناخ صحراوي حار، مع درجات حرارة عالية خلال الصيف وانخفاض كبير في درجات الحرارة في الليل.
2. تتسم بتقلبات حادة في درجات الحرارة بين الليل والنهار (المناخ القاري)

#### 2. التضاريس:

1. تتنوع التضاريس بين الصحاري الواسعة والسهول والجبال.
2. يشمل الجزء الجنوبي من الجزيرة سلسلة جبال عسير وجبال الحجاز. وتصنف الجبال الى انكسارية كما هو الحال في جبال البحر الاحم والتوائية كما هو في الجبل الأخضر في عمان

#### 3. الموارد المائية:

1. الجزيرة العربية تعتبر واحدة من أكثر المناطق قلة في المياه في العالم.
2. تعتمد المنطقة بشكل كبير على مصادر المياه الجوفية ومشاريع تحلية المياه.

#### 4. البيئة البحرية:

1. تحدها المياه من جهتي الشرق والغرب والجنوب، مما يعزز أهمية الصيد والاقتصاد البحر

### خصائص البشرية:

#### 1. الثقافة والتراث:

1. الجزيرة العربية تحتضن تاريخاً غنياً من الثقافات والتقاليد، مع تأثيرات من العديد من الحضارات القديمة والديانات.

#### 2. الاقتصاد:

1. يعتمد الاقتصاد على النفط والغاز الطبيعي، مما يجعلها من أكبر منتجي ومصدري النفط في العالم.

#### 3. التنوع الاجتماعي:

1. تعد الجزيرة العربية موطناً لمجتمعات متنوعة بأعراق وثقافات مختلفة.

#### 4. التحضر والتطور:

1. شهدت المدن في الجزيرة تطوراً كبيراً خاصة في المجالات العمرانية والتكنولوجية في العقود الأخيرة.

#### 5. اللغة:

1. اللغة العربية هي اللغة الرسمية، ولكن هناك تنوع لغوي بين الدول.

#### 6. الديانة:

1. الإسلام هو الدين السائد، ويتسم المجتمع بالتمسك بالقيم والتقاليد الإسلامية.

يجمع هذا الاستعراض بين الجوانب الطبيعية والبشرية لسبب الجزيرة العربية، مما يعكس تنوعها وغناها في العديد من الجوانب

2

واحد من المسطحات المائية لا تشرف عليه شبه الجزيرة العربية	
A	بحر عُمان
B	الخليج العربي
C	البحر المتوسط
D	البحر الأحمر

4

ينسب المناخ القاري لمرور	
A	مدار السرطان
B	مدار الجدي
C	خط غرينتش
D	دائرة الاستواء

1

تتصف شبه الجزيرة العربية بانها	
A	منطقة حبيسة مغلقة
B	تشرف على مسطحات مائية ،
C	تشرف على المحيط الاطلسي
D	حدودها البرية من الشمال اليمن

3

يعود ضيق السهل الساحلي الشرقي للبحر الأحمر بسبب	
A	الامتداد الكبير
B	وجود الجبال
C	الظروف المناخية
D	الموقع في المنطقة المدارية

عمر



6

أكبر صحاري شبه الجزيرة العربية	
A	النفوذ
B	فكتوريا
C	الربع الخالي
D	الدهناء

8

تشكل معظم مساحة اليمن	
A	هضبة نجد
B	هضبة التبت
C	هضبة الشطوط
D	هضبة حضرموت

5

تتركز الجبال في شبه الجزيرة العربية في	
A	الغرب والجنوب الغربي
B	الشمال الغربي والجنوب الغربي والغرب
C	الشرق والشمال الشرقي
D	الوسط والجنوب

7

أشهر جبال شبه الجزيرة العربية	
A	مدين والحجاز وعسير
B	جيس والجبل الأخضر والقرنة السوداء
C	جبال اطلس وزاغروس
D	جبال الحجاز واطلس وحفيت

عمر

10

مصادر المياه في شبه الجزيرة العربية	
الأمطار	A
المياه الجوفية	B
تحلية مياه البحر والمياه الجوفية	C
الأمطار والمياه الجوفية	D

12

اللغة السائدة في شبه الجزيرة العربية	
العربية	A
الفرنسية	B
الانجليزية	C
الدين الإسلامي	D

9

أي من الجبال التالية جبال انكسارية	
الحجاز	A
الجبل الأخضر	B
الحجاز وعسير	C
جبل حفيث	D

11

يعتمد الاقتصاد في شبه الجزيرة العربية	
النفط والغاز	A
الحديد والمعادن الثمينة	B
الطاقة النووية	C
الصناعة والسياحة	D

عمر



دلالة على الموقع 16-32N					<b>1</b>
الموقع المكاني	D	دوائر العرض	C	الفلكي	B
					A

دولة من دول المجلس عاصمتها مسقط					<b>2</b>
الكويت	D	عمان	C	البحرين	B
					A



يمر من ثلاث دول خليجية مدار					<b>3</b>
الكويت	D	السرطان	D	الاستواء	C
					B
					A

دولة تشرف على البحر الأحمر					<b>4</b>
الكويت	D	الامارات	C	السعودية	B
					A

دولة لها حدود برية مع جميع دول الخليج					<b>5</b>
الامارات	D	البحرين	C	السعودية	B
					A

دولة تخدم دول مجلس التعاون من الجنوب					<b>6</b>
اليمن	D	العراق	C	الأردن	B
					A

مسطح مائي لا تشرف عليه دول مجلس التعاون الخليجي					<b>7</b>
المحيط الأطلسي	D	بحر العرب	C	البحر الأحمر	B
					A

35

60

1



## اختر الإجابة المناسبة



2


1	تقع المرتفعات الجبلية في دول مجلس التعاون الخليجي في جهة	A	الشرق	B	الجنوب	C	الغرب	D	الشمال
2	سلسلة جبال تقع في شمال غرب شبه الجزيرة العربية	A	الحجاز	B	جيس	C	الأخضر	D	عسير
3	السهول الساحلية الغربية توصف	A	ضيقة	B	منحدرة	C	واسعة	D	طويلة
4	السهول الساحلية الشرقية واسعة بسبب عدم وجود	A	الانهار	B	الهضاب	C	الجبال	D	البحار
5	من الخريطة استنتج اسم الجبال المرتفعة في جنوب غرب السعودية	A	جيس	B	الأخضر	C	عسير	D	الحجاز
6	صحراء تقع في جنوب شبه الجزيرة العربية	A	الاحساء	B	النفوذ	C	الربع الخالي	D	الدهناء
7	تحمل المنطقة الوسطى في شبه الجزيرة العربية اللون	A	البنبي	B	الأحمر	C	الأخضر	D	الأصفر



مؤسسة الإمارات للتعليم المدرسي  
EMIRATES SCHOOLS ESTABLISHMENT

# إجابات السؤال الأول في الملحق

8	7	6	5	4	3	2	1
D	A	C	B	A	B	C	B
				12	11	10	9
				A	A	C	C



عمر





14

ارتباط الزراعة بـ	
A	الأمطار والتربة الخصبة
B	الصناعة والتجارة
C	الحرارة والأمطار والتربة الخصبة
D	النتاج المحلي غير النفطي

16

أكثر المناطق الزراعية موجودة في	
A	الشمال الشرقي
B	الشمال الغربي
C	الجنوب الغربي
D	الشرق

13

يمكن وصف المناطق الزراعية في شبه الجزيرة العربية بـ	
A	الكثافة
B	التركز
C	مبعثرة
D	مبعثرة ونادرة

15

تتركز الزراعة في	
A	الساحل
B	الجبال
C	الصحراء
D	الواحات

عمر

# النفط في دول الخليج العربية

- حقل نفط (Green oval)
- حقل غاز طبيعي (Pink oval)
- خطوط أنابيب (Red line)





18

أكبر حقول النفط هو حقل	
الغوار	A
حبشان	B
ناطح	C
الروضتين	D

17

قطاع اقتصادي يساهم بشكل كبير في الناتج المحلي لدول المنطقة	
الغاز	A
النفط	B
الزراعة	C
السياحة	D

20

تتركز حقول النفط البحرية في	
بحر عمان	A
الخليج العربي	B
البحر الأحمر	C
البحر المتوسط	D

19

من خلال متابعة الخريطة يوحي الشكل ان الاقتصاد في المنطقة	
غير نفطي	A
نفطي	B
الطاقة المتجددة	C
السياحة	D

عمر

النقل والتخزين والاتصالات

7%



الصناعات التحويلية

7%



الانشاءات

10%



التعلم والصحة  
والعمل الاجتماعي

13%



أخرى

11%



22

يتفوق قطاع التعليم على النقل

A	%6
B	%13
C	%7
D	%11

21

مجموعة مساهمة قطاع النقل والانشاءات هو

A	%17
B	%20
C	%18
D	%21

24

أي من التالي يعتبر صناعة تحويلية

A	استخراج النفط
B	الاغذية
C	التعدين
D	الاسمنت خام

23

نسبة مساهمة قطاع النفط في الناتج القومي

A	%40
B	%48
C	%52
D	%100

عمر

# الإمارات 2021..

## 5 ركائز تحرك الاقتصاد

إكسبو 2020 دبي

تداول خام مبران

حزم مبادرات الخمسين

استراتيجية صناعية  
بـ300 مليار درهم

اعتماد أضخم تطوير  
تشريعي بتاريخ الدولة

5  
ركائز

### مشروعات ضخمة

استثمارات واردة بتريليون  
درهم

حملة "أجمل شتاء في  
العالم"

الحياد المناخي بحلول  
2050

تحقيق زيادة بـ45 مليار  
درهم مع 10 أسواق خارجية

600 مليار درهم في  
الطاقة المتجددة

زيادة استثمارات أدنوك  
إلى 466 مليار درهم

من أفضل  
10 دول في  
425 مؤشراً

الأولى  
عالمياً في  
152 مؤشراً

أرقام  
قياسية

26

من المتوقع ان تشهد الدولة الحياد المناخي في عام	
2040	A
2030	B
2020	C
2050	D

28

احتلت الامارات في 152 مؤشر المركز على مستوى العالم	
الثاني	A
الثالث	B
الأول	C
الرابع	D

25

عدد المحاور التي تحرك الاقتصاد	
5	A
6	B
3	C
4	D

27

القيمة الواردة في الشكل	
التضحية	A
الاستثمار	B
العدالة	C
الاخلاص	D

عمر

# التجارة الخارجية غير النفطية للإمارات أرقام تاريخية

## الصادرات غير النفطية

2.154

تريليون درهم

## السنوات الـ 10 الماضية

## التجارة الخارجية غير النفطية

16.14

تريليون درهم

## واردات الإمارات

9.5






تريليون درهم

## إعادة التصدير






4.5

تريليون درهم






## أهم مستقبلي صادرات الإمارات غير النفطية

254	الهند		1
205.5	السعودية		2
193	سويسرا		3
120	سلطنة عمان		4
117	تركيا		5






## أهم موردي السوق الإماراتي

1500	الصين		1
822	الهند		2
801	أمريكا		3
475	اليابان		4
427	ألمانيا		5

## الشركاء التجاريون

1719	الصين		1
1404	الهند		2
984.6	أمريكا		3
904.3	السعودية		4
530.6	سويسرا		5

## أهم مستقبلي إعادة تصدير الإمارات

472	السعودية		1
423	إيران		2
357	العراق		3
328	الهند		4
169	هونغ كونج-الصين		5

الأرقام بالعمود درهم

30

في العشر سنوات الأخيرة كان وضع التجارة غير النفطية	
زيادة	A
ثابتة	B
تراجع	C
تذبذب	D

29

كانت واردات الامارات في العشر السنوات الأخيرة	
16,14 تريليون درهم	A
9,5 تريليون درهم	B
4,5 تريليون درهم	C
2,154 تريليون درهم	D

32

أهم موردي السوق الاماراتي	
الهند	A
الصين	B
اليابان	C
المانيا	D

31

اهم مستقبلي الصادرات غير النفطية	
السعودية	A
عمان	B
تركيا	C
الهند	D

عمر

# التعاون والتكامل الاقتصادي بين دول مجلس التعاون: الإنجازات والعقبات

نشأ مجلس التعاون الخليجي في مايو/أيار من سنة 1981 ككتلة وكتنظيم إقليمي ودولي جمع دول الخليج الست بهدف تحقيق التكامل الاقتصادي والانسجام السياسي فيما بينها. وتميّزت المسيرة نحو التكامل بالبطء الشديد، تخللتها إنجازات عدّة وعوائق أبطأت من تحقيق كافة الإنجازات المرجوة.

## عقبات تبطئ مسيرة التكامل الاقتصادي

- ◉ عدم وجود شبكة مواصلات متطورة
- ◉ ضعف إسهام القطاع الخاص في الناتج المحلي
- ◉ شحّ في مدى وفرة البيانات الخليجية والمعلومات الإحصائية
- ◉ الخلافات السياسية ودورها في تأخير بعض الاتفاقيات أو تفعيلها
- ◉ عدم قدرة بعض الدول على تحقيق المعايير المعتمدة للتقارب الاقتصادي



**ثاني عشر**  
أكبر اقتصاديات العالم

**عاشر أكبر**  
مستورد في العالم

**خامس أهم**  
اقتصاد من حيث حجم التبادل التجاري مع العالم

**رابع أكبر مصدر**  
للعالم بعد الصين ثم الولايات المتحدة وألمانيا

2013

**514**  
مليار دولار  
واردات المجلس

**921**  
مليار دولار  
مجمّل صادرات دول المجلس

**1.62**  
تريليون دولار  
حجم اقتصاد دول مجلس التعاون

2024

## من إنجازات مجلس التعاون

- ◉ إنشاء الاتحاد الجمركي
- ◉ تفعيل السوق الخليجية المشتركة
- ◉ تعاون وتنسيق عالي المستوى في المجالات الأمنية والعسكرية والثقافية
- ◉ نشاط التجارة البينية بين دول المجلس (100 مليار دولار العام 2013)
- ◉ اعتماد جملة من المشاريع الحيوية (الربط المائي والكهربائي وسكة الحديد)



34

ترتيب دول المجلس من حيث تصديري العالمي	
A	الرابع بعد الولايات المتحدة
B	الخامس بع الصين
C	الرابع بعد الصين
D	الثاني عشر

36

القيمة الاقتصادية الواردة	
A	الاستثمار
B	التكامل الاقتصادي
C	الاتحاد الجمركي
D	الامن الغذائي

33

ما هي اهم عقبات التكامل الاقتصادي الخليجي	
A	عدم وجود شبكة المواصلات
B	مساهمة القطاع الخاص في الناتج
C	الوحدة السياسية بين الدول
D	وجود اتحاد جمركي

35

الفرق بين صادرات وواردات دول المجلس		
A	514	
B	921	
C	407	
D	1435	

عمر

شكل رقم (3) أهمية الصادرات البينية غير النفطية بالنسبة لدول مجلس التعاون الخليجي



38

الدولة التي تحتل المرتبة الأخيرة في الصادرات البينية غير النفطية	
الإمارات	A
الكويت	B
قطر	C
عمان	D

40

ما هي نسبة الصادرات البينية النفطية الإماراتية	
%91.8	A
%8.91	B
%50	C
%82	D

37

الترتيب الصحيح للصادرات البينية غير النفطية اول ثلاث دول	
عمان والسعودية والبحرين	A
عمان قطر والبحرين	B
الإمارات والسعودية والبحرين	C
عمان والسعودية والكويت	D


39

ما حجم تفوق السعودية على الإمارات	
8.2	A
43.7	B
29.9	C
38.1	D


عمر

# إجابات السؤال الثاني في الملحق

20	19	18	17	16	15	14	13
B	B	A	B	C	D	C	C
28	27	26	25	24	23	22	21
C	B	D	A	B	C	A	c
36	35	34	33	32	31	30	29
B	C	C	A	B	D	A	B
40	39	38	37				
A	C	A	A				



نسبة اهم الانشطة الاقتصادية  
في الإنتاج الصناعي خلال الربع الثاني  
( إبريل - يونيو ) ٢٠٢٠





1

يعد مبنى الهيئة المستدامة أكبر المباني الحكومية في العالم وحاصل على التصنيف البلاتيني للمباني الخضراء

تتبنى كهرباء دبي أسلوب التنمية المستدامة كنهج مستقبلي، لجعل مكانة دبي عاصمة عالمية الاقتصاد الأخضر ومن هذا المنطلق، قامت الهيئة بالعديد من الخطوات لتحقيق الريادة العالمية

2021

30000

تعمل هيئة مياه وكهرباء دبي على إعادة المباني لتصبح مباني خضراء

تبوأَت الدولة مركزاً ريادياً عالمياً في الاستدامة والاقتصاد الأخضر تماشياً مع رؤية الإمارات 2021

3000

100

محطة لشحن السيارات الكهربائية لتكون جاهزة مع نهاية العام الحالي

ميغا واط القدرة الإنتاجية لمجمع محمد بن راشد للطاقة الشمسية والذي يعكس تنوع مصادر الطاقة في الامارة

15%

3.26%

الفاقد في شبكات نقل وتوزيع الكهرباء دبي متفوقة بذلك على شركات عالمية

نسبة الطاقة المتجددة ضمن مزيج الطاقة في دبي بحلول عام 2030

كهرباء دبي الرابعة عالمياً في سهولة الحصول على الكهرباء

4



المواطنة الإيجابية هي مفهوم يشير إلى المشاركة الفعالة والإيجابية في المجتمع والالتزام بالواجبات والمسؤوليات المدنية. يمكن أن تتضمن هذه المشاركة مجموعة من السلوكيات والأفعال التي تعزز التفاعل الإيجابي بين أفراد المجتمع وتسهم في بناء بيئة حية ومستدامة. وقيل أن المواطنة هي علاقة الفرد بالوطن الذي ينتسب إليه، والتي تفرض حقوقاً دستورية وواجبات منصوصاً عليها بهدف تحقيق مقاصد مشتركة ومتبادلة، والمواطنة الإيجابية لا تقتصر على مجرد دراية المواطن بحقوقه وواجباته فقط، ولكن أيضاً على حرصه على ممارستها من خلال شخصية مستقلة قادرة على حسم الأمور لصالح هذا الوطن إليك بعض الجوانب المهمة للمواطنة الإيجابية:

1. الالتزام بالواجبات المدنية: يتضمن ذلك الامتثال للقوانين واللوائح، والمشاركة في العمليات الديمقراطية مثل التصويت في الانتخابات.

2. المشاركة الاجتماعية: يشمل ذلك المشاركة في الأنشطة المجتمعية والعمل التطوعي، حيث يمكن للأفراد المساهمة في تحسين الظروف المحيطة بهم.

3. التعاون والتفاعل الإيجابي: يتضمن ذلك التعاون مع الآخرين والمساهمة في خلق بيئة إيجابية ومحفزة.

4. المحافظة على البيئة: يمكن للمواطن الإيجابي أن يكون واعياً لأثره على البيئة ويتخذ إجراءات للمحافظة عليها.

5. التفاعل الإيجابي مع الثقافات المختلفة: يشمل ذلك فهم واحترام التنوع الثقافي والتعايش بسلام مع الأفراد ذوي الخلفيات المتنوعة.

تعتبر المواطنة الإيجابية أساساً هاماً لبناء مجتمع قوي ومستدام، حيث يعتبر كل فرد جزءاً مهماً من النظام الاجتماعي ويسهم في تشكيل مستقبل

العناصر الأساسية للمواطنة

•العنصر المدني يتضمن الحرية الفردية، وحرية التعبير والاعتقاد والإيمان، وحق التملك، والحق في العدالة، وتحقيق العنصر المدني في المواطنة في المؤسسات القضائية.

•العنصر السياسي يعني الحق في المشاركة في الحياة السياسية بوصف المواطن عنصراً فاعلاً في السلطة السياسية، من خلال البرلمان.

•أهمية المواطنة- تضمن المساواة والعدل والإنصاف بين المواطنين أمام القانون

42

يقوم المواطن بالمشاركة في الأنشطة الاجتماعية والتطوع لتحسين ظروف المجتمع. أي محاور المواطنة يحقق الهدف

A	العدالة
B	الالتزام بالقيم
C	المسؤولية المجتمعية
D	التربية على القيم

44

حصول جميع افراد المجتمع على فرص متكافئة في العمل يحقق مبدأ

A	الالتزام بالقيم
B	العدالة
C	حب الوطن
D	المسؤولية

41

تتضح المواطنة الإيجابية من خلال

A	الشخصية
B	المعرفة
C	السلوك
D	المال

43

أي من التالي يمثل مقومات المواطنة

A	حب الوطن والولاء للقيادة
B	تعميق الثقافة العالمية
C	الايمان بوحدة الإنسانية
D	التعاون مع القطاع الحكومي فقط

عمر





46

التعاون مع الآخرين والمساهمة في خلق بيئة إيجابية ومحفزة	
A	المشاركة الاجتماعية
B	التعاون والتفاعل الإيجابي
C	المحافظة على البيئة
D	التفاعل الإيجابي مع الثقافات المختلفة

48

يوصف المواطن عنصراً فاعلاً في السلطة السياسية من خلال	
A	الحكومة
B	المجلس الوطني
C	الوزارة
D	السلطة

45

تكمن أهمية المواطنة في	
A	المساواة والعدل والإنصاف
B	الحرية والسلوك والتعاون
C	الربح المادي
D	التكامل الاقتصادي

47

المواطنة هي	
A	هي علاقة الفرد بالأسرة
B	هي علاقة الفرد بالعمل
C	هي علاقة الفرد بالسياسة
D	هي علاقة الفرد بالوطن


عمر



مؤسسة الإمارات للتعليم المدرسي  
EMIRATES SCHOOLS ESTABLISHMENT

# إجابات السؤال الثالث في الملحق

41	42	43	44
C	C	A	B
45	46	47	48
A	B	D	B



عمر



قبل ظهور الإسلام، كانت الجزيرة العربية موطنًا لعدة قبائل عربية متفرقة. كانت هذه القبائل تتسم بالحياة القبلية والاعتماد على الرعيّة والتجارة. قد تمثلت الاقتصادات في الرعيّة والزراعة البسيطة، وكانت الحياة الاجتماعية والسياسية مرتبطة بالأسرة والقبيلة. كانت هناك بعض المدن في الجزيرة العربية، مثل مكة والمدينة، ولكن الحضارة العربية قبل الإسلام لم تكن ذات تطور كبير مقارنةً ببعض الحضارات الأخرى في العالم في ذلك الوقت.

اللغة العربية كانت لغة الشعر والخطب، وكان الشعر جزءًا مهمًا من التراث الشفهي للعرب. كما كانت هناك بعض التقاليد والعادات الاجتماعية والدينية التي كانت تؤثر في حياة الناس.

من الجدير بالذكر أن الفترة الزمنية التي تسبق الإسلام شهدت أحداثًا سياسية واجتماعية، وكانت هناك نزاعات بين القبائل والصراعات الدائمة بينها. في هذا السياق، فإن ظهور الإسلام في القرن السابع الميلادي كان له تأثير كبير على هذه البيئة الثقافية والاجتماعية، وساهم في تحويل الجزيرة العربية إلى مركز للحضارة الإسلامية.

قبل مولد النبي الحبيب في جزيرة **العرب**، كان الإنسان يعاني من انتشار الفساد بشكل أو بآخر، انغلقت العقول وضاعت الآفاق وأصبح التعصب والتقليد الأعمى عنوان حياتهم، إلا قليل من الذين اعتزلوا هذا العصر الجاهلي، وانصرفوا بعيدًا عن هذا الزيف، وأطلق على هؤلاء الفئة الحنفاء، فهم يهجرون ما يحيط بهم من آثام ويبحثون عن الدين السليم ليتبعوه، وكانوا يعيشون على فطرة سيدنا إبراهيم، هنا أذن الله أن يرسل للبشرية من ينير طريقهم ويعيدهم لصوابهم خاصة بعد مرور 500 عام على رحيل سيدنا عيسى، لتسطع مكة بالسنا لقدم سيد المرسلين الصادق الأمين. إذا انتقلنا **للعرب** فهناك منهم من كان يعيش في شبه الجزيرة العربية، ومنهم من كان يقطن أطراف الجزيرة، فبالنسبة لمن عاشوا في شبه الجزيرة العربية فهم قبائل لا تجمعهم إدارة واحدة ولا هدف مشترك، كل ما كان يشغلهم -في ذلك الوقت- هو ذبوع صيت القبيلة لتكتسب شهرة أكبر وثهمين على القبائل الأخرى، وتعتز كل قبيلة بشيخ لها من أبنائها، وهو كالأب لقبيلته يدافع عنهم ويحبونه ويطيعون أمره.

وكان **العرب** يعبدون الأصنام والحجارة التي ينحتونها ثم يسجدون لها، وأحيانًا يصنعونها من التمر فإذا جاع أحدهم أكله، وفي المعاملات المالية تجدهم يبيعون البشر كما يبيعون السلع والأنعام، وانتشرت تجارة العبيد في ذلك الوقت.

ارتكز النظام الاقتصادي في الإسلام على أصليين أساسيين:

الأول الاعتراف بمواهب الفرد وحقه المقدس في ثمار عمله وكفاحه، والسماح له بحرية ضمن إطار القيم المعنوية والخلقية للإسلام.

والثاني تقرير حق المجتمع في كسب الفرد، ووجوب التضامن والتكافل الاجتماعي بين أبناء الأمة، فوضعت الشريعة مبدأ إشراف ولي الأمر على النشاط العام، وتدخل الدولة لحماية المصالح العامة وحراستها.

كما نص على منع ممارسة مجموعة من النشاطات الاقتصادية المعيقة عن تحقيق القيم التي يتبناها الإسلام، كالربا والاحتكار وغير ذلك.

كان **العرب** حتى ظهور الإسلام شعبًا شبه منعزل، لم تتح له الفرصة الكافية في الاختلاط بالشعوب المتمدنة، فظل متشبثًا بتقاليده وأفكاره، محافظًا على لغته التي تعتبر مظهر حياته العقلية.

50

العبادة التي كانت قبل الإسلام عبادة	
A	النصرانية
B	الاصنام
C	اليهودية
D	الكواكب

49

النظام السياسي قبل الإسلام في معظم المناطق	
A	القبلي
B	الملكي
C	الجمهوري
D	الرئاسي

عمر

52

تركز النظام السياسي المتطور في	
A	مكة
B	وسط الجزيرة العربية
C	اطراف شبه الجزيرة العربية
D	المدينة المنورة

51

ما هي العادة الاجتماعية السيئة التي كانت قبل مولد الرسول	
A	الكرم
B	إغاثة الملهوف
C	العصبية القبلية
D	الانغلاق الفكري

54

كانت القبائل قبل الإسلام في حال	
A	اتفاق
B	تضامن وتعاون
C	الصراعات والخلافات
D	الوحدة السياسية

56

كان الوضع الاجتماعي للمرأة قبل الإسلام	
A	مكرمة
B	مهانة
C	وأد الفتاة
D	محتشمة ومكرمة عند معظم القبائل

53

ارتكز الاقتصاد الإسلامي على ركزتين	
A	الاعتراف بالمواهب وتقرير حق المجتمع بالكسب
B	تقييد بالمواهب وتقرير حق المجتمع بالكسب
C	الاعتراف بالمواهب واحتكار حق المجتمع بالكسب
D	الاعتراف بالمواهب

55

موقف الإسلام من الربا والاحتكار	
A	حرام
B	مكروه


عمر



مؤسسة الإمارات للتعليم المدرسي  
EMIRATES SCHOOLS ESTABLISHMENT

# إجابات السؤال الثالث 2 في الملحق

56	55	54	53	52	51	50	49
D	A	C	A	C	C	B	A



COP  
UAE

عمر



تحقيق إنجازات الوطن هو عمل مشترك يتطلب جهوداً متكاملة من قبل المواطنين والحكومة والقطاع الخاص. إليك بعض الجوانب التي قد تسهم في تحقيق إنجازات وتقدم وطني:

1-التعليم والتدريب: تعزيز التعليم والتدريب المهني لضمان تأهيل نفسك لسوق العمل. دعمك للبحث العلمي وتطوير التكنولوجيا لرفع مستوى الابتكار  
2-الحفاظ على الثقافة والهوية الوطنية:

1. دعم وتعزيز الثقافة والهوية الوطنية من خلال الفن والأدب.
2. الاحتفاظ بالتراث الوطني وترويجه.

3-التعاون المجتمعي:

1. تشجيع على المشاركة المجتمعية في عمليات اتخاذ القرار.
2. تعزيز الروح الوطنية والمسؤولية المجتمعي

4-التنمية المستدامة:

1. التركيز على التنمية المستدامة للحفاظ على الموارد الطبيعية. وهذا من خلال تقليل الاستهلاك
2. تعزيز الزراعة المستدامة والطاقة النظيفة.إذا كان دورك صناعي الحفاظ على البيئة واستخدام الطاقة المتجددة

5-الرعاية الاجتماعية:

1. تحسين خدمات الصحة والتعليم لضمان رفاهية المواطنين.دورك في المقابل الحفاظ على المرافق الصحية العامة
2. تعزيز المساواة والعدالة الاجتماعية. مع احترام حريات الآخرين والابتعاد عن العصبية وعدم التحيز

6-الدبلوماسية والعلاقات الدولية:

1. بناء علاقات دولية قوية لتعزيز التعاون الاقتصادي والسياسي. يكون دورك مراعاة تعكس ثقافات المجتمع وعاداتها الجيدة
2. المشاركة الفعالة في المنظمات الدولية من خلال الابتكار الفردي .

المساهمة في تعميق فهم جيل المستقبل وفق برؤية مئوية الإمارات 2071 واستيعاب مضامينها وأبعادها رفع وعيك بأهمية دورك في استشراق • المستقبل والبدء بالإعداد والاستعداد للمساهمة الفاعلة في تحقيق الرؤية تعزيز سمات الطالب الإماراتي المعرفية ومهاراته الشخصية كدورك التعليمي وذلك لإعداده لاقتصاد المعرفة وتعزيز ثقافة الابتكار والريادة لديه صقل مواهبك واهتماماتك على اختلافها وتنوعها بما يخدم مصلحة الوطن وتوجهاته الكبرى حاضرا ومستقبلا مع خلق مساحة رقمية واسعة لتوثيق تطلعاتك ومشاركك ومتابعتها على نطاق وطني

58

دورك في الحفاظ على الثقافة والهوية الوطنية	
A	حماية التراث الوطني
B	تجاهل المعارف والثقافات
C	الحياد عند الاعتداء على هويتي
D	التركيز على التنمية المستدامة

60

ما هي المعايير التي تؤهلك لدعم الإنجاز الوطني	
A	المعرفة والتدريب والابتكار والمسؤولية
B	التدريب والابتكار
C	التدريب الجاد
D	الابتكار

57

تحقيق إنجازات الوطن يتطلب عمل من	
A	المواطن
B	القطاع العام
C	القطاع العام والخاص
D	المواطن والحكومة والقطاع العام والخاص

59

دورك الاجتماعي والسياسي والاقتصادي يظهر من خلال	
A	السلوك
B	المعرفة النظرية
C	المساهمة الفاعلة والمسؤولية الاجتماعية
D	الاجتهاد الشخصي دون انعكاس الأثر

عمر






مؤسسة الإمارات للتعليم المدرسي  
EMIRATES SCHOOLS ESTABLISHMENT

# إجابات السؤال الرابع في الملحق

57	58	59	60
A	C	A	C



COP20  
UAE

عمر





# مهارة الخط الزمني





« كانت زيارة لويس بيلى للمنطقة عام 1863 وهي تأتي بعد ما كتب ديفيد سيتون عن المنطقة عام 1801 لتصور حدث تاريخي هام عن سكان المنطقة وقد عزز هذا المفهوم تقرير القنصل الأمريكي عام 1968 والذي شهد هذا العام خروج القوات البريطانية من المنطقة ليأتي النور مع صاحب السمو الشيخ زايد رحمه الله عام 1971 وقيام دولتنا الغالية »

النشاط رقم 14: أي من التالي يعتبر تعبير صحيح عن الخط الزمني للإحداث الواردة في النص ؟

1801	1863	1968	1968	1971	B
لويس بيلى	لي دينز مور	قيام الدولة	انسحاب بريطانيا	ديفيد	

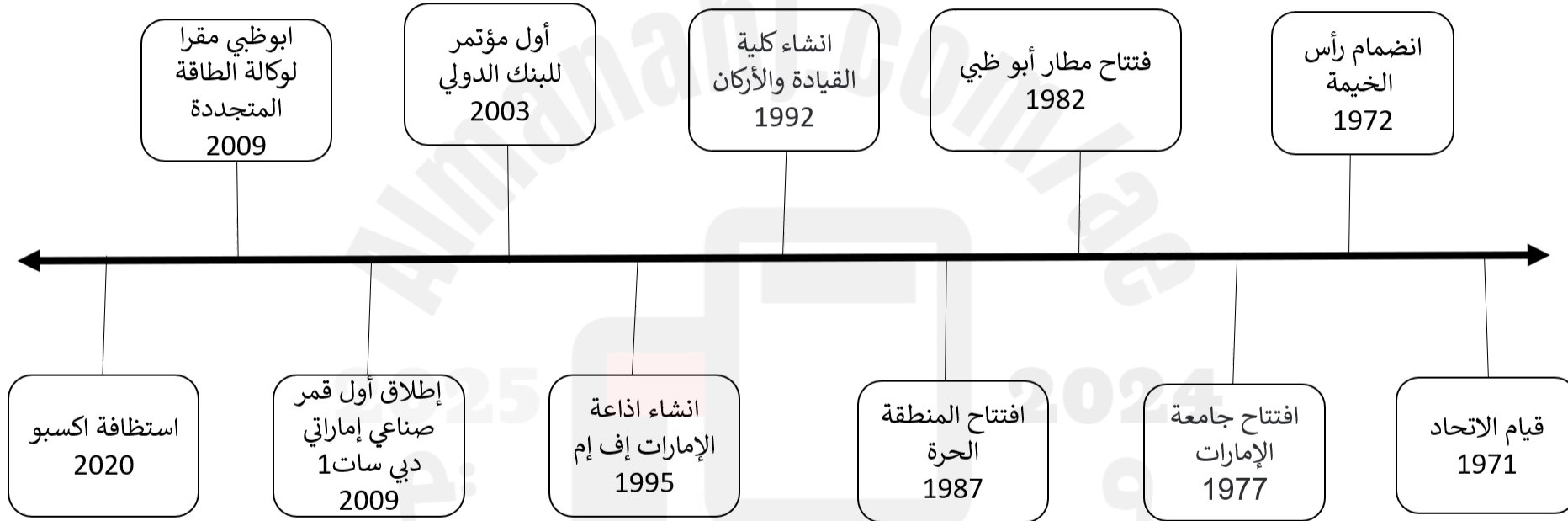
1801	1863	1968	1968	1971	A
قيام الدولة	لي دينز مور	لويس بيلى	انسحاب بريطانيا	ديفيد	

1801	1863	1968	1968	1971	C
ديفيد	لويس بيلى	لي دينز مور	انسحاب بريطانيا	قيام الدولة	

1801	1863	1968	1968	1971	C
لويس بيلى	ديفيد	لي دينز مور	انسحاب بريطانيا	قيام الدولة	



## خط زمني مختصر





# مهارة الرسوم البيانية





أقرأ واستنتج

أقرأ بتمعن الشكل (1-6) الوارد في كتاب (التكنولوجيا ومستقبل الطاقة) في صفحة (34)، ثم أجب عن الأسئلة الآتية:  
أستخرج حقيقة اقتصادية من الرسم البياني.

**تعد إيران والسعودية البلدين الرئيسيين المستهلكين للطاقة في منطقة الشرق الأوسط**

على الطاقة الأولية في الشرق الأوسط.

الثالثة

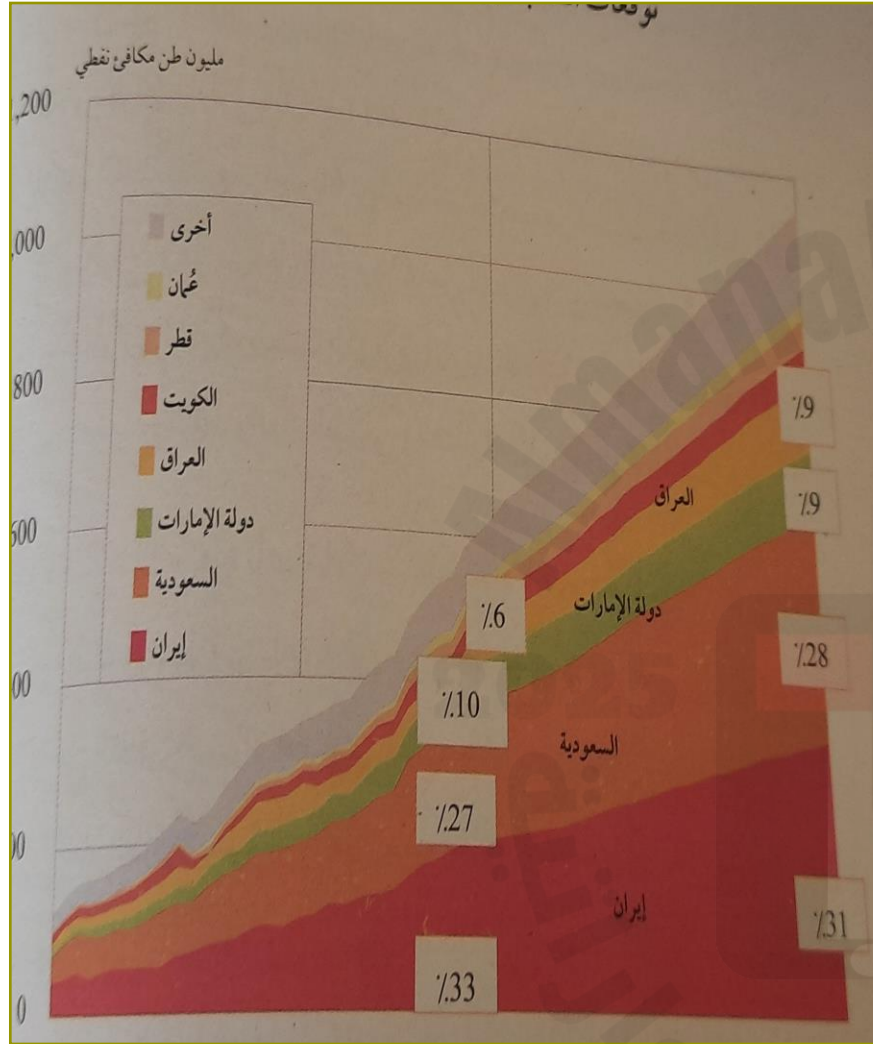
أرتب تنازلياً الدول الأربع الأولى في توقعات الطلب على الطاقة الأولية في الشرق الأوسط.

إيران

السعودية

الإمارات

العراق





مؤسسة الإمارات للتعليم المدرسي  
EMIRATES SCHOOLS ESTABLISHMENT

# اختبارات الوزارة

ضروري


2025

2024

عمر



COP28  
UAE




\* حَلِّ الخريطة التالية، ثم أجب عما يليها من أسئلة:



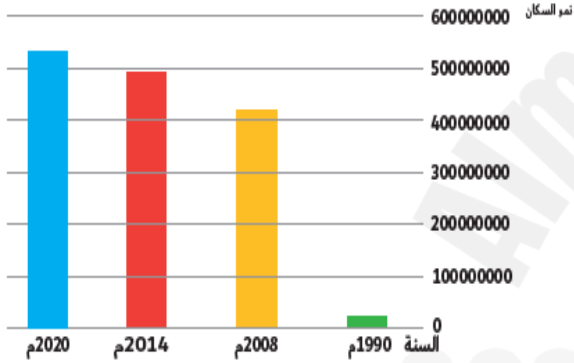






## اختر الإجابة المناسبة

نمو السكان في دول مجلس التعاون الخليجي



السنة	نمو السكان
1990م	210000000
2008م	418000000
2014م	499000000
2020م	53178082

1	من خلال الرسم البياني يتضح لنا أن سكان الخليج في حالة	A	تذبذب	B	زيادة	C	نقصان	D	زيادة مستمرة
2	الفرق الزمني في تعداد عام 2020-2014	A	5	B	6	C	18	D	14
3	بلغ عدد سكان المجلس عام 2008.... مليون نسمة	A	21	B	49	C	53	D	41
4	بلغ حجم الزيادة في السكان بين عامي 2014-1990	A	28	B	8	C	32	D	12
5	سبب الزيادة الهائلة في عدد السكان في دول المجلس	A	زيادة المواليد	B	اعتدال المناخ	C	ظهور النفط	D	الموقع

1968 بعث القنصل العام الأمريكي في الظهران بالمملكة العربية السعودية لي دينزموور Lee Dinsmore تقريراً سرياً إلى واشنطن عن أول لقاء جمعه بالحاكم الشاب الجديد لإمارة أبوظبي سمو الشيخ زايد بن سلطان آل نهيان

، عبر فيه عن إعجابه الشديد بذكائه المتقد ، وأسلوبه المشوق في الحديث وحصافته السياسية الواضحة . وأشار القنصل العام في تقريره إلى أن «... زايد يعتبر... بكل موضوعية رجلاً ذا قوة يحسب لها ألف حساب ، بفضل ذكائه وراثته ، ورغبته في تسخير هذه الثروة لخدمة مواطنيه [ «

1

النشاط رقم واحد : ما الفكرة الرئيس التي يدور حولها النص ؟

A التقرير السري

B السياسة الأمريكية

C شخصية زايد القيادية

D توجيه السياسة الأمريكية لطبيعة التعامل مع شخصية زايد

1968 بعث القنصل العام الأمريكي في الظهران بالمملكة العربية السعودية لي دينزموور Lee Dinsmore تقريراً سريراً إلى واشنطن عن أول لقاء جمعه بالحاكم الشاب الجديد لإمارة أبوظبي سمو الشيخ زايد بن سلطان آل نهيان

، عبر فيه عن إعجابه الشديد بذكائه المتقد ، وأسلوبه المشوق في الحديث وحصافته السياسية الواضحة . وأشار القنصل العام في تقريره إلى أن «... زايد يعتبر... بكل موضوعية رجلاً ذا قوة يحسب لها ألف حساب ، بفضل ذكائه وثرائه ، ورغبته في تسخير هذه الثروة لخدمة مواطنيه [ «

2

النشاط رقم 2 : الشخصيات الواردة في الفقرة ؟

B الشيخ زايد ولي دينزموور

A الشيخ زايد رحمه الله

D القنصل الأمريكي وحاكم أبوظبي

C لي دينزموور

1968 بعث القنصل العام الأمريكي في الظهران بالمملكة العربية السعودية لي دينزموور Lee Dinsmore تقريراً سرياً إلى واشنطن عن أول لقاء جمعه بالحاكم الشاب الجديد لإمارة أبوظبي سمو الشيخ زايد بن سلطان آل نهيان

، عبر فيه عن إعجابه الشديد بذكائه المتقد ، وأسلوبه المشوق في الحديث وحصافته السياسية الواضحة . وأشار القنصل العام في تقريره إلى أن « . . . زايد يعتبر . . . بكل موضوعية رجلاً ذا قوة يحسب لها ألف حساب ، بفضل ذكائه وثرائه ، ورغبته في تسخير هذه الثروة لخدمة مواطنيه [ «

3

النشاط رقم 3 : استخراج من النص موقع مكاني ؟

B الظهران وواشنطن

A الظهران والسعودية

C أبوظبي واشنطن والظهران

D أبو ظبي والظهران وواشنطن والسعودية

1968 بعث القنصل العام الأمريكي في الظهران بالمملكة العربية السعودية لي دينزموور Lee Dinsmore تقريراً سريراً إلى واشنطن عن أول لقاء جمعه بالحاكم الشاب الجديد لإمارة أبوظبي سمو الشيخ زايد بن سلطان آل نهيان

، عبر فيه عن إعجابه الشديد بذكائه المتقد ، وأسلوبه المشوق في الحديث وحصافته السياسية الواضحة . وأشار القنصل العام في تقريره إلى أن «... زايد يعتبر... بكل موضوعية رجلاً ذا قوة يحسب لها ألف حساب ، بفضل ذكائه وثرائه ، ورغبته في تسخير هذه الثروة لخدمة مواطنيه [ «

4

النشاط رقم 4 : ما دلالة الجملة التالية «بكل موضوعية رجلاً ذا قوة يحسب لها ألف حساب» ؟

B مدح لشخصية الشيخ زايد رحمه الله

A الدعوة لإعادة النظر في النهج المتبع في التعامل مع حكام المنطقة

D دعوة إلى التعاون مع الشيخ زايد رحمه الله

C جملة خبرية لوجود حاكم جديد

1968 بعث القنصل العام الأمريكي في الظهران بالمملكة العربية السعودية لي دينز مور Lee Dinsmore تقريراً سريراً إلى واشنطن عن أول لقاء جمعه بالحاكم الشاب الجديد لإمارة أبوظبي سمو الشيخ زايد بن سلطان آل نهيان

، عبر فيه عن إعجابه الشديد بذكائه المتقد ، وأسلوبه المشوق في الحديث وحصافته السياسية الواضحة . وأشار القنصل العام في تقريره إلى أن «... زايد يعتبر... بكل موضوعية رجلاً ذا قوة يحسب لها ألف حساب ، بفضل ذكائه وراثته ، ورغبته في تسخير هذه الثروة لخدمة مواطنيه [ «

5

النشاط رقم 5 : جملة وردة في الفقرة تدل على نهج الشيخ زايد في التعامل مع شعبه ؟

B بكل موضوعية رجلاً ذا قوة يحسب لها ألف


A رغبته في تسخير هذه الثروة لخدمة مواطنيه

D أسلوبه المشوق في الحديث

C عبر فيه عن إعجابه الشديد بذكائه المتقد

## إجابات السؤال الرابع في الملحق الأخير

1	2	3	4	5
D	B	D	A	D



COP29  
UAE

عمر

