

تم تحميل هذا الملف من موقع المناهج الإماراتية



\*للحصول على أوراق عمل لجميع الصفوف وجميع المواد اضغط هنا

<https://almanahj.com/ae>

\* للحصول على أوراق عمل لجميع مواد الصف الثاني عشر العام اضغط هنا

<https://almanahj.com/ae/12>

\* للحصول على جميع أوراق الصف الثاني عشر العام في مادة رياضيات ولجميع الفصول, اضغط هنا

<https://almanahj.com/ae/12>

\* للحصول على أوراق عمل لجميع مواد الصف الثاني عشر العام في مادة رياضيات الخاصة بـ اضغط هنا

<https://almanahj.com/ae/12>

\* لتحميل كتب جميع المواد في جميع الفصول للـ الصف الثاني عشر العام اضغط هنا

<https://almanahj.com/ae/grade12>

للتحدث إلى بوت المناهج على تلغرام: اضغط هنا

[https://t.me/almanahj\\_bot](https://t.me/almanahj_bot)

$$(1) \text{ أوجد } \lim_{x \rightarrow 2} \frac{x^2 - 4}{x + 2}$$

a)  $\frac{0}{0}$

b)  $0$

c) 4

d) 8

التعريف المباشر

$$\frac{2^2 - 4}{2 + 2} = \frac{0}{4} = 0$$

$$(2) \text{ أوجد } \lim_{x \rightarrow a} \frac{x^3 - a^3}{x - a}$$

a)  $3a^2$

b)  $\frac{1}{3}a^2$

c)  $3a^4$

d)  $2a^3$

كيفية مُرَمِّنة  $\frac{\infty}{\infty}$  التعريف المباشر

$$\Rightarrow \lim_{x \rightarrow a} \frac{(x-a)(x^2 + ax + a^2)}{(x-a)} = \lim_{x \rightarrow a} (x^2 + ax + a^2) = a^2 + a \cdot a + a^2 = 3a^2$$

كتب الحدود الرئيسية للبسط والقام وتعمل بقية الحدود.

$$(3) \text{ أوجد } \lim_{x \rightarrow \infty} \frac{2x^2 - 3}{5x^2 + 4x + 1}$$

a) 0

b)  $\frac{2}{5}$

c) -3

d) غير موجودة

$$\lim_{x \rightarrow \infty} \frac{2x^2}{5x^2} = \lim_{x \rightarrow \infty} \frac{2}{5} = \frac{2}{5}$$

(4) أوجد  $\lim_{x \rightarrow \infty} \frac{3+2x}{4x-1}$  **اكتب الكود الرئسي للسطر وللعلم وتفعل بفتح الحدود.**

a)  $\frac{3}{4}$

b)  $-3$

c)  $\frac{1}{2}$

d)  $-\frac{1}{2}$

$$\lim_{x \rightarrow \infty} \frac{2x}{4x} = \lim_{x \rightarrow \infty} \frac{2}{4} = \frac{2}{4} = \left(\frac{1}{2}\right)$$

(5) أوجد  $\lim_{x \rightarrow \infty} \frac{x-5}{1-2x^2}$  **اكتب الكود الرئسي للسطر وللعلم وتفعل بفتح الحدود.**

a)  $-\frac{5}{2}$

b)  $0$

c) غير موجودة

d)  $\frac{1}{2}$

$$\lim_{x \rightarrow \infty} \frac{x}{-2x^2} = \lim_{x \rightarrow \infty} \frac{1}{-2x} = \frac{1}{-2(\infty)} = \frac{1}{-\infty} = \left(0\right)$$

(6) أوجد  $\lim_{x \rightarrow \infty} \frac{x^2+5}{6}$  **اكتب الكود الرئسي للسطر وللعلم وتفعل بفتح الحدود.**

a)  $0$

b)  $\frac{5}{6}$

c)  $1$

d)  $\infty$

$$\lim_{x \rightarrow \infty} \frac{x^2}{6} = \frac{\infty^2}{6} = \frac{\infty}{6} = \left(\infty\right)$$

(7) أوجد  $\lim_{x \rightarrow \infty} \frac{x^2+4}{2x-1}$  تكب المرد الرسة للبطا ولعام ونعمل بقية الحدود.

a) 0

b)  $\frac{1}{2}$ c)  $\infty$ 

d) غير موجودة

$$\lim_{x \rightarrow \infty} \frac{x^2}{2x} = \lim_{x \rightarrow \infty} \frac{x}{2} = \frac{\infty}{2} = \infty$$

(8) أوجد  $\lim_{x \rightarrow 1} \left( \frac{2}{x} + \frac{x^2-x}{x-1} \right)$

a) 2

b) 3

c)  $\infty$ 

d) غير موجودة

كبة نرمة  $\frac{2}{1} + \frac{0}{0}$  التعريف المباشر

$$\Rightarrow \lim_{x \rightarrow 1} \left( \frac{2}{x} + \frac{x(x-1)}{(x-1)} \right) = \lim_{x \rightarrow 1} \left( \frac{2}{x} + x \right) = \frac{2}{1} + 1 = 3$$

(9) أوجد  $\lim_{x \rightarrow -1} \left( \frac{x^2+x}{x^3+1} \right)$

a)  $-\frac{1}{3}$ 

b) 0

c) -1

d) ليس أيًا مما سبق

كبة نرمة  $\frac{0}{0}$  التعريف المباشر

$$\Rightarrow \lim_{x \rightarrow -1} \frac{x(x+1)}{(x+1)(x^2-x+1)} = \lim_{x \rightarrow -1} \frac{x}{x^2-x+1} = \frac{-1}{(-1)^2 - (-1) + 1} = \frac{-1}{3}$$

$$(10) \text{ أوجد } \lim_{x \rightarrow \infty} \sqrt{\frac{3+2x}{4x-1}}$$

a)  $\frac{1}{\sqrt{2}}$

b)  $\frac{1}{2}$

c)  $-\frac{1}{2}$

d)  $-3$

$$= \lim_{x \rightarrow \infty} \frac{3+2x}{4x-1} = \lim_{x \rightarrow \infty} \frac{2x}{4x} \rightarrow \text{الحدود الرئيسة فقط}$$

$$= \lim_{x \rightarrow \infty} \frac{2}{4}$$

$$= \sqrt{\frac{1}{2}} = \boxed{\frac{1}{\sqrt{2}}}$$

$$(11) \text{ أوجد } \lim_{x \rightarrow \infty} \frac{(3x+9)(2x+7)}{(x+1)(5x+4)}$$

a) 3

b) 4

c)  $\frac{2}{5}$

d)  $\frac{6}{5}$

$$= \lim_{x \rightarrow \infty} \frac{(3x)(2x)}{(x)(5x)} \rightarrow \text{مواصل حد بحد الحدود الرئيسة}$$

$$= \lim_{x \rightarrow \infty} \frac{6}{5} = \boxed{\frac{6}{5}}$$

$$(12) \text{ إذا كان } k \neq 0 \text{ فإن } \lim_{x \rightarrow \infty} \frac{(k)^{\frac{1}{x}}}{7}$$

a) 0

b) 1

c)  $\frac{1}{7}$

d) غير موجودة

$$\text{التعويض المباشر} \Rightarrow \frac{(k)^{\frac{1}{\infty}}}{7} = \frac{(k)^0}{7} = \boxed{\frac{1}{7}}$$

(13) أوجد  $\lim_{x \rightarrow 9} \frac{\sqrt{x}-3}{x-9}$

a) 0

b)  $-\frac{1}{6}$ c)  $\frac{1}{6}$ 

d) غير موجودة

كيفية حل مشكلة =  $\frac{0}{0}$  التحويل المباشر  
الضرب برافعة البسط (الانفاذ من البسط)

$$\Rightarrow \lim_{x \rightarrow 9} \frac{(\sqrt{x}-3)(\sqrt{x}+3)}{(x-9)(\sqrt{x}+3)} = \lim_{x \rightarrow 9} \frac{x-9}{(x-9)(\sqrt{x}+3)} = \lim_{x \rightarrow 9} \frac{1}{\sqrt{x}+3} = \frac{1}{\sqrt{9}+3} = \frac{1}{6}$$

المكونة  $\frac{1}{x} = \sqrt[3]{\frac{1}{x^3}}$

(14) أوجد  $\lim_{x \rightarrow \infty} \frac{2x-3}{\sqrt[3]{x^3+5}}$

a) 0

b) 2

c)  $-\frac{3}{\sqrt[3]{5}}$ 

d) غير موجودة

$$\lim_{x \rightarrow \infty} \frac{(2x-3)\left(\frac{1}{x}\right)}{\left(\sqrt[3]{x^3+5}\right)\left(\frac{1}{x}\right)} = \lim_{x \rightarrow \infty} \frac{\frac{2x}{x} - \frac{3}{x}}{\left(\sqrt[3]{x^3+5}\right)\left(\frac{1}{x}\right)} = \lim_{x \rightarrow \infty} \frac{2 - \frac{3}{x}}{\sqrt[3]{(x^3+5)\left(\frac{1}{x^3}\right)}} = \lim_{x \rightarrow \infty} \frac{2 - \frac{3}{x}}{\sqrt[3]{\frac{x^3}{x^3} + \frac{5}{x^3}}} = \lim_{x \rightarrow \infty} \frac{2 - \frac{3}{x}}{\sqrt[3]{1 + \frac{5}{x^3}}} = \frac{2}{\sqrt[3]{1}} = 2$$

(15) إذا كانت  $\lim_{x \rightarrow 3} \frac{x^2-k}{x-3} = 6$  فإن  $k = \dots\dots\dots$

a) 3

b) -3

c) 9

d) -9

التحويل من  $k = 9$

$$\Rightarrow \lim_{x \rightarrow 3} \frac{x^2-9}{x-3} = \lim_{x \rightarrow 3} \frac{(x-3)(x+3)}{(x-3)} = \lim_{x \rightarrow 3} (x+3) = 3+3 = 6$$

$$(16) \text{ أوجد } \lim_{x \rightarrow 0} \frac{\sqrt{x+1}-1}{x}$$

a) 0

b)  $\sqrt{2}$ c)  $\frac{1}{2}$ d)  $\infty$ 

كيفية غير معينة  $\Rightarrow \frac{0}{0} \Rightarrow$  التعويض المباشر

إلغاء البسط  
العدد بمرافعة البسط  $\Rightarrow$

$$\lim_{x \rightarrow 0} \frac{(\sqrt{x+1}-1)(\sqrt{x+1}+1)}{x(\sqrt{x+1}+1)} = \lim_{x \rightarrow 0} \frac{(x+1)-(1)}{x(\sqrt{x+1}+1)}$$

$$= \lim_{x \rightarrow 0} \frac{x}{x(\sqrt{x+1}+1)} = \lim_{x \rightarrow 0} \frac{1}{\sqrt{x+1}+1} = \frac{1}{\sqrt{0+1}+1} = \frac{1}{2}$$

$$(17) \text{ أوجد } \lim_{x \rightarrow 0} \frac{(x+2)^2-4}{x^2+x}$$

a) -4

b) 0

c) 4

d) غير موجودة

كيفية غير معينة  $\frac{0}{0} =$  التعويض المباشر

$$\Rightarrow \lim_{x \rightarrow 0} \frac{((x+2)-2)(x+2+2)}{x(x+1)} = \lim_{x \rightarrow 0} \frac{(x)(x+4)}{x(x+1)}$$

$$= \lim_{x \rightarrow 0} \frac{x+4}{x+1} = \frac{0+4}{0+1} = 4$$

$$(18) \text{ أوجد } \lim_{x \rightarrow 2} \frac{2x^6-128}{x^2-4}$$

a) 96

b) 0

c) 32

d) غير موجودة

كيفية غير معينة  $\frac{0}{0} =$  التعويض المباشر

$$\Rightarrow \lim_{x \rightarrow 2} \frac{2(x^6-64)}{(x-2)(x+2)} = \lim_{x \rightarrow 2} \frac{2(x^3-8)(x^3+8)}{(x-2)(x+2)}$$

$$= \lim_{x \rightarrow 2} \frac{2(x-2)(x^2+2x+4)(x^3+8)}{(x-2)(x+2)}$$

$$= \lim_{x \rightarrow 2} \frac{2(x^2+2x+4)(x^3+8)}{x+2}$$

$$= \frac{2(2^2+2(2)+4)(2^3+8)}{2+2}$$

$$= \frac{2(12)(16)}{4} = 96$$

نفس فكرة السؤال رقم (14)

(19) أوجد  $\lim_{x \rightarrow \infty} \frac{\sqrt[3]{8x^3 - x - 1}}{2x + 1}$

a) 4

b) 8

c) -1

d) 1

$$= \lim_{x \rightarrow \infty} \frac{\sqrt[3]{8x^3 - x - 1} \left(\frac{1}{x}\right)}{(2x+1) \left(\frac{1}{x}\right)} = \lim_{x \rightarrow \infty} \frac{\sqrt[3]{8 - \frac{1}{x^2} - \frac{1}{x^3}}}{2 + \frac{1}{x}} = \frac{\sqrt[3]{8 - 0 - 0}}{2 + 0} = \frac{\sqrt[3]{8}}{2} = \frac{2}{2} = 1$$

$$= \lim_{x \rightarrow \infty} \frac{\sqrt[3]{\frac{8x^3 - x - 1}{x^3}}}{\frac{2x + 1}{x}}$$

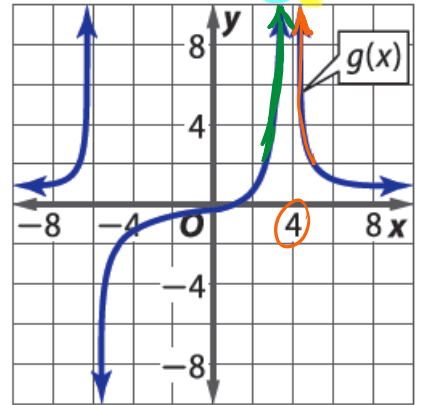
نفس النهايات  
من الجهتين

$\lim_{x \rightarrow 4^+} g(x) = \infty$

$\lim_{x \rightarrow 4^-} g(x) = \infty$

$\lim_{x \rightarrow 4} g(x) = \infty$  لأن  $\lim_{x \rightarrow 4^+} g(x) = \infty$  و  $\lim_{x \rightarrow 4^-} g(x) = \infty$

(20) أوجد  $\lim_{x \rightarrow 4} g(x)$



a)  $\infty$

b) 0

c)  $-\infty$

d) غير موجودة

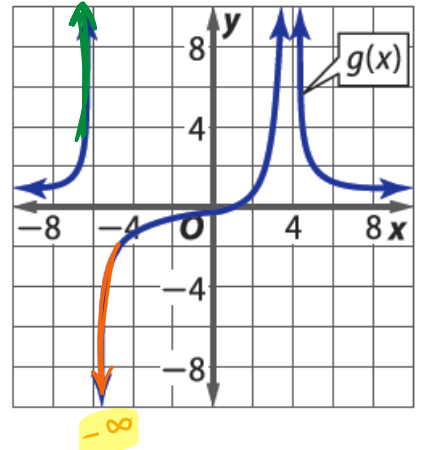
نفس النهايات  
من الجهتين

$\lim_{x \rightarrow -6^+} g(x) = -\infty$

$\lim_{x \rightarrow -6^-} g(x) = \infty$

$\lim_{x \rightarrow -6} g(x)$  غير موجودة  $\neq \lim_{x \rightarrow -6^+} g(x)$  لأن  $\lim_{x \rightarrow -6^+} g(x) = -\infty$  و  $\lim_{x \rightarrow -6^-} g(x) = \infty$

(21) أوجد  $\lim_{x \rightarrow -6} g(x)$



a)  $\infty$

b) 0

c)  $-\infty$

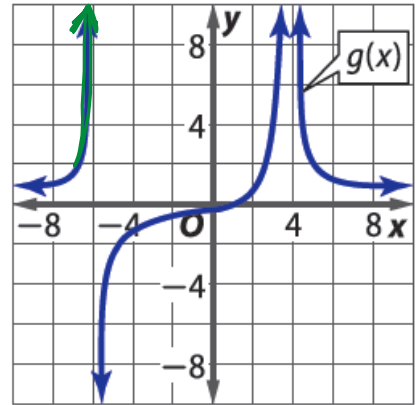
d) غير موجودة



النهاية من جهة اليسار، للعدد -6

$\infty$

(22) أوجد  $\lim_{x \rightarrow -6^-} g(x)$



a)  $\infty$

b) 0

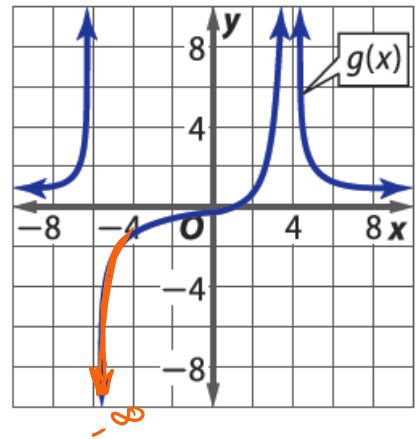
c)  $-\infty$

d) غير موجودة

النهاية من جهة اليمين للعدد -6

$-\infty$

(23) أوجد  $\lim_{x \rightarrow -6^+} g(x)$



a)  $\infty$

b) 0

c)  $-\infty$

d) غير موجودة

فحص النهايات  
من الجهتين

(24) أوجد  $\lim_{x \rightarrow 0} f(x)$  حيث  $f(x) = \begin{cases} x - 5 & \text{if } x < 0 \\ x^2 + 5 & \text{if } x \geq 0 \end{cases}$

$$\Rightarrow \lim_{x \rightarrow 0^+} f(x) = \lim_{x \rightarrow 0} (x^2 + 5) = 0^2 + 5 = 5$$

$$\Rightarrow \lim_{x \rightarrow 0^-} f(x) = \lim_{x \rightarrow 0} (x - 5) = 0 - 5 = -5$$

$\Rightarrow \lim_{x \rightarrow 0} f(x)$   
غير موجودة

a) -5

b) 0

c) غير موجودة

d) 5

$$\lim_{x \rightarrow 0^+} f(x) \equiv \lim_{x \rightarrow 0^-} f(x) = 3$$

$$\Rightarrow \lim_{x \rightarrow 0} f(x) = \boxed{3}$$

$$\begin{aligned} \Rightarrow \lim_{x \rightarrow 0} \frac{f(x)}{2} - 1.5 &= \frac{\lim_{x \rightarrow 0} f(x)}{\lim_{x \rightarrow 0} (2)} - \lim_{x \rightarrow 0} (1.5) \\ &= \frac{3}{2} - 1.5 = \boxed{0} \end{aligned}$$

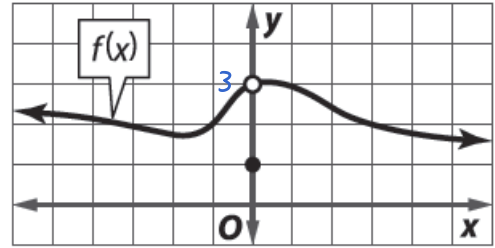
a) 0

b) 3

c) 1

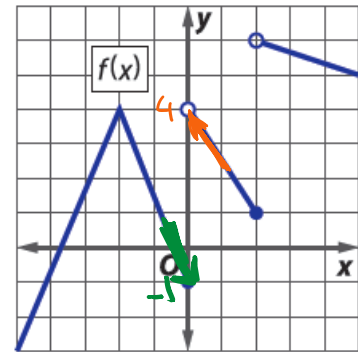
d) غير موجودة

$$\lim_{x \rightarrow 0} \frac{f(x)}{2} - 1.5 = \dots \quad \text{أوجد (25)}$$



$$\lim_{x \rightarrow 0} f(x) \quad \text{أوجد (26)}$$

$$\left. \begin{array}{l} \lim_{x \rightarrow 0^+} f(x) = 4 \\ \lim_{x \rightarrow 0^-} f(x) = -1 \end{array} \right\} \Rightarrow \lim_{x \rightarrow 0} f(x) \text{ غير موجودة}$$



a) 0

b) -1

c) 4

d) غير موجودة