

تم تحميل هذا الملف من موقع المناهج الإماراتية



*للحصول على أوراق عمل لجميع الصفوف وجميع المواد اضغط هنا

<https://almanahj.com/ae>

* للحصول على أوراق عمل لجميع مواد الصف العاشر المتقدم اضغط هنا

<https://almanahj.com/ae/13>

* للحصول على جميع أوراق الصف العاشر المتقدم في مادة رياضيات وجميع الفصول, اضغط هنا

<https://almanahj.com/ae/13math>

* للحصول على أوراق عمل لجميع مواد الصف العاشر المتقدم في مادة رياضيات الخاصة بـ الفصل الثاني اضغط هنا

<https://almanahj.com/ae/13math2>

* لتحميل كتب جميع المواد في جميع الفصول للـ الصف العاشر المتقدم اضغط هنا

<https://almanahj.com/ae/grade13>

للتحدث إلى بوت المناهج على تلغرام: اضغط هنا

https://t.me/almanahj_bot

AA

lms.moe.gov.ae

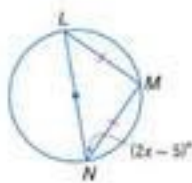


Quiz 1

الدرجة : 2/2

سؤال 9:

Find x

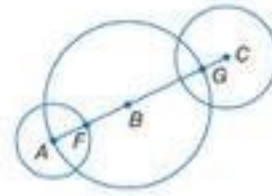
 25 50 180 360

الدرجة : 2/2

سؤال 10:

See the question in the image

The diameters of $\odot A$, $\odot B$, and $\odot C$ are 8 centimeters, 18 centimeters, and 11 centimeters, respectively. Find each measure.

5. FG 5 19 15 ✓ 14

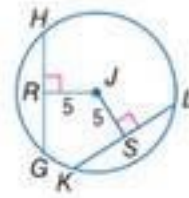


Quiz 1

الدرجة : 2/2

سؤال : 6

See the question in the image

In $\odot J$, $GH = 9$, $KL = 4x + 1$. Find x .5 ✓ 2 10 20

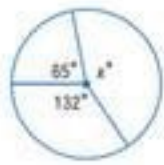


Quiz 1

الدرجة : 0/2

سؤال 2:

Find the value of x

 180 65 132 163

الدرجة : 0/2

سؤال 3:

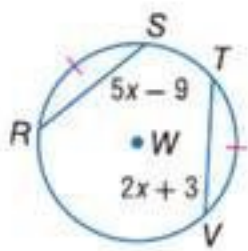


Quiz 1

الدرجة : 2/2

سؤال 5:

In circle with center W , Arc RS is congruent to arc TV . Find the length of the chord RS .

6 ✓ 21 15 Can't find

AA

lms.moe.gov.ae



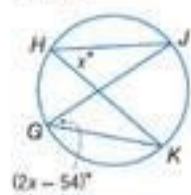
Quiz 1

الدرجة : 0/2

سؤال : 8

See the question in the image

ALGEBRA Find each measure.

5. $m\angle H$ 18 ✓ 54 360 ✗ 27



Quiz 1

الدرجة : 0/2

سؤال 3:

The pie chart represents the results of a survey taken by Ms Lamis regarding her students' favorite types of movies. Find mAE

28 x28% ✓^o100.8 14

AA

lms.moe.gov.ae

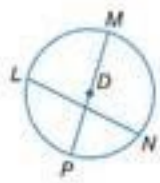


Quiz 1

الدرجة : 2/2

سؤال 4:

Name a chord that is not a diameter

PM PN LP ✓ LN



Quiz 1



الدرجة : 2/2

سؤال 1:

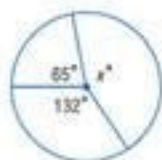
Find the radius of a circle with circumference 43 cm.

13.69 ✓ 6.84 8.84 4.84

الدرجة : 0/2

سؤال 2:

Find the value of x



AA

lms.moe.gov.ae



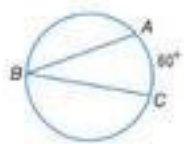
Quiz 1

الدرجة : 2/2

سؤال 7:

See the question in the image

Find each measure.

1. $m\angle B$ 60 330 150 ✓ 30