

تم تحميل هذا الملف من موقع المناهج الإماراتية



تجميعة الأسئلة المقالية وفق الهيكل الوزاري القسم الورقي

موقع المناهج ← المناهج الإماراتية ← الصف الحادي عشر المتقدم ← فيزياء ← الفصل الأول ← ملفات متنوعة ← الملف

تاريخ إضافة الملف على موقع المناهج: 2024-11-13 15:19:44

ملفات اكتب للمعلم اكتب للطالب الاختبارات الكترونية | اختبارات | حلول | عروض بوربوينت | أوراق عمل
منهج انجليزي | ملخصات وتقارير | مذكرات وبنوك | الامتحان النهائي للمدرس

المزيد من مادة
فيزياء:

إعداد: عبد الملك نبيل

التواصل الاجتماعي بحسب الصف الحادي عشر المتقدم



صفحة المناهج
الإماراتية على
فيسبوك

الرياضيات

اللغة الانجليزية

اللغة العربية

التربية الاسلامية

المواد على تلغرام

المزيد من الملفات بحسب الصف الحادي عشر المتقدم والمادة فيزياء في الفصل الأول

حل تجميعة أسئلة وفق الهيكل الوزاري منهج بريدج الخطة C

1

تجميعة أسئلة وفق الهيكل الوزاري منهج بريدج الخطة C

2

حل مراجعة جميع الوحدات وفق الهيكل الوزاري منهج بريدج الخطة C

3

أسئلة مراجعة نهائية وفق الهيكل الوزاري منهج بريدج الخطة 101C

4

حل أسئلة الامتحان النهائي القسم الالكتروني منهج بريدج

5


تدريب على الامتحان النهائي لمادة الفيزياء

الجزء الورقي

للعام الدراسي: 2024 - 2025

عمل الطالب: عبدالملك نبيل

Abdulmalek
Nabeel



Channel

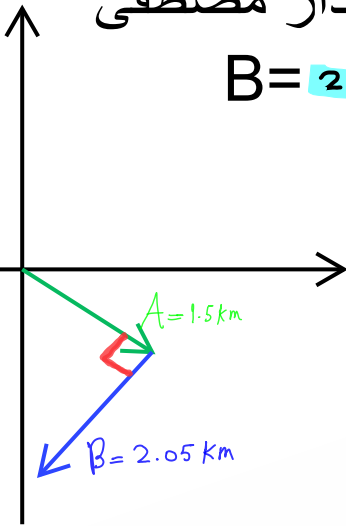


Contact



More Files

يسير مصطفى في متنزه مسافة 1.5km يمكن تمثيلها بالمتجه A باتجاه الجنوب الشرقي ثم صادف نهاية مغلقة فاستدار مصطفى بزاوية 90° لليمين واكمل طريقة مسافة $B = 2.05\text{km}$



$$\vec{C} = \vec{A} + \vec{B}$$

(١) كم يبعد مصطفى عن موقع البداية؟؟

(٢) اكتب المتجه C بدلالة متجهات الوحدة



Channel



Contact



More Files

السؤال الثاني:

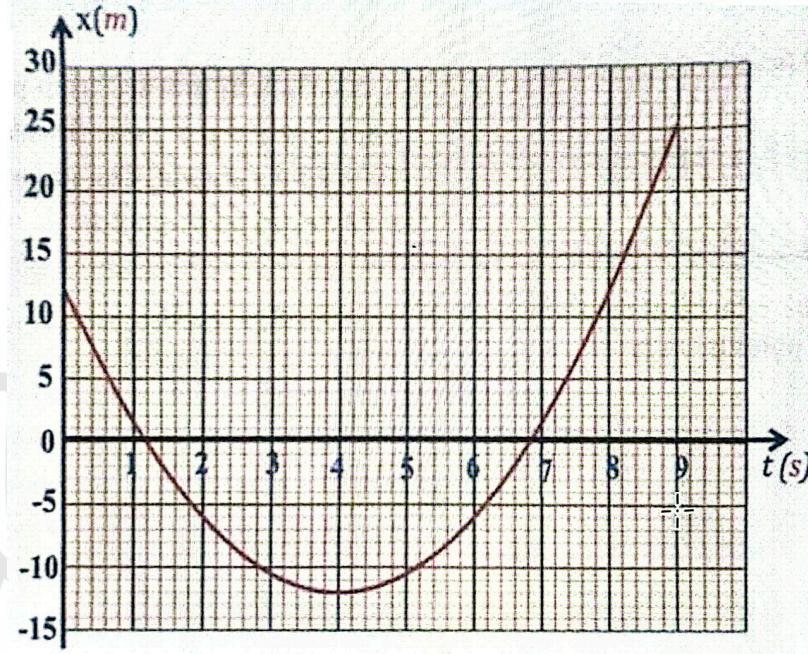
عطي متجه الموقع لحركة الحافلة على الطريق
المعادلة التالية

$$x(t) = a + bt + ct^2$$

$$a = 12\text{m}, b = -12\text{m/s}, c = 1.5\text{m/s}^2$$

يمثلها الرسم البياني ادناه

إذا كانت



(1) احسب مقدار سرعة الحافلة عند $t = 8\text{s}$

(2) بالاعتماد على الرسم البياني في أي لحظة
تتوقف عنده الحافلة لحظياً؟؟



Channel



Contact



More Files

السؤال الثالث:

تُعطى السرعة المتجهة لحركة جسم من السكون كدالة بدلالة الزمن وفق المعادلة التالية

$$v(t) = 3t^2 + 16t$$

احسب عجلة حركة الجسم عند $t = 2s$

اوجد موقع الجسم عند $t = 3s$ اذا بدأ حركته من $(x = 0)$



Channel



Contact



More Files

السؤال الرابع:

يقذف لاعب كرة القدم الكرة بسرعة ابتدائية 85.5km/h وبزاوية 42° فوق محور X الموجب إذا كان طول اللاعب 175cm

احسب ما يلي:

اقصى ارتفاع سوف تصله الكرة؟؟

المسافة الافقية التي سوف تقطعها الكرة؟؟

زمن التحليق الكلي في الهواء؟؟



Channel



Contact



More Files

السؤال الخامس:

يسحب متزلج مزلجة كتلتها $M=5\text{ kg}$ على أرض مستوية.

معامل الاحتكاك الحركي بين المزلجة والأرض هو $\mu_k=0.05$ يسحب المتزلج المزلجة بحبل متصل بها بزاوية 30° اعلى من المستوى الافقي ما مقدار الشد في الحبل الازم لتتحرك المزلجة

بعجلة قدرها $a=0.5\text{ m/s}^2$??



Channel



Contact



More Files