

تم تحميل هذا الملف من موقع المناهج الإماراتية



almanahj.com

موقع
المناهج الإماراتية

*للحصول على أوراق عمل لجميع الصفوف وجميع المواد اضغط هنا

<https://almanahj.com/ae>

* للحصول على أوراق عمل لجميع مواد الصف الحادي عشر المتقدم اضغط هنا <https://almanahj.com/ae/14>

* للحصول على جميع أوراق الصف الحادي عشر المتقدم في مادة فيزياء ولجميع الفصول, اضغط هنا

<https://almanahj.com/ae/14physics>

* للحصول على أوراق عمل لجميع مواد الصف الحادي عشر المتقدم في مادة فيزياء الخاصة بـ الفصل الأول اضغط هنا

<https://almanahj.com/ae/14physics1>

* لتحميل كتب جميع المواد في جميع الفصول للـ الصف الحادي عشر المتقدم اضغط هنا

<https://almanahj.com/ae/grade14>

للتحدث إلى بوت المناهج على تلغرام: اضغط هنا [bot_almanahj/me.t//:https](https://t.me/bot_almanahj)

إدارة التقييم والامتحانات

الصف : الحادي عشر

المسار : المتقدم

المادة : الفيزياء

عدد صفحات الامتحان: (7)

امتحان نهاية الفصل الدراسي الأول
للعام الدراسي 2018 / 2019 م

✓ أجب عن جميع الأسئلة وعلى الورقة نفسها

✓ استخدم الثوابت الفيزيائية الواردة في الجدول التالي .

$g = 9.81 \text{ m/s}^2$		



صفحة 1

- يحظر تصوير أو تداول الورقة الامتحانية قبل أو أثناء أو بعد الامتحان من خلال البريد الإلكتروني أو وسائل التواصل الاجتماعي أو أي وسيلة أخرى ومن يخالف ذلك سيتخذ في حقه الإجراءات القانونية المتبعة.
- على إدارات المدارس ولجان الامتحانات ومراكز التقدير مراعاة ذلك، ورصد المخالفات، واتخاذ الإجراءات اللازمة.



FUJ002604A11ADVPHYT1P076



ضع إشارة ✓ داخل المربع يمين أنسب إجابة لكل مما يلي :

1- تقاس الشحنة الكهربائية التي تمر في موصل وفق النظام الدولي للوحدات بوحدة الكولوم (C) والتي تكافئ (A . s) ، أي الكميات الفيزيائية الأساسية الآتية تعبر عن الشحنة الكهربائية؟

- التيار الكهربائي و الزمن
 الزمن و شدة الإضاءة
 التيار الكهربائي و شدة الإضاءة
 الكتلة و الزمن

2- إذا كان المتجه $\vec{A} = (3.0 \text{ m} , 5.0 \text{ m})$ في فضاء ثنائي الأبعاد (x, y) ، ما مقدار المتجه $|\vec{A}|$ والزاوية التي يصنعها المتجه مع المحور x الموجب ؟

الزاوية التي يكونها المتجه مع المحور x الموجب	طول المتجه	
31°	8.0 m	<input type="checkbox"/>
59°	8.0 m	<input type="checkbox"/>
31°	5.8 m	<input type="checkbox"/>
59°	5.8 m	<input type="checkbox"/>

3- إذا كان المتجه $\vec{A} = (3.0 , 5.0)$ والمتجه $\vec{B} = (2.0 , 6.0)$ في فضاء ثنائي الأبعاد (x, y) ، ما قياس الزاوية θ بين المتجهين؟

- 12° 131°
 21° 71°

4- إذا كان المتجه $\vec{A} = (1.0 , 2.0, 3.0)$ والمتجه $\vec{B} = (2.0 , 3.0, 4.0)$ في فضاء ثلاثي الأبعاد (x, y, z) ، وكان المتجه $\vec{D} = \vec{A} \times \vec{B}$ ما مقدار D_x ؟

- 1.0 4.0
 17 8.0

5- أسقطت كرة للأسفل بسرعة متجهة ابتدائية (3.0 m/s) في مجال الجاذبية الأرضية ، ما مقدار سرعة الكرة بعد (0.50 s) من بدء حركتها ؟

- 3.0 m/s
 4.9 m/s
 7.9 m/s
 1.9 m/s



6- يتحرك جسم بعجلة (تسارع) ثابتة ، وكانت سرعته المتجهة (5.0 m/s) عند الموقع ($x = 2.0 \text{ m}$) وعند الموقع ($x = 5.0 \text{ m}$) أصبحت سرعته المتجهة (2.0 m/s) ، ما عجلة حركة الجسم ؟

- $+4.8 \text{ m/s}^2$ $+3.5 \text{ m/s}^2$
 -4.8 m/s^2 -3.5 m/s^2

7- تعطى السرعة المتجهة لجسم متحرك باتجاه المحور x وفق المعادلة

$$[v_x(t) = (2.0 t^2 + 3.0 t + 6.0) \text{ m/s}]$$

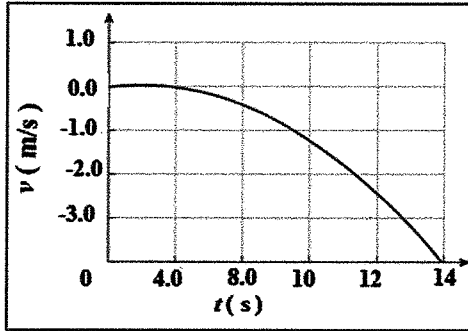
ما عجلة (تسارع) حركة الجسم باتجاه المحور x عندما ($t = 2.0 \text{ s}$) ؟

- $+14 \text{ m/s}^2$ -11 m/s^2
 -14 m/s^2 $+11 \text{ m/s}^2$

8- يظهر الرسم البياني تغيرات السرعة المتجهة والزمن

لحركة جسم ، عند أي زمن تكون عجلة حركة (تسارع)

الجسم يساوي صفراً تقريباً؟



- $t = 12 \text{ s}$
 $t = 10 \text{ s}$
 $t = 8.0 \text{ s}$
 $t = 2.0 \text{ s}$

9- فذفت كرة من الأرض وبعد (2.0 s) بلغت سرعتها $[(8.0 \hat{x} - 5.0 \hat{y}) \text{ m/s}]$ ،

ما مقدار السرعة المتجهة للكرة بعد (2.0 s) ؟

- 6.2 m/s 13 m/s
 3.0 m/s 9.4 m/s

10- ركل لاعب بقدمه كرة تستقر على أرض ملعب فتحركات الكرة بسرعة متجهة (15 m/s) وبزاوية (30°) فوق

الأفق وبعد فترة زمنية عادت الكرة إلى أرض الملعب ،

ما المدى الأفقي للكرة ؟

مساعدة

$$R = \frac{v_0^2}{g} \sin 2\theta_0$$

- 22.3 m 19.9 m
 5.7 m 11.5 m





11- قذفت كرة بسرعة ابتدائية $[(12.0 \hat{x} + 15.0 \hat{y}) \text{ m/s}]$ ،
ما أقصى ارتفاع تصل إليه الكرة من نقطة قذفها ؟

- 11.5 m 22.9 m
7.34 m 14.7 m

12- تنزلق ثلاثة مكعبات كتلتها (2.0 kg , 3.0 kg , 5.0 kg) إلى أسفل على سطح مستوي مائل بزاوية (30°) ،
فإذا كان معامل الاحتكاك الحركي متساو للمكعبات الثلاثة،

أي الآتية صحيح لعجلة (تسارع) القوالب الثلاثة أثناء حركتها على المستوى ؟

- القالب الذي كتلته 5.0 kg له أقل تسارع
 القالب الذي كتلته 2.0 kg له أقل تسارع
 القالب الذي كتلته 3.0 kg له أقل تسارع
 التسارع متساوي للقوالب الثلاثة

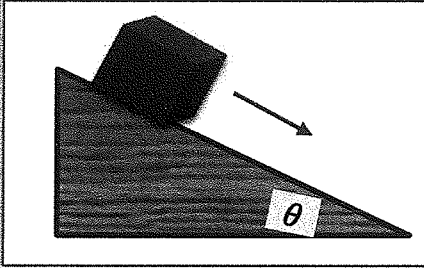
13- يهبط مظلي كتلته (75 kg) إلى سطح الأرض وتصل سرعته الحدية أثناء حركته (25 m/s) ،
ما مقدار محصلة القوى المؤثرة في المظلي خلال حركته بسرعة (25 m/s) ؟

- 1875 N 736 N
0.0 N 75 N

14- في الشكل المجاور ، ينزلق قالب كتلته (0.50 kg) على سطح منحدر خشن بسرعة ثابتة
وكان $[\mu_k = 0.45]$ ،

ما مقدار الزاوية θ ؟

- 27°
24°
36°
63°



15- تحسب قوة الاحتكاك (قوة السحب) لجسم متحرك في الهواء بسرعة (v) من المعادلة

$$[F_{drag} = Kv^2]$$

أي الآتي وحدة صحيحة للثابت K ؟

- $m \text{ kg}^{-1}$ kg m
 $\text{kg}^{-1} \text{ m}^{-1}$ kg m^{-1}

(4)

- يحظر تصوير أو تداول الورقة الامتحانية قبل أو أثناء أو بعد الامتحان من خلال البريد الإلكتروني أو وسائل التواصل الاجتماعي أو أي وسيلة أخرى
ومن يخالف ذلك سيتخذ في حقه الإجراءات القانونية المتبعة.
- على إدارات المدارس ولجان الامتحانات ومراكز التقدير مراعاة ذلك، ورصد المخالفات، واتخاذ الإجراءات اللازمة.



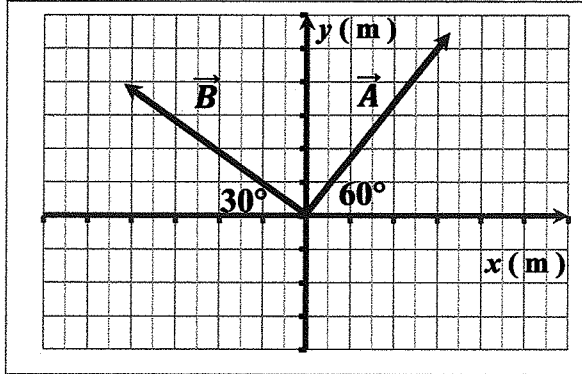
FUJ002604A11ADVPHYT1P076



15



15



في الشكل المجاور

$$|\vec{B}| = 13 \text{ m} \quad , \quad |\vec{A}| = 15 \text{ m}$$

$$\vec{C} = \vec{A} + \vec{B} \quad \text{وكان}$$

أجب عن الآتية :

16- أوجد كل من C_x و C_y

17- اكتب المتجه \vec{C} بدلالة متجهات الوحدة $(\hat{x}, \hat{y}, \hat{z})$.

18- أوجد مقدار المتجه \vec{C} ومقدار الزاوية التي يصنعها مع المحور x الموجب .

- يحظر تصوير أو تداول الورقة الامتحانية قبل أو أثناء أو بعد الامتحان من خلال البريد الالكتروني أو وسائل التواصل الاجتماعي أو أي وسيلة أخرى ومن يخالف ذلك سيتخذ في حقه الإجراءات القانونية المتبعة.
- على إدارات المدارس ولجان الامتحانات ومراكز التقدير مراعاة ذلك، ورصد المخالفات، واتخاذ الإجراءات اللازمة.

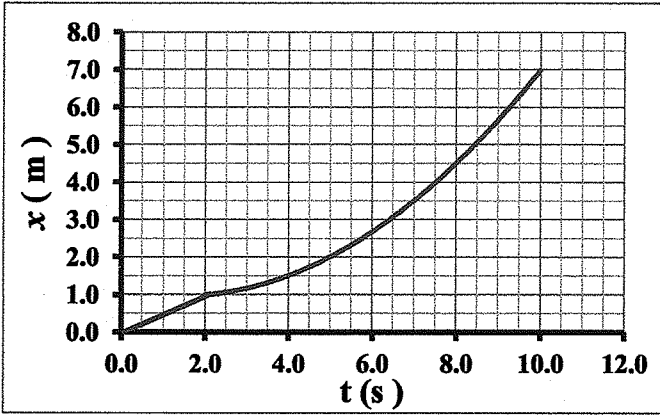


السؤال الثالث

15



يظهر الرسم البياني المجاور تغيرات الموقع و الزمن لجسم
بدأ حركته بسرعة متجهة ثابتة، ثم تحرك بعجلة (تسارع) ثابتة ،



19- احسب السرعة المتجهة الثابتة التي بدأ بها الجسم حركته .

.....

.....

.....

.....

20- احسب السرعة المتجهة للجسم عندما ($t=9.0$ s).

.....

.....

.....

.....

.....

.....

21- احسب العجلة (التسارع) الثابتة لحركة الجسم .

.....

.....

.....

.....

.....

.....

(6)

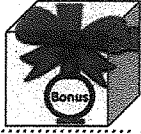
- يحظر تصوير أو تداول الورقة الامتحانية قبل أو أثناء أو بعد الامتحان من خلال البريد الالكتروني أو وسائل التواصل الاجتماعي أو أي وسيلة أخرى ومن يخالف ذلك سيتم في حقه الإجراءات القانونية المتبعة.
- على إدارات المدارس ولجان الامتحانات ومراكز التقدير مراعاة ذلك، وصد المخالفات، واتخاذ الإجراءات اللازمة.



FUJ002604A11ADVPHYT1P076



السؤال الرابع



قذفت كرة من الأرض في الهواء وبعد (3.0 s) بلغت سرعتها المتجهة $[(9.0 \hat{x} - 6.0 \hat{y}) \text{ m/s}]$ ، ثم عادت إلى الأرض ، باهمال مقاومة الهواء .
22- احسب الزمن الكلي لتحليق الكرة في الهواء .

.....

.....

.....

.....

.....

.....

.....

.....

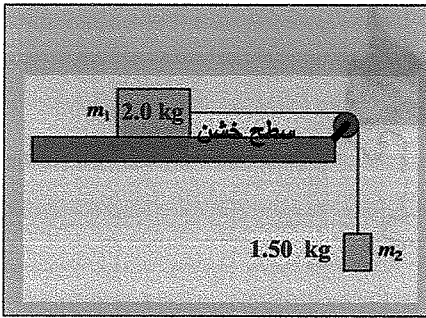
.....

.....

في الشكل المجاور تتحرك كتلة ($m_1 = 2.0 \text{ kg}$) على سطح خشن بتأثير الكتلة ($m_2 = 1.5 \text{ kg}$) ، وكان معامل الاحتكاك الحركي بين القالب m_1 والسطح (0.35) .



- 23- ارسم على الشكل مخطط القوى المؤثرة في الجسم m_1 .
- 24- احسب عجلة (تسارع) الكتلة (m_1) على السطح ،



.....

.....

.....

.....

.....

.....

.....

.....

.....

.....



- يحظر تصوير أو تداول الورقة الامتحانية قبل أو أثناء أو بعد الامتحان من خلال البريد الالكتروني أو وسائل التواصل الاجتماعي أو أي وسيلة أخرى ومن يخالف ذلك سيتخذ في حقه الإجراءات القانونية المتبعة.
- على إدارات المدارس ولجان الامتحانات ومراكز التقدير مراعاة ذلك، ورمد المخالفات، واتخاذ الإجراءات اللازمة.

