

شكراً لتحميلك هذا الملف من موقع المناهج الإماراتية



حل أسئلة الامتحان النهائي

[موقع المناهج](#) ← [المناهج الإماراتية](#) ← [الصف الحادي عشر المتقدم](#) ← [فيزياء](#) ← [الفصل الثاني](#) ← [الملف](#)

التواصل الاجتماعي بحسب الصف الحادي عشر المتقدم



روابط مواد الصف الحادي عشر المتقدم على تلغرام

[الرياضيات](#)

[اللغة الانجليزية](#)

[اللغة العربية](#)

[التربية الاسلامية](#)

المزيد من الملفات بحسب الصف الحادي عشر المتقدم والمادة فيزياء في الفصل الثاني

أسئلة الامتحان النهائي - بريدج	1
نموذج الهيكل الوزاري	2
حل أسئلة الامتحان النهائي	3
كتاب الطالب	4
مواصفات الامتحان النهائي للفصل الثاني	5

طريقة حل الاختبار: Digital	المجموعة: [Redacted]	إسم المستخدم: [Redacted]
المنطقة: [Redacted]	اسم المقرر: G11ADV.PHY - Physics G11ADV	الكلية: Grade11
العلامة المكتسبة: 110.1/125	الوقت المستغرق: [Redacted]	نوع الاختبار: Final
		الصف الحادي عشر متقدم - ...

تم تحميل هذا الملف من

موقع المناهج الإماراتية

حل امتحان فيزياء الفصل الثاني العام الدراسي 2021-2022

عمل الطالبان : عبدالله ابراهيم غنيم و عمر عادل

Anas uses a horizontal force of **20N** to push a **4kg** box along the a horizontal surface for **3 m**, then lifts the box up to a shelf **1 m** high.
?What is the total **work done on the box**

يستخدم أنس قوة أفقية مقدارها (20N) ليدفع صندوقاً كتلته (4kg) على سطح أفقي مسافة (3m) ثم يرفع الصندوق إلى رف على ارتفاع (1m). ما الشغل الكلي المبذول على الصندوق؟

استعمل بما ينم من الثوابت والعلاقات الرياضية التالية: You may use any of the given constants and equations where needed:		
$g = -9.8 \text{ m/s}^2$	$P = \frac{W}{\Delta t}$	$F_k = \mu F_N$
$W = \vec{F} \cdot \Delta \vec{r} = Frcos\theta$	$\Delta U = mgh$	$K = \frac{p^2}{2m}$

المخرجات التعليمية المرتبطة

PHY.6.2.03.002 o

J 99

J 60

J 39

J 157

alManahj.com/ae

$$W_1 = fd \cos(\theta) = 20 \times 3 \cos(0) = 60$$

$$W_2 = mgh = 4 \times 9.81 \times 1 = 39.24$$

$$W_{\text{total}} = W_1 + W_2 = 60 + 39.24 = 99.24 \text{ or } 99$$

In which of the following cases the total work done on a car equals zero?

في أي من الحالات التالية يكون الشغل الكلي المبذول على سيارة يساوي صفراً؟

استعن بما يلزم من الثوابت والعلاقات الرياضية التالية:

You may use any of the given constants and equations where needed:

$g = -9.8 \text{ m/s}^2$	$P = \frac{W}{\Delta t}$	$F_k = \mu F_N$
$W = \vec{F} \cdot \Delta \vec{r} = F r \cos \theta$	$\Delta U = mgh$	$K = \frac{p^2}{2m}$
$W_g = -mgh$	$K + U = K_0 + U_0$	$\Delta \vec{p} = \vec{j} = \vec{F} \Delta t$

المخرجات التعليمية المرتبطة

PHY.6.2.03.002

The car moves with a constant velocity

تتحرك السيارة بسرعة ثابتة

The car moves with a decreasing velocity

تتحرك السيارة بسرعة متناقصة

The car moves in an opposite direction to the force

تتحرك السيارة في الاتجاه المعاكس للقوة

The car moves with a constant acceleration

تتحرك السيارة بعجلة ثابتة

$$W = Fd$$


$$F = ma$$

$a = 0$ السرعة ثابتة

$$F = m \times 0 = 0 \text{ ----> } W = 0 \times d = 0$$

A 0.5kg red ball moving in a straight line at a velocity of 1.6 m/s collides elastically with a 0.3 kg blue ball at rest. What is the speed of blue ball after collision

كرة حمراء كتلتها 0.5kg تتحرك في خط مستقيم بسرعة 1.6m/s فتصطدم تصادماً مرناً مع كرة زرقاء كتلتها 0.3kg في حالة السكون. ما هي سرعة الكرة الزرقاء بعد التصادم؟



تم تحميل هذا الملف من
المخرجات التعليمية المرتبطة

PHY.6.1.02.049 ◦
PHY.6.1.02.050 ◦
مناهج الإماراتية

a.

b.

c.

d.

$M_1=0.5\text{kg}$ $V_{i1}=1.6\text{m/s}$
 $M_2=0.3\text{kg}$ $V_{i2}=0$ (at rest)

$$V_{f2} = \left(\frac{2m_1}{m_1+m_2} \right) v_{i1} + \left(\frac{m_2-m_1}{m_1+m_2} \right) v_{i2} = \left(\frac{2 \times 0.5}{0.3+0.5} \right) 1.6 + 0 = 2\text{m/s}$$

A wagon is pulled with a rope that makes an angle of 30° to the horizontal as shown in the figure. The tension in the rope is 50.0N . What is **the work done by the force** on the wagon if it moves 100 m on the horizontal surface

يتم جر عربة بحبل يصنع زاوية (30°) مع الأفقي كما هو موضح في الشكل. مقدار الشد في الحبل (50.0N) . ما الشغل الذي تبذله القوة على العربة لتحريكها مسافة (100m) على السطح الأفقي؟



المخرجات التعليمية المرتبطة

PHY.6.2.03.002

موقع المناهج الإماراتية

J 3304	.a
J 5000	.b
J 2500	.c
J 7775	.d

$$W = fd \cos(\theta) = 50 \times 100 \cos(30) = 4330\text{J}$$

If positive work is being done on an object, which one of the following statements is **true**

إذا كان الشغل المبذول على الجسم موجباً، أي العبارات التالية تكون **صحيحة**؟

المخرجات التعليمية المرتبطة

PHY.6.2.03.002 ◦

a. Energy is being transferred to the object

تنتقل الطاقة إلى الجسم

b. Energy is being transferred from the object

تنتقل الطاقة من الجسم

c. The object is moving in the positive x direction

يتحرك الجسم في اتجاه محور x الموجب

d. The object is moving opposite to the force

يتحرك الجسم بعكس اتجاه القوة

When a mass m is attached to a spring with a constant k hanging vertically, the spring is extended for 12 cm . If the same mass is attached to another spring with a constant $3k$ hanging vertically, for how much length Δx it would be extended

عندما يتم تعليق كتلة m في الطرف الحر لزنبرك ثابتته k معلق عمودياً فإنه يستطيل بمقدار 12 cm . إذا تم تعليق الكتلة نفسها في الطرف الحر لزنبرك آخر معلق عمودياً و ثابتته $3k$ ، فكم سيكون مقدار استطالته Δx ؟

اسعن بما يلزم من الثوابت والعلاقات الرياضية التالية:

You may use any of the given constants and equations where needed:

$g = -9.8\text{ m/s}^2$	$P = \frac{W}{\Delta t}$	$F_k = \mu F_N$
$W = \vec{F} \cdot \Delta \vec{r} = F r \cos\theta$	$\Delta U = mgh$	$K = \frac{p^2}{2m}$

المخرجات التعليمية المرتبطة

PHY.6.2.03.004

PHY.6.2.03.005

تم تحميل هذا الملف من

موقع المناهج الإماراتية

cm 4

cm 36

cm 7

cm 2

$$F_1 = k \Delta x_1$$

$$F_2 = k \Delta x_2$$

حل اخر

$$F = \frac{3}{3} k \Delta x \frac{1}{3}$$

$$\frac{0.12}{3} = 0.04$$

$$F_1 = k \times 0.12$$

$$F_2 = 3k \Delta x_2$$

ظرب نقطتين

$$F \times 3 \Delta x_2 = \frac{0.12}{3}$$

$$\Delta x_2 = 0.04$$

A car of mass **1000 kg** is travelling at **20 m/s**. If a braking force of **5000N** was applied to the car, what is the **distance** that the car moves ?until it stops

سيارة كتلتها (1000kg) تتحرك بسرعة (20m/s). إذا تم تطبيق قوة من المكابح مقدارها (5000N) على السيارة لإيقافها، ما المسافة التي ستنحركها السيارة إلى أن تتوقف؟

استعن بما يلزم من الثوابت والعلاقات الرياضية التالية:

You may use any of the given constants and equations where needed:

$g = -9.8 \text{ m/s}^2$	$P = \frac{W}{\Delta t}$	$F_k = \mu F_N$
$W = \vec{F} \cdot \Delta \vec{r} = F \cos \theta$	$\Delta U = mgh$	$K = \frac{p^2}{2m}$

المخرجات التعليمية المرتبطة

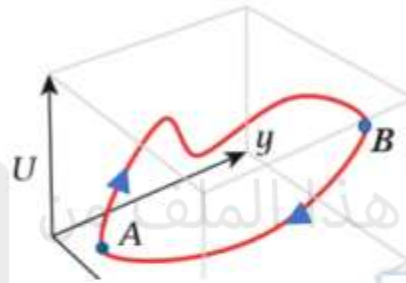
PHY.6.2.03.002

m 40	.a
m 50	.b
m 2	.c
m 250	.d

$$\frac{1}{2} m v^2 = f d \cos(\theta) \text{ -----} \rightarrow d = \frac{0.5 M V^2}{f} = \frac{0.5 \times 1000 \times 20^2}{5000} = -40$$

A conservative force is moving an object from a point A to a point B then back from B to A over the path shown in the figure. Which of the following is **not true**?

تقوم قوة محافظة بتحريك جسم من النقطة A إلى النقطة B ثم العودة به من B إلى A على المسار الموضح في الشكل. أي من العبارات التالية **غير صحيحة**؟



المخرجات التعليمية المرتبطة

PHY.6.1.02.040 ◦

PHY.6.2.03.004 ◦

Work done from A to B = Work done from B to A .a
الشغل المبذول لنقل الجسم من A إلى B = الشغل المبذول لنقل الجسم من B إلى A

Total work done on the object = 0 .b
الشغل الكلي المبذول على الجسم = 0

Total mechanical energy is conserved for the object .c
الطاقة الميكانيكية الكلية للجسم محفوظة

Work done from A to B is path independent .d
مقدار الشغل المبذول لنقل الجسم من A إلى B لا يعتمد على المسار

A crane developing **8000 W** raises a car of **1600 kg** for **10.0 m** vertically at a constant speed. How much **time** does it take to complete this task?

رافعة تعمل بقدره **8000W** ترفع سيارة كتلتها **1600kg** لمسافة **10.0m** رأسياً بسرعة ثابتة. ما الزمن المستغرق لإتمام هذه المهمة؟

استعن بما يترجم من الثوابت والعلاقات الرياضية التالية:

You may use any of the given constants and equations where needed:

$g = -9.8 \text{ m/s}^2$	$P = \frac{W}{\Delta t}$	$F_k = \mu F_N$
$W = \vec{F} \cdot \Delta \vec{r} = F r \cos \theta$	$\Delta U = mgh$	$K = \frac{p^2}{2m}$

تم تحميل هذا الملف من
المخرجات التعليمية المرتبطة

PHY.6.1.02.040 ◦
PHY.6.2.03.006 ◦

رواج المناهج الإماراتية

s 19.6

s 2.00

s 50.0

s 9.80

$$P = \frac{W}{t} \rightarrow 8000 = \frac{0.5 \times 1000 \times 10}{t} \rightarrow t = 19.6$$

$$W = mgh$$

Modern cars are designed with airbags to reduce damage during head-on collisions. **How do airbags work to reduce damage**

السيارات الحديثة مزودة بوسائد هوائية لتقليل الضرر أثناء الاصطدام الأمامي. **كيف تعمل الوسائد الهوائية لتقليل الضرر؟**

المخرجات التعليمية المرتبطة

- PHY.6.1.02.049
- PHY.6.1.02.050

تم تحميل هذا الملف من موقع المناهج الإماراتية

.a They increase the collision time and thus reduce the force acting on the driver

تزيد زمن التصادم وبالتالي تقلل من القوة المؤثرة على السائق

.b They reduce the impulse experienced by the driver during the collision and thus reduce the force exerted on the driver
تقلل مقدار الدفع الذي يتلقاه السائق أثناء التصادم وبالتالي تقلل القوة المؤثرة على السائق

.c They increase the impulse experienced by the driver during the collision and thus reduce the force exerted on the driver
تزيد مقدار الدفع الذي يتلقاه السائق أثناء التصادم وبالتالي تقلل القوة المؤثرة على السائق

.d They reduce the collision time and thus reduce the force acting on the driver
تقلل زمن التصادم وبالتالي تقلل من القوة المؤثرة على السائق

A bullet enters a wooden block with a kinetic energy of K_0 and loses half its velocity as it goes out of the block. What is the **kinetic energy** of the bullet when it goes out

تدخل رصاصة إلى كتلة خشبية بطاقة حركية K_0 وتفقد نصف سرعتها عند خروجها من الكتلة. ما هي الطاقة الحركية للرصاصة بعد خروجها من الكتلة ؟

استعن بما يلزم من الثوابت والعلاقات الرياضية التالية:
You may use any of the given constants and equations where needed:

$g = -9.8 \text{ m/s}^2$	$P = \frac{W}{\Delta t}$	$F_k = \mu F_N$
$V = \vec{F} \cdot \Delta \vec{r} = F \cos \theta$	$\Delta U = mgh$	$K = \frac{p^2}{2m}$

المخرجات التعليمية المرتبطة
PHY.6.2.03.002 ◦

- a. $K_0/4$
- b. $K_0/2$
- c. $2K_0$
- d. $4K_0$

Handwritten solution showing the derivation of the final kinetic energy:

$$K = \frac{1}{2} m u^2$$

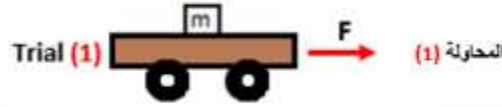
Initial kinetic energy: $K_0 = \frac{1}{2} m u^2$

Final velocity: $0.5u$

Final kinetic energy: $K = \frac{1}{2} m (0.5u)^2 = \frac{1}{4} K_0$

In a physics lab, a student uses a frictionless wheeled cart in an investigation. He loads the cart in each time with a block of different mass and applies the same force F to the cart to move it for the same distance d . In which of the following trials the cart will move faster at the end of distance d

في مختبر الفيزياء، يستخدم طالب عربة بعجلات عديمة الاحتكاك في تحقّق علمي. يقوم الطالب بتحميل العربة في كل مرة بكتلة مختلفة ويطبق نفس القوة F على العربة لتحريكها لنفس المسافة d . في أي محاولة مما يأتي ستتحرك العربة بسرعة أكبر عند نهاية المسافة d ؟



المخرجات التعليمية المرتبطة

PHY.6.2.03.002

موقع المناهج الإماراتية

(Trial 1)

المحاولة (1)

(Trial 2)
المحاولة (2)

المحاولة (3)

(Trial 3)

In all three trials it will move with the same velocity
في جميع المحاولات ستتحرك العربة بنفس السرعة

الصورة ليست مكتملة

The figure shows the velocity-time graph for two carts A and B that collided elastically. Which of the following statements is **true**

يوضح الشكل العلاقة البيانية بين السرعة و الزمن لعريتين A و B تصادمًا تصادمًا مرناً. أي من العبارات التالية **صحيحة**؟

v (m/s)

1.6
0.8



المخرجات التعليمية المرتبطة

PHY.6.1.02.039 ○

PHY.6.1.02.050 ○

The two carts moved in the same direction after collision .a

تحركت العريتان في اتجاه واحد بعد التصادم

The two carts were moving in opposite directions before collision .b

كانت العريتان تتحركان في اتجاهين متعاكسين قبل التصادم

Cart B stopped after collision .c

توقفت العربة B بعد التصادم

Cart A moved in the opposite direction after collision .d

تحركت العربة A في الاتجاه المعاكس بعد التصادم

الصورة ليست واضحة للحل

A runner in the Olympic games with a mass of 80kg has a kinetic energy of 4000J. What is the momentum of the runner

عداء في الألعاب الأولمبية كتلته (80kg) طاقته الحركية (4000J). ما هو مقدار كمية الحركة للعداء؟

استعن بما يلزم من الثوابت والعلاقات الرياضية التالية:

You may use any of the given constants and equations where needed:

$g = -9.8 \text{ m/s}^2$	$P = \frac{W}{\Delta t}$	$F_k = \mu F_N$
$W = \vec{F} \cdot \Delta \vec{r} = F r \cos \theta$	$\Delta U = mgh$	$K = \frac{P^2}{2m}$
$W_g = -mgh$	$K + U = K_0 + U_0$	$\Delta \vec{P} = \vec{J} = \vec{F} \Delta t$

المخرجات التعليمية المرتبطة

- PHY.6.1.02.049 ◦
- PHY.6.1.02.050 ◦

تم تحميل هذا الملف من

موقع المناهج الإماراتية

kg.m/s 800

kg.m/s 25

kg.m/s 50

kg.m/s 320

$$K = \frac{1}{2} m U^2$$

$$4000 = \frac{1}{2} \times 80 \times U^2$$


$$U = 10$$

$$P = m U = 80 \times 10$$

$$P = 800 \text{ kg} \cdot \text{m/s}$$

A block with a mass of 2kg slides at a constant velocity 0.5m/s on a horizontal frictionless surface as shown in the figure. When the block collides with the spring it comes to rest and the spring is compressed to the maximum value. If the spring constant is 200N/m , what is the **maximum compression (Δx)** in the spring

تنزلق كتلة مقدارها 2kg بسرعة ثابتة 0.5m/s على سطح أفقي عديم الاحتكاك كما هو موضح في الشكل. عندما تصطدم الكتلة بالزنبرك فإنها تتوقف ويتم ضغط الزنبرك إلى أقصى قيمة. إذا كان ثابت الزنبرك 200N/m ، فما مقدار أقصى انضغاط للزنبرك (Δx) ؟



المخرجات التعليمية المرتبطة

PHY.6.2.03.002

تم تحميل هذا الملف من موقع المناهج الإماراتية

a. $5.0 \times 10^{-2}\text{m}$

b. $5.0 \times 10^{-3}\text{m}$

c. 5.0m

d. 0.5m

alManahj.com/ae

$$M = 2\text{ kg}$$

$$U = 0.5\text{ m/s}$$

$$k = 200\text{ N/m}$$

$$\Delta x = ?$$

$$\frac{1}{2}Mu^2 = \frac{1}{2}kx^2$$

$$Mu^2 = kx^2$$

$$2 \times 0.5^2 = 200x^2$$

$$x = \sqrt{\frac{2 \times 0.5^2}{200}}$$

$$x = 0.05$$

The figure shows a frictionless incline that makes a 20° angle with the horizontal. A car is pulled for 500 m at a constant velocity up the incline. If the car's potential energy changes by 2000 kJ , what is the mass of the car?

يظهر الشكل جزءاً من منحدر مهمل الاحتكاك يصنع زاوية (20°) مع الأفقي. يتم سحب سيارة مسافة (500m) بسرعة ثابتة نحو أعلى المنحدر. فإذا تغيرت طاقة الوضع للسيارة بمقدار (2000kJ) ، ما هي كتلة السيارة؟



المخرجات التعليمية المرتبطة

- PHY.6.1.02.040 ○
- PHY.6.2.03.004 ○

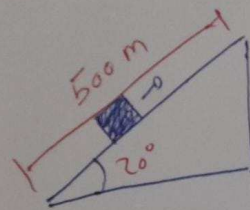
تم تحميل هذا الملف من

kg 1193

kg 408.4

kg 2170

kg 4000



$$h \rightarrow \sin 20^\circ = \frac{h}{500}$$

$$h = 500 \sin 20^\circ = 171.01 \text{ m}$$

$$W_g = mgh$$

$$2000 \times 10^5 = M \times 9.81 \times 171.01$$

$$M = 1192 \text{ M}$$

Which of the following expressions represents the **law of conservation of total momentum**?

أي مما يلي يعبر عن **قانون حفظ كمية الحركة الكلية**؟

المخرجات التعليمية المرتبطة

PHY.6.1.02.040 ◦

PHY.6.2.03.006 ◦

تم تحميل هذا الملف من

موقع المناهج الإماراتية

alManahj.com/ae

.a

$$\vec{p}_{f1} + \vec{p}_{f2} = \vec{p}_{i1} + \vec{p}_{i2}$$

.b

$$\vec{p}_{f1} - \vec{p}_{f2} = \vec{p}_{i1} - \vec{p}_{i2}$$

.c

$$\vec{p}_{f1} \div \vec{p}_{f2} = \vec{p}_{i1} \div \vec{p}_{i2}$$

.d

$$\vec{p}_{f1} \times \vec{p}_{f2} = \vec{p}_{i1} \times \vec{p}_{i2}$$

A 500g ball is thrown vertically up from Earth surface with an initial kinetic energy of 147 J. What is the maximum height the ball reaches?
 قُذفت كرة كتلتها 500g من سطح الأرض عمودياً إلى أعلى بطاقة حركية ابتدائية مقدارها (147J). ما أقصى ارتفاع ستصل إليه الكرة؟

استعن بما يلزم من الثوابت والعلاقات الرياضية التالية:
 You may use any of the given constants and equations where needed:

$g = -9.8 \text{ m/s}^2$	$P = \frac{W}{\Delta t}$	$F_k = \mu F_N$
$W = \vec{F} \cdot \Delta \vec{r} = F r \cos \theta$	$\Delta U = mgh$	$K = \frac{p^2}{2m}$

المخرجات التعليمية المرتبطة

- PHY.6.2.03.004
- PHY.6.2.03.005

تم تحميل هذا الملف من

موقع المناهج الإماراتية

m 2.9

alManahj.com/ae

m 73.5

m 37.5

$$KE = mgh$$

$$147 = 0.5 \times 9.81 \times h$$

$$h = \frac{147}{0.5 \times 9.81} = 30 \text{ m}$$

A car of mass **1800kg** starts from rest and reaches a speed of **30m/s** in **10s**. What is the average **power** that the car's engine during this time period

سيارة كتلتها (1800kg) تبدأ حركتها من السكون وتصل سرعتها إلى (30m/s) في (10s). ما هو متوسط قدرة محرك السيارة أثناء ذلك؟

اسمعي بما ينزم من الثوابت والمعادلات الرياضية التالية:

You may use any of the given constants and equations where needed:

$g = -9.8 \text{ m/s}^2$	$P = \frac{W}{\Delta t}$	$F_k = \mu F_N$
$W = \vec{F} \cdot \Delta \vec{r} = F r \cos \theta$	$\Delta U = mgh$	$K = \frac{p^2}{2m}$

المخرجات التعليمية المرتبطة

PHY.6.2.03.006 ◦

kW 81

kW 5.4

kW 8

kW 2.7

$$m = 1800 \text{ kg}$$

$$u_i = 0$$

$$u_f = 30 \text{ m/s}$$

$$T = 10 \text{ s}$$

$$P = ?$$

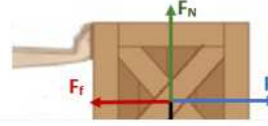
$$P = \frac{W}{T} = \frac{\frac{1}{2} \times 1800 \times 30^2}{10}$$

$$= 81000 \text{ W}$$

$$= 81 \text{ kW}$$

Ali is pushing a wooden box of weight 78 N for 2.0 m on a rough floor using a horizontal force of 120 N. If the total work done on the box is 190 J, what is the coefficient of kinetic friction between the box and the floor?

يدفع علي صندوقًا خشبيًا وزنه (78N) لمسافة (2.0m) على أرضية خشنة مستخدمًا قوة أفقية مقدارها (120N). إذا كان الشغل الكلي المبذول على الصندوق (190J)، فما معامل الاحتكاك الحركي بين الصندوق والأرضية؟



المخرجات التعليمية المرتبطة

PHY.6.1.02.040 ◦
PHY.6.2.03.004 ◦

0.64

0.32

0.45

1.00

تم تحميل هذا الملف من
موقع المناهج الإماراتية

alManahi.com/ae

$$\begin{aligned} \text{الشغل الكلي} &= 190 \\ \text{شغل الرجل} &= 240 \end{aligned}$$

$$W_{\text{Total}} = W_{\text{man}} - W_k$$

$$190 = 240 - W_k$$

$$W_k = 50$$

$$W_k = \mu_k F_N \times d$$

$$50 = \mu_k \times 78 \times 2$$

$$\mu_k = 0.32$$

?Which of the following is a **correct unit of Power**

أي مما يأتي هي وحدة صحيحة للقدرة؟

استعن بما يلزم من الثوابت والعلاقات الرياضية التالية:
You may use any of the given constants and equations where needed:

$g = -9.8 \text{ m/s}^2$	$P = \frac{W}{\Delta t}$	$F_k = \mu F_N$
$W = \vec{F} \cdot \Delta \vec{r} = F r \cos \theta$	$\Delta U = mgh$	$K = \frac{p^2}{2m}$
$W_g = -mgh$	$K + U = K_0 + U_0$	$\Delta \vec{p} = \vec{J} = \vec{F} \Delta t$

المخرجات التعليمية المرتبطة

تحميل هذا الملف من

PHY.6.2.03.002

موقع المناهج الإماراتية

.a
 $\text{Kg.m}^2/\text{s}^3$

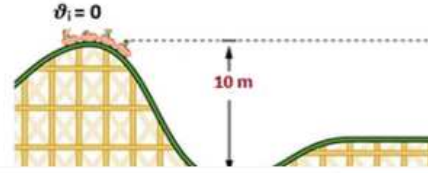
.b
 $\text{Kg.m}^2.\text{s}^3$

.c
 $\text{Kg.m}^3/\text{s}^2$

.d
 $\text{Kg/m}^3.\text{s}^2$

A roller coaster starts from **rest** at a height of **10 m** above point **A** as shown in the figure. If work done by frictional forces is negligible, what is the **speed** of the roller coaster at point **A**?

يبدأ قطار التعرج الحركة من **السكون** على ارتفاع **10m** فوق النقطة **A** كما هو موضح في الشكل. إذا كان الشغل الذي تبذله قوى الاحتكاك مهملاً ، فما **سرعة** القطار عند النقطة **A**؟



المخرجات التعليمية المرتبطة

- PHY.6.1.02.040 ○
- PHY.6.2.03.004 ○

تم تحميل هذا الملف من

m/s 14

موقع المناهج الإماراتية

m/s 9.9

m/s 17

m/s 20

alManahj.com/ae

$$mgh = \frac{1}{2}mv^2$$

$$gh = \frac{1}{2}v^2$$

$$9.81 \times 10 = \frac{1}{2}v^2$$

$$v = \sqrt{2 \times 9.81 \times 10} \\ = 14 \text{ m/s}$$

An astronaut of mass 90kg in his suit, is at rest in space. He fires a thruster that expels $45 \times 10^{-3}\text{kg}$ of hot gas at 800m/s . What is the speed of the astronaut after firing the thruster?

رائد فضاء كتلته 90kg مع بدلته، يقف في وضع السكون في الفضاء. ويستخدم مسدساً ليطلق $45 \times 10^{-3}\text{kg}$ من الغاز الساخن بسرعة 800m/s . ما هي سرعة رائد الفضاء بعد إطلاق الغاز؟



المخرجات التعليمية المرتبطة

- PHY.6.1.02.039 ○
- PHY.6.1.02.050 ○

تم تحميل هذا الملف من موقع المناهج الإماراتية

a. 0.4 m/s

b. 5.1 m/s

c. 2.5 m/s

d. 0.2 m/s

alManahj.com/ae

$$\begin{array}{l}
 \textcircled{1} \\
 m_1 = 90 \text{ kg} \\
 U_{i1} = 0 \\
 U_{f1} = ?
 \end{array}
 \quad
 \begin{array}{l}
 \textcircled{2} \\
 m_2 = 45 \times 10^{-3} \text{ kg} \\
 U_{i2} = 0 \\
 U_{f2} = 800 \text{ m/s}
 \end{array}$$

$$P_1 = P_2$$

$$m_1 U_{i1} + m_2 U_{i2} = m_2 U_{f2} + m_1 U_{f1}$$

$$0 = m_2 U_{f2} + m_1 U_{f1}$$

$$U_{f1} = \frac{m_2 U_{f2}}{m_1} = \frac{45 \times 10^{-3} \times 800}{90} = 0.4$$

A billiard ball moving with velocity of **2.5m/s** collides elastically with another billiard ball of the same mass **at rest**. What is the **velocity of the ?second ball after collision**

كرة بلياردو تتحرك بسرعة **2.5m/s** تتصادم تصادماً مرناً مع كرة بلياردو أخرى **ساكنة** لها نفس الكتلة. ما سرعة الكرة الثانية بعد الاصطدام؟

استعن بما يلزم من الثوابت والعلاقات الرياضية التالية:

You may use any of the given constants and equations where needed:

$g = -9.8 \text{ m/s}^2$	$P = \frac{W}{\Delta t}$	$F_k = \mu F_N$
		p^2

المخرجات التعليمية المرتبطة

- PHY.6.1.02.039 ○
- PHY.6.1.02.050 ○

تم تحميل هذا الملف من موقع المناهج الإماراتية

m/s 2.5

.a

m/s 2.5-

.b

m/s 1.25

.c

m/s 1.25-

.d

$$v_{f2} = \left(\frac{2m_1}{m_1 + m_2} \right) v_{i1} + \left(\frac{m_2 - m_1}{m_1 + m_2} \right) v_{i2}$$

$$v_{f2} = v_{i1} = 2.5$$

A ball with a mass of **0.2kg** collides with a wall with a speed of **10m/s** at a right angle and rebounds with the same speed in the opposite direction. If the contact time between the ball and the wall is **0.1s**, what is the **force exerted on the ball** by the wall

تصطدم كرة كتلتها **0.2kg** بجدار بزأوية قائمة بسرعة **10m/s** ثم ترتد عنه بنفس مقدار السرعة في الاتجاه المعاكس. إذا كان زمن التلامس بين الكرة والجدار **0.1s**، فما مقدار القوة التي يؤثر بها الجدار على الكرة؟

اسئعن بما يتزم من الثوابت والمعادلات الرياضية التالية:

You may use any of the given constants and equations where needed:

$$g = -9.8 \text{ m/s}^2$$

$$P = \frac{W}{\Delta t}$$

$$F_k = \mu F_N$$

المخرجات التعليمية المرتبطة

PHY.6.1.02.049

PHY.6.1.02.050

N 40

.a

N 20

.b

N 10

.c

Zero

.d

$$m = 0.2 \text{ kg}$$

$$U_i = 10 \text{ m/s}$$

$$U_f = -10 \text{ m/s}$$

$$T = 0.1 \text{ s}$$

$$F = ?$$

$$J = \Delta P$$

$$F \Delta t = P_f - P_i$$

$$F \times 0.1 = (-0.2 \times 10) - (0.2 \times 10)$$

$$F = -40 \text{ N}$$