

تم تحميل هذا الملف من موقع المناهج الإماراتية



## مراجعة القسم الثاني السكان من وحدة علم بيئة الجماعات الإحيائية

[موقع المناهج](#) ← [المناهج الإماراتية](#) ← [الصف الحادي عشر المتقدم](#) ← [علوم](#) ← [الفصل الثالث](#) ← [الملف](#)

تاريخ إضافة الملف على موقع المناهج: 16:34:23 2024-05-11

إعداد: أكرم زكي

## التواصل الاجتماعي بحسب الصف الحادي عشر المتقدم



اضغط هنا للحصول على جميع روابط "الصف الحادي عشر المتقدم"

## روابط مواد الصف الحادي عشر المتقدم على تلغرام

[الرياضيات](#)

[اللغة الانجليزية](#)

[اللغة العربية](#)

[التربية الاسلامية](#)

## المزيد من الملفات بحسب الصف الحادي عشر المتقدم والمادة علوم في الفصل الثالث

[حل أسئلة الامتحان النهائي الالكتروني بريدج](#)

1

[حل أسئلة الامتحان النهائي](#)

2

[حل مراجعة المقرر وفق الهيكل الوزاري](#)

3

[المراجعة النهائية للوحدات الخامسة والسادسة والسابعة باللغة الانجليزية](#)

4



# مادة الأحياء

مراجعة القسم الثاني (السكان)  
وحدة (علم بيئة الجماعات الأحيائية)



الصف الحادي عشر المتقدم

الفصل الدراسي الثالث 23-24

Class Of  
2025

# اختيار من متعدد

استخدم المخطط لإجابة على السؤالين التاليين:

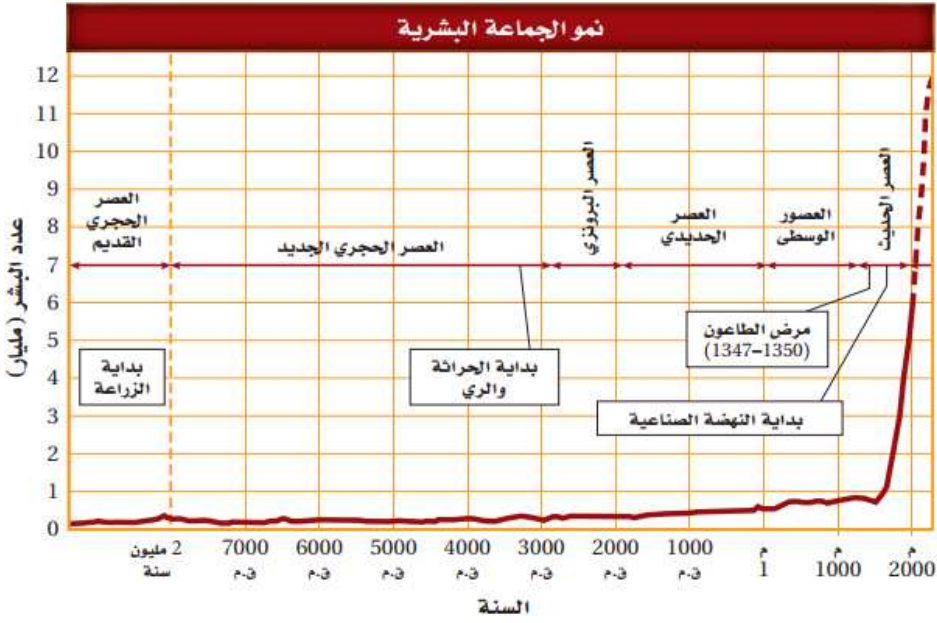
1. أي من الأحداث تتزامن مع الزيادة التدريجية في النمو السكاني؟

(أ) الطاعون الدبلي

(ب) الزراعة

(ج) الثورة الصناعية

(د) الحرث والرعي



2. متى بدأت الجماعة السكانية في

الزيادة أسياً؟

(أ) قبل مليوني سنة

(ب) 6500 ق م

(ج) 1800 ق م

(د) 1500 ق م

3. ما معدل النمو السكاني في اليابان عام 2008 إذا بلغ معدل المواليد (8)، ومعدل الوفيات (9)؟

(أ) 0.01%

(ب) -1.0%

(ج) 10%

(د) 1.0%

4. ما معدل النمو السكاني في جورجيا عام 2008 إذا بلغ معدل المواليد (11)، ومعدل الوفيات (10)؟

(أ) 0.01%

(ب) 1.0%

(ج) 10%

(د) 1.0%

استخدم المخطط للإجابة على السؤالين التاليين:

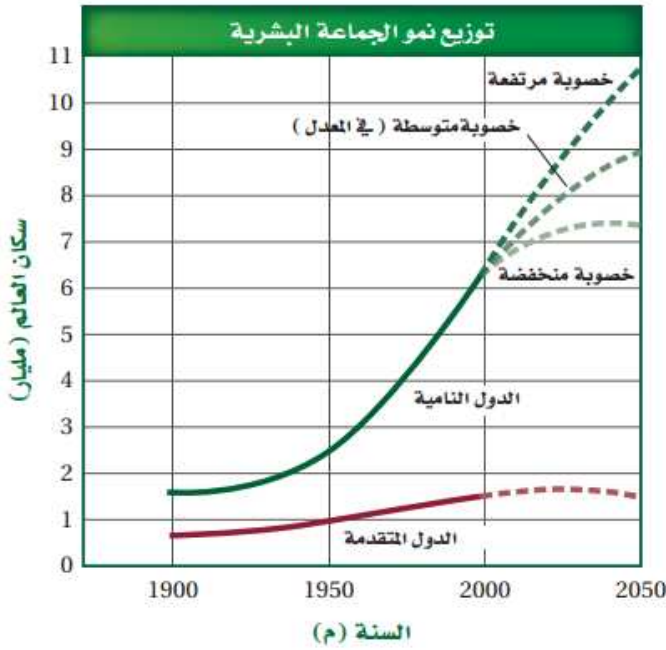
5. ما عدد السكان المتوقع عام 2050؟

- (أ) 1.5 مليار
- (ب) 7.3 مليار
- (ج) 9.0 مليار
- (د) 10.5 مليار

6. ما الفرق بين عدد سكان الدول النامية ذات معدل

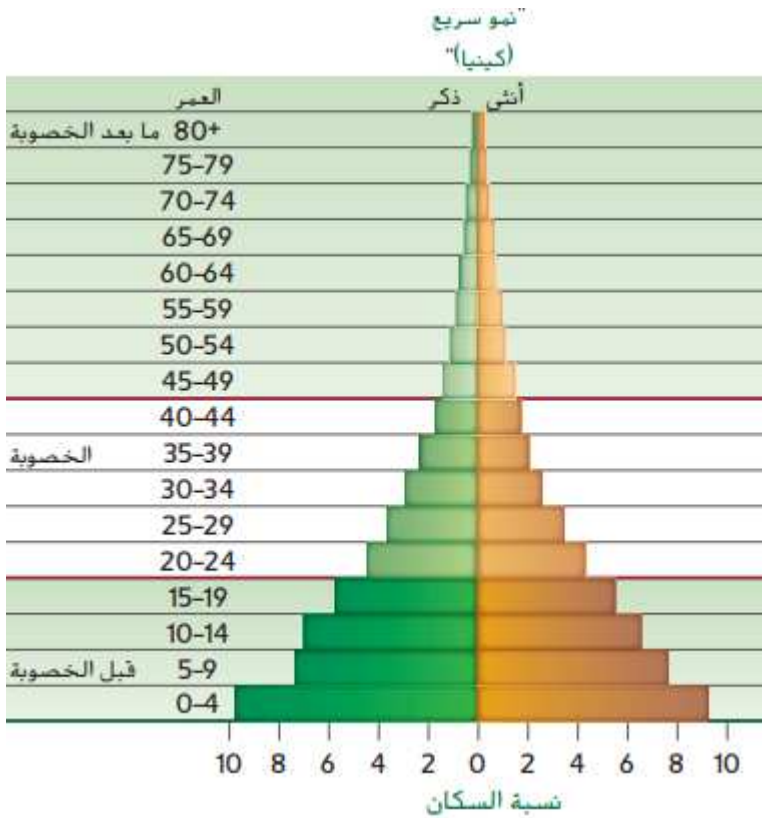
الخصوبة المرتفع والمنخفض المتوقع عام 2050؟

- (أ) 1.5 مليار
- (ب) 7.3 مليار
- (ج) 9.0 مليار
- (د) 3.2 مليار



7. لماذا يُعتبر النمو السكاني في كينيا نمواً سريعاً؟

- (أ) لعدم الإقبال على الزواج
- (ب) لأن قاعدة الهرم واسعة جداً
- (ج) لعدم الإقبال على الإنجاب
- (د) لأن الأعداد في سن ما بعد الخصوبة كبير



8. ما مُعدل نمو الجماعة البشرية في آسيا إذا كان معدل المواليد 24 ومعدل الوفيات 8 في العام 2004؟

- (أ) 0.16%
- (ب) 16%
- (ج) 1.6%
- (د) 160%

9. ما مُعدل نمو الجماعة البشرية في جورجيا إذا كان معدل المواليد 11 ومعدل الوفيات 11 في العام 2004؟

- (أ) 0.0%
- (ب) 1.1%
- (ج) 0.11%
- (د) 11%

10. ماذا تسمى الفترة من (0): (20) عاماً من عمر الفرد؟

- (أ) فترة الخصوبة.
- (ب) فترة ما قبل الخصوبة.
- (ج) فترة ما بعد الخصوبة.
- (د) فترة الشيخوخة.

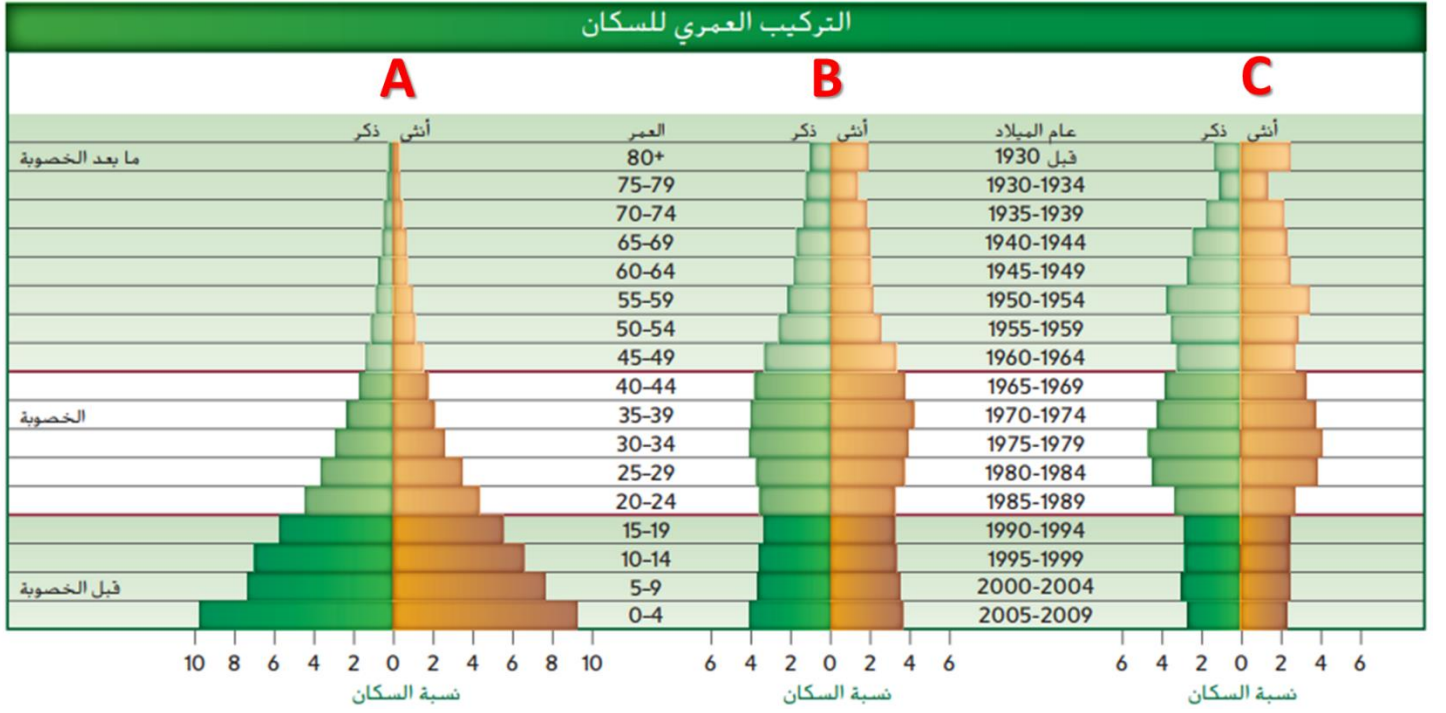
11. ما نوع النمو السكاني لجماعة تساوت فيها معدلات المواليد والوفيات، وتساوت معدلات الهجرة للداخل وللخارج؟

- (أ) نمو صفري.
- (ب) نمو سريع.
- (ج) نمو بطيء.
- (د) نمو سلبي.

12. ما المقصود بـ "دراسة حجم الجماعة السكانية وكثافتها ومعدل المواليد والوفيات فيها"؟

- (أ) النمو الصفري.
- (ب) التركيب العمري.
- (ج) علم السكان الإحصائي.
- (د) التوزيع العمري للسكان.

استخدم المخطط للإجابة على الأسئلة الثلاثة التالية:



13. أي النماذج التالية تمثل نمو سكاني بطيء؟

- A (أ)
- B (ب)
- C (ج)
- A, B (د)

14. أي النماذج التالية تمثل نمو سكاني سريع؟

- A (أ)
- B (ب)
- C (ج)
- B, C (د)

15. أي النماذج التالية تمثل نمو سكاني سلبي؟

- A (أ)
- B (ب)
- C (ج)
- A, C (د)



16. ماذا تسمى الفترة من (20): (44) عاماً من عمر الفرد؟

- (أ) فترة الخصوبة.
- (ب) فترة ما قبل الخصوبة.
- (ج) فترة ما بعد الخصوبة.
- (د) فترة الشيخوخة.

17. ماذا تسمى الفترة من (44) عاماً فأكثر من عمر الفرد؟

- (أ) فترة الخصوبة.
- (ب) فترة ما قبل الخصوبة.
- (ج) فترة ما بعد الخصوبة.
- (د) فترة الطفولة.

18. أي مما يلي لا يمكن أن يزيد القدرة الاستيعابية للأرض؟

- (أ) التكنولوجيا.
- (ب) التخطيط.
- (ج) البحث العلمي.
- (د) الأمية.

19. في الولايات المتحدة (لكل 1000)، يبلغ معدل المواليد 14.1 بينما يبلغ معدل الوفيات 8.3 ومعدل الهجرة 2.9،

فما معدل النمو السكاني؟

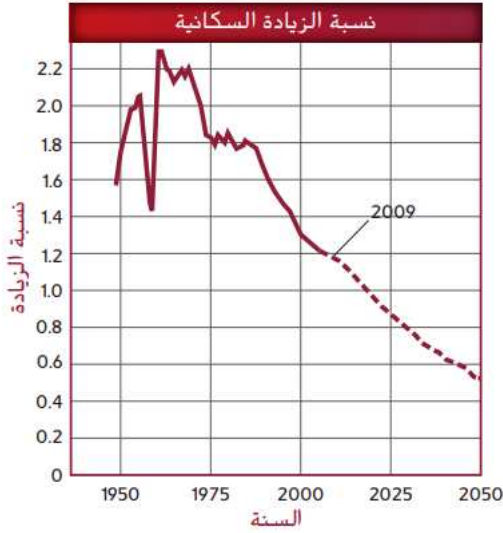
- (أ) 0.87%
- (ب) 0.78%
- (ج) 0.35%
- (د) 0.68%

استخدم المخطط للإجابة على الأسئلة التالية:

20. كم يبلغ معدل (نسبة الزيادة السكانية) النمو عام 1960 تقريباً؟

- (أ) 0.6%
- (ب) 1.2%
- (ج) 2.2%
- (د) 0.4%





21. كم يبلغ معدل (نسبة الزيادة السكانية) النمو عام 2009 تقريباً؟

- (أ) 0.6%
- (ب) 1.2%
- (ج) 2.2%
- (د) 1.4%

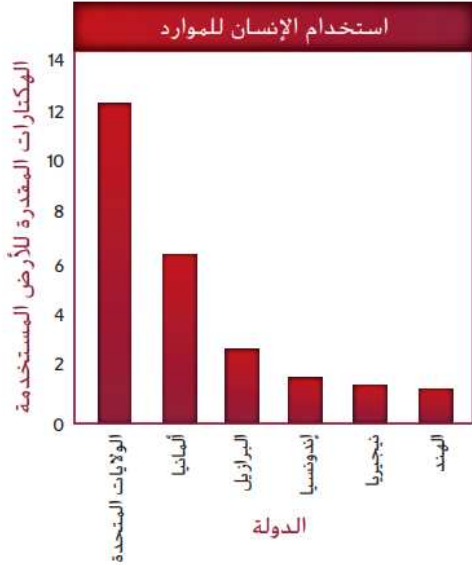
22. كم سيبلغ معدل (نسبة الزيادة السكانية) النمو عام 2050

تقريباً؟

- (أ) 0.6%
- (ب) 1.2%
- (ج) 2.2%
- (د) 1.4%

استخدم المخطط للإجابة على السؤالين التاليين:

23. ما أعلى الدول في القدرة الاستيعابية؟



(أ) نيجيريا

(ب) أندونيسيا

(ج) الولايات المتحدة الأمريكية

(د) الهند

24. ما أقل الدول في القدرة الاستيعابية؟

(أ) نيجيريا

(ب) أندونيسيا

(ج) الولايات المتحدة الأمريكية

(د) الهند

25. في هندوراس (لكل 1000)، يبلغ معدل المواليد 26.9 بينما يبلغ معدل الوفيات 5.4 ومعدل الهجرة 1.3 -، فما

معدل النمو السكاني؟

- (أ) 22.8%
- (ب) 20.2%
- (ج) 2.28%
- (د) 2.02%