

تم تحميل هذا الملف من موقع المناهج الإماراتية



*للحصول على أوراق عمل لجميع الصفوف وجميع المواد اضغط هنا

<https://almanahj.com/ae>

* للحصول على أوراق عمل لجميع مواد الصف الحادي عشر المتقدم اضغط هنا

<https://almanahj.com/ae/14>

* للحصول على جميع أوراق الصف الحادي عشر المتقدم في مادة رياضيات وجميع الفصول, اضغط هنا

<https://almanahj.com/ae/14>

* للحصول على أوراق عمل لجميع مواد الصف الحادي عشر المتقدم في مادة رياضيات الخاصة بـ اضغط هنا

<https://almanahj.com/ae/14>

* لتحميل كتب جميع المواد في جميع الفصول للـ الصف الحادي عشر المتقدم اضغط هنا

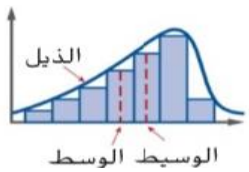
<https://almanahj.com/ae/grade14>

للتحدث إلى بوت المناهج على تلغرام: اضغط هنا

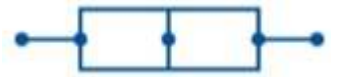
https://t.me/almanahj_bot

مدرسة الحصن الثانوية

المر اجعة النهائية



في



الإحصاء

طريقك للتفوق

للصف الحادي عشر-متقدم

إعداد: الأستاذ / مصطفى عبد العزيز

المتغير العشوائي: إذا كان S فضاء عينة لتجربة عشوائية، R مجموعة الأعداد الحقيقية فإن أي دالة $X : S \rightarrow R$ تسمى متغيراً عشوائياً معرفاً على S .

المتغير العشوائي المتقطع (المنفصل) : هو المتغير العشوائي الذي مداه مجموعة محدودة أو قابلة للحصر من الأعداد الحقيقية

مدى المتغير العشوائي: هو مجموعة القيم التي تحددها قاعدة المتغير العشوائي لكل ناتج من S وهو مجموعة جزئية من R .

التوزيع الاحتمالي: إذا كان X متغيراً عشوائياً متقطعاً (منفصل) مداه المجموعة $\{x_1, x_2, x_3, \dots, x_n\}$ فإن الدالة $f(x)$ المعرفة كالآتي :

تحدد مايسمى بالتوزيع الاحتمالي للمتغير العشوائي x والذي يعبر عنه بمجموعة الأزواج المرتبة المحددة لبيان الدالة $f(x)$.

ملاحظة : الدالة $f(x)$ تحقق الشرطان التاليين

$$0 \leq P(X) \leq 1 \quad -1$$

$$\sum P(X) = 1 \quad -2 \text{ (مجموع الاحتمالات = 1)}$$

(أي دالة تحقق هذين الشرطين تصلح ان تكون توزيعاً احتمالياً لمتغير عشوائي متقطع)

التوزيع الاحتمالي المنفصل هو توزيع احتمالي متغيره العشوائي منفصل.

المتوسط (التوقع أو القيمة المتوقعة): هو أحد مقاييس النزعة المركزية وهو يحدد القيمة التي تتمركز حولها معظم قيم المتغير العشوائي ويمز له بالرمز μ

التباين: هو أحد مقاييس التشتت التي توضح انتشار أو (تشتت) قيم المتغير العشوائي عن متوسطه ويرمز له بالرمز σ^2

الانحراف المعياري هو الجذر التربيعي الموجب للتباين ويرمز له بالرمز σ

إذا كان X متغيراً عشوائياً متقطعاً يأخذ القيم الممكنة التالية $x_1, x_2, x_3, \dots, x_n$ باحتمالات $p(x_1), p(x_2), p(x_3), \dots, p(x_n)$ فإن

$$\mu = \sum_{i=1}^n x_i \cdot p(x_i) \text{ المتوسط}$$

$$\sigma^2 = \sum_{i=1}^n (x_i - \mu)^2 \cdot p(x_i) \text{ التباين var. (x)}$$

$$\sigma = \sqrt{\sigma^2} \text{ الانحراف المعياري}$$

تمرين : في تجربة إلقاء قطعة نقود ثلاث مرات على التوالي وملاحظة الوجه الظاهر

① عين كلا ممالي

● عناصر الفضاء العيني

● مدى المتغير العشوائي الذي يعبر عن ظهور الكتابة

② انشئ جدول التوزيع الاحتمالي

③ مثل بياناً التوزيع الاحتمالي

④ احسب كلا من المتوسط (التوقع) - التباين ؟

$$E(x) = \sum_{i=1}^n x_i \cdot p(x_i)$$

تمارينات

• أوجد القيمة المتوقعة عند رمي مكعب مرقم من 1 إلى 6 مرة واحدة

• أوجد القيمة المتوقعة عند رمي مكعبين مرقمين مرة واحدة وتسجيل العددين الظاهرين على الوجهين العلويين .

• قطعة خشبية على شكل هرم ثلاثي منتظم أوجهه الأربعة متطابقة ومرقمة بالأعداد 1, 2, 3, 4 اوجد القيمة المتوقعة عند إلقاء الهرم مرة واحدة؟

• أوجد القيمة المتوقعة عند سحب قصاصة ورق عشوائيا من بين 5 قصاصات كتب على كل منها أحد الأرقام 1-5 دون تكرار.

• يخسر احد مطاعم الهواء الطلق على الشاطئ مبلغ 90,000 درهم في الموسم الواحد حين يكون الطقس أكثر أمطارا من العادة ويربح مبلغ 450,000 درهم حين يكون الطقس طبيعيا فإذا كان احتمال كون الطقس أكثر أمطارا من الحد الطبيعي في هذا الموسم تساوي 20% أوجد الربح المتوقع ؟

• تبيع مدينة للألعاب المائية مبلغ 350,000 درهم حين يكون الطقس طبيعيا وتخسر مبلغ 80,000 درهم في الموسم عندما يفوق عدد الأيام ذات الطقس الطبيعي ، فإذا كان احتمال وجود عدد اكبر من الأيام ذات الطقس الطبيعي هذا الموسم تساوي 35% أوجد الربح المتوقع لمدينة الألعاب المائية .

قانون الانحراف المعياري

المجتمع	العينة
$\sigma = \sqrt{\frac{\sum_{k=1}^n (x_k - \mu)^2}{n}}$	$s = \sqrt{\frac{\sum_{k=1}^n (x_k - \bar{x})^2}{n-1}}$
<p>حيث n عدد قيم المجتمع، و \bar{x} المتوسط الحسابي للمجتمع و x_k قيم المجتمع.</p>	<p>حيث n عدد قيم العينة، و \bar{x} المتوسط الحسابي للعينة و x_k قيم العينة.</p>

• حصل طالبات المعلمة هاجر في اختبار الرياضيات على الدرجات التالية فإذا علمت أن المتوسط الحسابي للدرجات هو 75

هل هذه البيانات تمثل عينة أم مجتمع ؟

الاختبار A

85, 80, 75, 75, 70, 75, 75, 65, 75,
75, 75, 80, 75, 75, 70, 80, 70, 75,
75, 75, 75, 75, 75

حسب الانحراف المعياري مرة جبريا ومرة باستخدام الآلة الحاسبة ؟

- يعمل 3 موظفين في شركة براتب سنوي مقداره 200,000 درهم لكل منهم ويعمل 10 آخرين براتب سنوي مقداره 70,000 درهم لكل منهم بينما يعمل 60 موظفا في الشركة براتب سنوي مقداره 40,000 درهم لكل منهم اي مقاييس النزعة المركزية يلائم البيانات بصورة افضل ؟

- أي مقاييس النزعة المركزية يلائم البيانات الأتية بصورة أفضل ؟ ولماذا ؟ 33, 37, 40, 31, 33, 38, 35

• صنف كل متغير عشوائي على أنه متصل أو منفصل

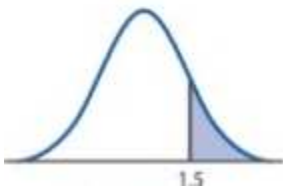
- يمثل x وزن الحبوب في عبوة حبوب وزنها فارغة 450 جرام تختار عشوائيا من العبوات في خط انتاج
- يمثل x عدد السيارات في موقف سيارات المدرسة والمختارة في توقيت عشوائي خلال يوم الدوام المدرسي.

- أوجد قيمة z إذا كان $x = 24, \mu = 29, \sigma = 4.2$

- يتم توزيع درجات الحرارة لأحد الشهور في إحدى مدن دولة الامارات حيث $\mu = 81^{\circ}, \sigma = 6^{\circ}$ أوجد احتمال

$$p(70^{\circ} < x < 90^{\circ})$$

- أوجد المساحة المقابلة لقيمة $z=1.5$



● كانت سرعة الكتابة المتوسطة على لوحة المفاتيح لدى عينة عشوائية من 20 طالبا في مادة الحاسوب 40wpm عند انحراف معياري يساوي 8 wpm قدر سرعة الكتابة الوسيطة على لوحة المفاتيح لجميع الطلاب في هذه المادة باستخدام مستوى ثقة 90% .

● أكمل ما يأتي

- 1- المعلمة هو مقياس يصف خاصية في بينما الإحصائي هو مقياس يصف خاصية في.....
- 2- القيمة المتطرفة هي واحدة من البيانات أو من بقية البيانات.
- 3- أي مقياس النزعة المركزية يناسب البيانات الآتية 37, 33, 40, 31, 33, 38, 35
الجواب هو.....ولماذا؟.....
- 4-- من أشهر مقاييس التشتتو.....
- 5 - القيمة المتوقعة عند رمى حجر نرد هي.....
- 6 – تنص نظرية النهاية المركزية على أنه زيادةفإن توزيع أوساط العينات.....

عزيزي الطالب

يقول بن القيم رحمه الله. مهما بلغ تقصيرك في العبادة فلا تفرط في حسن الخلق فقد يكون مفتاحك لدخول أعالي الجنة
قال صلى الله عليه وسلم. إن المؤمن ليدرك بحسن خلقه درجة الصائم القائم.

المتغير العشوائي المتصل (المستمر): هو المتغير العشوائي الذي مداه فترة مفتوحة أو مغلقة

مثال توضيحي(1): في تجربة اختيار نقطة على محور السينات بحيث يكون بعدها عن نقطة الأصل لا يزيد عن ٢ وحدة طول نجد أن $S = [-2, 2]$

وإذا كان المتغير العشوائي X يعبر عن (بعد هذه النقطة عن نقطة الأصل) فإن مدى $X = [0, 2]$ وهو متغير عشوائي متصل.

مثال توضيحي(2) إذا كانت النقطة (x, y) تقع داخل أو على الدائرة $x^2 + y^2 = 25$ التي مركزها نقطة الأصل (o) وطول نصف قطرها ٥ وحدات، وإذا كان المتغير العشوائي X يعبر عن بعد النقطة عن مركز الدائرة فإن

$$S = \{(x, y) : x^2 + y^2 \leq 25\} \text{ ، } (x, y) \leq 5 \text{ بعد } 0 \leq$$

بالتالي يكون: مدى المتغير العشوائي $X = [0, 5]$

دالة الكثافة : إذا كان X متغير عشوائي متصل فإن الدالة الحقيقية $f(x)$ التي مداها غير سالب تسمى دالة الكثافة الاحتمالية إذا كانت تحقق الشرطان الأتيان معا :

① منحنى الدالة $f(x)$ يقع فوق محور السينات أى أن $f(x) \geq 0$ لجميع قيم x التي تنتمي إلى مجال الدالة .

② مساحة المنطقة أسفل منحنى الدالة وفوق محور السينات تساوي الواحد الصحيح.

ملاحظة: يمكن إيجاد احتمالات الأحداث المعبرة عنها بواسطة المتغير العشوائي فيكون

$$p(a \leq x \leq b) = \text{مساحة المنطقة الواقعة تحت المنحنى وفوق محور السينات في الفترة } [a, b] \text{ حيث } a \leq b$$

أمثلة على المتغير العشوائي المتصل

● طول احد المرشحين لفريق كرة السلة

● العمر الافتراضي لأحد أنواع الهواتف المحمولة

● الوقت الذي يستغرقه المعلم في شرح أحد دروس الإحصاء.

تمارين على المتغير العشوائي المتقطع وتوزيعه الاحتمالي :

اختر الاجابة الصحيحة من بين الاجابات المعطاة

① جميع الحالات الاتية تعبر عن المتغير العشوائي ماعدا

● عدد الأسهم المخصصة لأحد الأفراد في شركة مساهمة

● عدد المكالمات الأسبوعية لأحد الأفراد في الجوال

● عدد الحوادث على أحد الطرق السريعة خلال شهر

● طول أحد المرشحين لفريق كرة السلة

② إذا كان مدى المتغير العشوائي لتجربة القاء قطعة نقود مرتين متتاليتين هو $\{0, 1\}$ فإن هذه التجربة تدل على

● عدد الصور ● عدد الكتابات ● عدد الصور - عدد الكتابات ● عدد الصور x عدد الكتابات

③ أي من الدوال الآتية تمثل دالة توزيع احتمالي للمتغير العشوائي x :

5	3	1	0	x_i
-0.2	0.4	0.3	0.5	$p(x_i)$

4	3	2	1	x_i
0.26	0.42	0.15	0.06	$p(x_i)$

6	5	4	3	x_i
0.18	0.17	0.32	0.23	$p(x_i)$

2	1	-1	-2	x_i
0.31	0.23	0.14	0.32	$p(x_i)$

④ الجدول المقابل يمثل التوزيع الاحتمالي للمتغير العشوائي x فإن $a = \dots\dots\dots$

- $\frac{2}{5}$ • $\frac{3}{5}$ • $\frac{-4}{5}$ • $\frac{1}{5}$ •

4	3	1	0	x_i
$3a$	$3a^2$	$2a^2$	a	$p(x_i)$

⑤ إذا كان x متغير عشوائي مداه $\{1, 2, -1, 0\}$ وكان $p(x = 1) = 0.1$ ، $p(x = 0) = 0.4$ ، $p(x = -1) = 0.2$ فإن $P(x > 1) = \dots\dots\dots$

- 0.6 • 0.5 • 0.4 • 0.3 •

⑥ تعرف القيمة التي تتمركز عندها معظم قيم المتغير العشوائي بـ.....

- التوقع • التباين • الانحراف المعياري • الوسيط

⑦ إذا كان x متغير عشوائي متقطعا توقعه $\mu = 3.5$ وتوزيعه الاحتمالي كالآتي

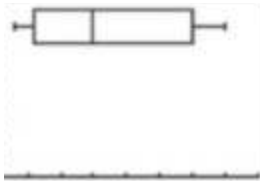
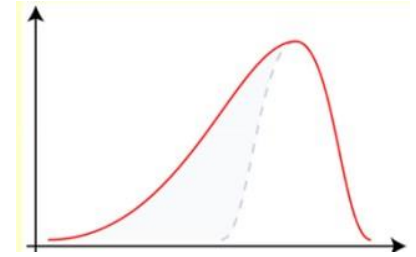
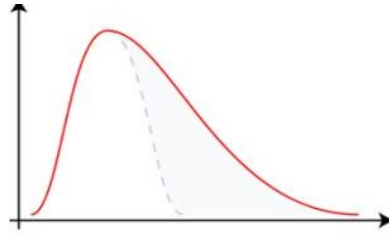
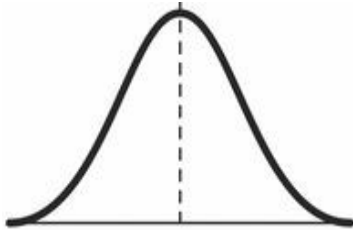
6	b	2	1	0	x_i
0.3	a	0.3	0.1	0.1	$p(x_i)$

فإن $a + b = \dots\dots\dots$

- 4.8 • 5 • 5.2 • 0.2 •

⑧ أي الأشكال التالية ملتو نحو اليسار





⑩ قدر وسيط ومدى انتشار البيانات التي يمثلها مخطط الصندوق

C الوسيط ≈ 50 . الانتشار ≈ 50

A الوسيط ≈ 30 . الانتشار ≈ 50

D الوسيط ≈ 50 . الانتشار ≈ 65

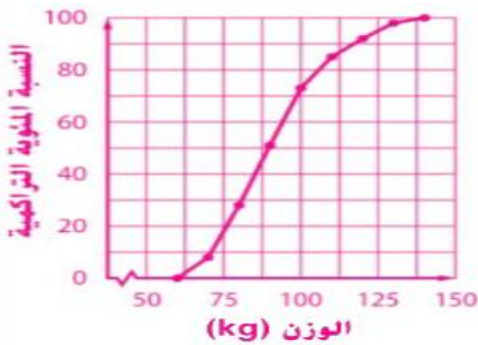
B الوسيط ≈ 30 . الانتشار ≈ 65

متوسط توزيع ذي الحدين وانحرافه المعياري

المتوسط والتباين والانحراف المعياري لمتغير عشوائي x له توزيع احتمالي

$$\mu = np \quad \text{المتوسط} \quad \sigma^2 = npq \quad \text{التباين} \quad \sigma = \sqrt{\sigma^2} = \sqrt{npq} \quad \text{الانحراف المعياري}$$

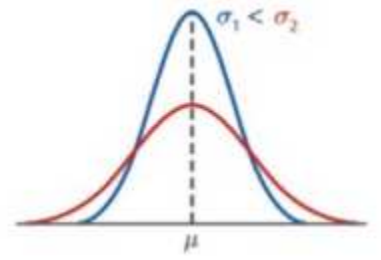
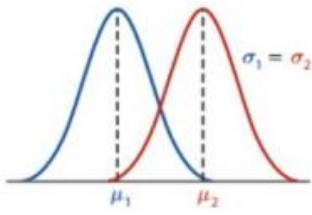
قدر المركز المنوي للاعب وزنه 110 kg في هذا التوزيع وفسر معناه ؟



المتغير العشوائي الطبيعي

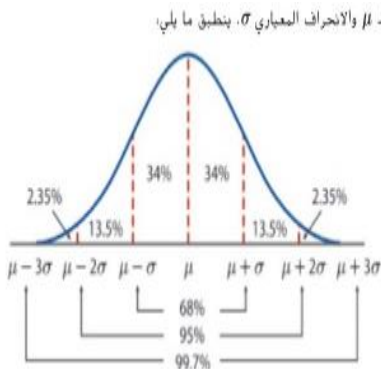
هو متغير عشوائي متصل مداه الفترة $]-\infty, \infty[$ ودالة كثافة الاحتمال له تعتمد على قيمتين هما متوسطه μ وانحرافه المعياري σ ويسمى منحنى هذه الدالة بالمنحنى الطبيعي ويأخذ دائماً شكل الجرس .

منحنيات طبيعية لها نفس المتوسط μ مع اختلاف الانحراف المعياري σ مع اختلاف المتوسط μ مع اختلاف الانحراف المعياري σ



خواص المنحنى الطبيعي

- منحنى متصل يقع بأكمله فوق محور السينات ، مساحة المنطقة الواقعة أسفل المنحنى وفوق محور السينات = 1
- المنحنى متماثل بالنسبة للمستقيم $x = \mu$ (أي أن المستقيم $x = \mu$ يقسم المساحة أسفل المنحنى وفوق محور السينات إلى قسمين متساويين في المساحة ، ومساحة كل منهما = 0,5)
- الدالة التي يمثلها تتزايد في الفترة $]-\infty, \mu]$ وتتناقص في الفترة $[\mu, \infty[$
- المنحنى له قمة واحدة عند $x = \mu$
- يمتد طرفا المنحنى إلى ما لانهاية حيث يقتربا المنحنى من المحور الأفقي x دون أن يقطعه



- المساحة الواقعة تحت المنحنى وفوق الفترة $[\mu - \sigma, \mu + \sigma]$ = 68% من المساحة الكلية تحت هذا المنحنى
- المساحة الواقعة تحت المنحنى وفوق الفترة $[\mu - 2\sigma, \mu + 2\sigma]$ = 95% من المساحة الكلية تحت هذا المنحنى
- المساحة الواقعة تحت المنحنى وفوق الفترة $[\mu - 3\sigma, \mu + 3\sigma]$ = 99.7% من المساحة الكلية تحت هذا المنحنى

التوزيع الطبيعي المعياري

هو توزيع طبيعي متوسطه $\mu = 0$ وانحرافه المعياري $\sigma = 1$

خواص منحنى التوزيع الطبيعي المعياري

- المساحة فوق محور السينات وتحت المنحنى = 1
- المنحنى متماثل بالنسبة للمحور الرأسي $x = 0$ الذي يقسم المنطقة أسفل المنحنى وفوق محور السينات إلى قسمين متساويين في المساحة ومساحة كل منهما = 0.5

• تقع المنطقة كلها بين $z=3$ ، $z=-3$

• مساحة المنطقة الواقعة أسفل المنحنى وفوق الفترة $[0, a]$ تمثل عدديا احتمال وقوع المتغير العشوائي z في الفترة $[0, a]$

بمعنى أن: $p(0 \leq z \leq a)$ = المساحة تحت المنحنى الطبيعي المعياري وفوق الفترة $[0, a]$

عزيزي الطالب.....قبل أن تقوم بإجراء الحل ارسم أولا

تمرينات مباشرة

$$p(-0.58 \leq z \leq 0)$$

$$p(z \leq 1.45)$$

• أوجد قيمة a في الحالات الآتية

$$\bullet p(z \leq a) = 0.6480$$

$$\bullet p(|z| \leq a) = 0.5160$$

حساب الاحتمالات لمتغير طبيعي غير معياري

إذا كان x متغير طبيعي غير معياري متوسطه μ وانحرافه المعياري σ فاننا نحول هذا المتغير إلى متغير طبيعي معياري z بالقاعدة $z = \frac{x - \mu}{\sigma}$

• إذا كان x متغير عشوائي طبيعي متوسطه $\mu = 17$ وانحرافه المعياري $\sigma = 2$ اوجد :

$$p(17 \leq x \leq 21.4)$$

$$p(z \geq 19)$$

● مبین أدناه عدد الساعات في الأسبوع التي قضاها أعضاء فريق مدرسة الحصن في التمرينات الرياضية

15, 18, 16, 20, 22, 18, 19, 20, 24, 18, 16, 18

احسب المدى البين أرباعي

.....
.....

● تتوزع مجموعة من البيانات توزيعاً طبيعياً بمتوسط 78 وانحراف معياري 5 أوجد احتمال أن تزيد قيمة لـ X اختيرت عشوائياً عن 83 ؟

.....
.....
.....
.....

● أظهرت عينة عشوائية شملت 80 مستهلكاً لألعاب الفيديو أن متوسط سعر لعبة الفيديو هو 36,50 AED افترض أن الانحراف المعياري المستمد من دراسات سابقة كان 11,30 AED

● أوجد أقصى خطأ للتقدير مع العلم أن مستوى الثقة 99%

.....
.....
.....

● أنشئ فترة ثقة لمتوسط سعر لعبة الفيديو

.....
.....

● تعتقد نوال أن سعر تذكرة السينما لا يزال أقل من 7 AED وهي تستطيع الذهاب إلى 14 دار سينما بشكل عشوائي وتدوين أسعار التذاكر. أوجد قيمة p

وحدد ما إذا كان يوجد دليل كافي لدعم افتراضها حيث $\alpha = 0.10$

أسعار التذاكر (AED)						
5.25	7.27	5.46	7.63	7.75	5.42	6
6.63	7.38	6.97	7.85	7.03	6.53	6.87

.....
.....

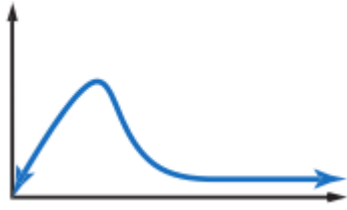
● يتوزع عمر 10000 مصباح كهربائي توزيعاً طبيعياً بمتوسط حسابي 300 يوم ، وانحراف معياري 40 يوماً. كم مصباحاً يقع عمره بين 260 يوماً ، 340 يوماً ؟

.D 6800

.C 5000

.B 3400

.A 2500



● ما الوصف الأفضل للتوزيع الاحتمالي الممثل أدناه

- A توزيع سالب الالتواء
B توزيع متمائل
C توزيع طبيعي
D توزيع موجب الالتواء

● موضح بالجدول متوسط أسعار حقائب اليد لثلاثة مصممين على موقع للبيع بالمزاد العلني على الانترنت

إذا اختيرت عينة عشوائية تضم 35 حقيبة يد من الموديل A. فأوجد احتمال أن يكون متوسط السعر أكثر من AED 138 حيث أن الإنحراف المعياري للمجتمع الاحصائي 9 AED .

متوسط السعر (AED)	موديل حقيبة اليد
135	A
145	B
152	C

● إذا اختيرت عينة عشوائية تضم 40 حقيبة يد من الموديل C فأوجد احتمال أن يكون متوسط السعر بين 150 AED و 155 AED إذا كان الانحراف المعياري للمجتمع الاحصائي 12 AED .


● يتم توزيع متوسط عمر لاعب في بطولة بيسبول بمتوسط 28 عام وانحراف معياري يبلغ 4 أعوام. ما النسبة المئوية للاعبين الذين تقل أعمارهم عن 24 عام؟

● يوضح الجدول متوسط العمر المتوقع للأشخاص الذين ولدوا في أعوام مختلفة بالولايات المتحدة

متوسط العمر المتوقع	50	54.1	59.7	62.9	68.2	69.7	70.8	73.7	75.4	76.9
عدد الأعوام منذ 1900	10	20		40	50	60	70	80	90	100

■ ارسم مخطط الانتشار للبيانات وحدد العلاقة

■ احسب معامل الارتباط وفسره ، وحدد ما إذا كان ذا دلالة عند المستوى 5 % .



■ إذا كان ذا دلالة عند المستوى % 5 فأوجد معادلة الانحدار التي بها مربعات أقل

■ فسر الميل والتقاطع

■ استخدم معادلة الانحدار التي أوجدتها للتنبؤ بمتوسط العمر المتوقع في 2080 وحدد ما إذا كان هذا المتوقع معقولا

التوزيع ذو الحدين

يسمى التوزيع ذو الحدين التوزيع ذا المعلمتين ، وهما عدد المحاولات n واحتمال النجاح في المرة الواحدة p وتحدد الاحتمالات تماما عند معرفة هاتين المعلمتين.

تقريب التوزيع ذي الحدين إلى التوزيع الطبيعي

في التوزيع ذي الحدين عندما تُمثل n عدد المحاولات ، واحتمال النجاح p ، واحتمال الفشل q ، ويكون
 $n p \geq 5$ ، $n q \geq 5$ ، يمكن تقريب التوزيع ذي الحدين إلى توزيع طبيعي بمتوسط $\mu = np$ ،
وانحراف معياري $\sigma = \sqrt{npq}$.

● اكتشفت إحدى شركات تصنيع السيارات عيباً في موديل جديد، ويتوقع أن يؤثر العيب في 30% من السيارات المنتجة فما احتمال وجود 10 سيارات معيبة على الأقل و 15 سيارة معيبة على الأكثر ضمن عينة عشوائية من 40 سيارة؟

.....

.....

.....

.....

.....

.....

● أوجد احتمال متوسط العينة

$$p(\bar{x} < 30), \mu = 40, \sigma = 5.5, n = 25$$

.....

.....

● إذا كانت كمية الماء بالميليلتر في نوع محدد من أنواع الشامبو موزعة توزيعاً طبيعياً فيه $\mu = 125, \sigma = 7$ أوجد

$$p(x < 105)$$

.....

.....

.....

.....

● حدد ما إذا كان يجب استخدام التوزيع الطبيعي أو توزيع t في كل من التالي ثم اوجد كل فترة من فترات الثقة باستخدام المعلومات الموضحة

$$C = 90\%, \bar{x} = 73, s = 4.8, n = 12$$

.....

.....

.....

$$C = 96\%, \bar{x} = 34, \sigma = 2.3, n = 38$$

.....

.....

● حدد حجم العينة بالمتطلبات التالية

$$C = 90\%, \sigma = 3.9, E = 0.8$$

● حدد ما إذا كانت كل عبارة من العبارات التالية صحيحة أم خطأ

- يوسع زيادة حجم العينة فترة الثقة
- يوسع زيادة مستوى الثقة فترة الثقة
- يوسع زيادة الانحراف المعياري فترة الثقة
- يوسع الوسط فترة الثقة

● يعتقد راشد أن متوسط سعر البنزين لايزال أقل من AED 2.50 لكل لتر ، قام راشد بالاتصال عشوائيا بـ 40 محطة وقود مختلفة ووجد أن السعر هو AED 2.51 عند انحراف معياري قدره AED 0.06 . أوجد قيمة P وحدد ما إذا كان هناك ما يكفي من الأدلة لدعم الافتراض عند $\alpha = 0.10$

- A. 0.85 ، دليل غير كاف
- B. 0.95 ، دليل كاف
- C. 0.15 ، دليل غير كاف
- D. 0.05 ، دليل كاف

● حو ط على العبارة الصحيحة من بين القوسين لتجعل الجملة صحيحة:

1. الوسط يكون أقل من الوسيط وأغلب البيانات موضحة على الجانب الأيمن في توزيع (ملتو نحو اليسار- ملتو نحو اليمين).
2. A متغير عشوائي (متصل – منفصل) قد يأخذ عدد لانهاهي من القيم الممكنة خلال فترة محددة.
3. A يسمى توزيع قيم Z بوسط 0 وانحراف معياري 1 بالتوزيع (ثنائي الحدين – الخطأ المعياري للوسط).
4. يسمى الانحراف المعياري لوسط العينة بـ (خطأ أخذ العينات – الخطأ المعياري للوسط).
5. تنص (نظرية النهاية المركزية – القاعدة التجريبية) على أنه كلما زادت n اقترب شكل توزيع أوساط العينة من التوزيع الطبيعي.
6. يسمى تقدير القيمة المنفردة لأية معلمة مجتمع احصائي مجهول بتقدير (الفترة – النقطة).
7. تنص (الفرضية البديلة – فرضية العدم) على عدم وجود اختلاف كبير بين قيمة العينة ومعلمة المجتمع الاحصائي.

● تقول إحدى شركات الطيران إن رحلاتها من أوهايو إلى تكساس أقل من 3 ساعات وتوصلت عينة عشوائية لـ 30 رحلة طيران إلى متوسط زمني قدره 2.9 ساعة. حدد ما إذا كان ادعاء شركة الطيران مدعوما عندما $\alpha = 0.05$

■ اكتب فرضية العدم والفرضية البديلة واذكر الفرضية التي تمثل الادعاء

.....
.....

■ احسب احصاء الاختبار

.....
.....
.....
.....
.....

■ حدد ما إذا كان هناك دليل لرفض فرضية العدم .

.....
.....

■ صغ عبارة تخص الادعاء الأصلي

.....
.....

● حدد ما إذا كان يجب استخدام التوزيع الطبيعي أو توزيع t لإيجاد فترة ثقة 95% فيها $\bar{x} = 12.8$, $S = 3.8$, $n = 50$ ثم أوجد فترة الثقة ؟

.....
.....
.....
.....
.....

● لكل عبارة اكتب فرضية العدم والفرضية البديلة واذكر أيهما يمثل الافتراض

■ تقول نجلاء أنها لم تقد سيارتها بسرعة أكبر من 50 كيلو متر في الساعة خلال الرحلة كاملة

.....
.....
.....
.....

■ يقول زايد أن بإمكانه كتابة أكثر من 60 كلمة في الدقيقة

.....
.....
.....

أبنائي الأعزاءبارك الله فيكم

قال صلى الله عليه وسلم(أحبُّ الناس إلى الله أنفعُهُم للنَّاسِ، وأحبُّ الأعمال إلى الله عزَّ وجلَّ سرُّورٌ يدخلُهُ على مسلمٍ، أو يكشفُهُ عنه كُرْبَةً، أو يفضي عنه دَيْئاً، أو تطردُّ عنه جوعاً، ولأنَّ أمثلي مع أخ لي في حاجة أحبُّ إليَّ من أن اعتكفَ في هذا المسجدِ، يعني مسجدَ المدينة شهرًا، ومن كَفَّ غضبه سترَ الله عورتهُ، ومن كظَمَ غيظَهُ، ولو شاءَ أن يمضيه أمضاه ملاً اللهُ قلبه رجاءً يومَ القيامةِ، ومن مشى مع أخيه في حاجةٍ حتى تنهياً له أثبتَ اللهُ قدمه يومَ تَرُولُ الأقدامِ، وإنَّ سوءَ الخلقِ يُفسدُ العملَ، كما يفسدُ الخلُّ العسلَ)

تمنياتي لكم بالتوفيق،،،