

كل ما يحتاجه الطالب في جميع الصفوف من أوراق عمل واختبارات ومذكرات، يجده هنا في الروابط التالية لأفضل مواقع تعليمي إماراتي 100 %

<u>تطبيق المناهج الإماراتية</u>	<u>الاجتماعيات</u>	<u>الرياضيات</u>
<u>الصفحة الرسمية على التلغرام</u>	<u>الاسلامية</u>	<u>العلوم</u>
<u>الصفحة الرسمية على الفيسبوك</u>	<u>الانجليزية</u>	
<u>التربية الاخلاقية لجميع الصفوف</u>	<u>اللغة العربية</u>	
<u>التربية الرياضية</u>		
مجموعات التلغرام.	مجموعات الفيسبوك	قنوات تلغرام
<u>الصف الأول</u>	<u>الصف الأول</u>	<u>الصف الأول</u>
<u>الصف الثاني</u>	<u>الصف الثاني</u>	<u>الصف الثاني</u>
<u>الصف الثالث</u>	<u>الصف الثالث</u>	<u>الصف الثالث</u>
<u>الصف الرابع</u>	<u>الصف الرابع</u>	<u>الصف الرابع</u>
<u>الصف الخامس</u>	<u>الصف الخامس</u>	<u>الصف الخامس</u>
<u>الصف السادس</u>	<u>الصف السادس</u>	<u>الصف السادس</u>
<u>الصف السابع</u>	<u>الصف السابع</u>	<u>الصف السابع</u>
<u>الصف الثامن</u>	<u>الصف الثامن</u>	<u>الصف الثامن</u>
<u>الصف التاسع عام</u>	<u>الصف التاسع عام</u>	<u>الصف التاسع عام</u>
<u>الصف التاسع متقدم</u>	<u>الصف التاسع متقدم</u>	<u>الصف التاسع متقدم</u>
<u>الصف العاشر عام</u>	<u>الصف العاشر عام</u>	<u>الصف العاشر عام</u>
<u>الصف العاشر متقدم</u>	<u>الصف العاشر متقدم</u>	<u>الصف العاشر متقدم</u>
<u>الحادي عشر عام</u>	<u>الحادي عشر عام</u>	<u>الحادي عشر عام</u>
<u>الحادي عشر متقدم</u>	<u>الحادي عشر متقدم</u>	<u>الحادي عشر متقدم</u>
<u>ثاني عشر عام</u>	<u>الثاني عشر عام</u>	<u>الثاني عشر عام</u>
<u>ثاني عشر متقدم</u>	<u>الثاني عشر متقدم</u>	<u>الثاني عشر متقدم</u>



ورقة عمل () للفصل الدراسي الثالث 2018 / 2019

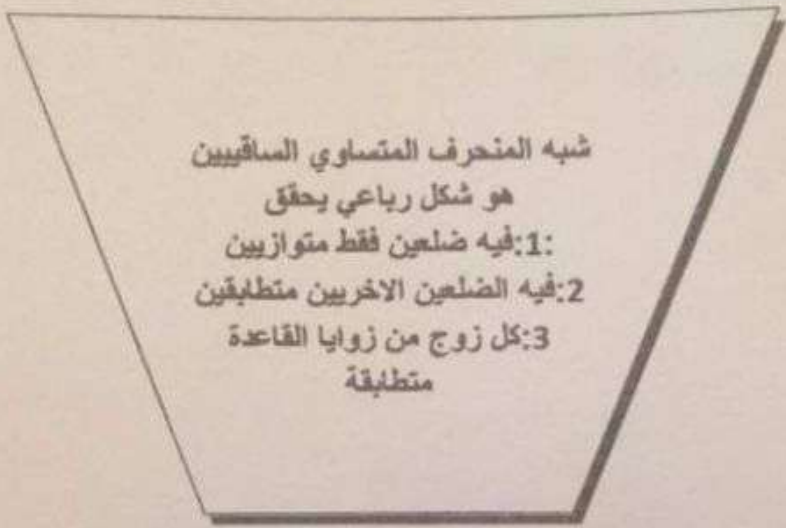
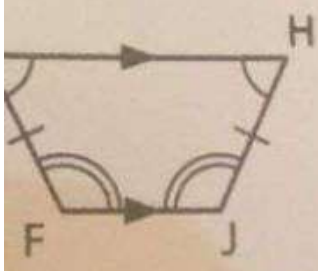
التاريخ : 1.5.1.....

المجالس :

الاسم :

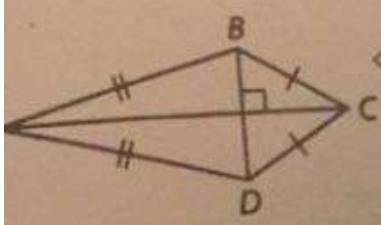
رياضيات :

الاشكال الهندسية



شبه المنحرف المتساوي الساقين
هو شكل رباعي يحقق
1: فيه ضلعين فقط متوازيين
2: فيه الضلعين الاخرين متطابقين
3: كل زوج من زوايا القاعدة
متطابقة

alManahj.com/ae



الطائرة الورقية هو شكل
رباعي يحقق:
1: اقطاره متعامدة
2: فيه فقط زوج واحد
من الزوايا متطابقة

رؤيتنا : بناء الشخصية الطلابية القادرة على التواصل مع المجتمع ومواكبة التطور العلمي والتقني

رؤيتنا : بناء التحصيل

من آثار المس
استمرار المصن
من الصورة المص



ورقة عمل () للفصل الدراسي الثالث 2018 / 2019

الصف:

التاريخ: / / 19

المادة: رياضيات

الاسم:

الاشكال الهندسية

متوازي الأضلاع: شكل رباعي يحقق مايلي :

- 1: كل ضلعين متقابلين متوازيين
- 2: كل ضلعين متقابلين متطابقين
- 3: الزوايا المتتالية مجموعها 180
- 4: كل زوج من الزوايا المتقابلة متطابقة
- 5: أقطاره متقاطعة

المعين: هو متوازي أضلاع يحقق خواص متوازي الأضلاع بالإضافة

- 1: جميع أضلاعه متطابقة
- 2: أقطاره متعامدة
- 3: الأقطار تنصف الزوايا

المستطيل: هو متوازي أضلاع يحقق خواص متوازي الأضلاع بالإضافة لذلك:

- 1: زواياه الأربعة قائمة
- 2: أقطاره متطابقة

المربع :

يحقق خواص المعين والمستطيل معاً

رؤيتنا : بناء الشخصية الطلابية القادرة على التواصل مع المجتمع ومواكبة التطور العلمي والتقني