

تم تحميل هذا الملف من موقع المناهج الإماراتية



الملف أوراق عمل نموذج امتحاني

[موقع المناهج](#) ⇨ [المناهج الإماراتية](#) ⇨ [الصف الحادي عشر](#) ⇨ [اجتماعيات](#) ⇨ [الفصل الأول](#)

روابط مواقع التواصل الاجتماعي بحسب الصف الحادي عشر



روابط مواد الصف الحادي عشر على تلغرام

[الرياضيات](#)

[اللغة الانجليزية](#)

[اللغة العربية](#)

[التربية الاسلامية](#)

المزيد من الملفات بحسب الصف الحادي عشر والمادة اجتماعيات في الفصل الأول

تربية وطنية تحميل كتاب الطالب	1
تحميل دليل المعلم	2
أوراق عمل	3
تحميل دليل المعلم	4
ورقة عمل رقم (1)	5

أولاً: اقرأ النص الآتي، ثم أجب موظفاً مهارتي الفهم والتحليل:

لم تكن المهمة التي واجهت الشيخ زايد بن سلطان آل نهيان - رحمه الله - منذ أول يوم من توليه حكم أبوظبي في عام 1966 مهمة يسيرة بأي حال من الأحوال، إذ كان عليه أن يبني مجتمعاً جديداً في زمن قياسي، فمن العبارات التي قالها الشيخ زايد - رحمه الله - لزانر بريطاني "أريد أن أحقق التنمية التي تحتاج إلى خمسة أعوام خلال عام واحد لا أكثر"، فقد كانت الخطط التنموية التي وضعت قبل توليه الحكم غير منفذة كما ينبغي بسبب عدم التزام السلطة العليا سابقاً بتنفيذها بالرغم من أنها شملت كل الأمور الرئيسية، وبتوليه الحكم وضع سياسة تنمية جديدة، وبدأ العمل في تنفيذ المشروعات بكل حماس واهتمام من قبله بأدق التفاصيل، وفي هذا الصدد كتب المعتمد البريطاني في أبوظبي معلقاً على السياسة البريطانية نحو أبو ظبي وحاكمها الجديد قائلاً: "إن الشيخ زايد هو ابن الحاضر، وهو ينظر إلى العالم كما هو الآن لا كما كان يراه من قبل ...، وأعتقد أن علينا أن نمد إليه يد التعاون سياسياً واقتصادياً ...".

منذ اللحظة الأولى بدأ أن حجم العمل المطلوب تنفيذه سيكون كبيراً بدرجة لم تعرفها المنطقة من قبل، فقد بلغت الميزانية المقترحة عام 1967 بالدينار البحريني المعتمد في أبوظبي في ذلك الوقت، 74 مليون دينار بحريني خصص منها 35 مليون دينار لإقامة بنية تحتية في الإمارة، وبلغت التكلفة الإجمالية لمشروعات التنمية حسب الخطة الموضوعية 39 مليون دينار، أنفق منها 4 ملايين على الصرف الصحي، و3 ملايين على المستشفيات والمراكز الصحية، و3 ملايين على المرحلة الأولى لإنشاء ميناء بحري لأبوظبي، وخصص مبلغ 3 مليون لبرنامج الإسكان، في حين خصص مبلغ نصف مليون دينار بشكل مبدئي للإنفاق على التعليم، لقد حرص الشيخ زايد بن سلطان آل نهيان - رحمه الله - على وجه السرعة على تقويم الأوضاع السابقة وإدارة عملية التنمية التي كانت معطلة قبل توليه الحكم، فاهتم بتنفيذ الخطط والمشروعات التي كانت مقترحة إلى أن يتم وضع خطة جديدة وبرنامجاً شاملاً لكل نواحي الحياة وبميزانية تفصيلية.

➤ بم تفسر:

1. صعوبة المهمة التي واجهت الشيخ زايد - رحمه الله - منذ توليه حكم أبوظبي عام 1966؟

.....*

2. اهتمام وتركيز الشيخ زايد - رحمه الله - على البنية التحتية ومشاريع التنمية في إمارة أبوظبي؟

.....*

➤ اختر لكل عبارة مما يلي أحد البدائل التي تناسبها:

3. "أريد أن أحقق التنمية التي تحتاج إلى خمسة أعوام خلال عام واحد لا أكثر"

نستنتج من العبارة، أن الشيخ زايد بن سلطان آل نهيان - رحمه الله - كان:

a. عجولاً في قراراته b. حريصاً على مصلحة شعبه c. يحب المنافسة d. لا يهتم بالتفاصيل

4. بدأ الشيخ زايد - رحمه الله - عام 1967 إدارة عملية التنمية معتمداً على:

a. الخطط والمشروعات السابقة b. المخططات البريطانية c. المساعدات البحرينية d. الإمارات المجاورة


ثانياً: حلل الأشكال الآتية، ثم أجب:

يبقى الوقود الحيوي من أكثر مصادر الطاقة إثارة للجدل رغم اعتباره مصدراً بديلاً للطاقة، فهو يساعد في تأمين طاقة نظيفة، ولكنه في الوقت نفسه يهدد بالمخاطرة بالأمن الغذائي.

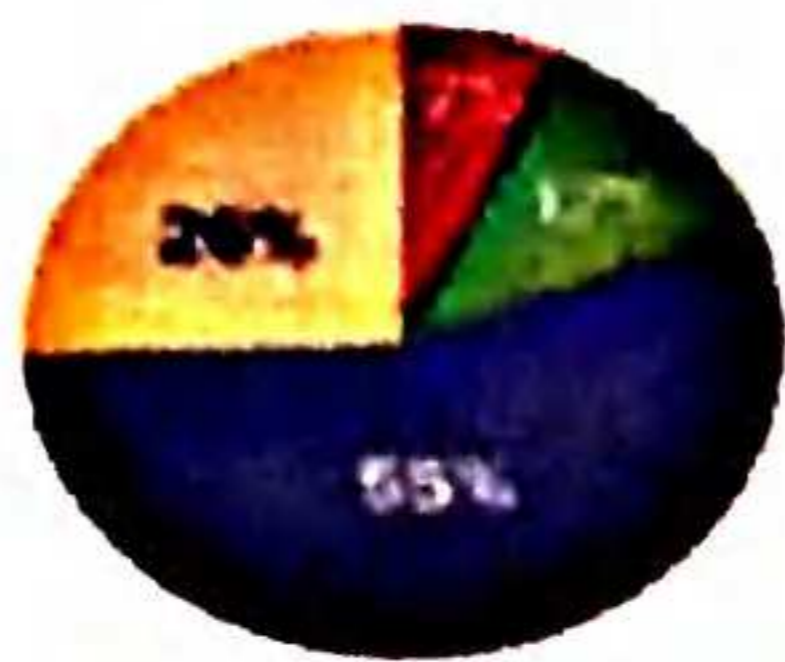


الإيثانول
88.2=100% مليار لتر

الديزل الحيوي
19.5=100% مليار لتر



الذرة
قصب السكر
فول الصويا
بنور اللفت
نخيل الزيت
محاصيل أخرى



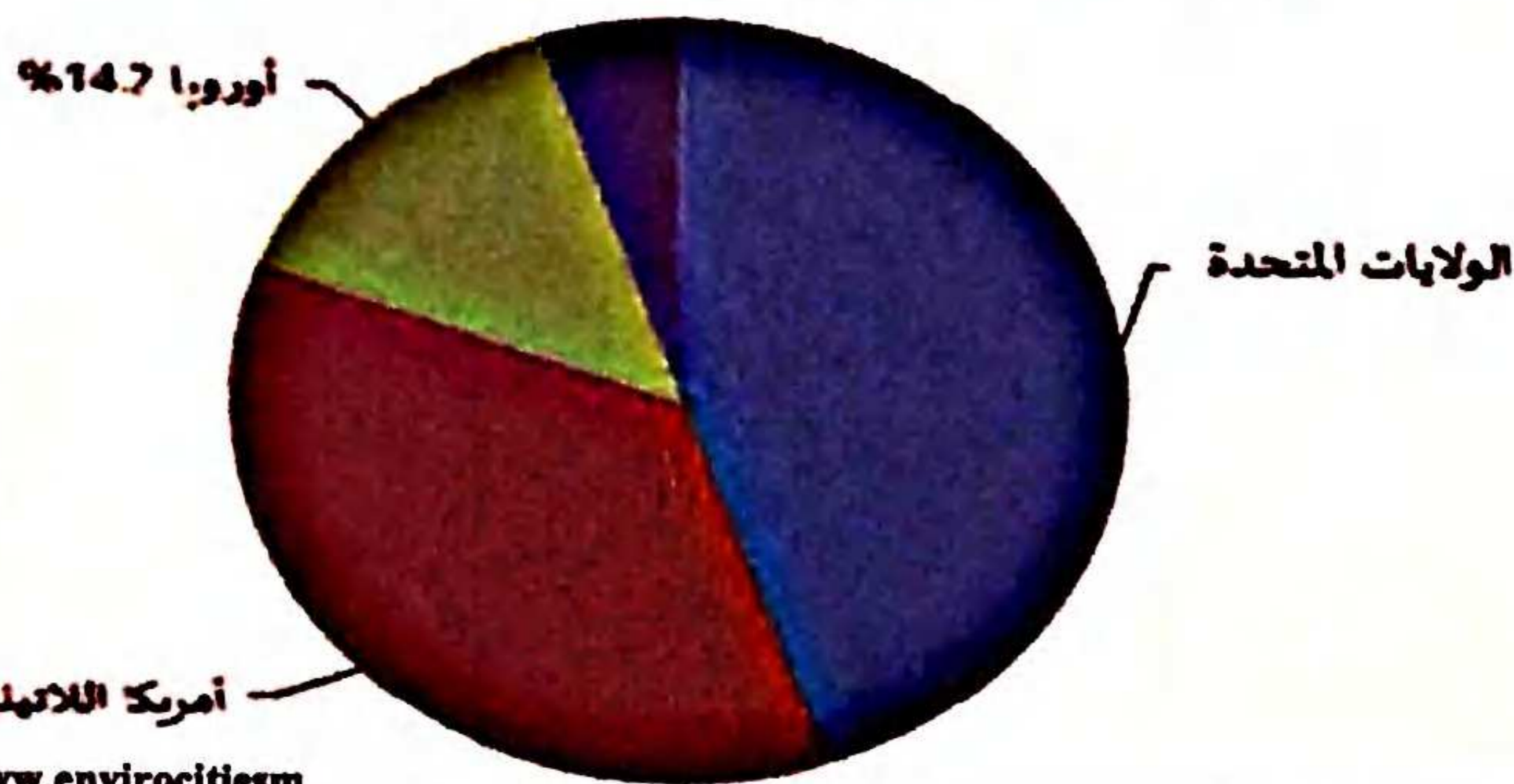
الولايات المتحدة
البرازيل
الاتحاد الأوروبي
أماكن أخرى

<https://www.envirocitiesmag.com>

حصص الوقود الحيوي في الأسواق العالمية والإقليمية 2010

آسيا والمحيط الهادي

أفريقيا والشرق الأوسط 0.1%



<https://www.envirocitiesm>

استطلاع «أفد» حول عادات الاستهلاك في المنطقة العربية



4. هل أنت على استعداد لتغيير عاداتك في الأكل حفاظاً على موارد المياه والطاقة؟ مثلاً: من الرز إلى الباستا، أو من اللحم إلى السمك



2. هل تقبل بأن تدفع أكثر مقابل المياه والكهرباء والوقود إذا كانت الزيادة ستساعد في حماية البيئة وسيتم التعويض عنها بخدمات اجتماعية إضافية مباشرة؟

<http://www.afedon>

11. كون تعريفاً يوضح المقصود بالوقود الحيوي.

..... *

12. هل تُعد نسب الاستجابات الواردة في استطلاع "أفد" نحو مشاريع الاستدامة مؤشراً إيجابياً أم سلبياً؟ ولماذا؟

..... الإجابة: السبب:

➤ بم تفسر:

13. تصدر الولايات المتحدة حصة الوقود الحيوي في الأسواق العالمية والإقليمية عام 2010.

..... *

14. غياب دول المنطقة العربية من قائمة الدول المتصدرة للطاقة الحيوية.

..... *

15. هل تؤيد تزايد استخدام الوقود الحيوي عربياً كبديل للطاقة؟ وضح السبب.

..... الإجابة: السبب:

16. أنت صاحب قرار في تحديد نوع الوقود الذي يمكن زيادة استثماره في دولة الإمارات مستقبلاً، اختر أحد أنواع الوقود التي بين

القوسين، مع التبرير. (الاحفوري / الحيوي / المتجدد)

..... المبرر:

ثالثاً: ادرس الحالة الآتية، ثم أجب:

ذهبت الطالبة علياء بالمرحلة الثانوية (17 عاماً) لسحب أموال من أحد المصارف، واكتشفت أن رصيد حسابها يقل حوالي 1100 دولار أمريكي عما كان متوقعاً، فظنت في البداية أنها ضحية عملية احتيال، فعزمت على الاتصال بالشرطة، وكان ذلك حتى سلمها مدير المصرف قائمة بالمعاملات التي أجرتها على مدى الأشهر السبعة الماضية حتى تتأكد منها، وحينئذ علمت أنها هي التي أنفقت المال باندفاع على المشتريات التي لم تكن بحاجة إليها.

بعد أن أصيبت علياء بالصدمة وخيبة الأمل الكبيرة في نفسها، فتحت حساباً مصرفياً على الإنترنت حتى تتابع إنفاقها، وعلى الرغم من كل ذلك، فإنها تشعر بالامتنان أنها تعلمت درساً هاماً وهي في عمر (17) وليس بعد (15) عاماً عندما أصبح لديها أطفال تطعمهم وعليها قرض عقاري تدفعه، فقد تعلمت الآن أن تتابع معاملات بطاقة الخصم الخاصة بها، وأصبحت مسؤولة عن الشؤون المالية لنفسها، وكتبت قائلة: "على الرغم من أن الأمر بدا لي وكأنه نهاية العالم، إلا أن ذلك كان في نهاية المطاف هو أفضل خطأ ارتكبته في حياتي".

17. ما سبب الموقف المحرج الذي تعرضت له علياء؟

.....*

➤ هل تؤيد:

18. احتفاظ المصرف بسجل لمعاملاتك المالية بشكل دائم.	نعم / لا	السبب:
19. امتلاك الشباب في سن (17) عاماً حساباً مصرفياً.	نعم / لا	السبب:

20. لماذا اعتبرت علياء أن ما حدث لها يُعد أفضل خطأ ارتكبته في حياتها؟

.....*

21. كيف يمكنك أن تحمي نفسك من الوقوع في نفس مأزق علياء؟

.....*

22. قدم نصيحة تجنب المستهلكين من الشراء المندفع:

.....*

23. من خلال دراستك للحالة، هل تعتقد أن علياء بعد 15 عاماً قد استفادت من الدرس الذي تعلمته؟ برأيك لماذا؟

الإجابة:

المبرر:

رابعاً: اقرأ النص الآتي قراءة تحليلية، ثم أجب:

حضارة الإمارات في العصر الحجري المتأخر (6000 ق.م - 3500 ق.م)

عُثِر في هذه الحقبة على أول دليل بوجود مستوطنة سكانية في منطقة الإمارات، واستكشفت فيها آثار لجماعات بدوية عاشت على الصيد وتجميع النباتات، بالإضافة إلى مقابر جماعية عدّة في جبل "البحيص" بالشارقة، وأدوات ورؤوس حراب في جزيرتي "دلما" و"مروح" بأبوظبي، وقد تميزت هذه الحقبة بظهور الأواني الفخارية، بدلالة ما استكشفت منها بكثرة في الشارقة، وأم القيوين ورأس الخيمة، وأبوظبي. ويُعتقد أنّ آثاراً من هذا النوع تعود إلى ما كان يُسمّى بـ"فترة الغبيد"، التي تُعد جزءاً من العصر الحجري المتأخر، وتعود بداياتها إلى أواخر الألف السادس قبل الميلاد.

حضارة الإمارات في العصر البرونزي (3200 ق.م - 1300 ق.م)، وتنقسم هذه الحضارة إلى ثلاث حقبة زمنية:

حقبة جبل حفيت تمتد هذه الحقبة من 3200 ق.م إلى 2500 ق.م، وسمّيت بهذا الاسم نسبة إلى المدافن التي عُثِر عليها في "جبل حفيت" بالقرب من منطقة العين التابعة لإمارة أبوظبي، والتي تمتاز بكونها جماعية وصغيرة، وشبيهة بخلايا النحل، ويتزامن تاريخها مع ازدهار صناعة النحاس. أما في مجال الزراعة فقد عُثِر في منطقة "العين" على آثار لمستوطنة زراعية ضخمة كانت تقوم على زراعة الذرة والقمح، إنّ أهم الآثار المكتشفة في هذه الحقبة هي: المقابر الجماعية والمستوطنات القديمة في "جبل حفيت" ومنطقة "هيلي" في العين بأبوظبي، وكذلك المقابر الجماعية في جبل "إميلج" قرب منطقة «الذيد» بالشارقة، وبدل هذا الانتشار الحضاري الواسع على أهمية منطقة العين منذ ذلك التاريخ.

حقبة أم النار تمكنت البعثات الأثرية من اكتشاف آثار مشابهة لآثار "أم النار" في شمال الإمارات مثل: "المويهات" في عجمان، و"الأبرك" في أم القيوين، و"البديّة" في الفجيرة، و"كلباء" في الشارقة و"شمل" في رأس الخيمة. وتمتد هذه الحقبة من 2500 ق.م إلى 2000 ق.م. فقد لحقت حضارة حفيت، وسبقت حضارة وادي سوق، ولقد عُثِر فيها على نحو أربعين تلاً دفيناً، والكثير من القبور مستديرة الشكل، ومدافن جماعية عدّة اتسمت بضخامة حجمها، كما وجدت آثار لمستوطنة قريبة من هذه المدافن بها مساكن مبنية من الحجر، وتحوي قطعاً من الأواني الحجرية شبيهة بالأواني الجنائزية، وأدوات أخرى كانت تستخدم في الطبخ، ما يدل على أن هذه المساكن تعود لفترة القبور ذاتها، كما عُثِر على كسرات فخارية من نوع الأوعية الحمراء، وعظاماً للماشية، والأسماك، والسلاحف، والجمال، وأدوات نحاسية، تدل جميعها على مدى اعتماد إنسان تلك الحقبة على مهنة الصيد. ومثلت حقبة "أم النار" ذروة حضارة العصر البرونزي؛ إذ شهدت قيام روابط تجارية متينة مع حضارة ما بين النهرين وحضارة "هرايا" في وادي السند-باكستان حالياً.

حقبة وادي سوق تمتد هذه الحقبة من 2000 ق.م إلى 1300 ق.م. وسميت بهذا الاسم نسبة إلى أحد المواقع في "وادي سوق" بين العين وساحل عُمان. وأهم المكتشفات الأثرية في هذه الحقبة هي العثور على عدد من المقابر ورؤوس الرماح، والأواني والجواهر المشغولة من الذهب والفضة في مناطق: "شمل" برأس الخيمة، و"خور فكان" و"جبل البحص" بالشارقة، و"القصب" بدبي. وتدلنا تلك المكتشفات على تراجع حضاري في هذه الفترة؛ إما للتغيرات المناخية القاسية، أو لتوقف التجارة الخارجية للنحاس إلى بلاد ما بين النهرين.

حضارة الإمارات في العصر الحديدي (1300 ق.م - 300 ق.م)

تدلنا المكتشفات الأثرية في هذه الحقبة أن منطقة الإمارات إبانها كانت في أوج ازدهارها وتطورها الحضاري. فقد تميّزت بظهور أول استخدام لنظام "الأفلاج" الذي أتاح استخراج المياه الجوفية ومواصلة الزراعة في مناخ جاف. وشهدت أول ظهور للكتابة، وبلغ عدد المواقع الأثرية العائدة لها 26 موقعاً موزعاً على مناطق الإمارات كافة، ومن أهم الآثار المكتشفة في هذه الحقبة، فهي عبارة عن: "قري تستخدم نظام الأفلاج" في مناطق: "رميلة وجرن بنت سعود" في العين بأبوظبي، و"الثقبة وأم صفاة" في الشارقة، ومستوطنات ضخمة مُحصّنة في مناطق: "مويلج" و"تل أبرق" في أم القيوين والشارقة.

24. اعتمدت أطول حضارة استوطنت منطقة الإمارات، على الأواني:

a. الفخارية b. البرونزية c. الحديدية d. النحاسية

25. يقصد بحضارة ما بين النهرين الواردة في النص:

a. تركيا b. الهند c. العراق d. بلاد الشام

➤ دلتل من النص لكل مما يلي:

26. أهمية منطقة العين منذ العصور القديمة.

*

27. اعتماد سكان حقبة "أم النار" على مهنة الصيد.

*

➤ بم تفسر:

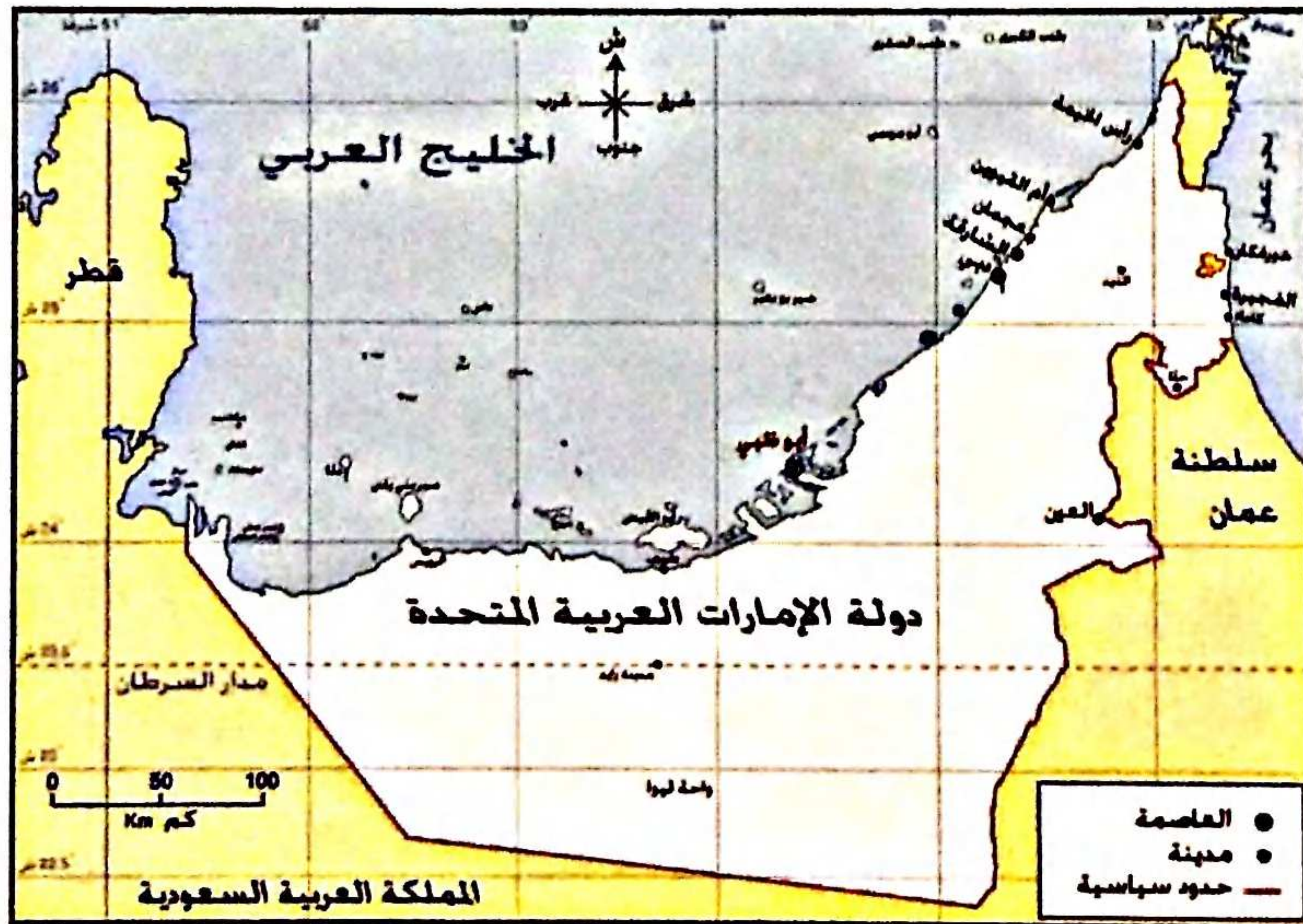
28. وجود آثار لمستوطنة زراعية ضخمة في منطقة العين خلال حقبة "جبل حفيت".

*


29. اعتبار العصر الحديدي هو أوج الازدهار والتطور الحضاري لمنطقة الإمارات.

*

30. ظلل على خريطة دولة الإمارات العربية المتحدة الآتية، امتداد حضارة الإمارات خلال حقبة "وادي سوق".



31. اقرأ الخبر الآتي، واستخلص الرسالة التي هدف سموه أن يوصلها لشعب الإمارات والعالم.



أعلن صاحب السمو الشيخ محمد بن راشد آل مكتوم، نائب رئيس الدولة رئيس مجلس الوزراء حاكم دبي، اعتماد شعار إكسبو 2020 وقال سموه، "إن الشعار الجديد مستوحى من مشغولات ذهبية لمشغل عمره 4000 عام واسمه ساروق الحديد".

*