

تم تحميل هذا الملف من موقع المناهج الإماراتية

### الملف المراجعة العامة الأولى

[موقع المناهج](#) ⇨ [المناهج الإماراتية](#) ⇨ [الصف الثاني عشر](#) ⇨ [اجتماعيات](#) ⇨ [الفصل الثالث](#)

### روابط مواقع التواصل الاجتماعي بحسب الصف الثاني عشر

--	--	--	--

### روابط مواد الصف الثاني عشر على تلغرام

<a href="#">الرياضيات</a>	<a href="#">اللغة الانجليزية</a>	<a href="#">اللغة العربية</a>	<a href="#">التربية الاسلامية</a>
---------------------------	----------------------------------	-------------------------------	-----------------------------------

### المزيد من الملفات بحسب الصف الثاني عشر والمادة اجتماعيات في الفصل الثالث

<a href="#">حل الوحدة الاولى</a>	1
<a href="#">اوراق عمل عددها 68</a>	2
<a href="#">دفتر نشاط فصل ثالث</a>	3
<a href="#">اوراق مراجعة</a>	4
<a href="#">مراجعة عامة للخرائط</a>	5

# الصف الثاني عشر



أقرأ الفقرة الآتية الواردة في النص المجاور ثم أجب :

2 علامة

1-1

أي من التالي يصف التغيرات في مجال الطاقة

a. نقص ابتكار الناتج على حساب تكاليف نفقات رأسمالية أقل ومدد زمنية أطول

b. زيادة ابتكار الناتج على حساب تكاليف نفقات رأسمالية أكبر ومدد زمنية أطول

c. زيادة ابتكار الناتج على حساب تكاليف نفقات رأسمالية أقل ومدد زمنية قصيرة

d. زيادة ابتكار التكاليف على حساب الناتج نفقات رأسمالية أكبر ومدد زمنية أطول

إن المرة الأخيرة التي حدث فيها تحول ساحق في مجال مزيج الطاقات العالمية، كانت عندما أصبح النفط مصدر الطاقة الأول على الصعيد العالمي، ويمكن لتذكر ما حدث آنذاك مساعدتنا في فهم ما يمكن أن يجري الآن بشكل أفضل. وبعد مرور أكثر من قرن من قيام الكولونيل دريك للمرة الأولى بالتنقيب عن النفط في بنسلفانيا عام 1859، فقد طُت المنتجات النفطية شيئاً فشيئاً محل الفحم (بالإضافة إلى الخشب وفضلات الحيوانات) في معظم أسواقها السابقة (الشكل 5)، وأصبحت الوقود المفضل لوسائل النقل بطول منتصف عشرينات القرن العشرين، واستبدلت الفحم في وسائل النقل على السكك الحديدية وفي البحر بأواخر خمسينات القرن العشرين. وبتحلول منتصف ستينات القرن العشرين، تفهق النفط

من ناحية العرض، وبعد أكثر من قرن زاد خلاله كل ابتكار الناتج على حساب تكاليف نفقات رأسمالية أكبر ومدد زمنية أطول، فإن التكنولوجيا الصخرية تعمل على تحويل إنتاج النفط والغاز إلى قطاع يعمل بدورات أكثر سرعة، مما يزيد من إمكانية بدء عملية أو إيقافها ضمن إطار زمني قصير نسبياً، والاستجابة لأوضاع السوق مع الإبقاء على التكلفة المنخفضة للبرميل الواحد بشكل كافٍ للمنافسة. ونتيجة لذلك، زادت الولايات المتحدة إلى حد كبير إنتاجها من الغاز والنفط (الشكل 6) لتستعيد مكانتها السابقة كمنتج رائد، ولتشكل مصدر التحدي الأكبر لدول "أوبك" منذ نشأتها، ولعل الأمر الأكثر أهمية على المدى الطويل هو أن طبيعة قصر دورة إنتاج النفط والغاز تعمل على تغيير آليات سوق المنتجات الهيدروكربونية عالمياً.

عَمَر

2022

أقرأ الفقرة الآتية الواردة في النص المجاور ثم أجب :

2 علامة

1-2

المررة الأخيرة التي حدث فيها تحول في مجال مزيج الطاقة العالمية

عندما أصبحت الطاقة الشمسية مصدر الطاقة الأولى

a.

عندما أصبحت طاقة النفط مصدر الطاقة الأولى

b.

عندما أصبحت طاقة الرياح مصدر الطاقة الأولى

c.

عندما أصبحت الطاقة النووية مصدر الطاقة الأولى

d.

إن المرة الأخيرة التي حدث فيها تحول ساحق في مجال مزيج الطاقات العالمية، كانت عندما أصبح النفط مصدر الطاقة الأول على الصعيد العالمي، ويمكن لتذكر ما حدث آنذاك مساعدتنا في فهم ما يمكن أن يجري الآن بشكل أفضل. وبعد مرور أكثر من قرن من قيام الكولونيل دريك للمرة الأولى بالتنقيب عن النفط في بنسلفانيا عام 1859، فقد طُت المنتجات النفطية شيئاً فشيئاً محل الفحم (بالإضافة إلى الخشب وفضلات الحيوانات) في معظم أسواقها السابقة (الشكل 5)، وأصبحت الوقود المفضل لوسائل النقل بطول منتصف عشرينات القرن العشرين، واستبدلت الفحم في وسائل النقل على السكك الحديدية وفي البحر بأواخر خمسينات القرن العشرين. وبحلول منتصف ستينات القرن العشرين، تفهق النفط

من ناحية العرض، وبعد أكثر من قرن زاد خلاله كل ابتكار الناتج على حساب تكاليف نفقات رأسمالية أكبر ومدد زمنية أطول، فإن التكنولوجيا الصخرية تعمل على تحويل إنتاج النفط والغاز إلى قطاع يعمل بدورات أكثر سرعة، مما يزيد من إمكانية بدء عملية أو إيقافها ضمن إطار زمني قصير نسبياً، والاستجابة لأوضاع السوق مع الإبقاء على التكلفة المنخفضة للبرميل الواحد بشكل كافٍ للمنافسة. ونتيجة لذلك، زادت الولايات المتحدة إلى حد كبير إنتاجها من الغاز والنفط (الشكل 6) لتستعيد مكانتها السابقة كمنتج رائد، ولتشكل مصدر التحدي الأكبر لدول "أوبك" منذ نشأتها، ولعل الأمر الأكثر أهمية على المدى الطويل هو أن طبيعة قصر دورة إنتاج النفط والغاز تعمل على تغيير آليات سوق المنتجات الهيدروكربونية عالمياً.

عَمَر

2022

أقرأ الفقرة الآتية الواردة في النص المجاور ثم أجب :

2 علامة

1-3

النتيجة المترتبة على قصر دورة الغاز والنفط هي

a. تغير سوق المنتجات الكربونية عالمياً

b. تغير سوق المنتجات الكربونية عالمياً لدول غير المنتجة للنفط

c. تغير سوق المنتجات الكربونية للدول المنتجة للنفط في الخليج

d. تغير سوق المنتجات الهيدروكربونية عالمياً

إن المرة الأخيرة التي حدث فيها تحول ساحق في مجال مزيج الطاقات العالمية، كانت عندما أصبح النفط مصدر الطاقة الأول على الصعيد العالمي، ويمكن لتذكر ما حدث آنذاك مساعدتنا في فهم ما يمكن أن يجري الآن بشكل أفضل. وبعد مرور أكثر من قرن من قيام الكولونيل دريك للمرة الأولى بالتنقيب عن النفط في بنسلفانيا عام 1859، فقد حلت المنتجات النفطية شيئاً فشيئاً محل الفحم (بالإضافة إلى الخشب وفضلات الحيوانات) في معظم أسواقها السابقة (الشكل 5)، وأصبحت الوقود المفضل لوسائل النقل بطول منتصف عشرينات القرن العشرين، واستبدلت الفحم في وسائل النقل على السكك الحديدية وفي البحر بأواخر خمسينات القرن العشرين. وبحلول منتصف ستينات القرن العشرين، تفهق النفط

من ناحية العرض، وبعد أكثر من قرن زاد خلاله كل ابتكار الناتج على حساب تكاليف نفقات رأسمالية أكبر ومدد زمنية أطول، فإن التكنولوجيا الصخرية تعمل على تحويل إنتاج النفط والغاز إلى قطاع يعمل بدورات أكثر سرعة، مما يزيد من إمكانية بدء عملية أو إيقافها ضمن إطار زمني قصير نسبياً، والاستجابة لأوضاع السوق مع الإبقاء على التكلفة المنخفضة للبرميل الواحد بشكل كافٍ للمنافسة. ونتيجة لذلك، زادت الولايات المتحدة إلى حد كبير إنتاجها من الغاز والنفط (الشكل 6) لتستعيد مكانتها السابقة كمنتج رائد، ولتشكل مصدر التحدي الأكبر لدول "أوبك" منذ نشأتها، ولعل الأمر الأكثر أهمية على المدى الطويل هو أن طبيعة قصر دورة إنتاج النفط والغاز تعمل على تغيير آليات سوق المنتجات الهيدروكربونية عالمياً.

عَمَر

2022

أقرأ الفقرة الآتية الواردة في النص المجاور ثم أجب :

2 علامة

1-4

الهدف من زيادة الولايات المتحدة الإنتاج النفط والغاز هو

a. حتى تخفض سعر برميل النفط

b. استعادة مكانتها السابقة كدولة رائدة في الإنتاج

c. موازنة سوق العرض والطلب على النفط

d. بسبب الحروب والخلافات العالمية

إن المرة الأخيرة التي حدث فيها تحول ساحق في مجال مزيج الطاقات العالمية، كانت عندما أصبح النفط مصدر الطاقة الأول على الصعيد العالمي، ويمكن لتذكر ما حدث آنذاك مساعدتنا في فهم ما يمكن أن يجري الآن بشكل أفضل. وبعد مرور أكثر من قرن من قيام الكولونيل دريك للمرة الأولى بالتنقيب عن النفط في بنسلفانيا عام 1859، فقد طُت المنتجات النفطية شيئاً فشيئاً محل الفحم (بالإضافة إلى الخشب وفضلات الحيوانات) في معظم أسواقها السابقة (الشكل 5)، وأصبحت الوقود المفضل لوسائل النقل بطول منتصف عشرينات القرن العشرين، واستبدلت الفحم في وسائل النقل على السكك الحديدية وفي البحر بأواخر خمسينات القرن العشرين. وبحلول منتصف ستينات القرن العشرين، تفهق النفط

من ناحية العرض، وبعد أكثر من قرن زاد خلاله كل ابتكار الناتج على حساب تكاليف نفقات رأسمالية أكبر ومدد زمنية أطول، فإن التكنولوجيا الصخرية تعمل على تحويل إنتاج النفط والغاز إلى قطاع يعمل بدورات أكثر سرعة، مما يزيد من إمكانية بدء عملية أو إيقافها ضمن إطار زمني قصير نسبياً، والاستجابة لأوضاع السوق مع الإبقاء على التكلفة المنخفضة للبرميل الواحد بشكل كافٍ للمنافسة. ونتيجة لذلك، زادت الولايات المتحدة إلى حد كبير إنتاجها من الغاز والنفط (الشكل 6) لتستعيد مكانتها السابقة كمنتج رائد، ولتشكل مصدر التحدي الأكبر لدول "أوبك" منذ نشأتها، ولعل الأمر الأكثر أهمية على المدى الطويل هو أن طبيعة قصر دورة إنتاج النفط والغاز تعمل على تغيير آليات سوق المنتجات الهيدروكربونية عالمياً.

عَمَر

2022

أقرأ الفقرة الآتية الواردة في النص المجاور ثم أجب :

2 علامة

1-5

الفائدة المرجوة من التكنولوجيا الصخرية هي

a. حتى تخفض سعر برميل النفط

b. زيادة أسعار النفط

c. موازنة سوق العرض والطلب على النفط

d. تحويل انتاج النفط ليعمل بدورات أكثر سرعة

إن المرة الأخيرة التي حدث فيها تحول ساحق في مجال مزيج الطاقات العالمية، كانت عندما أصبح النفط مصدر الطاقة الأول على الصعيد العالمي، ويمكن لتذكر ما حدث آنذاك مساعدتنا في فهم ما يمكن أن يجري الآن بشكل أفضل. وبعد مرور أكثر من قرن من قيام الكولونيل دريك للمرة الأولى بالتنقيب عن النفط في بنسلفانيا عام 1859، فقد طُت المنتجات النفطية شيئاً فشيئاً محل الفحم (بالإضافة إلى الخشب وفضلات الحيوانات) في معظم أسواقها السابقة (الشكل 5)، وأصبحت الوقود المفضل لوسائل النقل بطول منتصف عشرينات القرن العشرين، واستبدلت الفحم في وسائل النقل على السكك الحديدية وفي البحر بأواخر خمسينات القرن العشرين. وبحلول منتصف ستينات القرن العشرين، تفهق النفط

من ناحية العرض، وبعد أكثر من قرن زاد خلاله كل ابتكار الناتج على حساب تكاليف نفقات رأسمالية أكبر ومدد زمنية أطول، فإن التكنولوجيا الصخرية تعمل على تحويل إنتاج النفط والغاز إلى قطاع يعمل بدورات أكثر سرعة، مما يزيد من إمكانية بدء عملية أو إيقافها ضمن إطار زمني قصير نسبياً، والاستجابة لأوضاع السوق مع الإبقاء على التكلفة المنخفضة للبرميل الواحد بشكل كافٍ للمنافسة. ونتيجة لذلك، زادت الولايات المتحدة إلى حد كبير إنتاجها من الغاز والنفط (الشكل 1) لتستعيد مكانتها السابقة كمنتج رائد، ولتشكل مصدر التحدي الأكبر لدول "أوبك" منذ نشأتها، ولعل الأمر الأكثر أهمية على المدى الطويل هو أن طبيعة قصر دورة إنتاج النفط والغاز تعمل على تغيير آليات سوق المنتجات الهيدروكربونية عالمياً.

عَمَر

2022

أقرأ الشكل الوارد ثم أجب :

عَمَر  
2022

2 علامة

2-1

الاستنتاج الملائم للشكل المجاور هو

○

تزايد استهلاك الطاقة التقليدية مع الزمن

.a

○

أكثر مصادر الطاقة انتشاراً في الوقت الحالي هو الوقود الحيوي الحديث

.b

○

التوجه في القدم نحو مصادر الطاقة المتجددة

.c

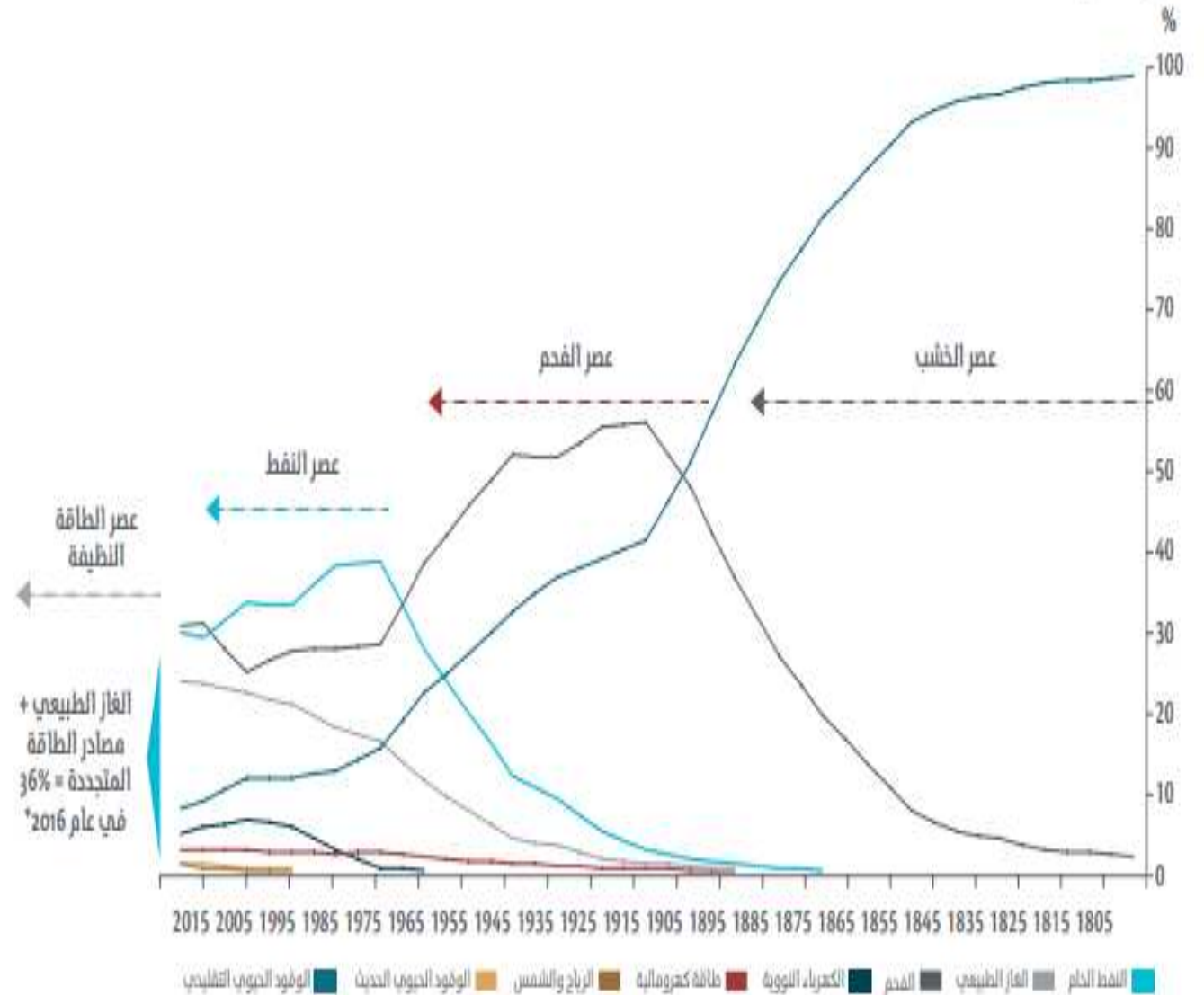
○

تراجع الاعتماد على مصادر الطاقة التقليدية

.d

حصة الاستهلاك الأولية العالمية من الطاقة

من 1800 إلى 2015





أقرأ الشكل الوارد ثم أجب :



2 علامة

2-2

كانت ذروة الاعتماد على النفط في الفترة بين عامي

0

1965-1985

a.

0

2005-2015

b.

0

1895-1925

c.

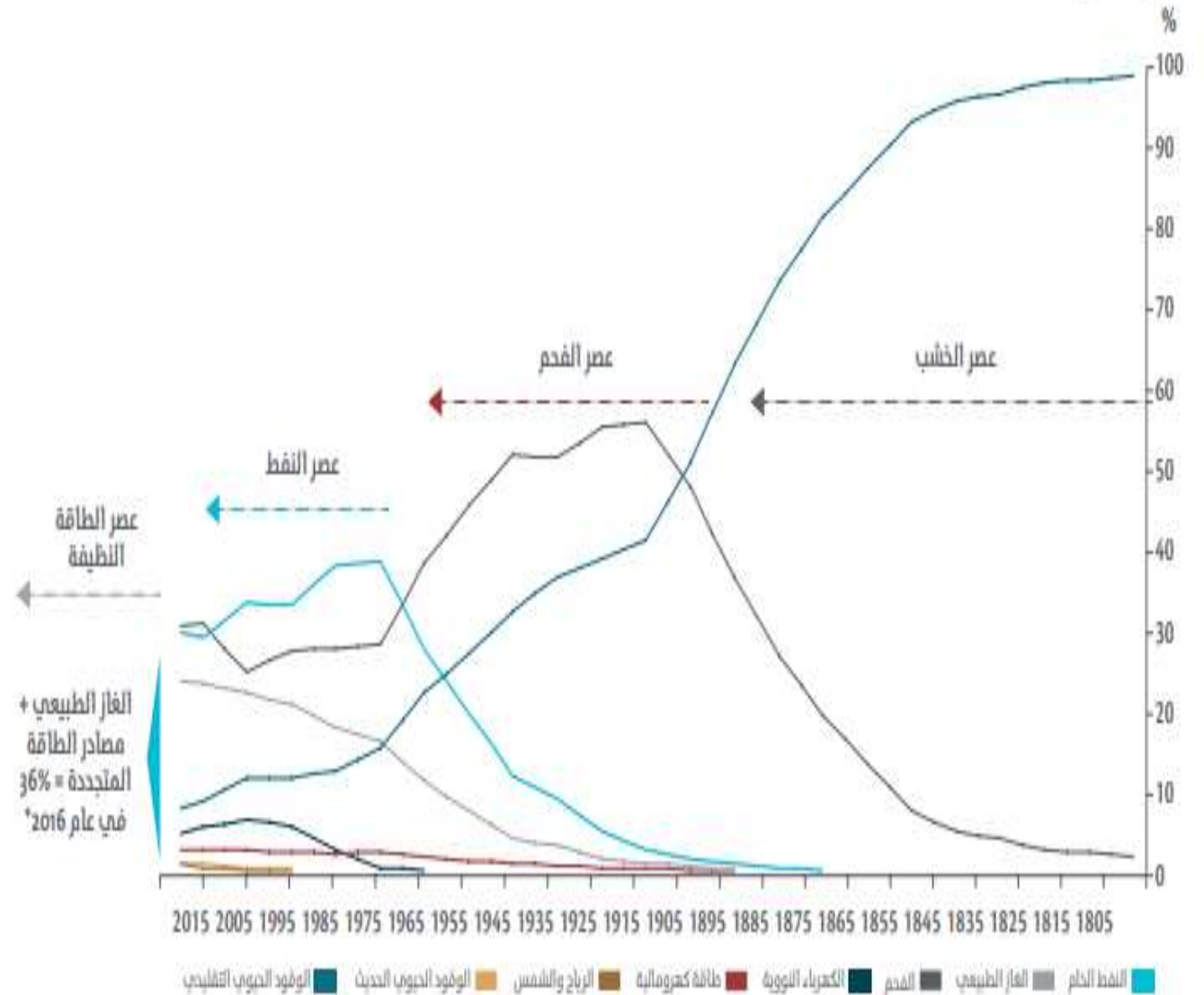
0

1805-1815

d.

حصة الاستهلاك الأولية العالمية من الطاقة

من 1800 إلى 2015



أقرأ الشكل الوارد ثم أجب :



2 علامة

2-3

هذا التطور في قطاع الطاقة يطلق عليه

○

تكنولوجيا الطاقة

a.

○

تقنيات الطاقة

b.

○

اكتشاف الطاقة

c.

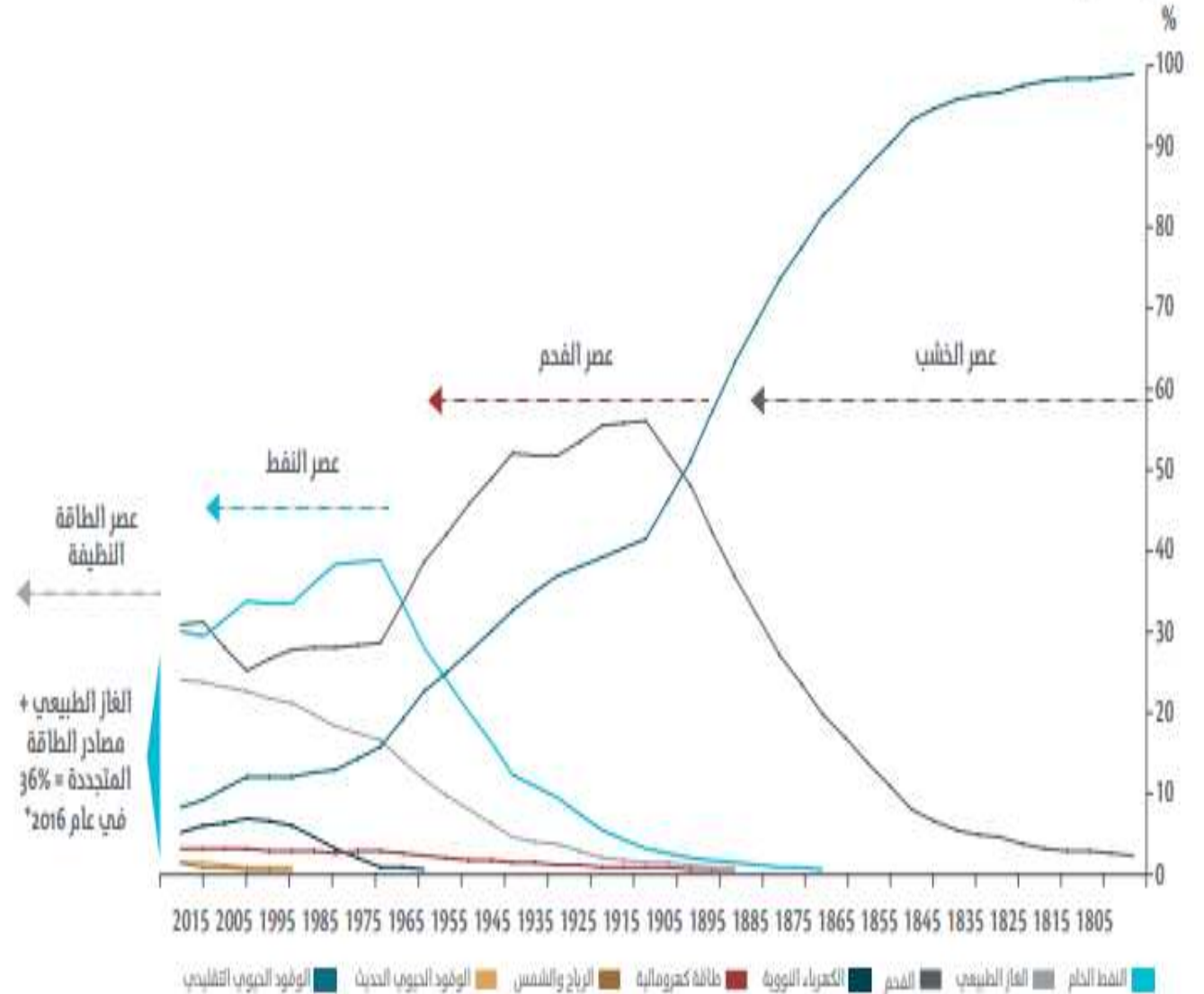
○

اختراع الطاقة

d.

حصة الاستهلاك الأولية العالمية من الطاقة

من 1800 إلى 2015





أقرأ الشكل الوارد ثم أجب :

عَمَر  
2022

2 علامة

2-5

أي من العبارات التالية تمثل الهدف من التحول إلى الطاقة المتجددة

0

أقل تلوث

a.

0

الابتعاد عن الطاقة التقليدية

b.

0

مواكبة الحاجة السريعة والمتزايدة للطاقة عالميا

c.

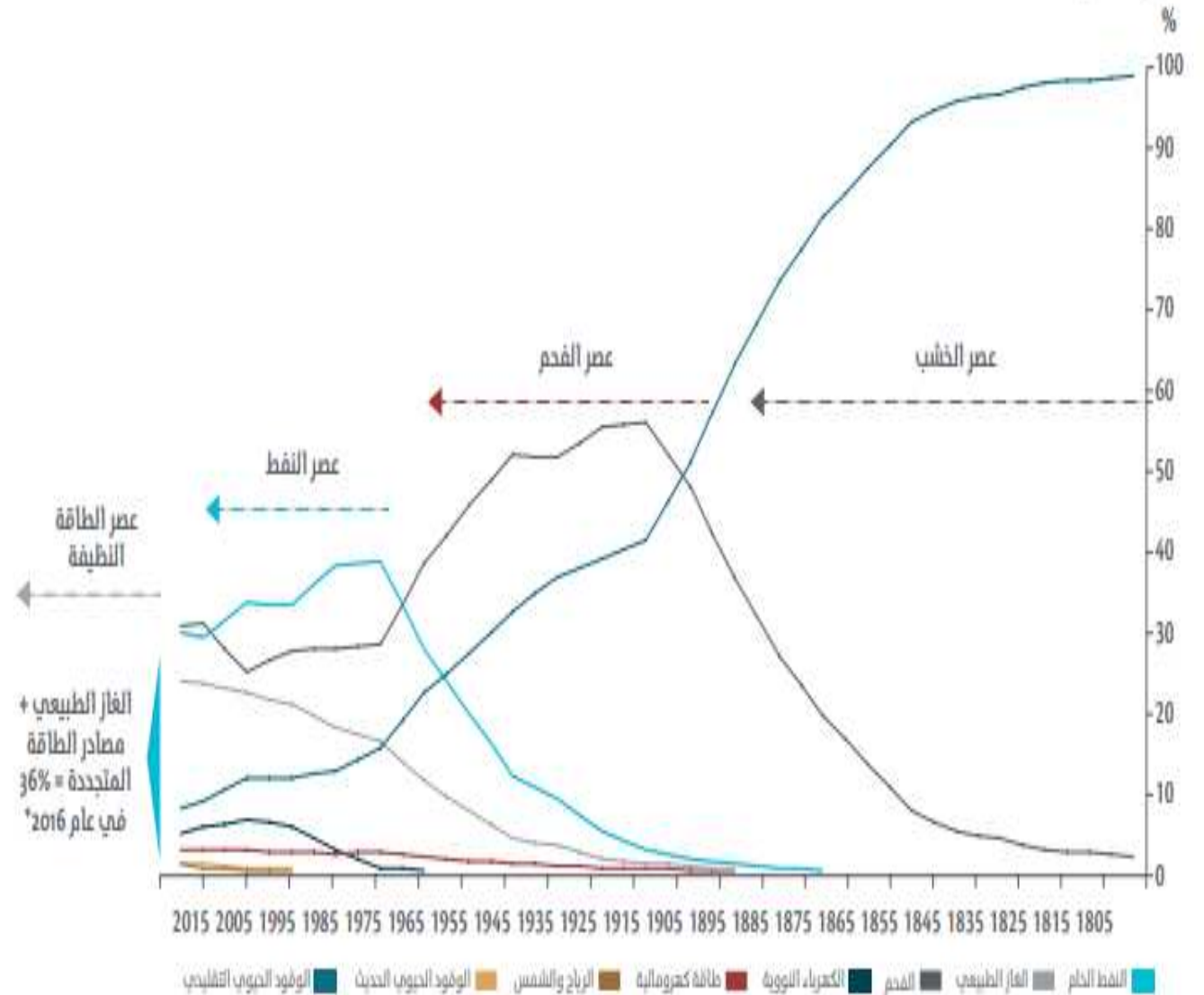
0

مواجهة احتكار الطاقة التقليدية

d.

حصة الاستهلاك الأولية العالمية من الطاقة

من 1800 إلى 2015



أقرأ الشكل الوارد ثم أجب :

2 علامة

3-1

الملاحظة الأبرز في الشكل المجاور هي

a. تراجع أسعار النفط في عام 2022

b. زيادة أسعار النفط في عام 2021

c. زيادة أسعار النفط في عام 2022

d. نذب أسعار النفط

عَمَر

2022



أقرأ الشكل الوارد ثم أجب :

2 علامة

3-2

القطاع الأكثر تأثر بارتفاع أسعار النفط هو

0

الصناعي

a.

0

التعليمي

b.

0

السياحي

c.

0

الصحي

d.

عَمَر

2022



أقرأ الشكل الوارد ثم أجب :

2 علامة

3-3

تبلغ نسبة ارتفاع الأسعار بين شهر نوفمبر وفبراير

0

15%

a.

0

31%

b.

0

25%

c.

0

20%

d.

عَمْر

2022



أقرأ الشكل الوارد ثم أجب :

2 علامة

3-4

فسر خفض أسعار النفط في عام 1973

الحرب العراقية الإيرانية

ضعف الطلب العالمي

مساعي خفض الانتاج

الحظر العربي خلال حرب 73

عَمَر

2022





أقرأ الشكل الوارد ثم أجب :

2 علامة

3-5

المعادلة التي تعبر عن العرض والطلب في الشكل

تتأثر أسعار النفط بالطلب عليه كمية العرض

تتذبذب أسعار النفط وفق الطلب والعرض المبني على الازمات

أسعار النفط لا تتغير مع قيمة العرض والطلب

عَمَر

2022



## أقرأ الفقرة و الشكل الوارد ثم أجب :

2 علامة

4-1

تساهم جائزة زايد لطاقة المستقبل في

منح جوائز مادية للعلماء

رسم آفاق التنمية المستدامة للعالم

رسم آفاق التنمية المستدامة في الامارات

نشر تقنيات الطاقة



جائزة زايد لطاقة المستقبل هي جائزة في مجال الطاقة تقدمها شركة مصدر التي هي إحدى شركات شركة مبادلة للتنمية وقد أعلن عنها محمد بن زايد آل نهيان خلال القمة العالمية لطاقة المستقبل في 2008. وتم تسليم أول جائزة منها في 2009. وتمنح سنويا لثلاث شركات صغيرة ومتوسطة ومنظمات غير حكومية، ولشركة كبيرة، ولأحد الأفراد في المجالات المتعلقة بمكافحة التغير المناخي وفي مجال تطوير مصادر الطاقة المستدامة. وتخضع الطلبات المقدمة إلى التقييم بناءً على أربعة معايير أساسية هي: التأثير، والرؤية طويلة الأمد، والقيادة، والابتكار، وذلك في الفئات التالية: الشركات الصغيرة والمتوسطة والمنظمات غير الحكومية، والشركات الكبيرة، وأفضل إنجاز شخصي في الحياة. وتبلغ قيمة الجائزة 2,2 مليون دولار وقد تم رفعها إلى 4 ملايين دولار من عام 2012. والمدير العام للجائزة هو سلطان أحمد الجابر المدير التنفيذي لمبادلة.

السنة	الفائز	البلد
2009	ديبال باروا، مؤسس ورئيس مؤسسة برايت غرين اينيرجي	بنغلاديش
2010	شركة تويوتا للسيارات	اليابان
2011	فيستاس	الدنمارك
2017	جائزة الإنجاز الشخصي للأفراد: لي جونفينج جائزة الشركات الكبيرة: جنرال إلكتريك جائزة الشركات الصغيرة والمتوسطة: سونن	الصين الولايات المتحدة ألمانيا



## أقرأ الفقرة و الشكل الوارد ثم أجب :

2 علامة

4-2

جائزة زايد لطاقة المستقبل هي جائزة في مجال الطاقة تقدمها

0

شركة مصدر

a.

0

مجمع محمد بن راشد

b.

0

مدينة شمس واحد

c.

0

مجمع ايرينا

d.



جائزة زايد لطاقة المستقبل هي جائزة في مجال الطاقة تقدمها شركة مصدر التي هي إحدى شركات شركة مبادلة للتنمية وقد أعلن عنها محمد بن زايد آل نهيان خلال القمة العالمية لطاقة المستقبل في 2008. وتم تسليم أول جائزة منها في 2009. وتمنح سنويا لثلاث شركات صغيرة ومتوسطة ومنظمات غير حكومية، ولشركة كبيرة، ولأحد الأفراد في المجالات المتعلقة بمكافحة التغير المناخي وفي مجال تطوير مصادر الطاقة المستدامة. وتخضع الطلبات المقدمة إلى التقييم بناءً على أربعة معايير أساسية هي: التأثير، والرؤية طويلة الأمد، والقيادة، والابتكار، وذلك في الفئات التالية: الشركات الصغيرة والمتوسطة والمنظمات غير الحكومية، والشركات الكبيرة، وأفضل إنجاز شخصي في الحياة. وتبلغ قيمة الجائزة 2,2 مليون دولار وقد تم رفعها إلى 4 ملايين دولار من عام 2012. والمدير العام للجائزة هو سلطان أحمد الجابر المدير التنفيذي لمبادلة.

السنة	الفائز	البلد
2009	ديبال باروا، مؤسس ورئيس مؤسسة برايت غرين اينيرجي	بنغلاديش
2010	شركة تويوتا للسيارات	اليابان
2011	فيستاس	الدنمارك
2017	جائزة الإنجاز الشخصي للأفراد: لي جونفينج جائزة الشركات الكبيرة: جنرال إلكتريك جائزة الشركات الصغيرة والمتوسطة: سونن	الصين الولايات المتحدة ألمانيا



## أقرأ الفقرة و الشكل الوارد ثم أجب :

2 علامة

4-3

ما هي معايير التقديم للجائزة

a. التأثير، والرؤية قصيرة الأمد، والقيادة، والبحث

b. التأثير، والرؤية طويلة الأمد، والقيادة، والبحث

c. التأثير، والرؤية طويلة الأمد، والقيادة، والابتكار

d. التأثير، والرؤية طويلة الأمد، والتكنولوجيا، والابتكار



جائزة زايد لطاقة المستقبل هي جائزة في مجال الطاقة تقدمها شركة مصدر التي هي إحدى شركات شركة مبادلة للتنمية وقد أعلن عنها محمد بن زايد آل نهيان خلال القمة العالمية لطاقة المستقبل في 2008. وتم تسليم أول جائزة منها في 2009. وتمنح سنويا لثلاث شركات صغيرة ومتوسطة ومنظمات غير حكومية، ولشركة كبيرة، ولأحد الأفراد في المجالات المتعلقة بمكافحة التغير المناخي وفي مجال تطوير مصادر الطاقة المستدامة. وتخضع الطلبات المقدمة إلى التقييم بناءً على أربعة معايير أساسية هي: التأثير، والرؤية طويلة الأمد، والقيادة، والابتكار، وذلك في الفئات التالية: الشركات الصغيرة والمتوسطة والمنظمات غير الحكومية، والشركات الكبيرة، وأفضل إنجاز شخصي في الحياة. وتبلغ قيمة الجائزة 2,2 مليون دولار وقد تم رفعها إلى 4 ملايين دولار من عام 2012. والمدير العام للجائزة هو سلطان أحمد الجابر المدير التنفيذي لمبادلة.

السنة	الفائز	البلد
2009	ديبال باروا، مؤسس ورئيس مؤسسة برايت غرين اينيرجي	بنغلاديش
2010	شركة تويوتا للسيارات	اليابان
2011	فيستاس	الدنمارك
2017	جائزة الإنجاز الشخصي للأفراد: لي جونفينج جائزة الشركات الكبيرة: جنرال إلكتريك جائزة الشركات الصغيرة والمتوسطة: سونن	الصين الولايات المتحدة ألمانيا



## أقرأ الفقرة و الشكل الوارد ثم أجب :

2 علامة

4-4

المجالات التي تتناولها الجائزة

بمكافحة التغير المناخي وفي مجال تطوير مصادر الطاقة المستدامة

الصحة والتعليم والطاقة

السياحة والزراعة والصناعة

البنية التحتية والتعليم والصحة



جائزة زايد لطاقة المستقبل هي جائزة في مجال الطاقة تقدمها شركة مصدر التي هي إحدى شركات شركة مبادلة للتنمية وقد أعلن عنها محمد بن زايد آل نهيان خلال القمة العالمية لطاقة المستقبل في 2008. وتم تسليم أول جائزة منها في 2009. وتمنح سنويا لثلاث شركات صغيرة ومتوسطة ومنظمات غير حكومية، ولشركة كبيرة، ولأحد الأفراد في المجالات المتعلقة بمكافحة التغير المناخي وفي مجال تطوير مصادر الطاقة المستدامة. وتخضع الطلبات المقدمة إلى التقييم بناءً على أربعة معايير أساسية هي: التأثير، والرؤية طويلة الأمد، والقيادة، والابتكار، وذلك في الفئات التالية: الشركات الصغيرة والمتوسطة والمنظمات غير الحكومية، والشركات الكبيرة، وأفضل إنجاز شخصي في الحياة. وتبلغ قيمة الجائزة 2,2 مليون دولار وقد تم رفعها إلى 4 ملايين دولار من عام 2012. والمدير العام للجائزة هو سلطان أحمد الجابر المدير التنفيذي لمبادلة.

السنة	الفائز	البلد
2009	ديبال باروا، مؤسس ورئيس مؤسسة برايت غرين اينيرجي	بنغلاديش
2010	شركة تويوتا للسيارات	اليابان
2011	فيستاس	الدنمارك
2017	جائزة الإنجاز الشخصي للأفراد: لي جونفينج جائزة الشركات الكبيرة: جنرال إلكتريك جائزة الشركات الصغيرة والمتوسطة: سونن	الصين الولايات المتحدة ألمانيا



## أقرأ الفقرة و الشكل الوارد ثم أجب :

2 علامة

4-5

تساهم شركات السيارات في استدامة الطاقة من خلال

a استخدام الطاقة المتجددة في النقل

b تطوير صناعة السيارات

c تحديث وسائل النقل

d البنية التحتية للطرق



جائزة زايد لطاقة المستقبل هي جائزة في مجال الطاقة تقدمها شركة مصدر التي هي إحدى شركات شركة مبادلة للتنمية وقد أعلن عنها محمد بن زايد آل نهيان خلال القمة العالمية لطاقة المستقبل في 2008. وتم تسليم أول جائزة منها في 2009. وتمنح سنويا لثلاث شركات صغيرة ومتوسطة ومنظمات غير حكومية، ولشركة كبيرة، ولأحد الأفراد في المجالات المتعلقة بمكافحة التغير المناخي وفي مجال تطوير مصادر الطاقة المستدامة. وتخضع الطلبات المقدمة إلى التقييم بناءً على أربعة معايير أساسية هي: التأثير، والرؤية طويلة الأمد، والقيادة، والابتكار، وذلك في الفئات التالية: الشركات الصغيرة والمتوسطة والمنظمات غير الحكومية، والشركات الكبيرة، وأفضل إنجاز شخصي في الحياة. وتبلغ قيمة الجائزة 2,2 مليون دولار وقد تم رفعها إلى 4 ملايين دولار من عام 2012. والمدير العام للجائزة هو سلطان أحمد الجابر المدير التنفيذي لمبادلة.

السنة	الفائز	البلد
2009	ديبال باروا، مؤسس ورئيس مؤسسة برايت غرين اينيرجي	بنغلاديش
2010	شركة تويوتا للسيارات	اليابان
2011	فيستاس	الدنمارك
2017	جائزة الإنجاز الشخصي للأفراد: لي جونفينج جائزة الشركات الكبيرة: جنرال إلكتريك جائزة الشركات الصغيرة والمتوسطة: سونن	الصين الولايات المتحدة ألمانيا



# الصف الثاني عشر

## كتاب الامارات تاريخنا



أقرأ الفقرة الآتية الواردة في النص المجاور ثم أجب :

2 علامة

1-1

العامل الذي فرض طريقة التعامل مع بني ياس من قبل بريطانيا

العامل الاقتصادي

العامل السياسي

العامل السكاني

العامل البني والجغرافي

بنو ياس قبيلة عربية من أقوى وأشهر القبائل ولها وجود قوي على ساحل الخليج العربي، ومن أكثر القبائل عدداً مقارنة بغيرها من قبائل المنطقة، شكلت منذ بداية التاريخ الحديث وحتى مجيء زايد بن خليفة آل نهيان (زايد الأول)، أكبر قوة برية في الإمارات العربية، ونظراً لقوة بني ياس البرية فإن السياسة البريطانية تجاه أبوظبي كانت حذرة خوفاً من التوغل في حرب مكشوفة في الصحراء، لذلك فضلت أن تتجنب الاحتكاك بهم. ينحدر من هذه القبيلة آل نهيان وآل مكتوم وهم حكام إمارة أبو ظبي ودبي على التوالي. تتألف القبيلة من مجموعة من العشائر التي خضعت لزعامة عشيرة (البوفلاح). كانت القبيلة تتخذ من الظفرة في ليوا مقراً لها وكانت أيضاً محلاً لأغلب القبائل التي رحلت مع منتصف القرن السابع عشر. إلا أن القبيلة انتشرت ومدت نفوذها في جهات واسعة من المنطقة واستقرت في أبوظبي بعد اكتشاف الماء فيها عام 1761، وهكذا سيطرت هذه القبيلة بمجموعة العشائر التي انضمت إليها والعشائر التي أصبحت تابعة لها على جميع إمارتي أبوظبي ودبي، وارتبطت معها القبائل بروابط التضامن السياسية لزعامة واحدة عُرفت تاريخياً باسم «حلف بني ياس».

الاحداث الدولية التي كان لها تأثير على المنطقة لحرب العالمية الأولى، عُرفت حينئذٍ بالحرب العظمى، هي حرب عالمية نشبت بدايةً في أوروبا من 28 يوليو 1914 وانتهت في 11 نوفمبر 1918

السبب: بين عامي 1908 و1914، كانت منطقة البلقان قد زُرع استقرارها بسبب مزيج من الدولة العثمانية الضعيفة وحروب البلقان 1912-1913 والأهداف الروسية والنمساوية المجرية المتنافسة. وفي يوم 28 يونيو 1914، قام القومي الصرب البوسني اليوغوسلافي غافريلو برينسيب باغتيال ولي عهد النمسا الأرشيدوق فرانز فرديناند مع زوجته في سراييفو، ما أدى إلى نشوب أزمة يوليو. وفي 23 يوليو، أصدرت النمسا-المجر إنذاراً نهائياً إلى صربيا. وسرعان ما استقطبت التحالفات المتشابكة جميع القوى الأوروبية الرئيسية مع الإمبراطوريات الاستعمارية الخاصة بها، وانتشر الصراع بسرعة في جميع أنحاء العالم.

عَمَر

2022



أقرأ الفقرة الآتية الواردة في النص المجاور ثم أجب :

2 علامة

1-2

أي من التالي تعتبر حقيقة سياسية وعسكرية

قيام قبيلة بني ياس في أبوظبي

قيام الحرب العالمية الأولى

مجيء زايد بن خليفة للحكم

تحاف القبائل مع بني ياس

بنو ياس قبيلة عربية من أقوى وأشهر القبائل ولها وجود قوي على ساحل الخليج العربي، ومن أكثر القبائل عدداً مقارنة بغيرها من قبائل المنطقة، شكلت منذ بداية التاريخ الحديث وحتى مجيء زايد بن خليفة آل نهيان (زايد الأول)، أكبر قوة برية في الإمارات العربية، ونظراً لقوة بني ياس البرية فإن السياسة البريطانية تجاه أبوظبي كانت حذرة خوفاً من التوغل في حرب مكشوفة في الصحراء، لذلك فضلت أن تتجنب الاحتكاك بهم. ينحدر من هذه القبيلة آل نهيان وآل مكتوم وهم حكام إمارة أبو ظبي ودبي على التوالي. تتألف القبيلة من مجموعة من العشائر التي خضعت لزعامة عشيرة (البوفلاح). كانت القبيلة تتخذ من الظفرة في ليوا مقراً لها وكانت أيضاً محلاً لأغلب القبائل التي رحلت مع منتصف القرن السابع عشر. إلا أن القبيلة انتشرت ومدت نفوذها في جهات واسعة من المنطقة واستقرت في أبوظبي بعد اكتشاف الماء فيها عام 1761، وهكذا سيطرت هذه القبيلة بمجموعة العشائر التي انضمت إليها والعشائر التي أصبحت تابعة لها على جميع إمارتي أبوظبي ودبي، وارتبطت معها القبائل بروابط التضامن السياسية لزعامة واحدة عُرفت تاريخياً باسم «حلف بني ياس».

الاحداث الدولية التي كان لها تأثير على المنطقة لحرب العالمية الأولى، عُرفت حينئذٍ بالحرب العظمى، هي حرب عالمية نشبت بدايةً في أوروبا من 28 يوليو 1914 وانتهت في 11 نوفمبر 1918

السبب: بين عامي 1908 و1914، كانت منطقة البلقان قد زُرع استقرارها بسبب مزيج من الدولة العثمانية الضعيفة وحروب البلقان 1912-1913 والأهداف الروسية والنمساوية المجرية المتنافسة. وفي يوم 28 يونيو 1914، قام القومي الصرب البوسني اليوغوسلافي غافريلو برينسيب باغتيال ولي عهد النمسا الأرشيدوق فرانز فرديناند مع زوجته في سراييفو، ما أدى إلى نشوب أزمة يوليو. وفي 23 يوليو، أصدرت النمسا-المجر إنذاراً نهائياً إلى صربيا. وسرعان ما استقطبت التحالفات المتشابكة جميع القوى الأوروبية الرئيسية مع الإمبراطوريات الاستعمارية الخاصة بها، وانتشر الصراع بسرعة في جميع أنحاء العالم.

عَمَر



أقرأ الفقرة الآتية الواردة في النص المجاور ثم أجب :

2 علامة

1-3

ما هو الفتيل الذي أشعل الحرب العالمية الأولى

كانت منطقة البلقان قد زُرع استقرارها

اغتيال ولي عهد النمسا

أصدرا النمسا-المجر إنذارا نهائيا إلى صربيا

الأهداف الروسية والنمساوية المجرية المتنافسة

بنو ياس قبيلة عربية من أقوى وأشهر القبائل ولها وجود قوي على ساحل الخليج العربي، ومن أكثر القبائل عدداً مقارنة بغيرها من قبائل المنطقة، شكلت منذ بداية التاريخ الحديث وحتى مجيء زايد بن خليفة آل نهيان (زايد الأول)، أكبر قوة برية في الإمارات العربية، ونظراً لقوة بني ياس البرية فإن السياسة البريطانية تجاه أبوظبي كانت حذرة خوفاً من التوغل في حرب مكشوفة في الصحراء، لذلك فضلت أن تتجنب الاحتكاك بهم. ينحدر من هذه القبيلة آل نهيان وآل مكتوم وهم حكام إمارة أبوظبي ودبي على التوالي. تتألف القبيلة من مجموعة من العشائر التي خضعت لزعامة عشيرة (البوفلاح). كانت القبيلة تتخذ من الظفرة في ليوا مقراً لها وكانت أيضاً محلاً لأغلب القبائل التي رحلت مع منتصف القرن السابع عشر. إلا أن القبيلة انتشرت ومدت نفوذها في جهات واسعة من المنطقة واستقرت في أبوظبي بعد اكتشاف الماء فيها عام 1761، وهكذا سيطرت هذه القبيلة بمجموعة العشائر التي انضمت إليها والعشائر التي أصبحت تابعة لها على جميع إمارتي أبوظبي ودبي، وارتبطت معها القبائل بروابط التضامن السياسية لزعامة واحدة عُرفت تاريخياً باسم «حلف بني ياس».

الاحداث الدولية التي كان لها تأثير على المنطقة لحرب العالمية الأولى، عُرفت حينئذٍ بالحرب العظمى، هي حرب عالمية نشبت بدايةً في أوروبا من 28 يوليو 1914 وانتهت في 11 نوفمبر 1918

السبب: بين عامي 1908 و1914، كانت منطقة البلقان قد زُرع استقرارها بسبب مزيج من الدولة العثمانية الضعيفة وحروب البلقان 1912-1913 والأهداف الروسية والنمساوية المجرية المتنافسة. وفي يوم 28 يونيو 1914، قام القومي الصرب البوسني اليوغوسلافي غافريلو برينسيب باغتيال ولي عهد النمسا الأرشيدوق فرانز فرديناند مع زوجته في سراييفو، ما أدى إلى نشوب أزمة يوليو. وفي 23 يوليو، أصدرت النمسا-المجر إنذاراً نهائياً إلى صربيا. وسرعان ما استقطبت التحالفات المتشابكة جميع القوى الأوروبية الرئيسية مع الإمبراطوريات الاستعمارية الخاصة بها، وانتشر الصراع بسرعة في جميع أنحاء العالم.

عَمَر



أقرأ الفقرة الآتية الواردة في النص المجاور ثم أجب :

2 علامة

1-4

العبارة التي تفسر سبب تأثر المنطقة بالحرب العالمية الأولى رغم بعدها عن أوروبا

a كانت منطقة البلقان قد زُرع استقرارها

b وارتبطت معها القبائل بروابط التضامن السياسية لزعامة واحدة

c التحالفات المتشابكة جميع القوى الأوروبية الرئيسية

d سيطرة بريطانيا على المنطقة والتي كانت طرف رئيس في الحرب

بنو ياس قبيلة عربية من أقوى وأشهر القبائل ولها وجود قوي على ساحل الخليج العربي، ومن أكثر القبائل عدداً مقارنة بغيرها من قبائل المنطقة، شكلت منذ بداية التاريخ الحديث وحتى مجيء زايد بن خليفة آل نهيان (زايد الأول)، أكبر قوة برية في الإمارات العربية، ونظراً لقوة بني ياس البرية فإن السياسة البريطانية تجاه أبوظبي كانت حذرة خوفاً من التوغل في حرب مكشوفة في الصحراء، لذلك فضلت أن تتجنب الاحتكاك بهم. ينحدر من هذه القبيلة آل نهيان وآل مكتوم وهم حكام إمارة أبو ظبي ودبي على التوالي . تتألف القبيلة من مجموعة من العشائر التي خضعت لزعامة عشيرة (البوفلاح). كانت القبيلة تتخذ من الظفرة في ليوا مقراً لها وكانت أيضاً محلاً لأغلب القبائل التي رحلت مع منتصف القرن السابع عشر. إلا أن القبيلة انتشرت ومدت نفوذها في جهات واسعة من المنطقة واستقرت في أبوظبي بعد اكتشاف الماء فيها عام 1761، وهكذا سيطرت هذه القبيلة بمجموعة العشائر التي انضمت إليها والعشائر التي أصبحت تابعة لها على جميع إمارتي أبوظبي ودبي ، وارتبطت معها القبائل بروابط التضامن السياسية لزعامة واحدة عُرفت تاريخياً باسم «حلف بني ياس».

الاحداث الدولية التي كان لها تأثير على المنطقة لحرب العالمية الأولى، عُرفت حينئذٍ بالحرب العظمى، هي حرب عالمية نشبت بدايةً في أوروبا من 28 يوليو 1914 وانتهت في 11 نوفمبر 1918

السبب: بين عامي 1908 و1914، كانت منطقة البلقان قد زُرع استقرارها بسبب مزيج من الدولة العثمانية الضعيفة وحروب البلقان 1912-1913 والأهداف الروسية والنمساوية المجرية المتنافسة. وفي يوم 28 يونيو 1914، قام القومي الصرب البوسني اليوغوسلافي غافريلو برينسيب باغتيال ولي عهد النمسا الأرشيدوق فرانز فرديناند مع زوجته في سراييفو، ما أدى إلى نشوب أزمة يوليو. وفي 23 يوليو، أصدرت النمسا-المجر إنذاراً نهائياً إلى صربيا. وسرعان ما استقطبت التحالفات المتشابكة جميع القوى الأوروبية الرئيسية مع الإمبراطوريات الاستعمارية الخاصة بها، وانتشر الصراع بسرعة في جميع أنحاء العالم.

عَمَر



أقرأ الفقرة الآتية الواردة في النص المجاور ثم أجب :

2 علامة

1-5

السبب الرئيس لتشكل زعامة في أبو ظبي كمنطقة جغرافية هو

أكبر قوة برية في الإمارات العربية

كانت القبيلة تتخذ من الظفرة في ليوا مقرا لها

اكتشاف الماء فيها عام 1761،

الاحداث الدولية التي كان لها تأثير على المنطقة

بنو ياس قبيلة عربية من أقوى وأشهر القبائل ولها وجود قوي على ساحل الخليج العربي، ومن أكثر القبائل عدداً مقارنة بغيرها من قبائل المنطقة، شكلت منذ بداية التاريخ الحديث وحتى مجيء زايد بن خليفة آل نهيان (زايد الأول)، أكبر قوة برية في الإمارات العربية، ونظراً لقوة بني ياس البرية فإن السياسة البريطانية تجاه أبوظبي كانت حذرة خوفاً من التوغل في حرب مكشوفة في الصحراء، لذلك فضلت أن تتجنب الاحتكاك بهم. ينحدر من هذه القبيلة آل نهيان وآل مكتوم وهم حكام إمارة أبو ظبي ودبي على التوالي . تتألف القبيلة من مجموعة من العشائر التي خضعت لزعامة عشيرة (البوفلاح). كانت القبيلة تتخذ من الظفرة في ليوا مقرا لها وكانت أيضاً محلاً لأغلب القبائل التي رحلت مع منتصف القرن السابع عشر. إلا أن القبيلة انتشرت ومدت نفوذها في جهات واسعة من المنطقة واستقرت في أبو ظبي بعد اكتشاف الماء فيها عام 1761، وهكذا سيطرت هذه القبيلة بمجموعة العشائر التي انضمت إليها والعشائر التي أصبحت تابعة لها على جميع إمارتي أبو ظبي ودبي ، وارتبطت معها القبائل بروابط التضامن السياسية لزعامة واحدة عُرفت تاريخياً باسم «حلف بني ياس».

الاحداث الدولية التي كان لها تأثير على المنطقة لحرب العالمية الأولى، عُرفت حينئذٍ بالحرب العظمى، هي حرب عالمية نشبت بدايةً في أوروبا من 28 يوليو 1914 وانتهت في 11 نوفمبر 1918

السبب :بين عامي 1908 و1914، كانت منطقة البلقان قد زُرع استقرارها بسبب مزيج من الدولة العثمانية الضعيفة وحروب البلقان 1912-1913 والأهداف الروسية والنمساوية المجرية المتنافسة. وفي يوم 28 يونيو 1914، قام القومي الصرب البوسني اليوغوسلافي غافريلو برينسيب باغتيال ولي عهد النمسا الأرشيدوق فرانز فرديناند مع زوجته في سراييفو، ما أدى إلى نشوب أزمة يوليو. وفي 23 يوليو، أصدرت النمسا-المجر إنذاراً نهائياً إلى صربيا. وسرعان ما استقطبت التحالفات المتشابكة جميع القوى الأوروبية الرئيسية مع الإمبراطوريات الاستعمارية الخاصة بها، وانتشر الصراع بسرعة في جميع أنحاء العالم.

عَمَّر

