

شكراً لتحميلك هذا الملف من موقع المناهج الإماراتية



أوراق عمل الوحدة الخامسة القيمة المكانية

[موقع المناهج](#) ← [المناهج الإماراتية](#) ← [الصف الثاني](#) ← [رياضيات](#) ← [الفصل الثاني](#) ← [الملف](#)

التواصل الاجتماعي بحسب الصف الثاني



روابط مواد الصف الثاني على تلغرام

[الرياضيات](#)

[اللغة الانجليزية](#)

[اللغة العربية](#)


[التربية الاسلامية](#)

المزيد من الملفات بحسب الصف الثاني والمادة رياضيات في الفصل الثاني

أوراق عمل نموذج اختباري	1
أوراق عمل الوحدة السادسة جمع الأعداد المكونة من ثلاثة أرقام	2
أوراق عمل الوحدة الخامسة القيمة المكانية	3
مذكرة مراجعة الوحدة الخامسة	4
أسئلة كويز Quiz بدون حل	5



• اكتب الأعداد الناقصة ، ثم اكتب نمط العد.



تم تحميل هذا الملف من

موقع المناهج الإماراتية

alManahj.com/ae

216 ، _____ ، 416 ، _____ ، 616 ، 716

النمط هو _____

300 ، 310 ، _____ ، _____ ، 340 ، _____

النمط هو _____

105 ، 205 ، _____ ، _____ ، _____ ، 605

النمط هو _____

505 ، 510 ، 515 ، _____ ، _____ ، _____

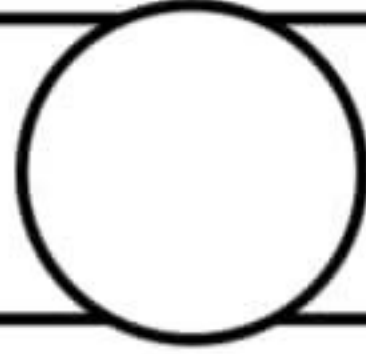
النمط هو _____





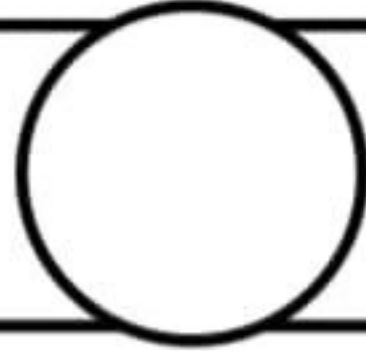
• قارن واكتب < أو > أو = .

125



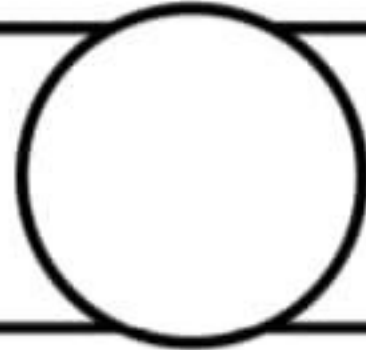
152

364



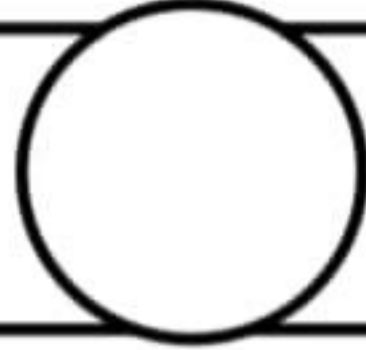
364

725



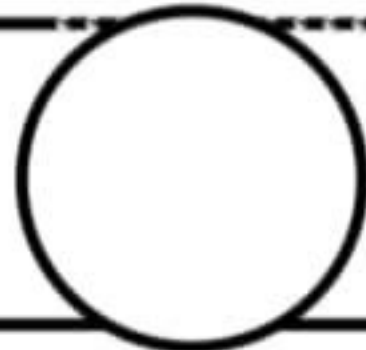
752

143



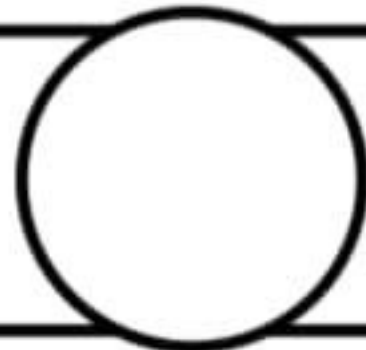
134

453



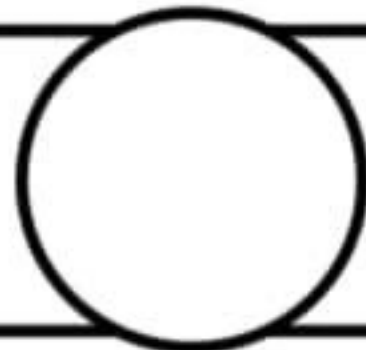
435

111



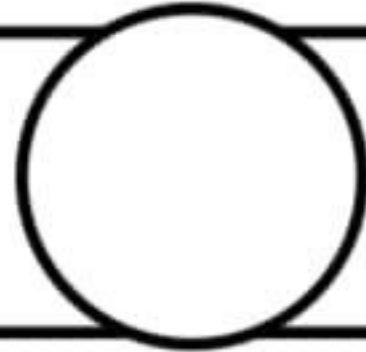
110

233



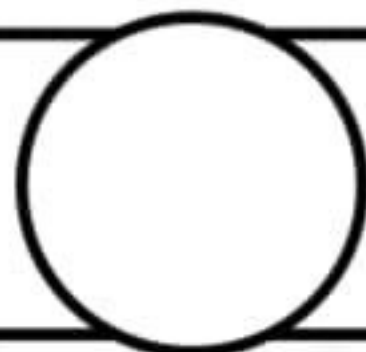
277

114



114

236



233



• اقرأ العدد. اكتب العدد.

■ أربعمئة وثمانية و عشرون

■ مئتان و خمسة و ثمانون

■ تسعمئة و سبعة و سبعون

■ اثنان و ستون

■ اكتب العدد بالكلمات (362)

تم تحميل هذا الملف من
موقع المناهج الإماراتية

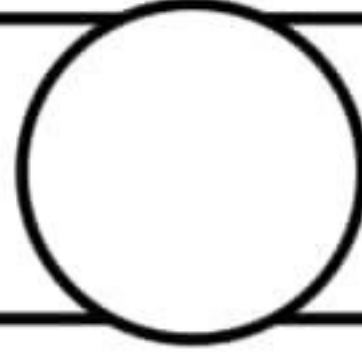
alManahj.com/ae





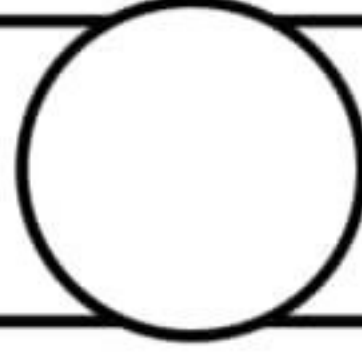
• قارن واكتب < أو > أو = .

210



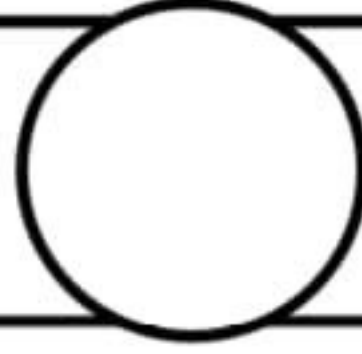
143

100



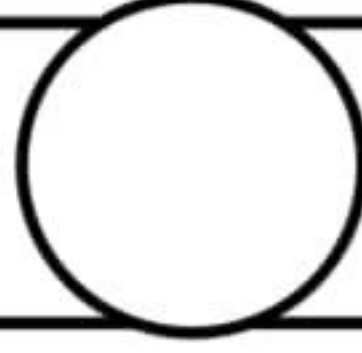
1000

122



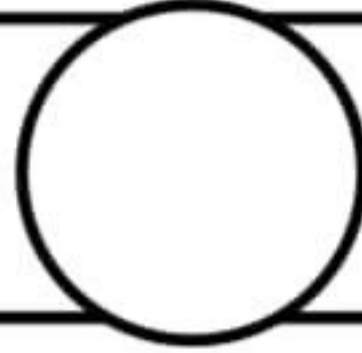
122

542



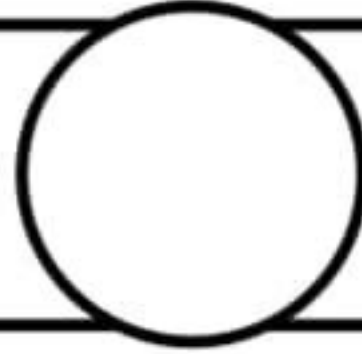
452

561



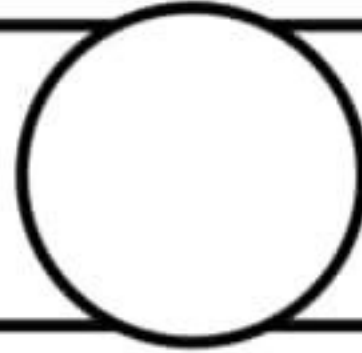
571

999



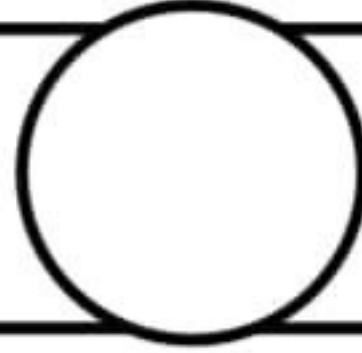
99

423



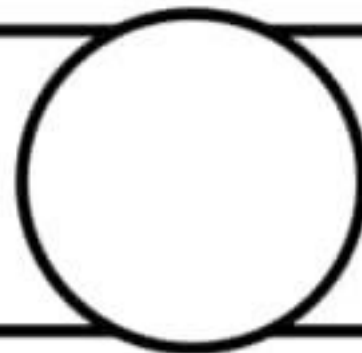
400

77



77

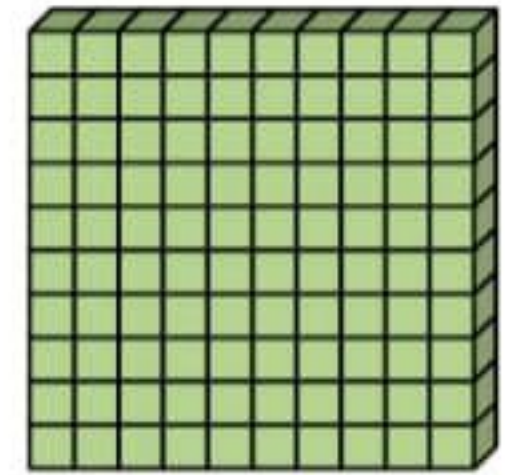
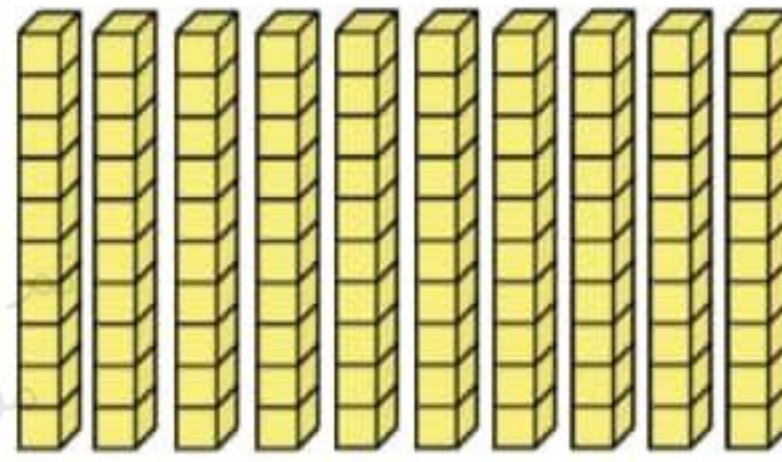

335



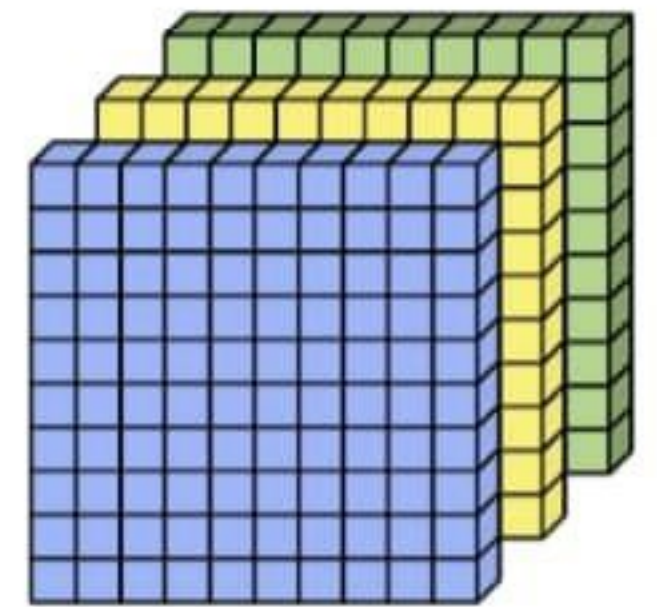
333



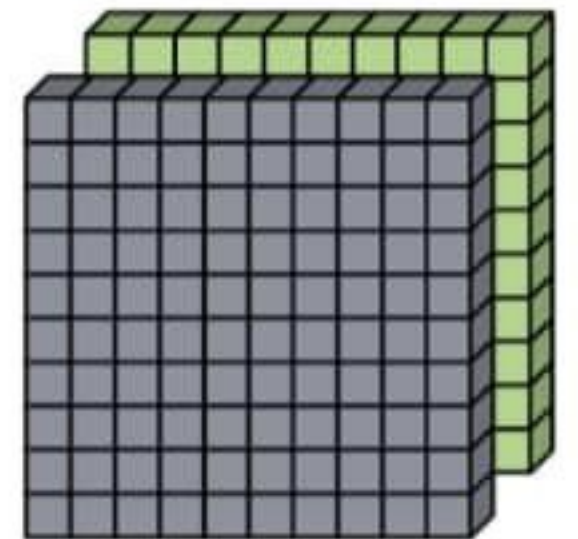
أكتب عدد المئات والعشرات والآحاد.



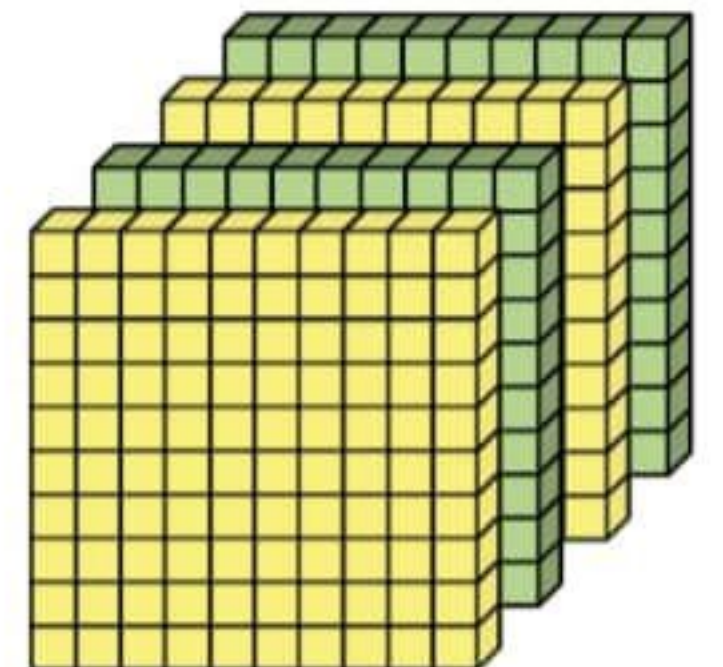
_____ عشرات = _____ آحاد = _____ مئات



_____ عشرات = _____ آحاد = _____ مئات

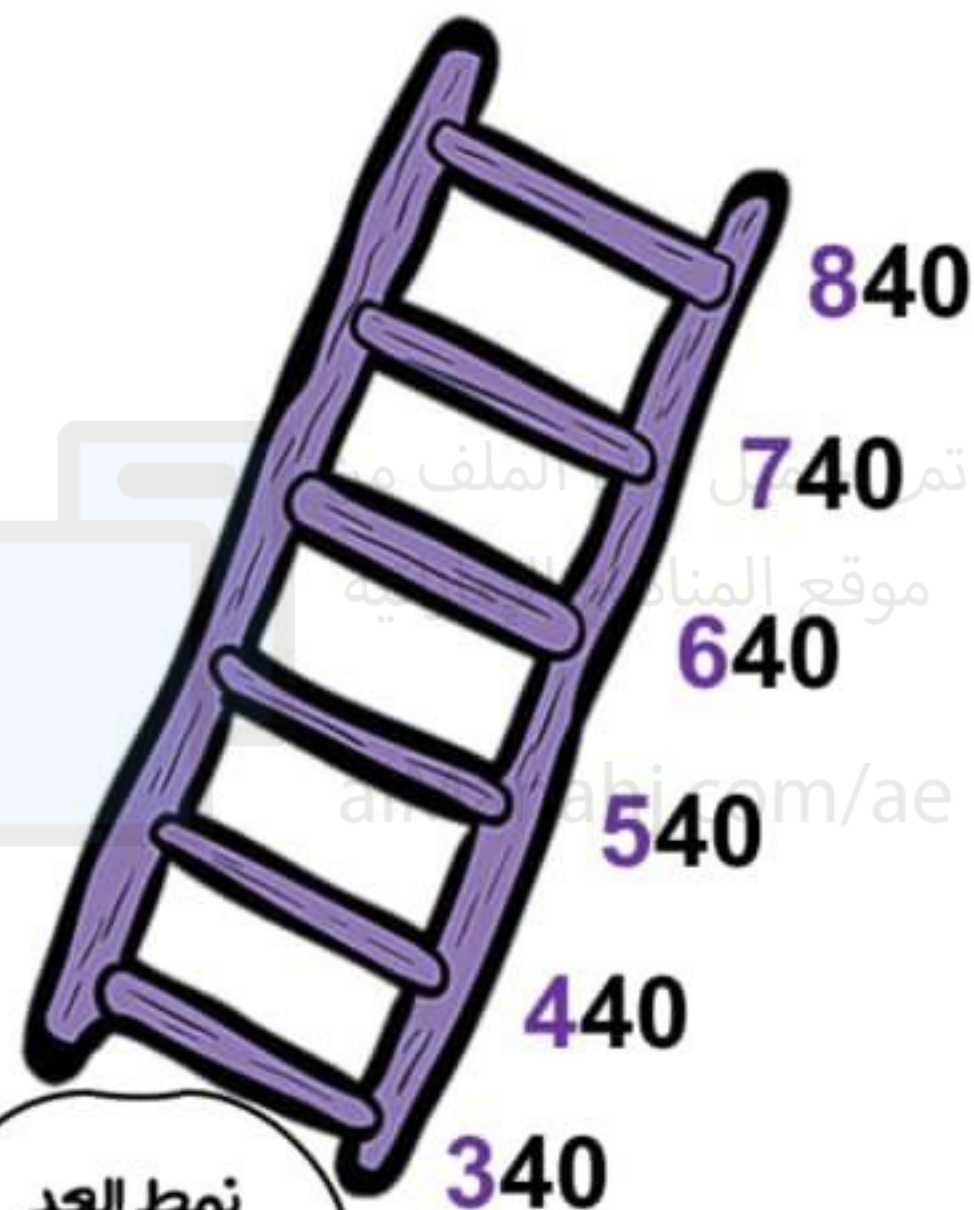


_____ عشرات = _____ آحاد = _____ مئات



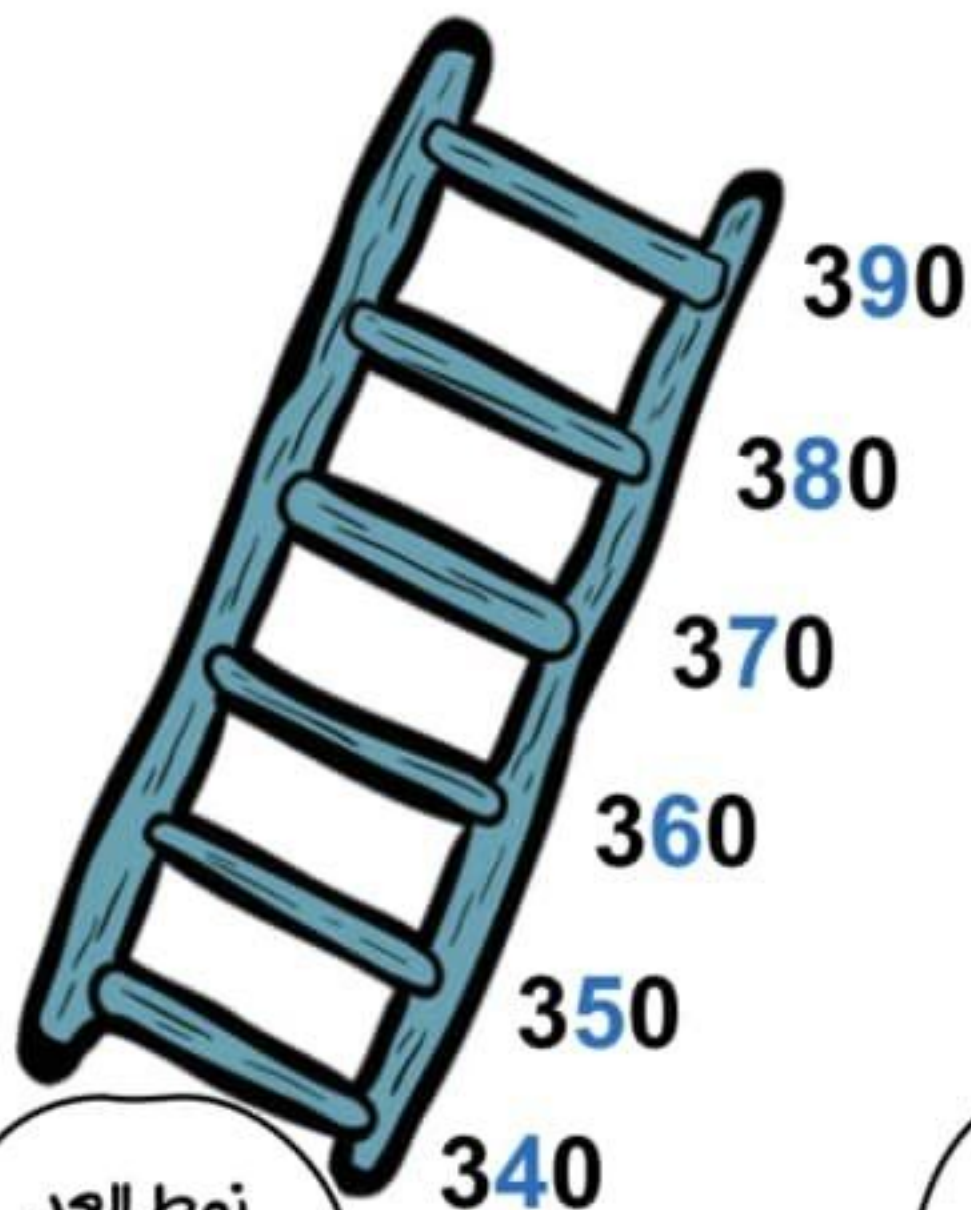
_____ عشرات = _____ آحاد = _____ مئات

أنماط الأعداد في العد التصاعدي بمقدار (5 ، 10 ، 100)



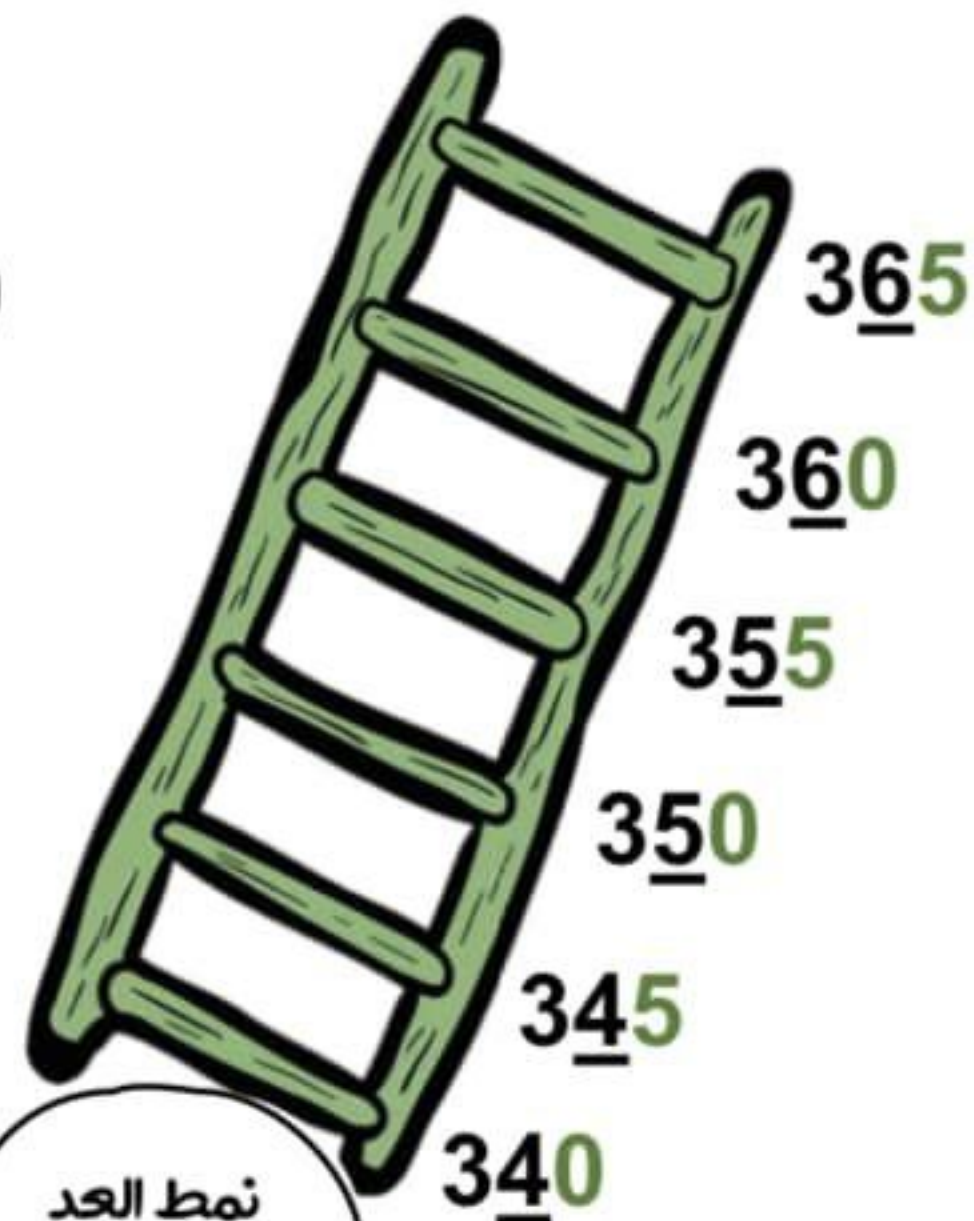
نمط العد
بمقدار (100)

كل عدد **يزيد** بمقدار 100.
فـنقول النمط هو 100 تصاعديا.



نمط العد
بمقدار (10)

كل عدد **يزيد** بمقدار 10.
فـنقول النمط هو 10 تصاعديا.



نمط العد
بمقدار (5)

كل عدد **يزيد** بمقدار 5.
فـنقول النمط هو 5 تصاعديا.



• اكتب عدد العشرات والآحاد.

5 مئات = _____ عشرات = _____ آحاد

2 مئات = _____ عشرات = _____ آحاد

4 مئات = _____ عشرات = _____ آحاد

3 مئات = _____ عشرات = _____ آحاد

• اكتب عدد المئات والعشرات والآحاد.

1 مئات = _____ آحاد

300 آحاد = _____ عشرات

200 آحاد = _____ عشرات

7 مئات = _____ عشرات

60 عشرات = _____ آحاد

90 عشرات = _____ مئات

80 عشرات = _____ مئات

موقع المناهج الإماراتية
alManahj.com/ae



• اقرأ العدد. اكتب العدد.

■ ثلاثمئة و عشرة

■ سبعمئة و ثمانية و عشرون

■ مئة و تسعة و تسعون

■ أربعمئة و أربعة و ستون

■ اكتب العدد بالكلمات (785)

تم تحميل هذا الملف من
موقع المناهج الإماراتية

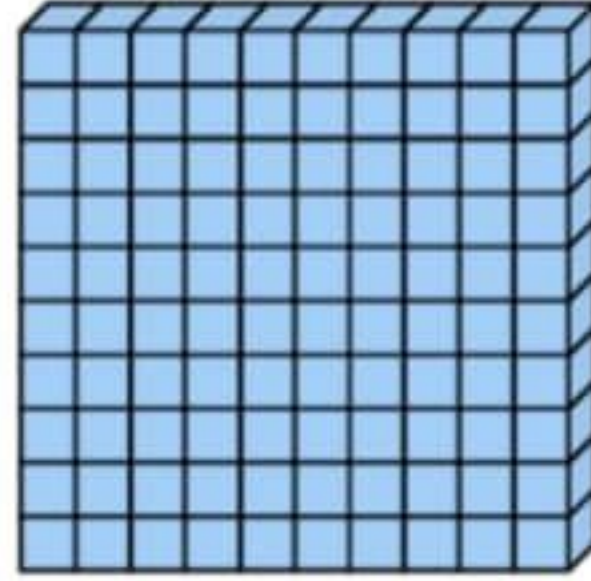
alManahj.com/ae





أكتب كم عدد المئات والعشرات والآحاد، ثم اكتب العدد .

الآحاد	العشرات	المئات



4

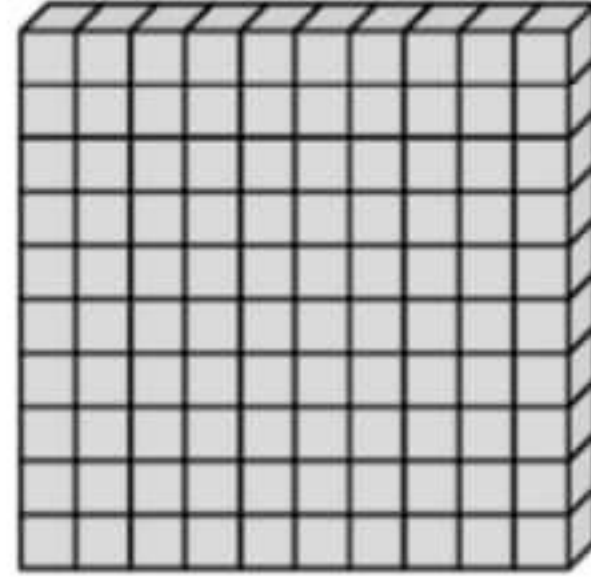


9



3

الآحاد	العشرات	المئات



6

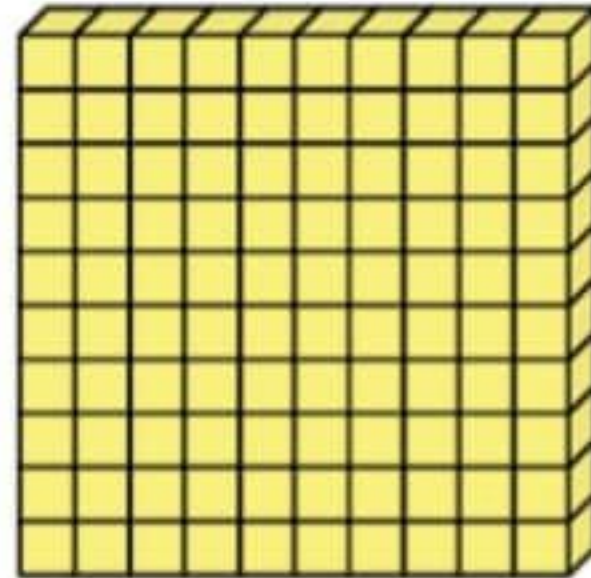


1



2

الآحاد	العشرات	المئات



9

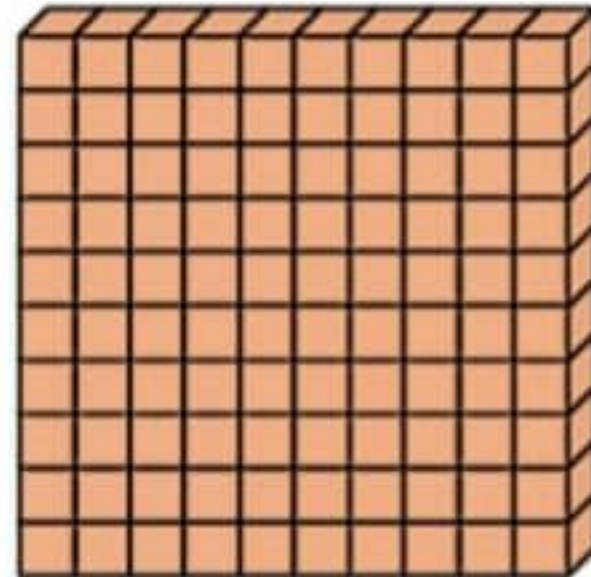


1



3

الآحاد	العشرات	المئات



1



4



0



• اكتب العدد.

$600 + 20 + 7 =$ _____

$400 + 40 + 0 =$ _____

$100 + 90 + 3 =$ _____

$300 + 70 + 3 =$ _____

$200 + 80 + 6 =$ _____

$500 + 60 + 5 =$ _____

$900 + 10 + 0 =$ _____

$700 + 90 + 1 =$ _____


• حوطة قيمة اللون الأحمر.

849

993

400 40 4

900 90 9



تم تحميل هذا الملف من

موقع المناهج الإماراتية

alManahj.com/ae



• اكتب كل عدد بالصيغة الموسعة. ثم اكتب العدد.

5 مئات و 4 عشرات و 8 أحاد

تم تحميل هذا الملف من
موقع المناهج الإماراتية

alManahj.com/ae

7 مئات و 0 عشرات و 1 أحاد

1 مئات و 6 عشرات و 9 أحاد

3 مئات و 3 عشرات و 0 أحاد

6 مئات و 2 عشرات و 8 أحاد

4 مئات و 5 عشرات و 5 أحاد

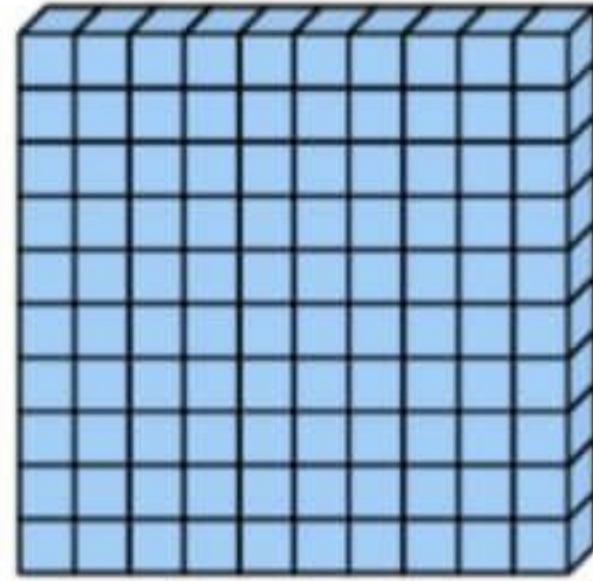
الدرس (2) : المئات والعشرات والآحاد

الوحدة 5



أكتب كم عدد المئات والعشرات والآحاد، ثم اكتب العدد .

المئات	العشرات	الآحاد



7



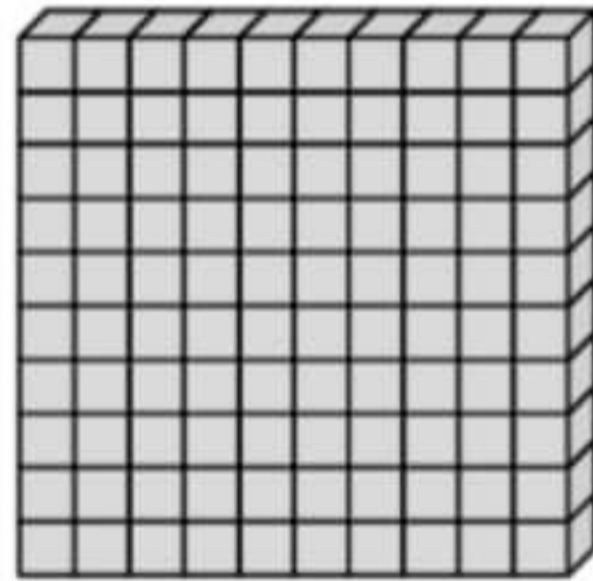
6



1

■

المئات	العشرات	الآحاد



8



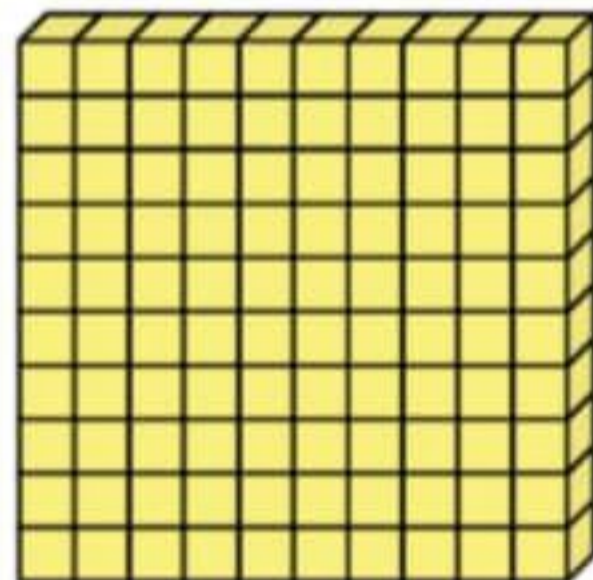
3



2

■


المئات	العشرات	الآحاد



1



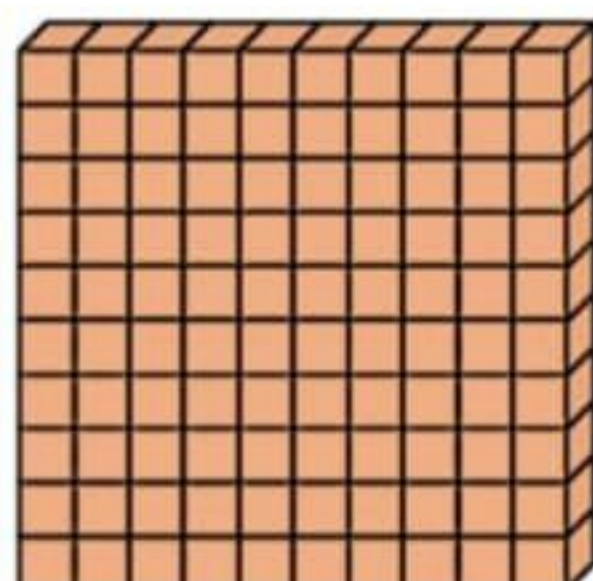
2



9

■

المئات	العشرات	الآحاد



4



3




7

■



• اكتب الأعداد الناقصة ، ثم اكتب نمط العد.



تم تحميل هذا الملف من

موقع المناهج التعليمية

550 ، _____ ، 560 ، _____ ، 570 ، 575

alManahj.com/ae


النمط هو _____

431 ، 531 ، _____ ، _____ ، 831 ، _____

النمط هو _____

820 ، 830 ، _____ ، _____ ، _____ ، 870

النمط هو _____



110 ، _____ ، 120 ، _____ ، 130 ، 135

النمط هو _____





يساوي (=)

أصغر من (<)

أكبر من (>)

المئات	العشرات	الأحاد
7	5	6
7	5	6

$$756 = 756$$

756 يساوي من 756

المئات	العشرات	الأحاد
9	6	4
9	3	2

$$534 < 518$$

932 أصغر من 964

المئات	العشرات	الأحاد
5	1	8
5	3	4

$$534 > 518$$

534 أكبر من 518

