

شكراً لتحميلك هذا الملف من موقع المناهج الإماراتية



حل أوراق عمل درس أوجه الاختلاف بين النباتات

موقع المناهج ← المناهج الإماراتية ← الصف الثاني ← علوم ← الفصل الأول ← الملف

التواصل الاجتماعي بحسب الصف الثاني



روابط مواد الصف الثاني على تلغرام

[الرياضيات](#)

[اللغة الانجليزية](#)

[اللغة العربية](#)

[التربية الاسلامية](#)

المزيد من الملفات بحسب الصف الثاني والمادة علوم في الفصل الأول

[أوراق عمل درس أوجه الاختلاف بين النباتات](#)

1

[كتاب الطالب بريدج](#)

2

[ملخص الوحدة الأولى كن عالماً](#)

3

[حل أسئلة أوراق عمل التقويم الأول](#)

4

[أوراق عمل الوحدة الثالثة تصنيف الحيوانات](#)

5

للعام الدراسي 2024/2023	للفصل الدراسي الأول	الصف الثاني	أوراق عمل لمادة العلوم
الدرجة المستحقة	تاريخ التسليم 9/25	أسم الطالب/ة
ماذا عليه عمله لكي يتحسن		ملاحظات المعلم

السؤال الأول :-

ضع دائرة حول الإجابة الصحيحة فيما يلي :

1- تختلف في الصفات الوراثية:



2- نبات تكيف للعيش في البيئة الجافة جدا مثل الصحراء:




3- نبات تكيف للعيش في البيئة الرطبة جدا كالغابات المطيرة:



4- من النبات الذي أوراقه عريضة:



5- أي صورة تتشابه فيها الصفات الوراثية:





6- نبات يعيش في الأماكن الجافة:



7- النباتات التي تعيش في الأماكن الجافة والصحراء تمتلك:

- أ- ساق سميكة تخزن الماء و أوراق شوكية صغيرة من
- ب- أوراق عريضة جداً
- ج- ساق رفيع جداً

8- النباتات التي تعيش في الأماكن الرطبة كالغابات تمتلك:

- أ- أوراق شوكية صغيرة
- ب- أوراق عريضة جداً تساعد في الحصول على الضوء في الغابة الكثيفة المعتمة
- ج- أوراق صغيرة مسننة

9- تمتلك بعض النباتات أشواكاً

- أ- للحصول على الماء
- ب- لحماية نفسها
- ج- لكي تتكاثر

10- يمكن أن تنمو جوزة البلوط لتصبح شجرة

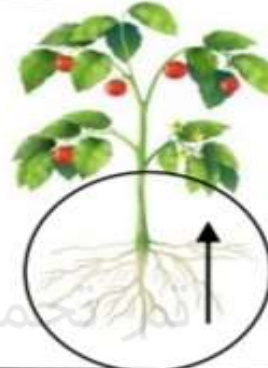
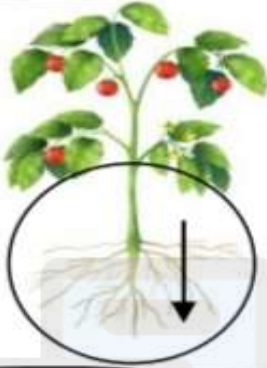
- أ- تفاح
- ب- موز
- ج- بلوط

11- أي من الأشجار التالية تعرض لرياح قوية جداً ولفترة من الزمن:



السؤال الثاني :-

○ في أي جهة تنمو جذور النباتات، ضع صح (✓) أمام الصورة الصحيحة:



تم تحميل هذا الملف من

○ صل بما يناسب: موقع المناهج الإماراتية



أحمل أوراقاً شوكية صغيرة في الأماكن الجافة جداً وأقوم بتخزين الماء في سيقاني العريضة.







أحمل أوراقاً عريضة تساعدني في الحصول على الضوء في الأماكن الرطبة جداً.

○ ضع صح (✓) أمام العبارة الصحيحة و خطأ (✗) أمام العبارة الخاطئة:

- النبات يمتلك أشواك كي يمنع الحيوانات من أكله. ()
- تساعد الساق النبات على تخزين المياه في الأماكن الجافة. ()
- تبدو الأوراق صغيرة الحجم في الأماكن الرطبة. ()
- يمكن أن تنمو بذرة دوار الشمس كي تصبح شجرة بلوط. ()

○ صل بما يناسب :

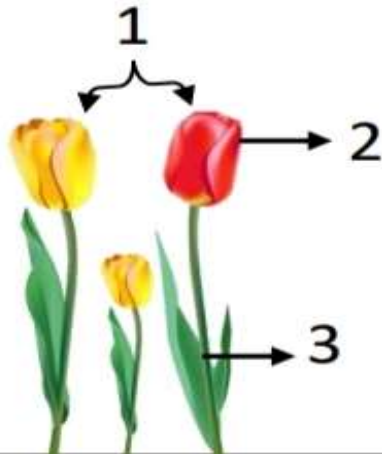
نبتة دوار الشمس			جوزة البلوط
شجرة البلوط			بذرة دوار الشمس

○ ضع صح (✓) أمام العبارة الصحيحة و خطأ (✗) أمام العبارة الخاطئة :

- لا تكتسب النباتات العديد من صفاتها الوراثية من الجيل السابق. ()
- لدى الحيوانات صغار تشبه والديها كذلك النباتات لديها نباتات تشبهها. ()
- الصفة الوراثية عبارة عن شكل أو سلوك يميز الحيوانات أو النباتات. ()

○ أكمل الفراغات بما يناسب :

تتشابه النباتات مع الجيل السابق في نفس :



وتختلف النباتات في :

- 1
- 2
- 3
- 1
- 2

معلمة المادة / زينب جمال