

تم تحميل هذا الملف من موقع المناهج الإماراتية



مراجعة الاستعداد للاختبار النهائي

[موقع المناهج](#) ← [المناهج الإماراتية](#) ← [الصف الثاني](#) ← [رياضيات](#) ← [الفصل الثالث](#) ← [الملف](#)

تاريخ إضافة الملف على موقع المناهج: 20:16:07 2024-05-26

التواصل الاجتماعي بحسب الصف الثاني



اضغط هنا للحصول على جميع روابط "الصف الثاني"

روابط مواد الصف الثاني على تلغرام

[الرياضيات](#)

[اللغة الانجليزية](#)

[اللغة العربية](#)

[التربية الاسلامية](#)

المزيد من الملفات بحسب الصف الثاني والمادة رياضيات في الفصل الثالث

أسئلة الامتحان النهائي	1
أسئلة الاختبار القصير الأول	2
أوراق عمل درس الساعة ومقارنة الأطوال	3
ورقة عمل درس الوقت	4
أوراق عمل اعتمد على نفسي الدرس الأول الوقت بالساعة من الوحدة التاسعة	5

اسم الطالب : الصف الثاني :

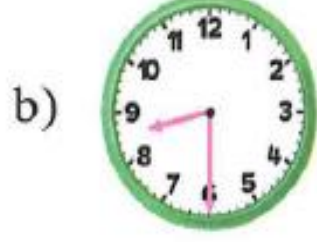
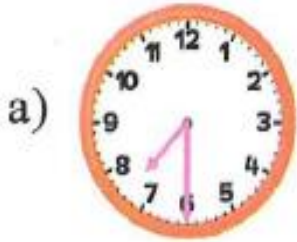
السؤال الأول:



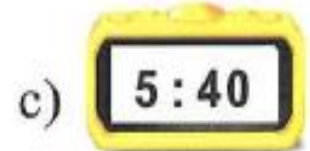
اختر الإجابة الصحيحة فيما يأتي وأرسم حولها دائرة
1) ما الوقت الموضح في الساعة ؟



2) يغادر القطار الساعة 4:30 . أي ساعة تبين أن الساعة 4:30 ؟



3) حدد الساعة التي تظهر مثالا على الربع ساعة ؟



4) إذا اقترب عقرب الساعات من 8 وأشار عقرب الدقائق إلى 10 . ما الوقت ؟

a) 8:10

b) 9:50

c) 7:50



5) حدد الوقت الموضح لتناول طعام الغداء؟

- a) 3:30P.M b) 3:30A.M c) 3:00P.M

6) سافر مروان في عطلة لزيارة عمه وعمته ، وظل هناك لمدة اسبوعين ، كم المدة التي سافرها مروان؟

- a) 7 أسابيع b) 7 ساعات c) 14 يوم



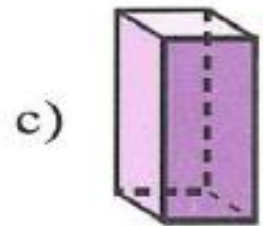
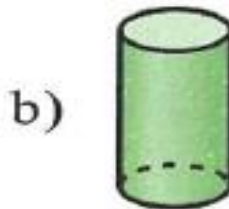
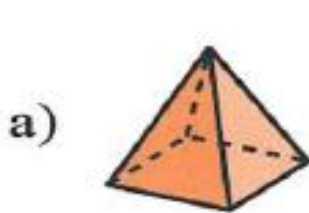
7) اكتب اسم الشكل .

- a) متوازي أضلاع b) شبه منحرف c) مستطيل

8) حدد الشكل الذي يضم 8 أضلاع و8 زوايا



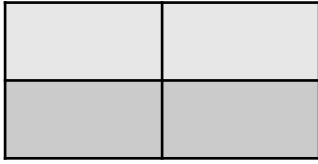
9) أنا شكل ثلاثي الأبعاد ، لدي 5 أوجه . أي شكل أنا؟



10) حدد الشكل الذي تكونه الأوجه؟



11) صف الأجزاء المتساوية ؟




a) أنصاف

b) أرباع

c) أثلاث

12) كم عدد المربعات التي تكون المستطيل ؟




a) 12

b) 15

c) 16

13) تريد فاطمة أن ترسم دائرة باستخدام الأشياء أدناه. ما الأشياء التي يمكن استخدامها ؟ حوِّط تلك الأشياء



14) حدد الوقت الذي يستعد فيه أحمد للنوم ؟

a) 7:00 PM

b) 8 :00 AM

c) 12:00AM

15) الساعة الرقمية هي الساعة التي تستخدم :

a) الأرقام

b) الملاعق

c) العقارب

16) الاستعداد للاختبار يحتاج

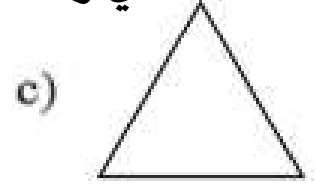
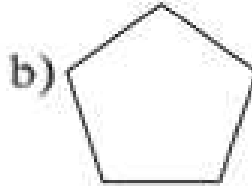
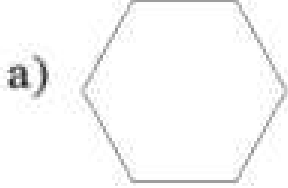
a) ثانية

b) دقائق

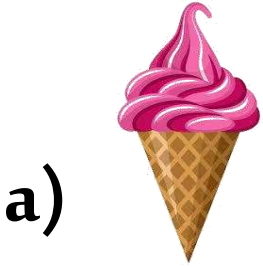
c) ساعات

17) رسم خالد شكلا فيه أضلاع أكثر من أضلاع المثلث أو المستطيل و أقل من أضلاع سداسي الأضلاع .



ما الشكل الذي رسمه ؟



18) شكل ثلاثي الأبعاد وجوهه 0



19) البيتزا المقطعة إلى نصفين



20) اذا اردت أن تشارك 3 من زملائك البيتزا بالتساوي فكم سيكون نصيب كل منهم ؟



a) أنصاف


b) أثلاث


c) أرباع


السؤال الثاني : اقرأ الأسئلة الآتية ثم أجب عنها.

(21




..... كم عدد 


..... كم عدد 

..... كم عدد 



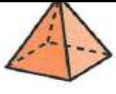

(22) ارسم خطاً لتقسيم الشكل إلى 4 أجزاء متساوية :



(23) ارسم خطاً لتقسيم الشكل إلى 2 أجزاء متساوية :




السؤال الثالث : اكتب عدد الأوجه :

الأوجه	الشكل
	 المكعب
	 الكرة
	 الهرم
	 المنشور المستطيل

السؤال الرابع : استخدم الكلمات التالية في المكان المناسب

أثلاث	أنصاف
-------	-------



.....

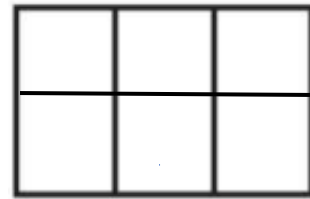


.....

السؤال الخامس : أوجد مساحة المستطيل



مربعات



مربعات

تمنياتنا بالتوفيق والنجاح لجميع الطلبة