

تم تحميل هذا الملف من موقع المناهج الإماراتية



أسئلة الاختبار التكويني الثاني

موقع المناهج ← المناهج الإماراتية ← الصف الثاني ← رياضيات ← الفصل الأول ← اختبارات ← الملف

تاريخ إضافة الملف على موقع المناهج: 23:19:47 2024-10-23

ملفات اكتب للمعلم اكتب للطالب الاختبارات الكترونية | اختبارات | حلول | عروض بوربوينت | أوراق عمل
منهج انجليزي | ملخصات وتقارير | مذكرات وبنوك | الامتحان النهائي للمدرس

المزيد من مادة
رياضيات:

إعداد: آمنه لاجح

التواصل الاجتماعي بحسب الصف الثاني



صفحة المناهج
الإماراتية على
فيسبوك

الرياضيات

اللغة الانجليزية

اللغة العربية

التربية الاسلامية

المواد على تلغرام

المزيد من الملفات بحسب الصف الثاني والمادة رياضيات في الفصل الأول

دليل المعلم الوحدة الثانية value Place منهج ريفيل

1

كتاب الطالب Book Practice Student منهج ريفيل

2

عرض بوربوينت درس جمع الحدود الجمعية المتساوية

3

مراجعة اختبار التقويم الأول الوحدة الأولى تطبيق مفاهيم الجمع والطرح

4

أسئلة التقويم التكويني الأول

5



الاختبار التكويني الثاني في مادة الرياضيات الصف الثاني 2024 - 2025 م

الاسم : الصف الثاني /

السؤال الأول : حوِّط الإجابة الصحيحة

1 - 45 , , 35 , 30 . العدد الناقص هو

A 36

B 40

C 25






2 - أي مما يلي لا يعتبر مثالا على طريقة العد التجاوزي ؟

A 10 , 12 , 16 , 20

B 50 , 60 , 70 , 80

C 20 , 25 , 30 , 35

3 - أي جملة تعبر عن المجموعات المتساوية التالية :



A 4 مجموعات تتكون
من 3

B 2 مجموعات تتكون
من 5

C 5 مجموعات تتكون
من 2

4 - حوِّط جملة الجمع المتكرر .

A $4 + 4 + 4$

B $9 + 3 + 9$

C 5 , 10 , 15 , 20

5 - العدد 17 هل هو عدد زوجي ام فردي .

A عددي

B فردي

C زوجي

السؤال الثاني : اكتب العدد الناقص ووضح النمط ..

42 , 44 , 46 ,

عد بالتجاوز بمقدار

10 ,, 30 , 40

عد بالتجاوز بمقدار

السؤال الثالث : اكتب الجملة العديده واوجد الناتج ..

إذا كانت هناك 3 مزهريات تحتوي كل منها على 5 زهور . فكم إجمالي الزهور الموجودة ؟

.....

السؤال الرابع : قدم وصفا للمجموعات . واكتب الجملة الجمع المتكرر واوجد الناتج.



..... مجموعات تتكون من نملة إجمالاً

..... + + + =

السؤال الخامس : ظلل كل شبكة لتوضيح المصفوفة ثم اكتب جملة الجمع ..

وضح 4 صفوف يتكون كل منها من 3 مربعات .

.....