

تم تحميل هذا الملف من موقع المناهج الإماراتية



مذكرة الوحدة السادسة جمع الأعداد المكونة من ثلاثة أرقام

موقع المناهج ← المناهج الإماراتية ← الصف الثاني ← رياضيات ← الفصل الثاني ← مذكرات وبنوك ← الملف

تاريخ إضافة الملف على موقع المناهج: 19:21:01 2025-01-18

ملفات اكتب للمعلم اكتب للطالب الاختبارات الكترونية | اختبارات | حلول | عروض بوربوينت | أوراق عمل
منهج انجليزي | ملخصات وتقارير | مذكرات وبنوك | الامتحان النهائي للمدرس

المزيد من مادة
رياضيات:

إعداد: نهلة المزروعي

التواصل الاجتماعي بحسب الصف الثاني



صفحة المناهج
الإماراتية على
فيسبوك

الرياضيات

اللغة الانجليزية

اللغة العربية

التربية الاسلامية

المواد على تلغرام

المزيد من الملفات بحسب الصف الثاني والمادة رياضيات في الفصل الثاني

الخطة الفصلية للمقرر للعام 2024-2025

1

مذكرة الوحدة الخامسة القيمة المكانية حتى 1000

2

عرض بوربوينت درس التمثيل البياني للأنماط

3

عرض بوربوينت حل درس جمع مضاعفات المئات

4

عرض بوربوينت حل الدرس الثاني جمع المئات من الوحدة السادسة

5



وزارة التربية والتعليم
MINISTRY OF EDUCATION

الصف الثاني الأساسي



مؤسسة الإمارات
للتعليم المدرسي
EMIRATES SCHOOLS
ESTABLISHMENT

الوحدة 6
جمع الأعداد المكونة
من ثلاثة أرقام



الاسم
الشعبة

إعداد المعلمة : نهلة المزروعى

كُون مِئَةً لِلْجَمْعِ.

$$\begin{array}{r}
 99 + 798 \\
 \diagdown \quad \diagup \\
 99 + \underline{\quad\quad} + \underline{\quad\quad} \\
 \diagup \quad \diagdown \\
 \underline{\quad\quad} + 797 = \underline{\quad\quad} \\
 99 + 798 = \underline{\quad\quad} \text{، إذا،}
 \end{array}$$

$$\begin{array}{r}
 98 + 393 \\
 \diagdown \quad \diagup \\
 98 + \underline{\quad\quad} + \underline{\quad\quad} \\
 \diagup \quad \diagdown \\
 \underline{\quad\quad} + 391 = \underline{\quad\quad} \\
 98 + 393 = \underline{\quad\quad} \text{، إذا،}
 \end{array}$$

$$\begin{array}{r}
 62 + 199 \\
 \diagdown \quad \diagup \\
 \underline{\quad\quad} + \underline{\quad\quad} + 199 \\
 \diagup \quad \diagdown \\
 61 + \underline{\quad\quad} = \underline{\quad\quad}
 \end{array}$$

Add and Subtract Multiples of 100

Solve the addition and subtraction problems.



NAME _____

$$\begin{array}{r} 300 \\ + 500 \\ \hline \end{array}$$

$$\begin{array}{r} 200 \\ + 100 \\ \hline \end{array}$$

$$\begin{array}{r} 500 \\ + 300 \\ \hline \end{array}$$

$$\begin{array}{r} 100 \\ + 600 \\ \hline \end{array}$$

$$\begin{array}{r} 200 \\ + 200 \\ \hline \end{array}$$

$$\begin{array}{r} 500 \\ + 100 \\ \hline \end{array}$$

$$\begin{array}{r} 700 \\ + 100 \\ \hline \end{array}$$

$$\begin{array}{r} 400 \\ + 400 \\ \hline \end{array}$$

$$\begin{array}{r} 300 \\ - 100 \\ \hline \end{array}$$

$$\begin{array}{r} 400 \\ - 200 \\ \hline \end{array}$$

$$\begin{array}{r} 600 \\ - 500 \\ \hline \end{array}$$

$$\begin{array}{r} 900 \\ - 700 \\ \hline \end{array}$$

$$\begin{array}{r} 800 \\ - 300 \\ \hline \end{array}$$

$$\begin{array}{r} 700 \\ - 600 \\ \hline \end{array}$$

$$\begin{array}{r} 500 \\ - 400 \\ \hline \end{array}$$

$$\begin{array}{r} 600 \\ - 200 \\ \hline \end{array}$$

www.splashlearn.com
Also available on: 

Add and Subtract Multiples of 100

Solve the addition and subtraction problems.



NAME _____

$$300 + 600 = \underline{\quad}$$

$$900 - 700 = \underline{\quad}$$

$$200 + 500 = \underline{\quad}$$

$$700 - 400 = \underline{\quad}$$

$$400 + 100 = \underline{\quad}$$

$$400 - 100 = \underline{\quad}$$

$$600 + 200 = \underline{\quad}$$

$$800 - 300 = \underline{\quad}$$

$$500 + 300 = \underline{\quad}$$

$$300 - 200 = \underline{\quad}$$

$$100 + 400 = \underline{\quad}$$

$$800 - 500 = \underline{\quad}$$

$$700 + 100 = \underline{\quad}$$

$$600 - 400 = \underline{\quad}$$

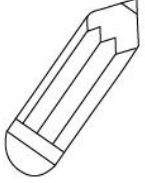
$$500 + 200 = \underline{\quad}$$

$$600 - 300 = \underline{\quad}$$

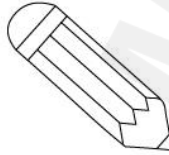
www.splashlearn.com
Also available on: 

Name: _____ Date: _____

$$\begin{array}{r} 143 \\ + 10 \\ \hline \end{array}$$



$$\begin{array}{r} 239 \\ + 10 \\ \hline \end{array}$$



$$\begin{array}{r} 629 \\ + 10 \\ \hline \end{array}$$

$$\begin{array}{r} 751 \\ + 10 \\ \hline \end{array}$$

$$\begin{array}{r} 246 \\ + 10 \\ \hline \end{array}$$

$$\begin{array}{r} 777 \\ + 10 \\ \hline \end{array}$$

$$\begin{array}{r} 677 \\ + 10 \\ \hline \end{array}$$

$$\begin{array}{r} 498 \\ + 10 \\ \hline \end{array}$$

$$\begin{array}{r} 801 \\ + 10 \\ \hline \end{array}$$

$$\begin{array}{r} 985 \\ + 10 \\ \hline \end{array}$$



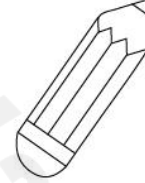
$$\begin{array}{r} 383 \\ + 10 \\ \hline \end{array}$$

$$\begin{array}{r} 554 \\ + 10 \\ \hline \end{array}$$

twistynoodle.com

Name: _____ Date: _____

$$\begin{array}{r} 143 \\ +100 \\ \hline \end{array}$$



$$\begin{array}{r} 230 \\ +100 \\ \hline \end{array}$$

$$\begin{array}{r} 629 \\ + 100 \\ \hline \end{array}$$

$$\begin{array}{r} 739 \\ + 100 \\ \hline \end{array}$$

$$\begin{array}{r} 246 \\ + 100 \\ \hline \end{array}$$

$$\begin{array}{r} 777 \\ + 100 \\ \hline \end{array}$$

$$\begin{array}{r} 664 \\ + 100 \\ \hline \end{array}$$

$$\begin{array}{r} 418 \\ + 100 \\ \hline \end{array}$$

$$\begin{array}{r} 811 \\ + 100 \\ \hline \end{array}$$

$$\begin{array}{r} 985 \\ + 100 \\ \hline \end{array}$$



$$\begin{array}{r} 343 \\ + 100 \\ \hline \end{array}$$

$$\begin{array}{r} 553 \\ + 100 \\ \hline \end{array}$$

twistynoodle.com

إعادة تجميع الآحاد
لإجراء عملية الجمع

Name _____ Addition - Regrouping

3-Digit Addition With Regrouping

Directions: Solve each addition problem using the regrouping strategy.

<table border="1" style="width: 100%; border-collapse: collapse;"> <thead> <tr> <th style="width: 33%;">HUNDREDS</th> <th style="width: 33%;">TENS</th> <th style="width: 33%;">ONES</th> </tr> </thead> <tbody> <tr> <td style="text-align: center;">2</td> <td style="text-align: center;">2</td> <td style="text-align: center;">5</td> </tr> <tr> <td style="text-align: center;">1</td> <td style="text-align: center;">6</td> <td style="text-align: center;">6</td> </tr> <tr> <td style="text-align: center;"> </td> <td style="text-align: center;"> </td> <td style="text-align: center;"> </td> </tr> </tbody> </table>	HUNDREDS	TENS	ONES	2	2	5	1	6	6				<table border="1" style="width: 100%; border-collapse: collapse;"> <thead> <tr> <th style="width: 33%;">HUNDREDS</th> <th style="width: 33%;">TENS</th> <th style="width: 33%;">ONES</th> </tr> </thead> <tbody> <tr> <td style="text-align: center;">6</td> <td style="text-align: center;">2</td> <td style="text-align: center;">7</td> </tr> <tr> <td style="text-align: center;"> </td> <td style="text-align: center;">5</td> <td style="text-align: center;">4</td> </tr> <tr> <td style="text-align: center;"> </td> <td style="text-align: center;"> </td> <td style="text-align: center;"> </td> </tr> </tbody> </table>	HUNDREDS	TENS	ONES	6	2	7		5	4			
HUNDREDS	TENS	ONES																							
2	2	5																							
1	6	6																							
HUNDREDS	TENS	ONES																							
6	2	7																							
	5	4																							
<table border="1" style="width: 100%; border-collapse: collapse;"> <thead> <tr> <th style="width: 33%;">HUNDREDS</th> <th style="width: 33%;">TENS</th> <th style="width: 33%;">ONES</th> </tr> </thead> <tbody> <tr> <td style="text-align: center;">7</td> <td style="text-align: center;">2</td> <td style="text-align: center;">8</td> </tr> <tr> <td style="text-align: center;"> </td> <td style="text-align: center;">8</td> <td style="text-align: center;">2</td> </tr> <tr> <td style="text-align: center;"> </td> <td style="text-align: center;"> </td> <td style="text-align: center;"> </td> </tr> </tbody> </table>	HUNDREDS	TENS	ONES	7	2	8		8	2				<table border="1" style="width: 100%; border-collapse: collapse;"> <thead> <tr> <th style="width: 33%;">HUNDREDS</th> <th style="width: 33%;">TENS</th> <th style="width: 33%;">ONES</th> </tr> </thead> <tbody> <tr> <td style="text-align: center;">3</td> <td style="text-align: center;">2</td> <td style="text-align: center;">9</td> </tr> <tr> <td style="text-align: center;">2</td> <td style="text-align: center;">4</td> <td style="text-align: center;">6</td> </tr> <tr> <td style="text-align: center;"> </td> <td style="text-align: center;"> </td> <td style="text-align: center;"> </td> </tr> </tbody> </table>	HUNDREDS	TENS	ONES	3	2	9	2	4	6			
HUNDREDS	TENS	ONES																							
7	2	8																							
	8	2																							
HUNDREDS	TENS	ONES																							
3	2	9																							
2	4	6																							
<table border="1" style="width: 100%; border-collapse: collapse;"> <thead> <tr> <th style="width: 33%;">HUNDREDS</th> <th style="width: 33%;">TENS</th> <th style="width: 33%;">ONES</th> </tr> </thead> <tbody> <tr> <td style="text-align: center;">4</td> <td style="text-align: center;">1</td> <td style="text-align: center;">7</td> </tr> <tr> <td style="text-align: center;">1</td> <td style="text-align: center;">2</td> <td style="text-align: center;">5</td> </tr> <tr> <td style="text-align: center;"> </td> <td style="text-align: center;"> </td> <td style="text-align: center;"> </td> </tr> </tbody> </table>	HUNDREDS	TENS	ONES	4	1	7	1	2	5				<table border="1" style="width: 100%; border-collapse: collapse;"> <thead> <tr> <th style="width: 33%;">HUNDREDS</th> <th style="width: 33%;">TENS</th> <th style="width: 33%;">ONES</th> </tr> </thead> <tbody> <tr> <td style="text-align: center;">5</td> <td style="text-align: center;">0</td> <td style="text-align: center;">8</td> </tr> <tr> <td style="text-align: center;"> </td> <td style="text-align: center;">2</td> <td style="text-align: center;">4</td> </tr> <tr> <td style="text-align: center;"> </td> <td style="text-align: center;"> </td> <td style="text-align: center;"> </td> </tr> </tbody> </table>	HUNDREDS	TENS	ONES	5	0	8		2	4			
HUNDREDS	TENS	ONES																							
4	1	7																							
1	2	5																							
HUNDREDS	TENS	ONES																							
5	0	8																							
	2	4																							

Regrouping

Name _____

Addition

$$\begin{array}{r} 546 \\ + 436 \\ \hline \end{array}$$

$$\begin{array}{r} 438 \\ + 522 \\ \hline \end{array}$$

$$\begin{array}{r} 312 \\ + 349 \\ \hline \end{array}$$

$$\begin{array}{r} 724 \\ + 137 \\ \hline \end{array}$$

$$\begin{array}{r} 239 \\ + 436 \\ \hline \end{array}$$

$$\begin{array}{r} 523 \\ + 267 \\ \hline \end{array}$$

$$\begin{array}{r} 155 \\ + 238 \\ \hline \end{array}$$

$$\begin{array}{r} 447 \\ + 327 \\ \hline \end{array}$$

$$\begin{array}{r} 262 \\ + 239 \\ \hline \end{array}$$

Name: _____

Addition With Regrouping

Add.

	hundreds	tens	ones
+	5	2	3
	1	2	8

	hundreds	tens	ones
+	4	6	5
	1	9	2

	hundreds	tens	ones
+	2	8	9
	2	0	4

	hundreds	tens	ones
+	3	4	3
	1	7	4

	hundreds	tens	ones
+	6	1	7
	2	8	

	hundreds	tens	ones
+	5	9	2
	3	2	

Name: _____

Date: _____



Add the numbers.

$$\begin{array}{r} 245 \\ + 258 \\ \hline \end{array}$$

$$\begin{array}{r} 394 \\ + 105 \\ \hline \end{array}$$

$$\begin{array}{r} 562 \\ + 291 \\ \hline \end{array}$$

$$\begin{array}{r} 296 \\ + 193 \\ \hline \end{array}$$

$$\begin{array}{r} 506 \\ + 384 \\ \hline \end{array}$$

$$\begin{array}{r} 588 \\ + 22 \\ \hline \end{array}$$

$$\begin{array}{r} 294 \\ + 294 \\ \hline \end{array}$$

$$\begin{array}{r} 569 \\ + 17 \\ \hline \end{array}$$

$$\begin{array}{r} 783 \\ + 211 \\ \hline \end{array}$$

$$\begin{array}{r} 677 \\ + 182 \\ \hline \end{array}$$

$$\begin{array}{r} 318 \\ + 27 \\ \hline \end{array}$$

$$\begin{array}{r} 258 \\ + 38 \\ \hline \end{array}$$

جمع الأعداد المكونة
من ثلاثة أرقام

Name _____

Addition

By Free4Classrooms.com

Find the sum (Regrouping).

$$\begin{array}{r} 126 \\ + 246 \\ \hline \end{array}$$

$$\begin{array}{r} 295 \\ + 127 \\ \hline \end{array}$$

$$\begin{array}{r} 449 \\ + 363 \\ \hline \end{array}$$

$$\begin{array}{r} 128 \\ + 194 \\ \hline \end{array}$$

$$\begin{array}{r} 434 \\ + 298 \\ \hline \end{array}$$

$$\begin{array}{r} 212 \\ + 419 \\ \hline \end{array}$$

$$\begin{array}{r} 627 \\ + 227 \\ \hline \end{array}$$

$$\begin{array}{r} 454 \\ + 57 \\ \hline \end{array}$$

$$\begin{array}{r} 257 \\ + 647 \\ \hline \end{array}$$

$$\begin{array}{r} 309 \\ + 495 \\ \hline \end{array}$$

$$\begin{array}{r} 583 \\ + 48 \\ \hline \end{array}$$

$$\begin{array}{r} 556 \\ + 54 \\ \hline \end{array}$$

$$\begin{array}{r} 284 \\ + 137 \\ \hline \end{array}$$

$$\begin{array}{r} 568 \\ + 132 \\ \hline \end{array}$$

$$\begin{array}{r} 352 \\ + 469 \\ \hline \end{array}$$

$$\begin{array}{r} 135 \\ + 175 \\ \hline \end{array}$$

Copyright © Free4Classrooms.com

Name _____

Addition

Find the sum (Regrouping).

$$\begin{array}{r} 453 \\ + 164 \\ \hline \end{array}$$

$$\begin{array}{r} 527 \\ + 185 \\ \hline \end{array}$$

$$\begin{array}{r} 358 \\ + 236 \\ \hline \end{array}$$

$$\begin{array}{r} 264 \\ + 174 \\ \hline \end{array}$$

$$\begin{array}{r} 589 \\ + 305 \\ \hline \end{array}$$

$$\begin{array}{r} 753 \\ + 248 \\ \hline \end{array}$$

$$\begin{array}{r} 247 \\ + 265 \\ \hline \end{array}$$

$$\begin{array}{r} 422 \\ + 396 \\ \hline \end{array}$$

$$\begin{array}{r} 356 \\ + 278 \\ \hline \end{array}$$

$$\begin{array}{r} 169 \\ + 164 \\ \hline \end{array}$$

$$\begin{array}{r} 680 \\ + 289 \\ \hline \end{array}$$

$$\begin{array}{r} 413 \\ + 469 \\ \hline \end{array}$$

$$\begin{array}{r} 602 \\ + 98 \\ \hline \end{array}$$

$$\begin{array}{r} 723 \\ + 86 \\ \hline \end{array}$$

$$\begin{array}{r} 558 \\ + 65 \\ \hline \end{array}$$

$$\begin{array}{r} 864 \\ + 97 \\ \hline \end{array}$$

Copyright © Free4Classrooms.com

إعادة كتابة مسألة جمع
الأعداد المكونة من ثلاثة
أرقام

أعد كتابة المسائل. اجمع.

$$237 + 592$$

$$654 + 286$$

$$743 + 163$$
