

تم تحميل هذا الملف من موقع المناهج الإماراتية



almanahj.com

موقع
المناهج الإماراتية

*للحصول على أوراق عمل لجميع الصفوف وجميع المواد اضغط هنا

<https://almanahj.com/ae>

* للحصول على أوراق عمل لجميع مواد الصف الثاني اضغط هنا

<https://almanahj.com/ae/2>

* للحصول على جميع أوراق الصف الثاني في مادة اجتماعيات وجميع الفصول, اضغط هنا

<https://almanahj.com/ae/2social>

* للحصول على أوراق عمل لجميع مواد الصف الثاني في مادة اجتماعيات الخاصة بـ الفصل الأول اضغط هنا

<https://almanahj.com/ae/2social1>

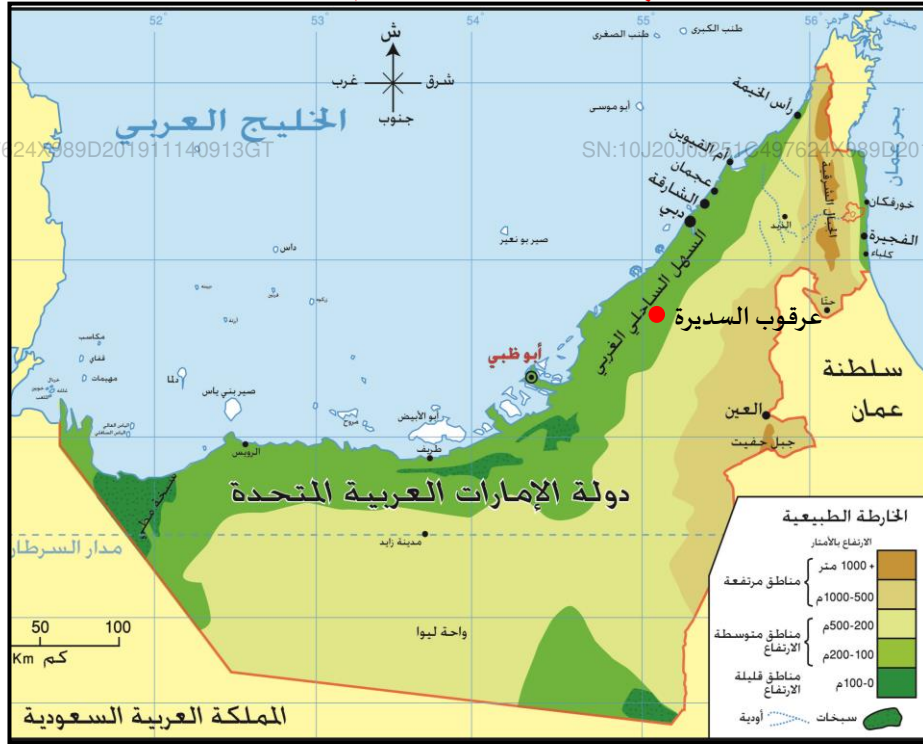
* لتحميل كتب جميع المواد في جميع الفصول للـ الصف الثاني اضغط هنا

<https://almanahj.com/ae/grade2>

للتحدث إلى بوت المناهج على تلغرام: اضغط هنا

https://t.me/almanahj_bot

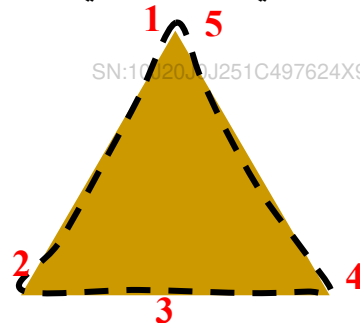
♦ اقرأ خريطة دولة الإمارات العربية المتحدة الآتية، ثم أجب:



1. اكتب اسم عاصمة دولة الإمارات العربية المتحدة
2. لماذا تتركز المدن على السواحل الغربية لدولة الإمارات العربية المتحدة؟

♦ ارسم دائرة حول الإجابة الصحيحة لكل عبارة مما يلي:

3. تشرف دولة الإمارات العربية المتحدة من جهة الشمال على:
 - a. بحر عُمان
 - b. الخليج العربي
 - c. البحر الأحمر
4. أقل أشكال التضاريس انتشاراً في دولة الإمارات:
 - a. السهول
 - b. الصحراء
 - c. الجبال
5. اجتمع الشيخ زايد آل نهيان والشيخ راشد آل مكتوم -رحمهما الله- في عرْقوب السديرة لتأسيس:
 - a. قيام الاتحاد
 - b. علم الإمارات
 - c. ميناء زايد
6. صل الأرقام المتسلسلة في الشكل الآتي، واكتب اسم المظهر التضاريسي الذي ستحصل عليه:

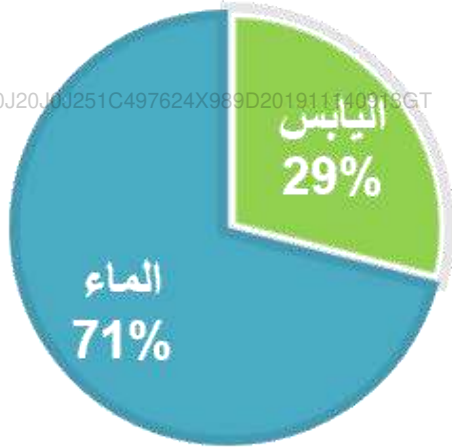


المظهر التضاريسي هو

تابع النموذج التدريبي للفصل الدراسي الأول لمادة الدراسات الاجتماعية والتربية الوطنية للصف الثاني للعام الدراسي 2020/2019م

♦ لاحظ الشكل الآتي، ثم ضع إشارة (✓) أمام العبارة الصحيحة وإشارة (×) أمام العبارة غير

الصحيحة في كل مما يلي:



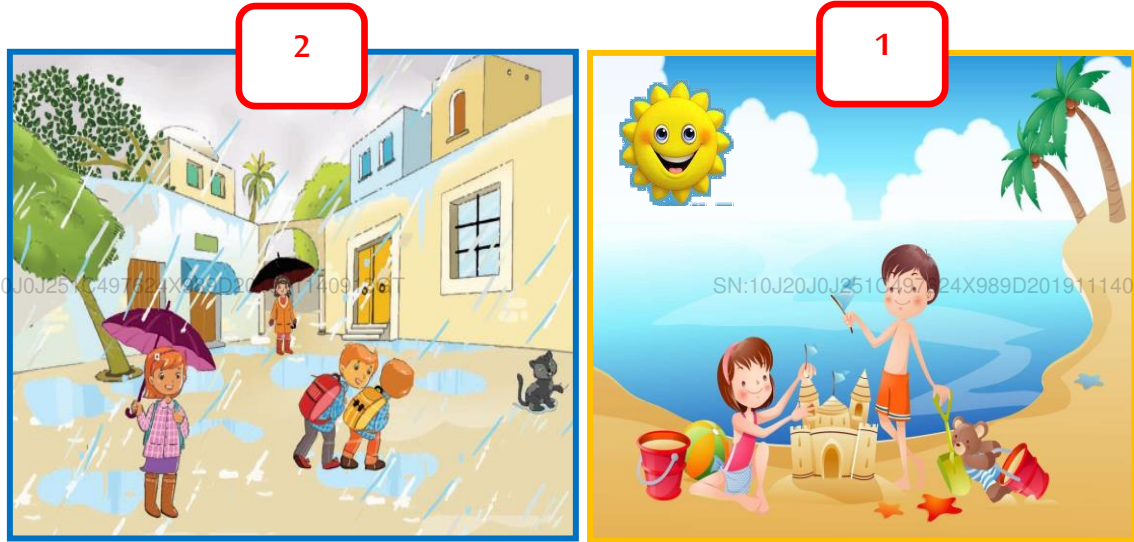
7. () نسبة اليابس أكبر من نسبة الماء.

8. () يتكون سطح الأرض من اليابس والماء.

9. () المياه العذبة من أقسام الغلاف المائي.

10. () جميع الكائنات الحية تحتاج إلى المياه.

♦ قارن بين الشكل رقم (1) والشكل رقم (2)، ثم أجب:



♦ ضع الكلمات التي بين القوسين في المكان المناسب من العبارات الآتية:

(الصيف - الأمطار - الشمس - الشتاء - الخريف)

11. يوضح الشكل (2) فصل

12. مصدر الضوء في الشكل (1) هو

13. نمارس رياضة السباحة في فصل

14. يستخدم الأطفال في الشكل (2) المظلة لحمايتهم من

تابع النموذج التدريبي للفصل الدراسي الأول لمادة الدراسات الاجتماعية والتربية الوطنية للصف الثاني للعام الدراسي 2020/2019م

♦ ارسم شكلاً بسيطاً يوضح المطلوب فيما يلي:

SN:10J20J0J251C497624X989D201911140913GT

15. عمل الأجداد بمهنة الغوص للحصول على:



♦ اكتب الحرف عند الكلمات الآتية في المربع المناسب من الأشكال التي توضح إنجازات بلادي الإمارات:

ج. مسبار الأمل

ب. عالم فيراري

أ. برج العرب



17. إنجازات عمرانية



16. إنجازات اقتصادية وسياحية

SN:10J20J0J251C497624X989D201911140913GT

SN:10J20J0J251C497624X989D201911140913GT

انتهت الأسئلة، دعواتنا لكم بالتوفيق والنجاح