

شكراً لتحميلك هذا الملف من موقع المناهج الإماراتية



حل وحدة الوقت بالساعة

[موقع المناهج](#) ← [المناهج الإماراتية](#) ← [الصف الثاني](#) ← [رياضيات](#) ← [الفصل الثالث](#) ← [الملف](#)

تاريخ نشر الملف على موقع المناهج: 2019-04-22 04:42:21

التواصل الاجتماعي بحسب الصف الثاني



روابط مواد الصف الثاني على تلغرام

[الرياضيات](#)

[اللغة الانجليزية](#)

[اللغة العربية](#)

[التربية الاسلامية](#)

المزيد من الملفات بحسب الصف الثاني والمادة رياضيات في الفصل الثالث

أسئلة الامتحان النهائي	1
أسئلة الاختبار القصير الأول	2
أوراق عمل درس الساعة ومقارنة الأطوال	3
ورقة عمل درس الوقت	4
أوراق عمل اعتمد على نفسي الدرس الأول الوقت بالساعة من الوحدة التاسعة	5

الاسم

الوقت بالساعة

الدرس 1

السؤال الأساسي

كيف نستخدم الوقت وأمره؟

الاستكشاف والشرح

الساعة 4

توجيهات المعلم: كتب الأعداد الناقصة على الساعة. استخدم ⌚ لتوضيح الوقت لكل ساعة. ارسد عقيرين على الساعة لتوضح الساعة 4. كتب الوقت.

الوحدة 9 الوقت

553-55

ممارسات في الرياضيات

الملاحظة والحساب

توضح الساعة الرقمية الساعة والدقائق على شاشة.



الساعة 3
الدقيقة

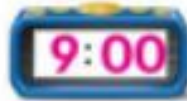
في الساعة التناظرية. يشير عقرب الساعات إلى الساعة وهو الأقصر.

يشير عقرب الدقائق إلى الدقيقة وهو الأطول.



استخدم 🕒. اذكر الوقت الظاهر أمامك. اكتب الوقت.

1.




الساعة 9

2.



الساعة 11

3.



الساعة 6

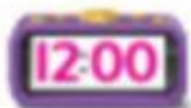
ما أوجه التشابه بين الساعة التناظرية وخط الأعداد؟

حديث في الرياضيات

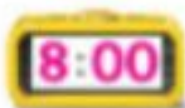
الاسم _____

أعتمد على نفسي


استخدم ⌚. اذكر الوقت الظاهر أمامك. اكتب الوقت.



12 الساعة

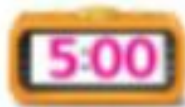



8 الساعة



1 الساعة

ارسم العقارب على الساعة. اكتب الوقت.



www.english4kids.com

ممارسات في الرياضيات

حل المسائل

ماما، عدت إلى المنزل!

وضّح الوقت على كل ساعة.

10. يصل مازن إلى المنزل في الساعة 3. ويصل يوسف إلى المنزل بعد ساعة واحدة. فما الوقت الذي يصل فيه يوسف إلى المنزل؟

11. يبدأ تمرين كرة السلة في الساعة 4:00. يأكل محمود وجبة خفيفة قبل ساعتين من التمرين. فما الوقت الذي يأكل فيه محمود الوجبة الخفيفة؟

12. إنها بعد الساعة 7 وقبل الساعة 9. فما الوقت إذا كان موجودًا تمامًا على الساعة؟ وضّح الوقت الظاهر على وجه الساعة التناظرية.

الكتابة في الرياضيات

ما الوقت عندما يكون عقرب الساعات على 5 وعقرب الدقائق على 12؟ كيف علمت ذلك؟

الإجابة النموذجية: الساعة 5؛ يخرّبنا عقرب الساعات بالساعة وعندما يكون عقرب الدقائق على 12، فإنها تكون الساعة بالضبط.

الدرس 1
الوقت بالساعة

واجباتي المنزلية

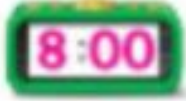
مساعد الواجب المنزلي

يمكنك معرفة وكتابة الوقت بالساعة.

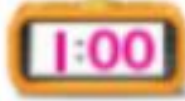


تمرين


اذكر الوقت الظاهر أمامك. اكتب الوقت.



8 الساعة



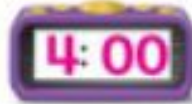
1 الساعة




7 الساعة

ارسم العقارب في كل ساعة. ثم اكتب الوقت.

4.00 .5



4. الساعة 2



6. الوقت على ساعة خالد هو 3 ساعات بعد 2:00. اكتب الوقت الموجود على ساعتك.

ساعة
خالد
الرائعة!

مراجعة المفردات

أكمل كلاً من العبارات التالية.

عقرب الساعات الساعة التناظرية عقرب الدقائق الساعة الرقمية

7. تمتلك الساعة التناظرية عقرباً للساعات وعقرباً للدقائق.
8. يشير عقرب الساعات إلى الساعة على الساعة التناظرية.
9. تستخدم الساعة الرقمية الأرقام على الشاشة لإظهار الوقت.
10. يشير عقرب الدقائق إلى الدقيقة على الساعة التناظرية.

الرياضيات في المنزل طوال اليوم الطيب من طبعك تنظر إلى ساعة تناظرية أو رقمية موضعها الوقت بالساعة وأحلب منهم إخبارك بالوقت.



الدرس 1 الوقت بالساعة

الوقت بالنصف ساعة

التمرين 2
المسألة الأساسية
تعد لتعلم الوقت بأجزاء

الاستكشاف والشرح

راجع عمل الطلاب.



وتاريخ

معلومات المعلم: اسم المادة: الوقت. عدد صفحات المذكرة: 9. ما الوقت الذي...
تعد من أوقات اليوم التي...

559-560 الوحدة 9 الوقت

الملاحظة والحساب

ممارسات في الرياضيات

إرشاد مفيد

يتحرك عقرب الساعات
من منتصف الساعة إلى العدة
التالي عندما تمر نصف
ساعة.

يمكنك معرفة الوقت بالنصف ساعة.
نصف ساعة يساوي 30 دقيقة.
بين الساعتان أن الساعة **2 ونصف**.




الساعة 2:30

يشير عقرب الساعة ما بين 2 و 3، بينما يشير
عقرب الدقائق إلى 6.

استخدم 🕒 . اذكر الوقت الظاهر أمامك. اكتب الوقت.

<p>1. </p> <p></p> <p>9 ونصف</p>	<p>2. </p> <p></p> <p>1 ونصف</p>	<p>3. </p> <p></p> <p>6 ونصف</p>
---------------------------------------------------------------------------------------------------------------------------------------------------------------------------------------------------------------	---------------------------------------------------------------------------------------------------------------------------------------------------------------------------------------------------------------	-------------------------------------------------------------------------------------------------------------------------------------------------------------------------------------------------------------------

حديث في الرياضيات

الساعة 8 ونصف. بين معنى
نصف ساعة.

الاسم _____

أعتد على نفسي

استخدم 🕒. اذكر الوقت الظاهر أمامك. واكتب.



10:30

10 ونصفاً



5:30

5 ونصفاً



11:30

11 ونصفاً

ارسم العقارب في كل ساعة. اكتب الوقت.

9. 6 ونصفاً



6:30

8. 7 ونصفاً



7:30

7. 4 ونصفاً



4:30

جميع الحقوق محفوظة © 2016

جميع الحقوق محفوظة © 2016

ممارسات في الرياضيات



حل المسائل



10. يستيقظ علي الساعة 7 ونصف. ويتفهي أن يغادر إلى المدرسة بعدها بساعة، يتن الوقت حين يتفهي أن يغادر علي إلى المدرسة والكنيه.

استخدم الساعات الموضحة.



بدء اليوم الدراسي تدريب كرة القدم ينطلق المنبه

ماذا يحدث عند كل وقت من تلك الأوقات؟

المنبه ينطلق

6:30

تدريب كرة القدم

3:30

بدء اليوم الدراسي

8:30

كيف تختلف قراءة الساعة الرقمية عن قراءة الساعة التناظرية؟ اشرح.

الكتابة في الرياضيات

الإجابة النموذجية: عندما نقرأ ساعة تناظرية، يجب أن ننظر إلى

عقرب الساعات وعقرب الدقائق لتحديد الوقت. وعندما تستخدم

الساعة الرقمية، ننظر فقط إلى الأرقام على الشاشة.

الدرس 2 الوقت بالنصف ساعة

الدرس 2
الوقت بالنصف ساعة

واجباتي المنزلية

مساعد الواجب المنزلي

يمكنك معرفة وكتابة الوقت بالنصف ساعة.

عقرب الساعات



دقائق بعد الساعة ساعة

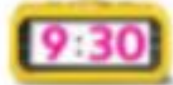


عقرب الدقائق

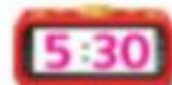
الساعة 3 ونصف أو 3:30.

تمرين

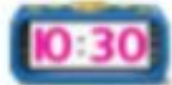
اذكر الوقت الظاهر أمامك. واكتبه.



10 ونصف



5 ونصف



9 ونصف

ارسم العقارب في كل ساعة. اكتب الوقت.

4. الواحدة ونصف



5. ١١ ونصف



6. ستذهب أماني إلى المدينة مع عائلتها. وسيقادرون بعد رجوعها من المدرسة بساعة. تعود أماني من المدرسة في الساعة 3:30. فكم ستكون الساعة عندما يقادرون؟



مراجعة المفردات

بين الوقت بعد مرور نصف ساعة باستخدام الساعة الثانية.

7.



الرياضيات في المنزل من لفطك الوقت بالساعة وانظف مع أن يشارك مجموعتك الساعة بعد مرور نصف ساعة من ذلك الوقت أو بعد أن تمر نصف ساعة.



الاسم: _____

حل المسائل:

الإسراع الجيد إيماناً بـ

التمرين 3

السؤال الثاني

عدد الساعات التي باسما؟

←

التيير كيب
الجميع!

تعتبر الحافلات بانتظار كل نصف ساعة

تعتبر الحافلة رقم 1 في الساعة 9:30

وتعتبر الحافلة رقم 2 في الساعة 10:00

ما وقت مغادرة الحافلتين رقم 3 و 4

1 الفهم

ضع خطاً تحت ما تعرفه.
و اكتب حول ما عليك إيماناً.

1

2 التخطيط

كيف سأحل المسألة؟

2

3 الحل

إيماناً بـ

10:30 11:00

9:30 . 10:00 .

الحافلة 1 الحافلة 2 الحافلة 3 الحافلة 4

3

4 التحقق

هل إجابتي صحيحة؟

4

565-566 الوحدة 9 الوقت



تمرين على الإستراتيجية

يحصل كل صف دراسي على استراحة مدتها 30 دقيقة بالتوالي. كل الصف الأول يحصل على الاستراحة في الساعة 1:00. متى يحصل الصف الرابع على الاستراحة؟

1 **الفهم** ضع خطاً تحت ما تعرفه. و **خوذة** حول ما عليك إيجاد.

2 **التخطيط** كيف سأمّل المسألة؟

3 **الحل** سأقوم بـ...
إيجاد **نقط**.

<u>1:00</u>	<u>1:30</u>	<u>2:00</u>	<u>2:30</u>
الصف 1	الصف 2	الصف 3	الصف 4

يبدأ الصف الرابع في الساعة 2:30.

4 **التحقق** هل إجابتي صحيحة؟ الشرح.
راجع **تفسيرات الطلاب**.





4_5791974...




ممارسات في
الرياضيات

الاسم _____

تطبيق الإستراتيجية

أوجد نمطاً للحل. استخدم المساحة المتوفرة.

1. يغير طلاب المعلمة من الأنشطة كل ساعة في الصباح. فتبدأ القراءة في الساعة 8:30. ثم يقومون بثلاثة أنشطة أخرى. فمتى يبدأ كل نشاط منها؟

8:30, 9:30, 10:30, 11:30

2. يبدأ الطلاب العمل في أنشطة التعليم في الساعة 10:30. ويحصلون على الاستراحة بعد ذلك بساعتين. فما وقت بدء استراحة الطلاب؟

12:30

3. يغير طلاب المعلمة من الأنشطة كل ساعة بعد الظهر. فتبدأ الرياضيات في الساعة 1:00. وتبدأ الكتابة بعد الرياضيات. ما وقت بدء الكتابة؟

1:30

مراجعة الإستراتيجيات

اختيار إستراتيجية

- إيجاد خط.
- تشكيلها بنفسك.
- رسم صورة.

4. تمتلك سهى 8 أزواج من الأحذية. وتضع عدداً متساوياً من الأحذية في حقيبتين، فكم حذاء ستضع في كل حقيبة؟



4 أحذية

5. تتكلف البطاقة البريدية 45 فلساً. يريد ماجد شراء بطاقتين بريديتين. وكان معه عملتان فئة ربع درهم، وعملتان فئة عشرة فلسات، و 3 عملات فئة 5 فلسات. فكم لديه من المال؟



85 فلساً

وكم عدد الفلصات التي يحتاجها لبشترى البطاقتين البريديتين؟

5 فلسات

6. يصل قطار مترو الأنفاق إلى المحطة على رأس الساعة وعند منتصفها. والساعة الآن 4:30. أسرة هنا في طريقها للمحطة ولكنها ستستغرق ساعة. ما أبكر وقت يمكن للأسرة هنا فيه ركوب قطار مترو الأنفاق؟

5:30

الدرس 3

حل المسائل، إيجاد نمط

واجباتي المنزلية



ستزور عائلة هدى صديقتها وسيستغرق الأمر منهم أربع ساعات للوصول إلى هناك. سيقدرون في الساعة 10:30. فما الوقت الذي يصلون فيه إلى منزل الجدة؟

1 الفهم ضع خطًا تحت ما تعرفه. وحوط حول ما عليك إيجاده.

2 التخطيط كيف سأحل المسألة؟

3 الحل إيجاد نمط.

10:30 11:30 12:30 1:30 2:30

ساعة واحدة ساعة واحدة ساعة واحدة ساعة واحدة ساعة واحدة سيصلون في الساعة 2:30.

4 التحقق هل إجابتي صحيحة؟

حل المسائل



ضع خطاً تحت ما تعرفه. و حوِّط حول ما عليك إيجاده. أوجد نمطاً للحل.

1. هناك طائرة واحدة تقادر من المدينة إلى منتجع التزلج كل ساعة. تقادر الطائرة الأولى في الساعة 10:00. تقادر الطائرة الأخيرة في الساعة 4:00 كم عدد الطائرات التي تطير إلى المنتجع كل يوم؟



7 طائرات

2. وصل صف السيد سالم إلى حديقة الحيوان في الساعة 9:30 وقابلوا حارس الحديقة بعد 30 دقيقة. وبعد 30 دقيقة أخرى. رأوا طيور البطريق. فما الوقت الذي رأوا فيه طيور البطريق؟

10:30

3. تريد عائلة منصور أخذ جولة في حافلة سياحية. وتقادر هذه الحافلة محطة الحافلات كل نصف ساعة. الساعة 1:00. الآن وقد فاتتهم الحافلة للتو. فما أوقات وصول الحافلتين القادمتين؟

1:30 2:00

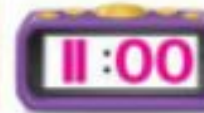


ارسم العقارب في كل ساعة. اكتب الوقت.

9. 8 ونصف



10. الساعة 11



11. الواحدة ونصف




اكتب الوقت.

13.



1 الساعة

12.



7 ونصف

14. لدى سعيد ثلاثة صفوف على التوالي. مدة كل صف ساعتين. يأتي موعد الصف الأول لسعيد في الساعة 7:00. فمتى ينتهي الصف الأخير لسعيد؟

1:00

تمرين على الاختبار

15. يذق جرس الصف الدراسي كل 30 دقيقة. يذق الجرس الأول في الساعة 8:30. فما الوقت الذي سيدق فيه الجرس 4؟

10:30



10:00



11:30



9:30



التحقق من تقدمي

مراجعة المفردات

أكمل كلاً من العبارات التالية.

دقيقة الساعة التناظرية ساعة


الساعة الرقمية نصف ساعة

1. 60 دقيقة هي _____ ساعة واحدة.
2. 30 دقيقة هي _____ نصف ساعة واحدة.
3. 60 ثانية هي _____ دقيقة واحدة.
4. _____ الساعة الرقمية لا تستخدم إلا الأعداد لإظهار الوقت.
5. _____ الساعة التناظرية تمتلك عقرب ساعات وعقرب دقائق لإظهار الوقت.

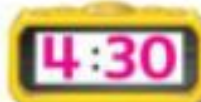
مراجعة المفاهيم

أذكر الوقت الظاهر أمامك. اكتب الوقت.

6.



7.



8.



↓
ممارسات في الرياضيات

الملاحظة والحساب

يمكنك معرفة الوقت بربع الساعة. هناك 15 دقيقة في ربع الساعة. وهناك 4 أرباع ساعة في الساعة.

الساعة الواحدة الواحدة وربع الواحدة ونصف الثانية إلا ربع



استخدم 🕒. اذكر الوقت الظاهر أمامك. اكتب الوقت.



حديث في الرياضيات
عندما تكون الساعة 4:15، أين سيكون عقرب الدقائق؟ اشرح.

أعتد على نفسي

استخدم ⌚. اذكر الوقت الظاهر أمامك. اكتب الوقت.

4.



5.



6.



ارسم العقارب في كل ساعة. اكتب الوقت.

7. 2 إلى أربع



8. 5 إلى سبع

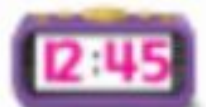
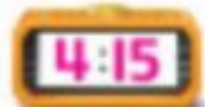


9. 12 إلى أربع



اقرأ الوقت. اكتب الوقت الظاهر على الساعة الرقمية.

10. الثانية عشرة وخمس وأربعون دقيقة | 11. الرابعة وخمس عشرة دقيقة | 12. التاسعة وثلاثون دقيقة



ممارسات في الرياضيات

حل المسائل



43. هالة في المدرسة. وينتهي اليوم الدراسي في الساعة 3:15. ولكن كان عليها الانتظار 3 ساعات إضافية. فكم الساعة الآن؟

12:15

44. يذهب فالح إلى بيت صديقه في الساعة 2:15. ضع دائرة حول الساعة التي توضح هذا الوقت.



45. ذهبت أسرة نورا في زهرة. غادروا في الساعة 9:45. ولقدوا السيارة لمدة 3 ساعات. وتوقفوا بعد ذلك لتناول العشاء. واستغرق ذلك ساعة واحدة. فمتى انتهوا من تناول العشاء؟

1:45

مسألة مهارات التفكير العليا لو نطلق على كل فترة 15 دقيقة في الساعة اسم ربع ساعة؟

الإجابة النموذجية: ربع الشيء هو جزء من أجزائه الأربعة. ويوجد أربع

فترات مدتها 15 دقيقة في الساعة الواحدة. لذا فكل فترة مدتها

15 دقيقة هي ربع ساعة.

الدرس 4 الوقت بالربع ساعة

ممارسات في الرياضيات

حل المسائل



33. هالة في المدرسة. وينتهي اليوم الدراسي في الساعة 3:15. ولكن كان عليها الانتظار 3 ساعات إضافية. فكم الساعة الآن؟

12:15

34. ذهب فالح إلى بيت صديقه في الساعة 2:15. ضح دائرة حول الساعة التي توضح هذا الوقت.



35. ذهبت أسرة نورا في زرع. غادروا في الساعة 9:45. وقادوا السيارة لمدة 3 ساعات. وتوقفوا بعد ذلك لتناول الغداء. واستغرق ذلك ساعة واحدة. فمتى انتهوا من تناول الغداء؟



اتبعني!

1:45

مسألة مهارات التفكير العليا لم يطلق على كل فترة 15 دقيقة في الساعة اسم ربع ساعة؟

الإجابة النموذجية: ربع الشيء هو جزء من أجزاء الأربعة. ويوجد أربع

فترات مدتها 15 دقيقة في الساعة الواحدة. لذا فكل فترة مدتها

15 دقيقة هي ربع ساعة.

الدرس 4 الوقت بالربع ساعة

الدرس 4

الوقت بالربع ساعة

واجباتي المنزلية

مساعد الواجب المنزلي

يمكنك معرفة الوقت بالربع ساعة.

8 وربع



8 ونصف



9 وإلا ربع



تمرين

استخدم 🕒. اذكر الوقت الظاهر أمامك. وكتبه.

1.



2.




3.



ارسم العقارب في كل ساعة. اكتب الوقت.

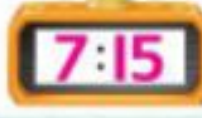
4. 6 وربع



5. 3 إلا ربع



6. 7 وربع



7. ذهبت نجاد إلى المدرسة في الساعة 8:15. وغادرت المدرسة في الساعة 2:45. إذا وصلت المدرسة في الساعة 8:45. فكم عدد الساعات التي قضتها في المدرسة؟



6 ساعات

مراجعة المفردات

8. ضع دائرة حول الساعة التي تظهر مثالاً على ربع ساعة.



الدرس 5
السؤال الأساسي
كيف استخدم الوقت بأمره؟

الوقت بمعدل خمس دقائق

الاستكشاف والشرح

5
10
15
20
25
30
35
40

5:40

الوقت ربط أشرطة الأمان، واستخدم الساعة خلال 5 دقائق!

توجهات المعلمة: يجب أن يحدد المعلم المصطلح
والرموز التي تظهر في 10 و 15 وما إلى ذلك.
ليس من المهم أن يكتب المعلم التهجئة على الساعة التمهيد.

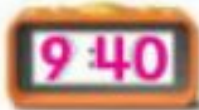
**ممارسات
في الرياضيات**

الملاحظة والحساب

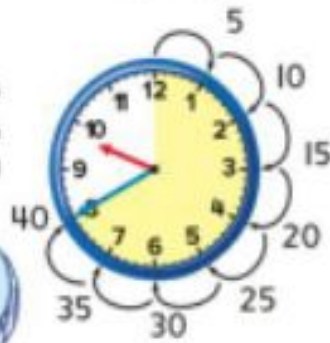
يستغرق عقرب الدقائق 5 دقائق لينتقل إلى الرقم التالي. يمكنك العد بالخمسة لتعرف الوقت.

40


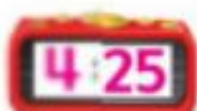
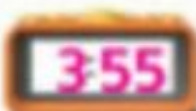
تبين هذه الساعة مرور دقيقة بعد الساعة 9. اكتب الوقت بطريقة أخرى.



إرشاد مفيد
شغل كل علامة على الساعة دقيقة واحدة.



اذكر الوقت التوضيح أمامك. استخدم 🕒 لتساعدك. اكتب الوقت.



اذكر الوقت التوضيح أمامك. ارسم عقرب الدقائق لتبين الوقت.

أشرح كيف يمكنك العد بالخمسة لتعرف الوقت.

**حديث في
الرياضيات**

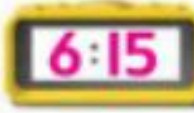
أعتمد على نفسي

اذكر الوقت الموضَّح أمامك. استخدم 🕒 لتساعدك. اكتب الوقت.

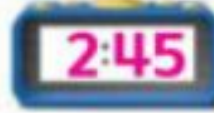
5.



6.



7.




اذكر الوقت الموضَّح أمامك. ارسم العقارب لتبين الوقت.


8.



9.



10.



11. 2:20



12. 8:45



13. 1:25



ممارسات في
الرياضيات

حل المسائل

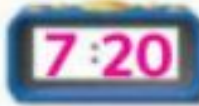


14. إذا اقترب عقرب الساعات من 11
وأشار عقرب الدقائق إلى 10، فما الوقت الآن؟

10:50



15. يركب مجموعة من الأشخاص عربة الملاهي
كل 5 دقائق، والساعة الآن 3:00. وتوجد
7 مجموعات من الأشخاص قبل لميس
وعائلتها، كم ستكون الساعة عندما
تركب عائلة لميس العربة؟



16. تستغرق مشاهدة العرض التمهيدي
للفيلم 20 دقيقة. إذا كان العرض
التمهيدي يبدأ في الساعة 7.
فمتى سيبدأ عرض الفيلم؟

ما الوقت عندما يكون عقرب الساعات
بين 5 و 6 وعقرب الدقائق على 7؟ اشرح.

الكتابة في
الرياضيات

الإجابة النموذجية الساعة 5:35. الساعة بعد 5:00 لأن عقرب

الساعات يوجد بين 5 و 6. لقد عددت بالخمسة ووجدت أن الساعة

هي 5:35.

الدرس 5 الوقت بمعدل خمس دقا

الدرس 5

الوقت بمعدل
خمس دقائق

واجباتي المنزلية

مساعد الواجب المنزلي

يستغرق عطر الدقائق 5 دقائق لينتقل إلى
الرقم التالي.
عد بالخمس دقائق لتذكر الوقت.
بين هذه الساعة أن الساعة 4 و 35 دقيقة.
وهذه هي طريقة أخرى لبيان الوقت.



4:35

تمرين

اقرأ الوقت. اكتب الوقت.



5:45



6:40



7:55

اذكر الوقت الموضح أمامك. ارسم عقرب الدقائق لتبين الوقت.


4.



5.



6.



7. الساعة 1:00. ينتظر سلطان وصول عامر. قال عامر إنه سيلتقي سلطان خلال 25 دقيقة. ولكنه وصل متأخراً 5 دقائق. كم كانت الساعة عندما تقابل عامر وسلطان؟



تمرين على الاختبار

8. يغادر القطار الساعة 10:40. أي ساعة تبين أن الساعة 10:40؟



الرياضيات في المنزل اطلب من طفلك النظر إلى ساعة نظريه واختارك كم الساعة وأطلب منه إختيار كم ستكون الساعة بعد 5 دقائق. وبعد 10 دقائق. وبعد 25 دقيقة. وبعد 50 دقيقة.



الملاحظات والحساب

ممارسات في الرياضيات

إرشاد مفيد

الساعة 12:00 PM هي الظهيرة.
والساعة 12:00 AM هي منتصف الليل.

يُرمز للساعات من منتصف الليل حتى الظهيرة بالرمز **AM**. بينما يُرمز للساعات من الظهيرة إلى منتصف الليل بالرمز **PM**.

اقرأ قصة قبل النوم



8:00 PM



8:00 AM

أذهب للمدرسة

اذكر الوقت الموضح للنشاط. واكتبه. وضع دائرة حول AM أو PM.

3. اللعب بعد المدرسة



2. الذهاب للنوم



1. درس رسم



كيف يمكنك تذكر إذا كانت الساعة AM أم PM؟

حديث في الرياضيات

↓
ممارسات في الرياضيات

حل المسائل 🌐

12. لدى بدر تدريب كرة في الساعة 4:00. فهل سيكون التدريب في الساعة 4:00 AM أم 4:00 PM؟

PM



AM

13. الساعة 2:25، ستذهب رنا إلى المكتبة خلال ساعة. بين على الساعة وقت ذهابها إلى المكتبة. وضع دائرة حول AM أو PM

14. الساعة 3:00 AM. هل هذا وقت عودتك من المدرسة للمنزل أم ستكون نائماً في السرير؟

نائم

شريد ربهام الذهاب إلى حفل الغداء الذي تقيمه صديقتها أسماء. تقول الدعوى إن حفل الغداء سيبدأ في الساعة 1:30 AM. وهذا خطأ. ما الخطأ في الدعوى؟

الكتابة في الرياضيات

الإجابة النموذجية: ينبغي أن تكون الساعة 1:30 PM.

فإذا كانت الساعة 1:30 AM، فينبغي أن يكون هذا بعد

منتصف الليل.

واجباتي المنزلية

الدرس 6
PM و AM

مساعد الواجب المنزلي

إرشاد مفيد

الساعة PM 12:00 هي الظهر
والساعة AM 12:00 هي
منتصف الليلترمز للساعات من منتصف الليل حتى
الظهيرة بالرمز AM، وترمز للساعات من
الظهيرة إلى منتصف الليل بالرمز PM.

انظر إلى الخبر



9:00 PM

الاستيقاظ



9:00 AM

اذكر الوقت الموضح للنشاط، وكتبه. وضع دائرة حول AM أو PM.

3. ترتيب العرائل

AM
PM

7:45

2. لعب البولنج

AM
PM

1:15

1. الذهاب إلى المتجر

AM
PM

11:15

أعتمد على نفسي

اذكر الوقت الموضح للنشاط. واكتبه وضع دائرة حول AM أو PM.

6. السياحة



5. تنظيف الحضانة



4. تناول الإفطار



اذكر الوقت الموضح للنشاط. ارسم العقارب على الساعة لتوضح الساعة. وضع دائرة حول AM أو PM.

9. تناول العشاء



8. نائم في السرير



7. تدريب كرة القدم



أكمل كل عبارة. اكتب منتصف الليل أو الظهيرة.

منتصف الليل الظهيرة

10. عند منتصف الليل أكون نائما عادة.

11. في الظهيرة قد أتناول غدائي.


اذكر الوقت الموضح للنشاط. ارسـم العقارب على الساعة. وضع دائرة حول AM أو PM.

6. التسوق




AM
PM

5. اللعب بالطائرة الورقية



AM
PM

4. صباح الديكة



AM
PM

7. ذهب أحمد وجاسم إلى معرض المدينة مع والدي جاسم. ووصلوا هناك في الساعة 10:00 AM وظلوا هناك لمدة 4 ساعات ونصف ساعة. فهل عادوا للمنزل في الصباح أم في المساء؟

م

هيا، جان موعد الاستيقاظ!



مراجعة المفردات

أكمل كلاً من العبارات التالية.

AM

PM

8. لدى بلال درس رسم في الساعة 4:30 PM
9. يتناول جمال العشاء في الساعة 5:30 PM
10. تناولت منال الإفطار في الساعة 6:00 AM

الرياضيات في المنزل أسأل طفلك عدة مرات خلال الـ 24 ساعة القادمة عن الساعة. وهل هي ساعة أم مساءً.



الاسم

العلاقات الزمنية

الدرس 7



السؤال الأساسي
كيف نستخدم الوقت بأمرنا؟

الاستكشاف والشرح

3. التسوق لشراء
أغراض البقالة



ساعات

أيام

2. غسل الوجه



ثوانٍ

دقائق

1. الانضمام لصديق



ثوانٍ

ساعة

نوصيكم بالمشاهدة حول الوحدة الأصلية لغرض الوقت لكل حدث.



الوحدة 9 الوقت

591-592

28/12/2016 04:45

ممارسات في الرياضيات

الملاحظة والحساب

اختر الوحدات الأفضل لقياس الوقت.

العلاقات الزمنية	
دقيقة واحدة = 60 ثانية	
ساعة واحدة = 60 دقيقة	
يوم واحد = 24 ساعة	
أسبوع واحد = 7 أيام	
شهر واحد = حوالي 4 أسابيع	
عام واحد = 12 شهرا أو 52 أسبوعا	

1. حوِّط حول الوحدة الأفضل لقياس الوقت لكل حدث.
لتنظيف الأنف من المخاط بالمندبل
ثوان
ساعات

2. حوِّط حول الوحدة الأفضل لقياس الوقت لكل حدث.
للاستعداد للمدرسة
ثوان
دقائق

أعتمد على نفسي

حوط حول الوحدة الأفضل لقياس الوقت لكل حدث.

4. لإنهاء الصف الثاني



أشهر
أيام

3. لغسل الأطباق



ساعات
دقائق

6. لبناء بيت الشجرة



يوم
شهر

5. للذهاب إلى المتجر



أسابيع
ساعات

8. لشحذ القلم الرصاص



ثواني
ساعات

7. لتناول طعام الغداء



ساعات
دقائق

ممارسات في الرياضيات

حل المسائل



استخدم إستراتيجية حل المسائل لحل المسائل. اكتب الإجابة.

9. ذهبت خديجة إلى الشاطئ مع عائلتها لمدة 4 أسابيع. كم عدد الأيام التي قضتها خديجة على الشاطئ؟

28

يوماً _____

10. كم عمرك لأقرب عام وشهر ويوم؟

راجع إجابة الطلاب. يوفنا

11. عاش عمر في لندن مع أسرته لمدة عامين. كم عدد الأسابيع التي عاشها في لندن؟

104

أسابيع _____

واجباتي المنزلية

مساعد الواجب المنزلي

اختر الوحدات الأفضل لقياس الوقت.

العلاقات الزمنية	
دقيقة واحدة =	60 ثانية
ساعة واحدة =	60 دقيقة
يوم واحد =	24 ساعة
أسبوع واحد =	7 أيام
شهر واحد =	حوالي 4 أسابيع
عام واحد =	12 شهرا أو 52 أسبوعا

1. حوِّط حول الوحدة الأفضل لقياس الوقت لكل حدث.
للعب مع القط
دقائق
أيام

2. حوِّط حول الوحدة الأفضل لقياس الوقت لكل حدث.



لبناء منزل

ثوانٍ

عام

→ 4_5791974... 🔍 🏠 ⋮

حوظ حول الوحدة الأفضل لقياس الوقت لكل حدث.
3. ركوب الزورق



1 ثانية | 1 دقيقة | 1 ساعة

4. اقرأ الوقت. حوظ حول الساعة الصحيحة.

9:00



5. يسافر صالح في عطلة لزيارة عمته وعمه.
وسيتظل لمدة شهر واحد. فكم المدة التي سيسافرها صالح تقريباً؟

30 يوماً

6. كتب أسامة الأعداد التالية. استمر في استخدام النمط. ما العدد الذي سيكون رقم 19 في هذا النمط؟

3, 6, 9, 12, 15, 18, ... 42

الدرس 8
 السؤال الأساسي
 كيف نستعمل الوقت بأمرنا؟

استخدام التقويم

الاستكشاف والشرح

بين التقويم الأيام والأسابيع والشهور في العام

يونيو						
الجمعة	الجمعة	الجمعة	الأربعاء	الثلاثاء	الاثنين	الأحد
4	3	2	1			
11	10	9	8	7	6	5
18	17	16	15	14	13	12
	24	23	22	21	20	19
		30	29	28	27	26

توضيات المثلث: أشر إلى الشهر في هذا التقويم حدد اسم الشهر، وحدد اسم الشهر الذي يليه. أوجد الشهر الذي يليه. أوجد اليوم الذي يليه. أوجد اليوم الذي يسبقه.

59-597 الوحدة 9 الوقت


ممارسات في الرياضيات

الملاحظة والحساب

بين التقويم الأيام والأسابيع والشهور في العام.

استخدم التقويم للإجابة عن الأسئلة.

يونيو						
السبت	الجمعة	الخميس	الأربعاء	الثلاثاء	الاثنين	الأحد
4	3	2	1			
11	10	9	8	7	6	5
18	17	16	15	14	13	12
	24	23	22	21	20	19
		30	29	28	27	26



1. اليوم هو الخميس، 9 يونيو.
أوجد التاريخ قبل أسبوع واحد، الخميس، 2 يونيو

استخدم التقويم للإجابة عن الأسئلة.

2. غدا هو الاثنين، 13 يونيو.
أوجد التاريخ بعد أسبوعين منذ ذلك الحين، الاثنين، 27 يونيو

3. ما تاريخ السبت الثالث في شهر يونيو؟ الاثنين، 27 يونيو