

تم تحميل هذا الملف من موقع المناهج الإماراتية



الملف أوراق عمل مراجعة شاملة للفصل الثاني

[موقع المناهج](#) ← [المناهج الإماراتية](#) ← [الصف الثاني](#) ← [علوم](#) ← [الفصل الثاني](#)

روابط مواقع التواصل الاجتماعي بحسب الصف الثاني



روابط مواد الصف الثاني على تلغرام

[الرياضيات](#)

[اللغة الانجليزية](#)

[اللغة العربية](#)

[التربية الاسلامية](#)

المزيد من الملفات بحسب الصف الثاني والمادة علوم في الفصل الثاني

كل ما يخص الاختبار التكويني لمادة العلوم للصف الثاني يوم الثلاثاء 11/2/2020	1
أسئلة الامتحان التكويني الأول	2
إجابة الوحدة التاسعة الموارد الأرضية	3
الفصل الثاني التوزيع الزمني 2017	4
الخطة الفصلية	5

مراجعة مادة العلوم

أختر الإجابة الصحيحة:

1. . تسمى القطع الكبيرة من اليابسة الموجودة على سطح الأرض بـ _____

أ. قارة ب . جزيرة ج . محيط

2. . يوجد _____ قارات على سطح الأرض .

أ. 10 ب . 8 ج . 7

3. . معظم سطح الأرض مغطى بـ _____ .

أ. اليابسة ب . الماء ج . الجزيرة

4. . قطع صغيرة من اليابسة محاطة بالماء من جميع الاتجاهات .



ج . بحيرة



ب . المحيط



أ. الجزيرة

5. تغطي المحيطات حوالي _____ سطح الأرض .

أ. ربع ب . ثلاثة ارباع ج . أربعة ارباع

6. ماء يحتوي على نسبة قليلة من الملح أو لا يحتوي على الملح .

أ. محيط ب . ماء مالح ج . ماء عذب

7. . مسطح كبير جدا من الماء المالح .



ج . بحيرة



ب . المحيط



أ . الجزيرة

8. . مسطح مائي تحيط به اليابسة من جميع الاتجاهات.



ج . بحيرة




ب . المحيط



أ . الجزيرة


9. . يطلق على الماء المتحرك الذي يصب في بحيرة أو المحيط .



ج . وادي




ب . نهر



أ . جبل


10. . ارض مرتفعة عن ما يجاورها .



ج . وادي



ب . نهر



أ . جبل


11. ارض منخفضة بين جبلين .



ج . وادي



ب . نهر



أ . جبل


12. الارض المستوية التي تمتد عبر مساحات واسعة.



ج . وادي



ب . سهول



أ . جبل

13. مسطح كبير جدا من الماء المالح .



ج . بحيرة



ب . المحيط



أ . الجزيرة

14. أي مما يلي لا يحتوي على ماء عذب



ج . بحيرة



ب . المحيط



أ . الجزيرة

15. تعمل جذور النباتات على تشقق و تفتت الصخر .
ويسمى ذلك ب .



ج . الترسيب

ب . التعرية

أ . التجوية

16. تغير و تفتت شكل و حجم الصخور .

أ. التجوية ب. التعرية ج. الترسيب

17. هو تجمع الصخر الذي تعرض لعوامل التجوية في أماكن بعيدة عن مكان تفتتها .

أ. التجوية ب. التعرية ج. الترسيب

18. عندما تحمل الرياح أو الماء أجزاء من الصخر و التربة إلى مكان جديد يسمى بـ.

أ. التجوية ب. التعرية ج. الترسيب

19. حوط الكائن الحي .



ج .



ب .



أ .

20. حوط الشيء الغير حي .



ج .



ب .



أ .

21. حوط المادة المصنعة .



أ.

ب .

ج .

21. مادة طبيعية لا يصنعها الإنسان .



أ.

ب .

ج .

22. حوط المورد الطبيعي .



أ.

ب .

ج .

24. جماد صلب من الأرض بأشكال و ألوان مختلفة .



أ.

ب .

ج .

25. نحت أبو الهول من _____ .

أ. الصخر


ب . البلاستيك

ج . معدن



المعلمة وفاء

26. أداة تستخدم في نحت الصخور .



ج .



ب .



أ .

27. يستخدم معدن الجرافيت في صناعة .



ج .



ب .



أ .

28. يستخدم معدن الفيروز في صناعة .



ج .



ب .



أ .

29. يستخدم معدن الفلوريت في صناعة .



ج .



ب .



أ .

30. يستخدم معدن المجنتيت في صناعة .



ج .




ب المعلمة وفاء



أ .

40. معدن يستخدم في صناعة قلم الرصاص .



ج . الفيروز




ب . الجرافيت



أ. المجنيتيت

40. معدن يستخدم في صناعة المغناطيس.



ج . الفيروز




ب . الجرافيت



أ. المجنيتيت

40. معدن يستخدم في صناعة معجون الأسنان .



ج . الفيروز




ب . الفلوريت



أ. المجنيتيت

41. معدن يستخدم في صناعة الحلي و الخواتم .



ج . الفيروز




ب . الفلوريت



أ. المجنيتيت

42. أداة تستخدم لاستخراج المعادن من الصخور .



ج .



المعلمة وفاء
ب .



أ.

• ضع اشارة (✓) أمام الاجابة الصحيحة وعلامة (X) أمام الاجابة الغير صحيحة

- 1 - من الطرق التي يمكن أن يغير بها الماء الأرض هي التجمد ()
- 2 - من أسباب تغير اليابسة وتشققها جذور النباتات ()
- 3 - الوادي هو أعلى أشكال اليابسة ()
- 4 - تغطي القارات معظم سطح الأرض ()
- 5 - تتسبب الأنهار الجليديه حدوث التعرية ببطء اثناء تحركها ()
- 6- تحدث التجوية ببطء لدرجة انك لا تستطيع ان تلاحظها ()
- 7 - تحدث التعرية ببطء فقط ()
- 8 - الأشياء الغير حية تنمو و تتغير و تحتاج إلى ماء و هواء و غذاء و تنجب أبناء مثلها ()
- 9- الصخور من الأشياء الغير حية ()
- 10 - الماء و الهواء و التربة من الموارد المصنعة ()
- 11- يعد الزجاج و البلاستيك من المواد الطبيعية ()
- 12- يعد الماء و الهواء و النباتات و الحيوانات و الصخور من موارد الأرض الطبيعية ()
- 13- لا توجد الصخور بجميع الأشكال و الأحجام ()
- 14-المعادن هي أجزاء صلبة جامدة من الصخور و التربة ()
- 15 - تتكون الصخور من معدن واحد فقط ()
- 16- يصنع معجون الأسنان من معد الفيروز ()
- 17 - عدد القارات على الأرض هو 7 قارات ()

• صنف الصور التالية بحسب المطلوب في الجدول وذلك بكتابة الرقم الموجود اسفل

الصورة؟



1



2



3



4



5



6

مواد مصنعة	موارد طبيعية



1



2




3



4




5



6

كائنات حية	و أشياء غير حية

صل الصور لتاليه بالمفردة المناسبة :



• النهر

• الجزيرة

• بحيرة

• محيط

• جبال

• سهول

• التجوية

• الوادي