

شكراً لتحميلك هذا الملف من موقع المناهج الإماراتية



أسئلة الامتحان النهائي

[موقع المناهج](#) ← [المناهج الإماراتية](#) ← [الصف الثاني](#) ← [رياضيات](#) ← [الفصل الثالث](#) ← [الملف](#)

التواصل الاجتماعي بحسب الصف الثاني



روابط مواد الصف الثاني على تلغرام

[الرياضيات](#)

[اللغة الانجليزية](#)

[اللغة العربية](#)

[التربية الاسلامية](#)

المزيد من الملفات بحسب الصف الثاني والمادة رياضيات في الفصل الثالث

أسئلة الامتحان النهائي	1
أسئلة الاختبار القصير الأول	2
أوراق عمل درس الساعة ومقارنة الأطوال	3
ورقة عمل درس الوقت	4
أوراق عمل اعتمد على نفسي الدرس الأول الوقت بالساعة من الوحدة التاسعة	5



Grade

2

امتحان نهاية الفصل الدراسي الثالث
2023/2022

		Student Name / اسم الطالب
		School / المدرسة
		Class / الصف
	الرياضيات	Subject المادة

Grade		الدرجة
	100	

		Teacher Name / اسم المعلم
		sign/ التوقيع

ضع دائرة حول رمز الإجابة الصحيحة فيما يأتي:

1- بين الوقت بعد مرور نصف ساعة



a.



b.



c.



2- يدق جرس الحصص الدراسية كل 30 دقيقة ويدق جرس الحصة الأولى 8:00 فما الوقت الذي سيدق فيه جرس الحصة الرابعة ؟

a.

10:30

b.

9:00

c.

9:30

3- حوط الساعة التي تظهر مثالا على ربع ساعة .

a.



b.



c.



4- يغادر القطار الساعة 5:45 . أي ساعة تبين أن الساعة 5:45 ؟

a.



b.



c.



5- الوحدة الأفضل لقياس الذهاب إلى المتجر



a.

ثوان

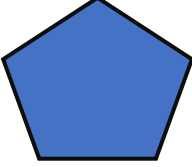
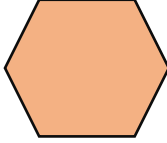

b.

دقائق

c.

ساعات

ضع دائرة حول رمز الإجابة الصحيحة فيما يأتي:

6- حوط الشكل خماسي أضلاع		
a. 	b. 	c. 

7- شكل له 3 أضلاع و 3 زوايا		
a. 	b. 	c. 

8- شكل ثنائي الأبعاد لا أضلاع له ولا رؤوس له ما هو الشكل		
a. متوازي الأضلاع	b. المثلث	c. الدائرة

9- شكل ثلاثي الأبعاد له 6 وجوه مربعة و 8 رؤوس		
a. 	b. 	c. 

10- خمسة أمتار تساوي ----- سنتيمتر		
a. 600	b. 500	c. 400

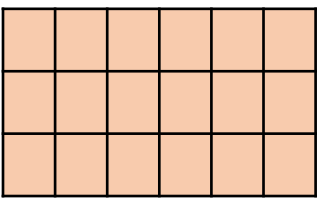
11- 900 سنتيمتر تساوي ----- متر		
a. 900	b. 90	c. 9


ضع دائرة حول رمز الإجابة الصحيحة فيما يأتي:

12- 45 مترا + 38 مترا = مترا		
a. 83	b. 73	c. 38

13- 45 سنتيمترا + 55 سنتيمترا =		
a. 90 سنتيمتر	b. 91 سنتيمتر	c. امتر

14- الوحدة الأفضل لقياس السائل		
a. لتر		c. كوب

15- ماهي مساحة المستطيل؟		
		
a. 12	b. 18	c. 15

16- كم يبلغ طول طلاء الأظافر؟		
		
a. 6	b. 2	c. 7

ضع دائرة حول رمز الإجابة الصحيحة فيما يأتي:

16- عد لإيجاد قيمة العملات



a. 71

b. 76

c. 86

17- عد لإيجاد قيمة العملات



a. 24

b. 44

c. 42

18- إذا ركبنا مربعين معا فما الشكل ثنائي الأبعاد الذي ستكونه؟

a. منشور مستطيل

b. مكعب

c. مستطيل

19- ما الوحدة أفضل لقياس وقت التنزه في الحديقة؟

a. ثوان

b. دقائق

c. ساعات

20- حدد الساعة التي تشير إلى الوقت 10:00؟



21- رسمت عفاف أشكال التالية، أي شكل له 5 أوجه و8 حواف و5 رؤوس؟

