

شكراً لتحميلك هذا الملف من موقع المناهج الإماراتية



مذكرة مراجعة الوحدة الخامسة

[موقع المناهج](#) ← [المناهج الإماراتية](#) ← [الصف الثاني](#) ← [رياضيات](#) ← [الفصل الثاني](#) ← [الملف](#)

التواصل الاجتماعي بحسب الصف الثاني



روابط مواد الصف الثاني على تلغرام

[الرياضيات](#)

[اللغة الانجليزية](#)

[اللغة العربية](#)

[التربية الاسلامية](#)

المزيد من الملفات بحسب الصف الثاني والمادة رياضيات في الفصل الثاني

أوراق عمل نموذج اختباري	1
أوراق عمل الوحدة السادسة جمع الأعداد المكونة من ثلاثة أرقام	2
أوراق عمل الوحدة الخامسة القيمة المكانية	3
مذكرة مراجعة الوحدة الخامسة	4
أسئلة كويز Quiz بدون حل	5


مذكرة الرياضيات للمصف الثاني

تمارين للدروس + نسخ للأرقام

للعام الدراسي الثاني

2023 - 2022

الإسم:
الصف:



ahManahj.com



لنقم بكتابة الأرقام من 100 إلى 200

100				104				109
			113					118
		122					127	
	131					136		
140					145			
	151				156			
		162					167	
			173					178
				184				189
					195			
200								



لنقم بكتابة الأرقام من 100 إلى 200

	101				105				109	
110				113				116		119
							125			
				132					136	
140										148
150										159
								166	167	
				171						
										189
										199
190										





لنقم بكتابة الأرقام من 200 إلى 300

200								209
	211							218
					226			229
230					235			
		242					247	
	251					256		259
260					266			269
	271							277
		282		284				289
290		292						
300								



alManahj.com/ae



لنقم بكتابة الأرقام من 200 إلى 300

200					205				209	
			213					217		
220					224			227		
			232						239	
240					244				248	249
					253	254		256		259
260							265			268
						274			277	
280									287	
	291					294				





لنقم بكتابة الأرقام من 300 إلى 400

300								
310				315				319
		322					328	
330					336			
		342		344				349
350				355				
360			363					368
	371			374				379
380					386			
	391						397	
400								



لنقم بكتابة الأرقام من 300 إلى 400

		302						
310							318	319
				324		326		
330								
	341							349
350					355			
			363					369
370						377		
	381							389
390								





• لنقم بكتابة الأرقام من 400 إلى 500

400									409
	411				415				
			423			426			429
	431					436			439
			443					448	
450					455				459
					465				
470				474			477		
480				484					489
490									
500									



• لنقم بكتابة الأرقام من 400 إلى 500

400							406			
410					414					419
				423	424					428
	431						436			
440							445			
					454		456			
460							465			469
	471					474				
				482						489
				492						499



تم تحميل هذا الملف من
موقع المنهج الإماراتي

alManahj.com/ae



لنقم بكتابة الأرقام من 500 إلى 600

500								509
	511						517	
520					525			529
	531				535			
540						546		549
		552						558
560						566		
570						576		579
580					584			
	591					595		599
600								



لنقم بكتابة الأرقام من 500 إلى 600

	501							
	511							519
520			523					529
		532						538
540					545		547	
550						556		
				564				569
570					575			
	581	582						589
	591							599





لنقم بكتابة الأرقام من 600 إلى 700

	601						608	
610		612						619
		622				627		
	631				635			639
640				644			648	
	651				655			659
660						667		
670								679
							688	689
690								699
700								



لنقم بكتابة الأرقام من 600 إلى 700

	601				605				609
610					615				619
					625				629
630				633					
					644		646		
650						655			
					663			667	669
670							676		679
680									689
690									



تم تحميل هذا الملف من
موقع لمنهج الإماراتية

alManahj.com/ae



لنقم بكتابة الأرقام من 700 إلى 800

700						707		709
		712				717		719
720			724					729
730			733			736		739
740							748	
			754			757		
	761				765			769
		772						779
780					785			
								799



alManahj.com/ae



لنقم بكتابة الأرقام من 700 إلى 800

700									709
710							717		
720									728
		732	733						738
			743						749
750				754	755				
760			763	764		766			769
		772	773	774					779
						786			789
790									
800									





لنقم بكتابة الأرقام من 800 إلى 900

800								809
	811			814	815			819
820					825			829
		832		834	835			839
				844				848
850								859
	861				865			869
870					876			
		882						888
890								899



لنقم بكتابة الأرقام من 800 إلى 900

	801							
810								819
	821					826		
		832			835			839
840				844				849
850					855			
			863				867	868
870						876		879
	881	882						889
890								





لنقم بكتابة الأرقام من 900 إلى 1000

900								909
910								
920			924					929
	931			935				
		942			946			949
			955			958		
960	961							
		972						979
	981						988	
990								999



لنقم بكتابة الأرقام من 900 إلى 1000

	901						907		
910					915				919
		922						928	
930						936			
	941								949
950							957		
					965				969
970				974	975				
			983	984					989
									999



أستطيع قراءة الأعداد بالرموز والكلمات

(10) عَشْرَة	(100) مِئَة	(1) واحد	(11) أَحَدَ عَشْر
(20) عِشْرُون	(200) مِئَتَان	(2) اثْنَان	(12) اثْنَا عَشْر
(30) ثَلَاثُون	(300) ثَلَاثُمِئَة	(3) ثَلَاثَة	(13) ثَلَاثَة عَشْر
(40) أَرْبَعُون	(400) أَرْبَعُمِئَة	(4) أَرْبَعَة	(14) أَرْبَعَة عَشْر
(50) خَمْسُون	(500) خَمْسُمِئَة	(5) خَمْسَة	(15) خَمْسَة عَشْر
(60) سِتُون	(600) سِتْمِئَة	(6) سِتَة	(16) سِتَة عَشْر
(70) سَبْعُون	(700) سَبْعُمِئَة	(7) سَبْعَة	(17) سَبْعَة عَشْر
(80) ثَمَانُون	(800) ثَمَانِمِئَة	(8) ثَمَانِيَة	(18) ثَمَانِيَة عَشْر
(90) تِسْعُون	(900) تِسْعِمِئَة	(9) تِسْعَة	(19) تِسْعَة عَشْر

1000 ألف

الوحدة 5



الدرس (1): المئات

أكتب عدد العشرات والآحاد.

5 مئات = عشرات _____ = أحاد _____

2 مئات = عشرات _____ = أحاد _____

4 مئات = عشرات _____ = أحاد _____

3 مئات = عشرات _____ = أحاد _____

أكتب عدد المئات والعشرات والآحاد.

1 مئات = أحاد _____

300 أحاد = عشرات _____

200 أحاد = عشرات _____

7 مئات = عشرات _____

60 عشرات = أحاد _____

90 عشرات = مئات _____

80 عشرات = مئات _____

الوحدة 5




الدرس (1) : المئات

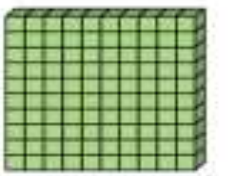
أكتب عدد المئات والعشرات والآحاد.



أحاد _____



عشرات _____ =



مئات _____

أحاد _____

عشرات _____ =

مئات _____

أحاد _____

عشرات _____ =

مئات _____

أحاد _____

عشرات _____ =

مئات _____

الوحدة 5

الدرس (2) : المئات والعشرات والاحاد



أكتب كم عدد المئات والعشرات والاحاد، ثم اكتب العدد .

المئات	العشرات	الاحاد



4




9

3



المئات	العشرات	الاحاد



6

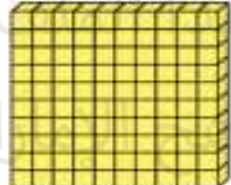


1

2



المئات	العشرات	الاحاد



9




1

3



المئات	العشرات	الاحاد



1



4

0



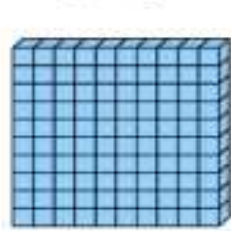
الوحدة 5

الدرس (2) : المئات والعشرات والاحاد



أكتب كم عدد المئات والعشرات والاحاد، ثم اكتب العدد .

المئات	العشرات	الاحاد



7




6

1



المئات	العشرات	الاحاد



8




3

2



المئات	العشرات	الاحاد



1




2

9



المئات	العشرات	الاحاد



4



3

7





الوحدة 5

الدرس (3): القيمة المكانية حتى ال 1000

• أكتب العدد.

600 + 20 + 7 = _____

400 + 40 + 0 = _____

100 + 90 + 3 = _____

300 + 70 + 3 = _____

200 + 80 + 6 = _____

500 + 60 + 5 = _____

900 + 10 + 0 = _____

700 + 90 + 1 = _____

• حوطة قيمة اللون الأحمر.

849

400 40 4

900 90 9



الوحدة 5

الدرس (3): القيمة المكانية حتى ال 1000

• أكتب كل عدد بالصيغة الموسعة. ثم اكتب العدد.

5 مئات و 4 عشرات و 8 أحاد

_____ + _____ + _____ = _____

7 مئات و 0 عشرات و 1 أحاد

_____ + _____ + _____ = _____

1 مئات و 6 عشرات و 9 أحاد

_____ + _____ + _____ = _____

3 مئات و 3 عشرات و 0 أحاد

_____ + _____ + _____ = _____

6 مئات و 2 عشرات و 8 أحاد

_____ + _____ + _____ = _____

4 مئات و 5 عشرات و 5 أحاد

_____ + _____ + _____ = _____



• اقرأ العدد. اكتب العدد.

▪ ثلاثمئة و عشرة

▪ سبعمئة و ثمانية و عشرون

▪ مئة و تسعة و تسعون

▪ أربعمئة و أربعة و ستون

▪ اكتب العدد بالكلمات (785)



alManahj.com/ae



• اقرأ العدد. اكتب العدد.

▪ أربعمئة و ثمانية و عشرون

▪ مئتان و خمسة و ثمانون

▪ تسعمئة و سبعة و سبعون

▪ اثنان و ستون

▪ اكتب العدد بالكلمات (362)

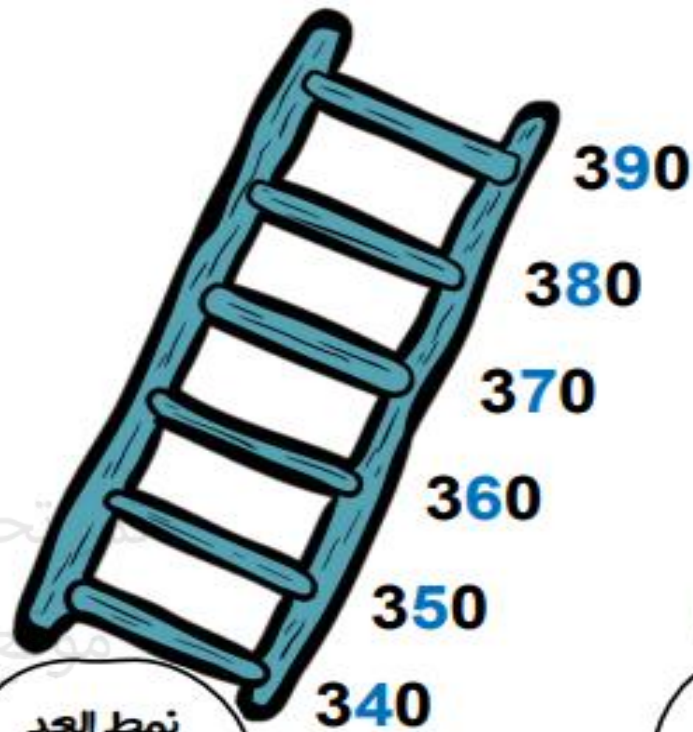


أنماط الأعداد في العد التصاعدي بمقدار (5 ، 10 ، 100)



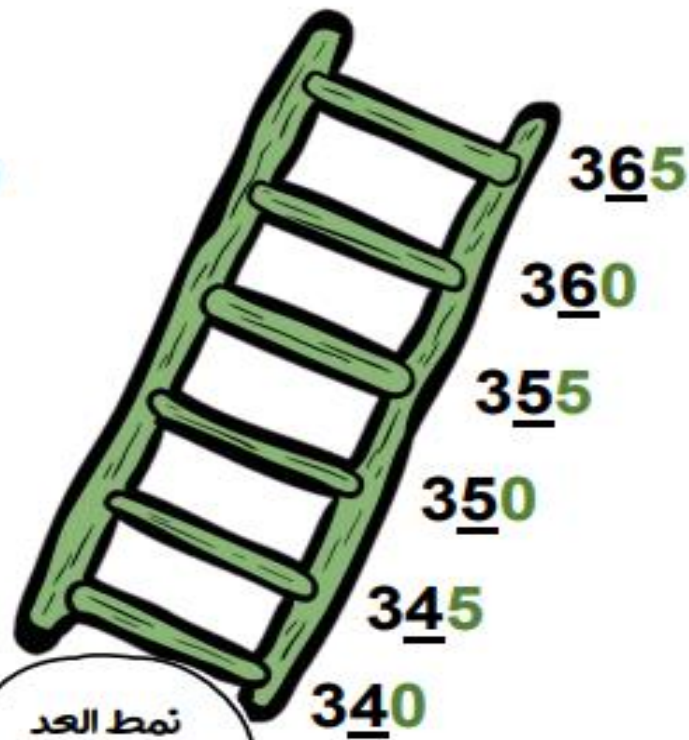
نمط العد
بمقدار (100)

كل عدد **يزيد** بمقدار 100.
فنقول النمط هو 100 تصاعديا.



نمط العد
بمقدار (10)

كل عدد **يزيد** بمقدار 10.
فنقول النمط هو 10 تصاعديا.



نمط العد
بمقدار (5)

كل عدد **يزيد** بمقدار 5.
فنقول النمط هو 5 تصاعديا.



الوحدة 5

الدرس (6) : العد بمقدار 5 و 10 و 100

• أكتب الأعداد الناقصة ، ثم اكتب نمط العد.

575 ، 570 ، _____ ، 560 ، _____ ، 550

النمط هو _____

_____ ، 831 ، _____ ، _____ ، 531 ، 431

النمط هو _____

870 ، _____ ، _____ ، _____ ، 830 ، 820

النمط هو _____

135 ، 130 ، _____ ، 120 ، _____ ، 110

النمط هو _____



الوحدة 5

الدرس (6) : العد بمقدار 5 و 10 و 100

• أكتب الأعداد الناقصة ، ثم اكتب نمط العد.

716 ، 616 ، _____ ، 416 ، _____ ، 216

النمط هو _____

_____ ، 340 ، _____ ، _____ ، 310 ، 300

النمط هو _____

605 ، _____ ، _____ ، _____ ، 205 ، 105

النمط هو _____

_____ ، _____ ، _____ ، 515 ، 510 ، 505

النمط هو _____



تم تحميل هذا الملف من
موقع المناهج الإماراتية
alManahj.com/ae



=

يساوي (=)

<

أصغر من (<)

>

أكبر من (>)



الآحاد	العشرات	المئات
6	5	7
6	5	7

$$756 = 756$$

756 يساوي من 756

الآحاد	العشرات	المئات
4	6	9
2	3	9

$$534 < 518$$

932 أصغر من 964

الآحاد	العشرات	المئات
8	1	5
4	3	5

$$534 > 518$$

534 أكبر من 518



الوحدة 5

الدرس (7) : مقارنة الأعداد حتى 1000

• قارن واكتب < أو > أو = .

210	○	143
100	○	1000
122	○	122
542	○	452
561	○	571
999	○	99
423	○	400
77	○	77
335	○	333



الدرس (7) : مقارنة الأعداد حتى 1000

• قارن واكتب < أو > أو = .

125	○	152
364	○	364
725	○	752
143	○	134
453	○	435
111	○	110
233	○	277
114	○	114
236	○	233