

تم تحميل هذا الملف من موقع المناهج الإماراتية



almanahj.com

موقع  
المناهج الإماراتية

\*للحصول على أوراق عمل لجميع الصفوف وجميع المواد اضغط هنا

<https://almanahj.com/ae>

\* للحصول على أوراق عمل لجميع مواد الصف الثاني اضغط هنا <https://almanahj.com/ae/2>

\* للحصول على جميع أوراق الصف الثاني في مادة اجتماعيات ولجميع الفصول, اضغط هنا [2social/ae/com.almanahj//:https](https://almanahj.com/ae/2social)

\* للحصول على أوراق عمل لجميع مواد الصف الثاني في مادة اجتماعيات الخاصة بـ الفصل الثاني اضغط هنا

<https://almanahj.com/ae/2social2>

\* لتحميل كتب جميع المواد في جميع الفصول للـ الصف الثاني اضغط هنا [grade2/ae/com.almanahj//:https](https://almanahj.com/ae/grade2)

\* لتحميل جميع ملفات المدرس شريفة الخيرات اضغط هنا

للتحدث إلى بوت المناهج على تلغرام: اضغط هنا [bot\\_almanahj/me.t//:https](https://t.me/bot_almanahj)

أولاً : اكتب الكلمة المناسبة تحت الصورة والتي تدل على أهمية المياه :



.....

.....





.....

ثانياً : صنف الكلمات الآتية وفق الجدول :

( عين المبرزة - مياه الخليج العربي - وادي الوريعة - عين خت )

مياه باطنية	مياه سطحية
.....	.....
.....	.....

**ثالثًا: اكتب أمام كل صورة استخدام الماء فيها**

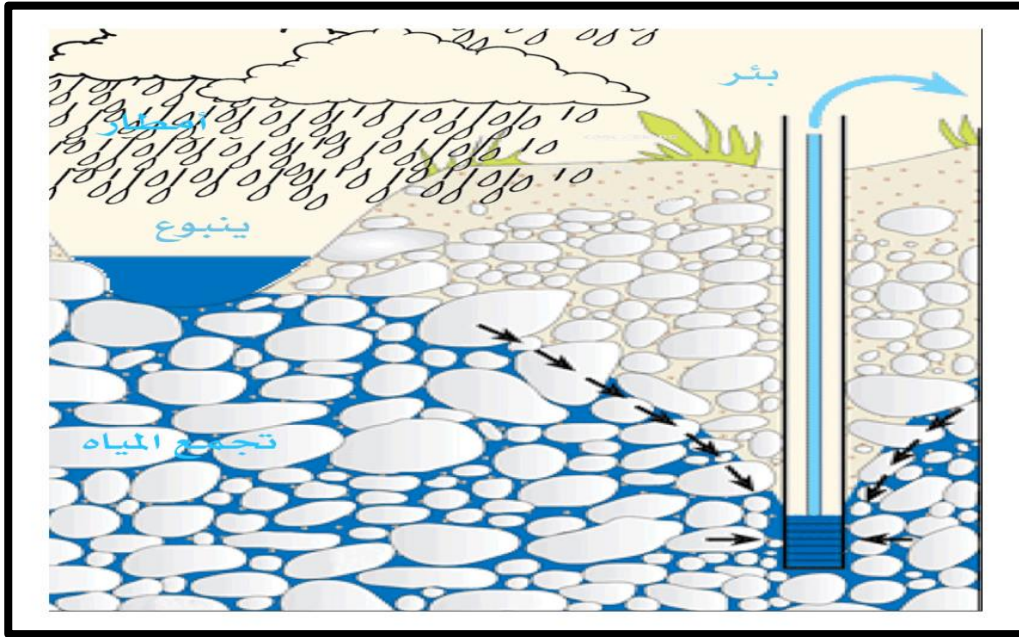


**رابعاً: من خلال الصورة التالية اكتب خطوات تخزين المياه الجوفية**

.....-1

.....-2

.....-3



**خامساً: كيف تحافظ على المياه العذبة؟**

.....-1

.....-2


.....-3



## الطاقة في بلادي

(الطاقة هي القدرة على الحركة و أداء العمل )

أولاً : تتنوع مصادر الطاقة ومنها :



## الطاقة في بلادنا

### ثانياً : صنف مصادر الطاقة الآتية حسب الجدول :




المياه - النفط - الفحم - الشمس - الغاز الطبيعي - الرياح

طاقة غير متجددة	طاقة متجددة
.....	.....
.....	.....
.....	.....

### ثالثاً: ضع علامة (√) أمام العبارة الصحيحة وعلامة (x) أمام العبارة الخاطئة:

- 1-السيارات الكهربائية تمنع حدوث التلوث. ( )
- 2-مدينة مصدر منتجة للطاقة الشمسية المتجددة. ( )
- 3-تقع مدينة مصدر في إمارة رأس الخيمة . ( )
- 4-يوجد في مدينة مصدر مساكن وشركات ومدارس حديثة. ( )

## رابعاً: اكتب اسم نوع الطاقة المتجددة تحت كل صورة:




## ثروات بلادي

أولاً: صنف أسماء الصور التالية وفق الجدول الآتي :

الرمان



الجزر



التفاح



الفلفل



العنب



الطماطم



الفواكه	الخضراوات
.....	.....
.....	.....
.....	.....



التربية الوطنية / الصف الثاني

## ثروات بلادي

ثانياً: أكتب أسماء بعض الحيوانات التي تربى في بلادي :

..... ، .....

..... ، .....

ثالثاً : أكتب أسماء بعض أنواع الأسماك التي تعيش في بحار بلادي :

..... ، .....


..... ، .....

رابعاً: صل الصورة بما يناسبها :

فواكه



خضروات



## خامساً: أكتب أسماء الحيوانات التي تربي في دولتي أسفل كل صورة:

