

## شكراً لتحميلك هذا الملف من موقع المناهج الإماراتية



## نموذج إختبار تدريبي مناهج أبو ظبي

[موقع المناهج](#) ← [المناهج الإماراتية](#) ← [الصف الثاني](#) ← [علوم](#) ← [الفصل الثالث](#) ← [الملف](#)

تاريخ نشر الملف على موقع المناهج: 2019-06-24 17:21:27

## التواصل الاجتماعي بحسب الصف الثاني



## روابط مواد الصف الثاني على تلغرام

[الرياضيات](#)

[اللغة الانجليزية](#)

[اللغة العربية](#)

[التربية الاسلامية](#)

## المزيد من الملفات بحسب الصف الثاني والمادة علوم في الفصل الثالث

<a href="#">أسئلة الامتحان النهائي</a>	1
<a href="#">ملخص شامل لجميع دروس وحدات الفصل وفق الهيكل الوزاري الجديد</a>	2
<a href="#">نموذج إجابة أسئلة امتحان تقويمي</a>	3
<a href="#">نموذج إجابة أسئلة امتحان تقويمي</a>	4
<a href="#">أسئلة امتحان تقويمي</a>	5

كل ما يحتاجه الطالب في جميع الصفوف من أوراق عمل واختبارات ومذكرات، يجده هنا في الروابط التالية لأفضل مواقع تعليمي إماراتي 100 %

<u>تطبيق المناهج الإماراتية</u>	<u>الاجتماعيات</u>	<u>الرياضيات</u>
<u>الصفحة الرسمية على التلغرام</u>	<u>الاسلامية</u>	<u>العلوم</u>
<u>الصفحة الرسمية على الفيسبوك</u>	<u>الانجليزية</u>	
<u>التربية الاخلاقية لجميع الصفوف</u>	<u>اللغة العربية</u>	
<u>التربية الرياضية</u>		
<b>مجموعات التلغرام.</b>	<b>مجموعات الفيسبوك</b>	<b>قنوات تلغرام</b>
<u>الصف الأول</u>	<u>الصف الأول</u>	<u>الصف الأول</u>
<u>الصف الثاني</u>	<u>الصف الثاني</u>	<u>الصف الثاني</u>
<u>الصف الثالث</u>	<u>الصف الثالث</u>	<u>الصف الثالث</u>
<u>الصف الرابع</u>	<u>الصف الرابع</u>	<u>الصف الرابع</u>
<u>الصف الخامس</u>	<u>الصف الخامس</u>	<u>الصف الخامس</u>
<u>الصف السادس</u>	<u>الصف السادس</u>	<u>الصف السادس</u>
<u>الصف السابع</u>	<u>الصف السابع</u>	<u>الصف السابع</u>
<u>الصف الثامن</u>	<u>الصف الثامن</u>	<u>الصف الثامن</u>
<u>الصف التاسع عام</u>	<u>الصف التاسع عام</u>	<u>الصف التاسع عام</u>
<u>الصف التاسع متقدم</u>	<u>الصف التاسع متقدم</u>	<u>الصف التاسع متقدم</u>
<u>الصف العاشر عام</u>	<u>الصف العاشر عام</u>	<u>الصف العاشر عام</u>
<u>الصف العاشر متقدم</u>	<u>الصف العاشر متقدم</u>	<u>الصف العاشر متقدم</u>
<u>الحادي عشر عام</u>	<u>الحادي عشر عام</u>	<u>الحادي عشر عام</u>
<u>الحادي عشر متقدم</u>	<u>الحادي عشر متقدم</u>	<u>الحادي عشر متقدم</u>
<u>ثاني عشر عام</u>	<u>الثاني عشر عام</u>	<u>الثاني عشر عام</u>
<u>ثاني عشر متقدم</u>	<u>الثاني عشر متقدم</u>	<u>الثاني عشر متقدم</u>

<http://almanahj.com/ae/>

## Choose the correct answer:

1. Position is ...
  - a. how something moves.
  - b. where something is.
  - c. the way something moves.
  - d. how fast something moves.
2. How can you tell where something is?
  - a. The color it is.
  - b. How fast it is moving.
  - c. Comparing it to the position of other objects.
  - d. Comparing its speed to other objects.

3. Where is the rabbit?




<http://almanahj.com/ae/>

- a. Below the chair
  - b. Next to the chair
  - c. On the chair
  - d. In the chair
4. Which picture shows an up and down motion?

a.



b.



5. An object with a large mass feels \_\_\_\_\_.
- a. light
  - b. weak
  - c. strong
  - d. heavy

6. What force is making the shopping cart move?
- a. push
  - b. pull
  - c. gravity
  - d. friction



7. A wheel and axle is an example of a \_\_\_\_\_.
- a. toy
  - b. simple machine
  - c. car
  - d. force



8. This simple machine is a \_\_\_\_\_.
- a. cat
  - b. ramp
  - c. pulley
  - d. lever




9. A surface that is straight and slanted is a \_\_\_\_\_.
- a. pulley
  - b. lever
  - c. fulcrum
  - d. ramp



10. Magnets can \_\_\_\_\_ objects made of iron, steel or nickel.
- a. attract
  - b. repel
  - c. evaporate
  - d. spin

11. Which object will a magnet NOT attract?



12. A very strong magnet can pull objects from far away.
- a. True
  - b. False

13. The 2 poles of a magnet are called \_\_\_\_\_.
- a. push and pull
  - b. attract and repel
  - c. up and down
  - d. North and South

14. When 2 poles that are the same are put together they will \_\_\_\_\_.

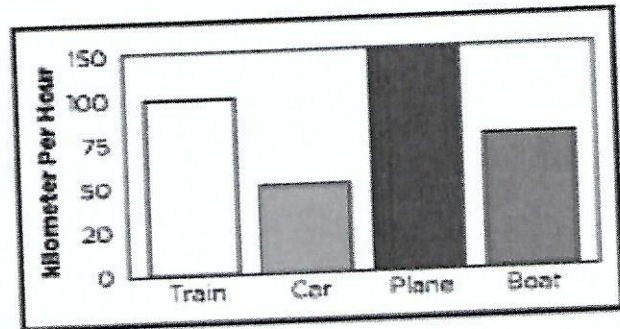
- a. repel
- b. do nothing
- c. attract
- d. jump



15. When 2 objects rub together, they are slowed down by \_\_\_\_.
- a. friction
  - b. force
  - c. gravity
  - d. speed

Use this graph to answer the following questions:

This graph shows how fast a train, a car, a plane, and a boat can move.




16. Which moves the fastest?
- a. train
  - b. car
  - c. plane
  - d. boat


17. Which moves the slowest?
- a. train
  - b. car
  - c. plane
  - d. boat

18. Which moves faster than a car, but slower than a train?
- a. train
  - b. car
  - c. plane
  - d. boat

19. When heat is added to ice, it will \_\_\_\_\_.



a. stay ice



b. turn to liquid

20. Which is an example of a chemical change?

- a. folding paper
- b. burning a match
- c. slicing bread
- d. juice freezing

21. Which one shows a mixture?



22. What can be used to separate a mixture of sand and iron filings?

- a. magnet
- b. filter
- c. hands
- d. evaporation

23. What can be used to separate a mixture of sand and water?


- a. magnet
- b. filter
- c. hands
- d. evaporation

24. Which item is a solution?
- a. a fruit salad
  - b. a burger
  - c. a peanut and jelly sandwich
  - d. a milkshake

25. Look at the picture.

What is the first thing that will happen to the ice if this is left out of the freezer?

- a. The water will evaporate.
- b. The ice will melt.
- c. The water vapor will condense.
- d. The water will freeze.




- <http://almanahj.com/ae/>
26. What tool would you use to measure temperature?



a. clock



b. thermometer



c. ruler

27. At the train station, the sound of a train gets louder and louder. What do you know?
- a. The train is moving towards you.
  - b. The train is moving away from you.
  - c. The train is slowing down.
  - d. The train is speeding up.



28. Which of these objects will light pass through?  
a. a book  
b. wood  
c. glass  
d. a table

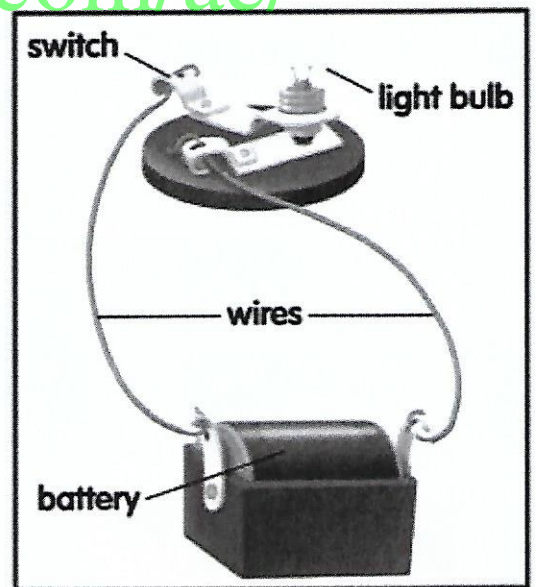
29. Which of the following is a source of light?  
a. water  
b. sand  
c. light bulb  
d. pencil

30. What happens when white light bends?  
a. It speeds up.  
b. It separates into different colors.  
c. It makes a shadow.  
d. It stops us seeing.

31. Look at the picture.

Which part of this circuit makes electricity?

- a. the light bulb
- b. the switch
- c. the wires
- d. the battery



32. This girl's hair is attracted to the balloon because of \_\_\_\_\_.  
a. current electricity  
b. static electricity  
c. air  
d. lightning



33. Write physical change or chemical change for each picture.



folding paper



rusting nails




baking a cake





freezing water

34. Is it a solution or a mixture?



35. Match the picture and the kind of force it represents.




gravity

force

friction

36. Which of these objects will magnets attract and which will they not attract? Complete the table.



paper bag

screws



paper clips

pencils



Attracts	Does Not Attract

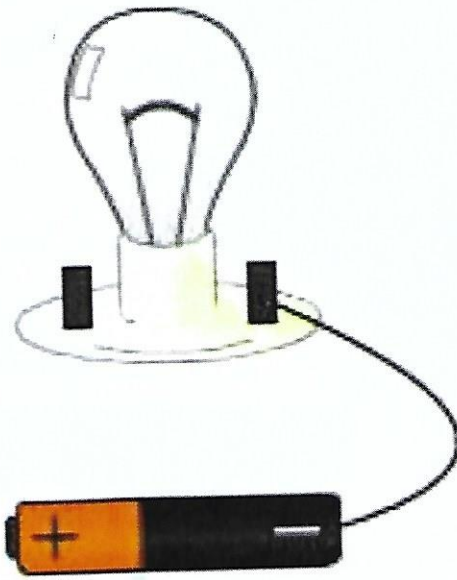
37. Are these statements TRUE or FALSE.

Evaporate means to change from a liquid to a gas. \_\_\_\_\_

A magnet's North and South poles repel each other. \_\_\_\_\_

After a candle burns, the wax will cool and become a solid. \_\_\_\_\_

38. Complete the circuit so that the bulb will light up.



<http://almanahj.com/ae/>