

تم تحميل هذا الملف من موقع المناهج الإماراتية



almanahj.com

موقع  
المناهج الإماراتية

\*للحصول على أوراق عمل لجميع الصفوف وجميع المواد اضغط هنا

<https://almanahj.com/ae>

\* للحصول على أوراق عمل لجميع مواد الصف التاسع اضغط هنا <https://almanahj.com/ae/9>

\* للحصول على جميع أوراق الصف التاسع في مادة اجتماعيات ولجميع الفصول, اضغط هنا [9social/ae/com.almanahj//:https](https://almanahj.com/ae/9social)

\* للحصول على أوراق عمل لجميع مواد الصف التاسع في مادة اجتماعيات الخاصة بـ الفصل الأول اضغط هنا

<https://almanahj.com/ae/9social1>

\* لتحميل كتب جميع المواد في جميع الفصول للـ الصف التاسع اضغط هنا [grade9/ae/com.almanahj//:https](https://almanahj.com/ae/grade9)

\* لتحميل جميع ملفات المدرس محمد عطية صادق اضغط هنا

للتحدث إلى بوت المناهج على تلغرام: اضغط هنا [bot\\_almanahj/me.t//:https](https://t.me/bot_almanahj)



## أسئلة عامة لمادة الدراسات الاجتماعية للصف التاسع الفصل الدراسي الاول

السؤال الاول : - اختر الإجابة الصحيحة من بين البدائل لكل عبارة فيما يأتي:

1- تساير الحدود السياسية:

أ - خطوط الطول ب - دوائر العرض ج مظاهر السطح د - خطوط الطول ودوائر العرض

2 - التكوينات الكلسية الصخرية الصوانية التي تعرضت لعوامل النحت تسمى

أ - الحماد ب - الانكسارات ج - العرق د - الرق

3- أعلى قمة جبلية في شبه الجزيرة العربية قمة جبل:

أ - جبير ب - النبي شعيب ج - طوبقال د - هلكرد

4- يسود الاقليم المداري في الوطن العربي بشكل عام في المناطق:

أ - الشمالية ب - الشرقية ج - الغربية د - الجنوبية

5- من العوامل الداخلية التي أثرت في تضاريس الوطن العربي:

أ - درجة الحرارة ب - البراكين ج - الرياح د - المياه

6- المسطح المائي الذي يصل جناحي الوطن العربي هو:

أ - قناة السويس ب - البحر المتوسط ج - الخليج العربي د - البحر الاحمر

7- عدد دوائر العرض التي يمتد عليها الوطن العربي:

أ - 50 ب - 39 ج - 49 د - 37

8- جبال نتجت عن حركات بطيئة أصابت الصخور فأدت لارتفاع بعضها وانخفاض البعض الآخر هي الجبال:

أ - الالتوائية ب - البركانية ج - الانكسارية د - الشميلية

9- أعلى قمة جبلية في دولة الامارات جبل:

أ - حفيت ب - مسافي ج - الحجر د - جيس

10 - دائرة العرض الرئيسية التي تقطع أراضي الوطن العربي من الجنوب:

أ - مدار السرطان ب - خط جرينتش ج - خط الاستواء د - مدار الجدي

**11- يقسم خط الاستواء الأرض إلى قسمين:**

أ - شمالي وجنوبي ب - شرقي وغربي ج - شرقي وشمالي د - شرقي وجنوبي

**12- التكوينات الرملية مثل بحر الرمال العظيم في مصر يطلق عليها :**

أ - الحماد ب - الانكسارات ج - العرق د - الرق

**13 - عدد خطوط الطول التي يمتد عليها الوطن العربي:**

أ - 88 ب - 77 ج - 66 د - 55

**14- يسود اقليم البحر المتوسط في الوطن العربي**

بشكل عام في المناطق:

أ - الشمالية ب - الشرقية ج - الغربية د - الجنوبية

**15- من العوامل الخارجية التي أثرت في تضاريس الوطن العربي:**

أ - الزلازل ب - البراكين ج - الالتواءات د - المياه

**16 - المسطح المائي الذي يصل جناحي الوطن العربي هو:**

أ - قناة السويس ب - البحر المتوسط ج - الخليج العربي د - البحر الاحمر

**17 - المسطح المائي الذي يحد الوطن العربي من جهة الغرب:**

أ - البحر الاحمر ب - الخليج العربي ج - المحيط الاطلنطي د - المحيط الهندي

**18- أخفض نقطة عن مستوى البحر في الوطن العربي هو:**

أ - الخليج العربي ب - بحر العرب ج - البحر الميت د - المحيط الأطلنطي

**19- أعلى قمة جبلية في الوطن العربي جبل:**

أ - حفيت ب - طوبقال ج - زاجروس د - جيس

**20 - دائرة العرض الرئيسية التي تقطع أراضي الوطن العربي من الوسط:**

أ - مدار السرطان ب - خط جرينتش ج - خط الاستواء د - مدار الجدي

**21- من امثلة الجبال الانكسارية في الوطن العربي**

أ - جبال البحر الاحمر ب جبال اطلس ج - الجبل الاخضر

**22- يوجد منخفض القطارة والفيوم في هضبة :**

أ - شبه الجزيرة العربية      ب - بادية الشام      ج - افريقيا الشمالية

**23- من امثلة الجبال الالتوائية في الوطن العربي**

أ - جبال البحر الاحمر      ب جبال اطلس      ج - جبال الامارات

**24- يحد الوطن العربي من الشرق الخليج العربي وبحر عمان وجبال :**

أ - زاجروس      ب- اطلس      ج- جبال اللاذقية

**25- اصغر دول الوطن العربي مساحة :**

أ- جزر القمر      ب- البحرين      ج- لبنان

**26 - اكبر دول الجناح الاسيوي مساحة :**

أ- الامارات      ب- اليمن      ج- السعودية

**27- اصغر دول الجناح الأفريقي مساحة:**

أ- جزر القمر      ب- البحرين      ج- لبنان

**28- تبلغ مساحة الوطن العربي ما يزيد عن .....مليون كم2:**

أ- 10م كم2      ب- 14م كم2      ج- 9م كم2

**29- يقع الوطن العربي في نصف الكرة الارضية:**

أ- الشمالي      ب- الغربي      ج- الشرقي

**30- من الرياح المحلية التي تهب على جمهورية مصر العربية :**

أ- الكوس      ب- السموم      ج- الخماسين

**31- من الرياح المحلية التي تهب على دولة الامارات العربية المتحدة:**

أ- الكوس      ب- الهبوب      ج- الخماسين

**32- من العوامل المؤثرة في مناخ الوطن العربي :**

أ- الموقع الفلكي      ب- التضاريس      ج- كل ما سبق صحيح

**33- يسود إقليم البحر المتوسط في الوطن العربي في :**

أ- الصحراء الكبرى      ب- جنوب السودان      ج- سواحل بلاد المغرب وبلاد الشام

**34- من امثلة السهول الفيضية في الوطن العربي :**

أ- سهول البحر المتوسط      ب- سهول النيل      ج- سهول الخليج العربي

**35- من امثلة السهول الساحلية في الوطن العربي:**

أ- سهول دجلة والفرات      ب- سهول النيل      ج- سهول جوبا وشبيلي

**36- تنتشر في دولة الامارات نباتات حولية ومعمرة مثل :**

أ- القطن      ب- الغاف والسدر      ج- الكاكاو

**37- يقع الوطن العربي في نصف الكرة الأرضية الشمالي باستثناء الجز الجنوبي من الصومال و جزر:**

أ- السعديات      ب- القمر      ج- داس

**38- من مزايا التجارة الداخلية :**

أ- سهولة انتقال عناصر الإنتاج      ب- وحدة النظام النقدي      ج- كل ما سبق صحيح

**39- عمليات البيع والشراء بين المنتجين والمستهلكين من خلال شبكة الانترنت يسمى :**

أ- التجارة الداخلية      ب- التجارة الالكترونية      ج- التجارة الدولية

**40- من امثلة البضائع الدولية :**

أ- النفط      ب- السيارات      ج- الملابس الوطنية

**41- من العملات التي تحظى بقبول عام لدى دول العالم :**

أ- الروبية الهندية      ب- الدولار الأمريكي      ج- الليرة السورية

**42- من العملات التي لا تحظى بقبول عام لدى دول العالم:**

أ- اليورو الاوروبي      ب- الدولار الأمريكي      ج- البيسو الفلبيني

43- السلعة التي تأتي في المرتبة الأولى في السلع المستوردة غيرالنفطية في دولة الإمارات هي:

أ- الذهب الخام ونصف المشغول      ب- الهواتف      ج- السيارات

44- من مزايا التجارة الدولية :

أ- تشغيل الأيدي العاملة      ب- قدرة الدول على تصريف المنتجات الزائدة      ج- الكل

45- ظهرت التكتلات الاقتصادية بعد الحرب العالمية

46 أ- الأولى      ب- الثالثة      ج- الثانية

47- من أشهر المناطق الحرة في دولة الإمارات عالميا :

أ- جبل على      ب- الحميرية      ج- ميناء خليفة

48- اقرت الاتفاقية الاقتصادية الموحدة لدول مجلس التعاون عام :

أ- 1980      ب- 1982      ج- 1981

49- من اشكال التكتلات الاقتصادية :

أ- الاتحاد الأوروبي      ب- السوق المشتركة      ج- اتفاقية الجات

50- اقرت الاتفاقية الاقتصادية الموحدة لدول مجلس التعاون عام 1981 في مدينة :

أ- جدة      ب- ابوظبي      ج- الرياض

51- اقرت اتفاقية الاتحاد الأوروبي عام :

أ- 1990      ب- 1991      ج- 1981

52- الدولة التي انفصلت عن الاتحاد الأوروبي نتيجة للاستفتاء الذي اجري عام 2016 :

أ- فرنسا      ب- ألمانيا      ج- المملكة المتحدة

53- عدد الدول الأعضاء في منظمة التجارة العالمية :

أ- 135      ب- 125      ج- 129

54- اقرت اتفاقية الاتحاد الأوروبي في مدينة :

أ- ماستريخت      ب- باريس      ج- لوكسمبورج

**55- انضمت دولة الامارات الى اتفاقية الجات عام :**

أ- 1990      ب- 1991      ج- 1995

**56- اصبح اليورو العملة الرسمية للاتحاد الأوربي عام :**

أ- 2000      ب- 2001      ج- 2002

**57- صدر دستور دولة الامارات العربية المتحدة في الثاني من ديسمبر عام :**

أ- 1971      ب- 1972      ج- 1973

**58- اصبح دستور دولة الامارات العربية المتحدة في عام 1996م :**

أ- دائما      ب- مؤقتا      ج- ليتغير كل سنة

**59- يتكون الدستور من 152 مادة موزعة على عدد****من الأبواب تبلغ :**

أ- 10      ب- 12      ج- 20

**60- حدثت حرب أكتوبر 1973م بين إسرائيل و :**

أ- ليبيا وتونس      ب- مصر وسوريا      ج- العراق والكويت

**61- شاركت دولة الامارات في عملية إعادة الامل لدولة :**

أ- السودان      ب- المغرب      ج- اليمن

**62- دولة خليجية شاركت دول مجلس التعاون الخليجي في حفظ السلام****واستقرار امنها عام 2011م :**

أ- مملكة البحرين      ب- اليمن      ج- مصر

**63- تعرضت الكويت عام 1990م للغزو:**

أ- الفرنسي      ب- العراقي      ج- الإنجليزي

**64- تم اطلاق مدينة الملك عبدالله الاقتصادية في :**

أ- دبي      ب- أبو ظبي      ج- جدة

**65- تحلية المياه والتقنيات من مشاريع:**

أ- التجارة      ب- الطاقة      ج- السياحة

**66- وقعت دولة الامارات والسعودية على محضر المجلس التنسيقي الاماراتي السعودي في مدينة:**

أ-جدة      ب-الشارقة      ج-الرياض

**67- شارك الشيخ محمد بن زايد في افتتاح المركز العالمي لمكافحة الفكر المتطرف في مدينة الرياض الذي اطلق عليه اسم:**

أ-اعتدال      ب أنصاف      ج-أفعال

**68- من مقومات السياحة في الامارات والسعودية:**

أ-الأمن والاستقرار      ب-الموقع الجغرافي      ج-أوب معا

**69- صاحب مقولة النفط العربي ليس بأعلى من الدم العربي:**

أ-الشيخ محمد بن راشد      ب-الشيخ زايد بن سلطان      ج-الشيخ خليفة بن زايد

**70- الخدمات التي تؤدي للغير تسمى:**

أ-الصادرات غير المنظورة      ب-الواردات غير المنظورة      ج-التجارة الداخلية

**71- يمتد الوطن العربي في قارتي:**

أ-أوروبا و اسيا      ب-اسيا و افريقيا      ج-افريقيا و أوروبا

**72- تقع دولة الامارات بين دائرتي عرض.... درجة شمال خط الاستواء**

أ- 22 - 5.26      ب- 25 - 5.26      ج- 27 - 5.26

**73- تقع دولة الامارات بين خطي طول.... درجة شرق خط جرينتش أ-**

55 - 5.56      ب- 51 - 5.56      ج- 57 - 5.66

**74- تقع دولة الامارات ضمن إقليم المناخ:**

أ-البحر المتوسط      ب-الاستوائي      ج-الصحراوي الحار

**75- تسقط الامطار على دولة الإمارات شتاء بسبب هبوب الرياح.....**

أ-التجارية الجنوبية الشرقية      ب-الشمالية الباردة الجاف      ج-العكسية الشمالية الغربية القادمة من البحر المتوسط

**76- يقع إقليم برقة في طرابلس ضمن إقليم المناخ:**

أ-البحر المتوسط      ب-المداري      ج-الصحراوي الحار



**77- أي من التالي ليست من مزايا التجارة الدولية:**

- أ-تشغيل عدد كبير من الايدي العاملة ب-قدرة الدولة على تصريف المنتجات الزائدة ج- وحدة النظام النقدي

**78- المنطقة الحرة تنظيم اقتصادي يهدف إلى تبادل السلع بين الدول:**

- أ-المنتجة ب-المصدرة ج-الأعضاء في التنظيم د - المستوردة

**97- أي من التالي ليست من مزايا التجارة الداخلية:**

- أ-سهولة انتقال عناصر الإنتاج ب-قدرة الدولة على تصريف المنتجات الزائدة ج-وحدة النظام النقدي

**80- السلعة التي تأتي في المرتبة الثانية في السلع المستوردة غير النفطية في دولة الإمارات هي:**

- أ-الذهب الخام ونصف المشغول ب-الهواتف ج-السيارات د - الطائرات

**81- قارن بين كل من حسب معطيات الجدول التالي:**

أوجه المقارنة	الجبال الالتوائية	الجبال الانكسارية
المفهوم		
مثال من الوطن العربي		

التجارة الدولية	التجارة الداخلية	أوجه المقارنة
		المفهوم
		اهم المميزات

- قارن بين كل من حسب معطيات الجدول التالي

المناخ الصحراوي	المناخ المداري	مناخ البحر المتوسط	وجه المقارنة
			الجهات التي يسود فيها
			المميزات المناخية
			نوع النبات الطبيعي

المنطقة الحرة	السوق المشتركة	أوجه المقارنة
		المفهوم
		اهم المميزات

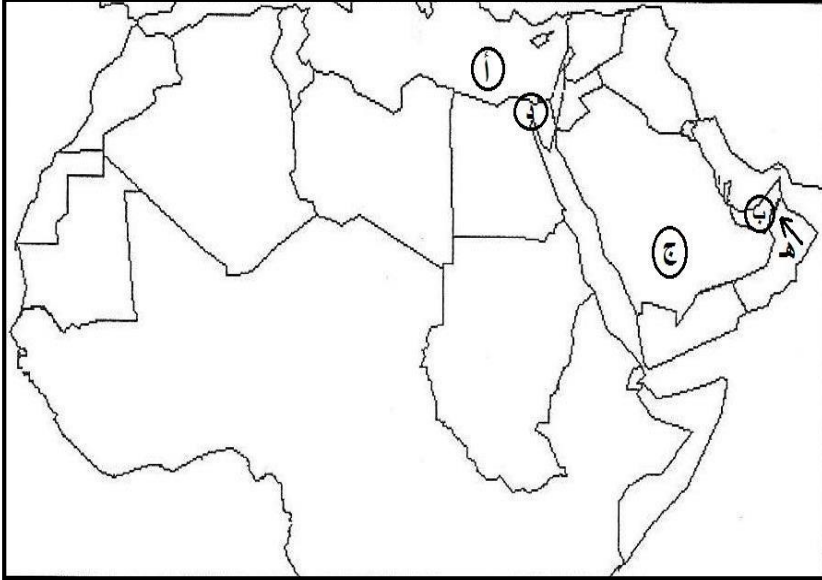
الاتفاقية الاقتصادية الموحدة	اتفاقية الجات	أوجه المقارنة
		أوجه التشابه
		أوجه الاختلاف

**82- اختر اسم المصطلح العلمي المناسب من بين الأقواس واكتبه أمام العبارة المناسبة مما يلي:**

الموقع الفلكي — الحماد — الحدود السياسية — الرق — السهول الساحلية — الإقليم المناخي — العرق  
الوطن العربي — الجبال الانكسارية — السهول الفيضية — الرياح المحلية — التجارة الدولية — الضريبة-  
الدستور  
التجارة الداخلية — المعاهدة التجارية — المطقة الحرة — السوق المشتركة — التضامن العربي

المصطلحات	التعريف
	تلك المساحة التي تقع في جنوب غرب قارة اسيا وشمال قارة افريقيا
	الحدود التي تسير خطوط الطول ودوائر العرض وهي من صنع البشر
	موقع المكان بالنسبة لدوائر العرض وخطوط الطول
	الجبال التي نتجت عن حركات بطيئة أصابت الصخور الصلبة فأدت لارتفاع بعضها وانخفاض الآخر
	التكوينات الكلسية الصخرية الصوانية التي تعرضت لعوامل التعرية
	التكوينات الحصوية كما في شرق ليبيا ووسط صحراء الجزائر
	اشرطة رملية متعرجة من الكثبان الرملية مثل بحر الرمال العظيم في مصر
	السهول التي تكونت بفعل الارسابات النهرية
	الأراضي المنبسطة المطللة على المسطحات المائية
	جزء من سطح الأرض له خصائص مناخية تميزه عن غيره
	رياح ذات طابع واثر محلي تتكون نتيجة لاختلاف الحرارة بين اليابس والماء
	تبادل السلع والخدمات عبر الحدود الدولية
	تبادل السلع والخدمات داخل الدولة
	تنظيم اقتصادي يهدف الى حرية تبادل المنتجات الوطنية بين الدول الاعضاء ودول اخرى
	مبلغ نقدي تفرضه الدول على بعض السلع لمحاربة السلع الضارة كالسجائر
	منظمة اقتصادية اقليمية تأسسها حكومات الدول لوضع ضوابط تسهل المعاملات التجارية
	مجموعة من القواعد والقوانين التي تحدد نظام الحكم في الدولة وتنظم السلطات العامة في الدولة
	تعاون ومساندة الدول بعضها البعض لما فيه مصلحتها المشتركة عن طريق الاتفاقيات المختلفة

**83- اكتب دلالات الأحرف الموضحة على خريطة الوطن العربي في الفراغات التالية:**



أ - مسطح مائي .....

ب - دولة عربية .....

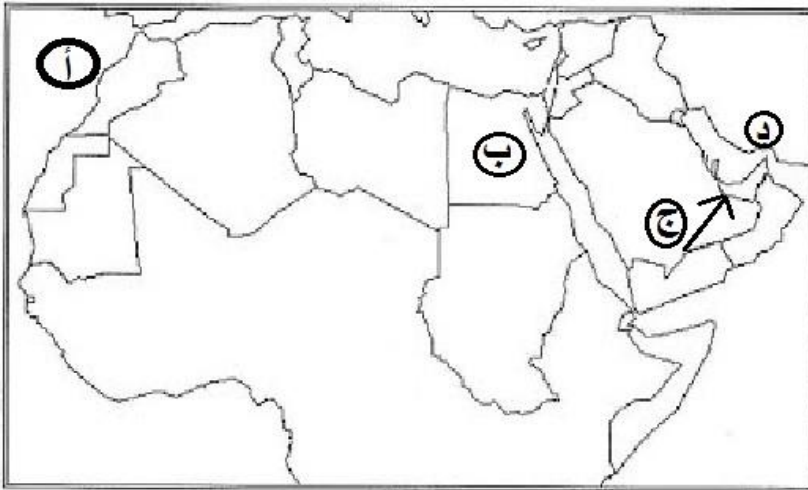
ج - هضبة .....

د - قناة .....

هـ - رياح محلية .....

و- ارسم مدار السرطان على الخريطة

**84- اكتب دلالات الأحرف الموضحة على خريطة الوطن العربي في الفراغات التالية:**



أ - مسطح مائي .....

ب - دولة عربية .....

ج - رياح محلية .....

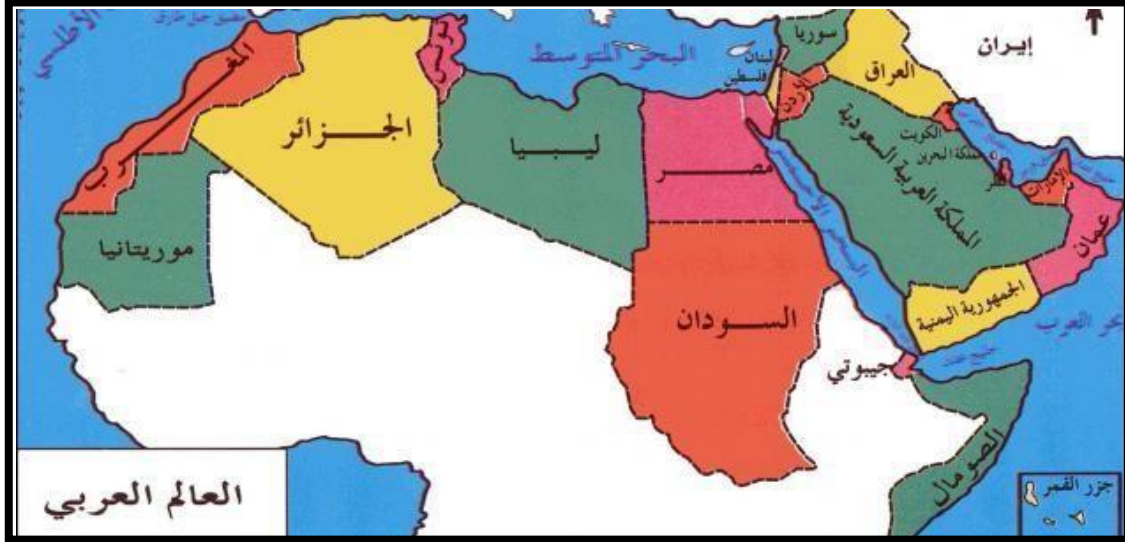
د - مضيق .....

هـ - ارسم خط الاستواء على الخريطة

**– استخلص من خريطة الوطن العربي نتيجتين اثنتين ترتبنا على اتساع مساحة الوطن العربي؟**

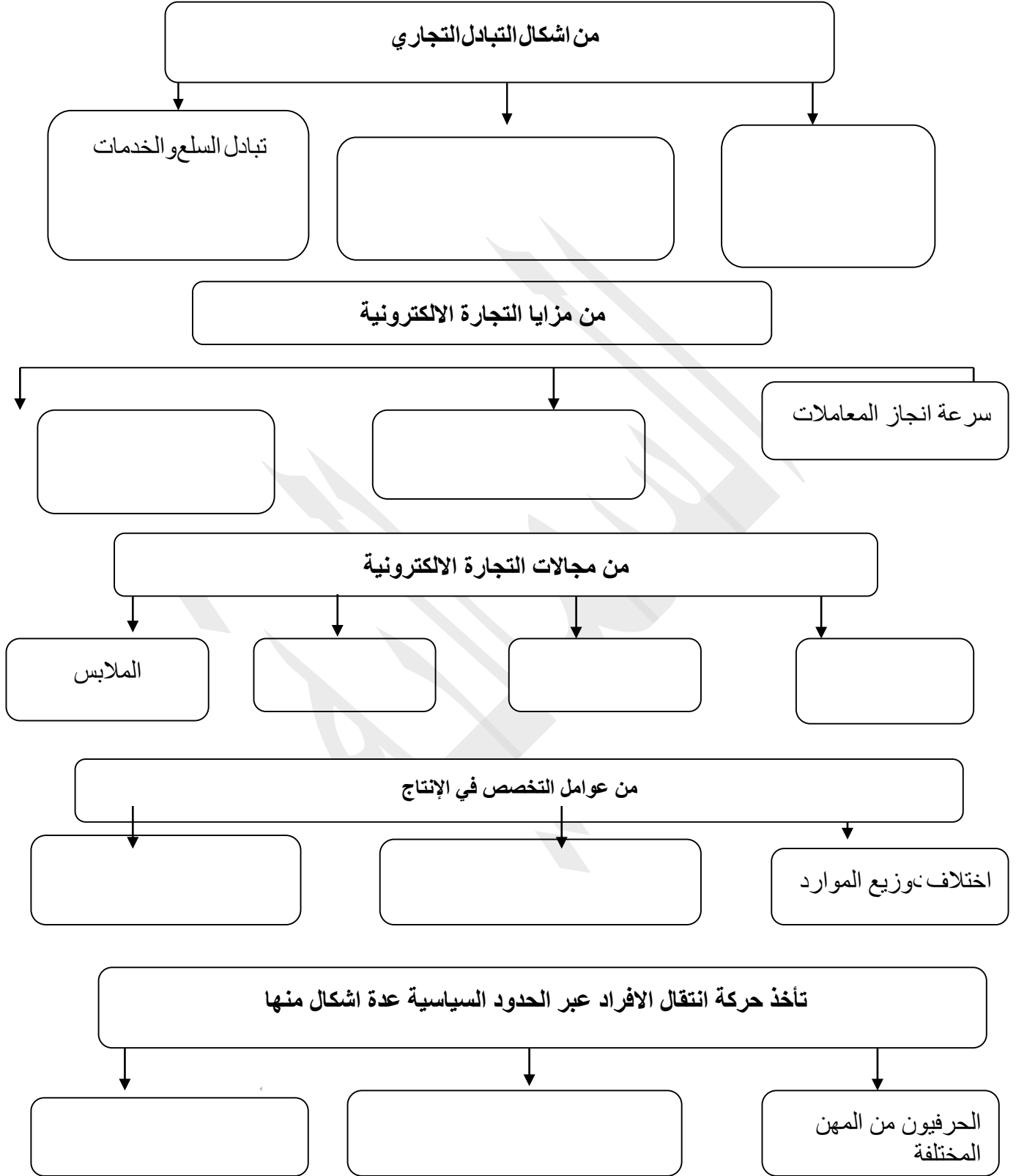
.....  
.....

85- تأمل خريطة الوطن العربي التي امامك ثم اجب عن الأسئلة التي تليها:

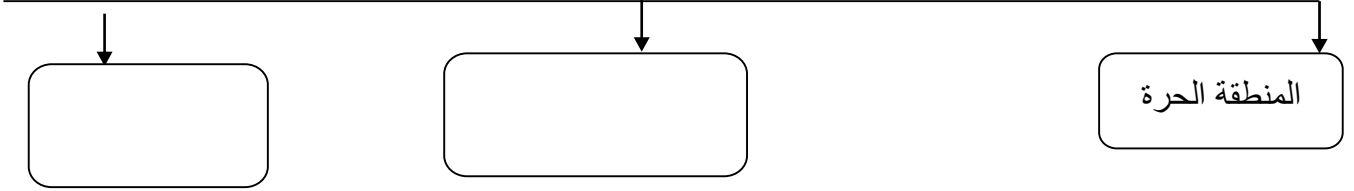


- يحد الوطن العربي من الجنوب المحيط ..... وجزء من  
الصحراء. ....
- المضيق الذي يربط الخليج العربي وبحر عمان يسمى مضيق .....
- المسطح المائي الذي يصل جناحي الوطن العربي هو .....
- يحد الوطن العربي من الغرب المحيط .....
- تقع دولة الامارات بالنسبة للوطن العربي لجهة .....
- عدد الدول العربية في الجناح الآسيوي ..... دولة
- عدد الدول العربية في الجناح الأفريقي ..... دولة
- يحد الوطن العربي من الشرق بحر عمان والخليج  
وجبال .....
- دائرة العرض التي تقطع أراضي الوطن العربي من الجنوب .....
- دائرة العرض التي تقطع أراضي الوطن العربي من الوسط .....
- من خلال الخريطة وضح أهمية الوطن العربي؟
- .....
- .....

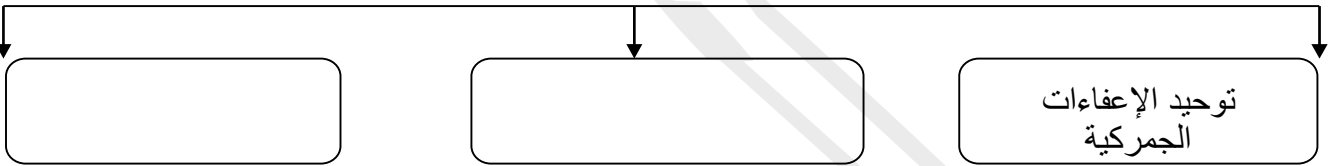
- أكمل المخططات الذهنية التالية:



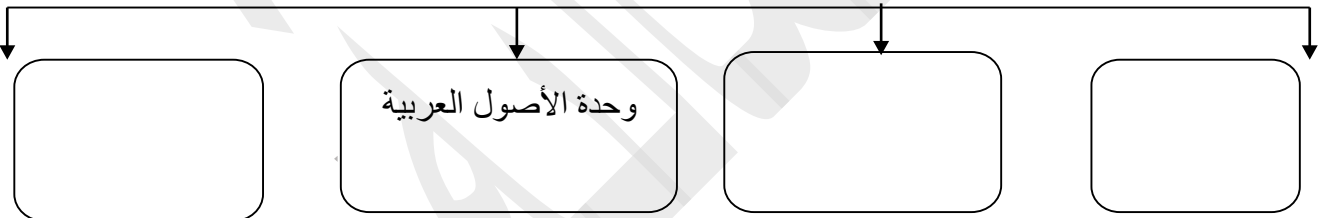
من اشكال التكتلات الاقتصادية



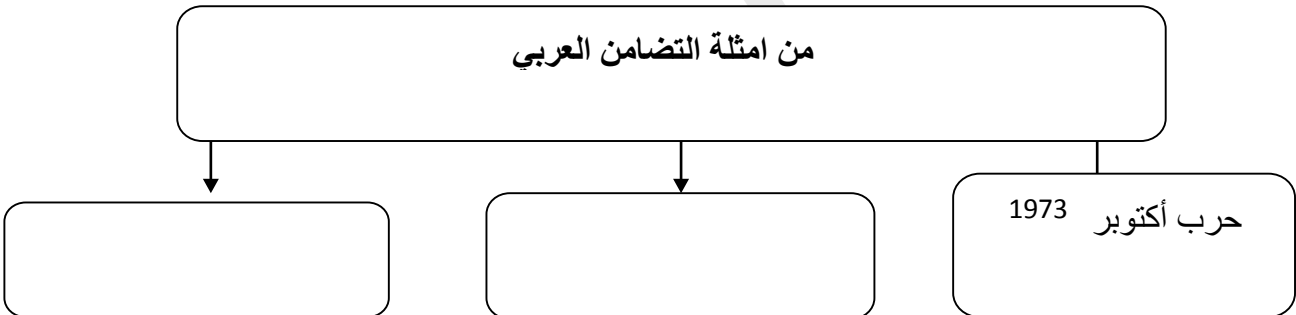
من اهم بنود المعاهدة التجارية



من اهم مقومات الاقتصادية بين دول مجلس التعاون

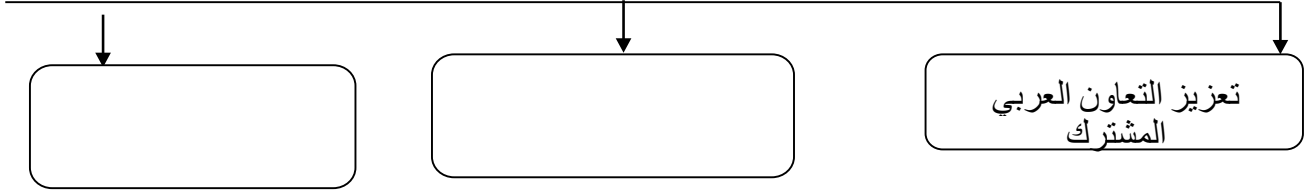


من امثلة التضامن العربي

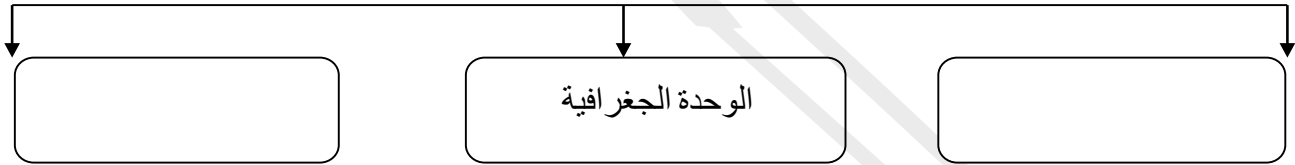




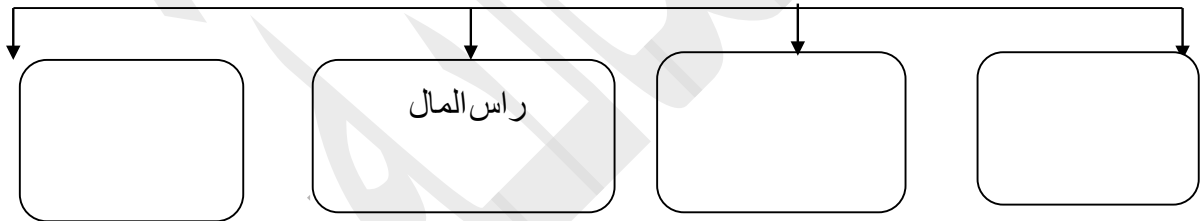
من اهدا التضامن العربي



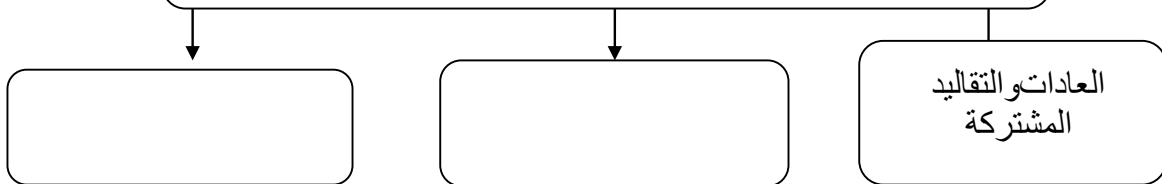
من عوامل التضامن العربي



من اهم مقومات السياحة في دولة الامارات والمملكة العربية السعودية



من اهم الروابط المشتركة بين الامارات والسعودية





87 – أفسر الآتي: أذكر سببا:

– غنى الوطن العربي بالثروات المعدنية؟

.....

– تنوع مناخ الوطن العربي؟

.....

– سقوط الامطار على دولة الإمارات العربية المتحدة شتاء؟

.....

– أهمية الوطن العربي الاقتصادية؟

.....

– تعد تضاريس الوطن العربي عاملا من عوامل التكامل الجغرافي في الوطن العربي؟

.....

– وقوع الجزء الأكبر من الوطن العربي ضمن المناخ الصحراوي؟

.....

أجب عن الأسئلة التالية:

• من نتائج حرب اكتوبر 1973م

.....

• من مخططات اعداء الامة العربية لإعاقة العمل العربي؟

.....

.....

اهداف الشراكة الامنية بين الامارات والسعودية؟

.....

.....

• اهمية الدستور للدولة

.....

.....

• اهمية الدستور للمواطن؟

.....

.....

## قاموس المصطلحات:

المصطلحات	التعريف
الوطن العربي	تلك المساحة من الأرض التي تقع في جنوب غرب قارة آسيا وشمال قارة أفريقيا، ممتدة من المحيط الأطلنطي إلى الخليج العربي وبحر عمان، تجمع سكّانه روابط ومصالح مشتركة.
الحدود السياسيّة	الحدود التي تساير خطوط الطول ودوائر العرض وهي حدود من صنع البشر يتم رسمها بشكل هندسي كخطوط متصلة أو مقطعة على الخرائط.
الموقع الفلكي	موقع المكان بالنسبة لدوائر العرض وخطوط الطول.
الجبال الانكساريّة	الجبال التي نتجت عن حركات بطيئة أصابت الصخور الصلبة فأدت لارتفاع بعضها وانخفاض البعض الآخر.
الحماد	التكوينات الكلسيّة الصخرية الصوانية التي تعرّضت لعوامل النّحت.
الرق	التكوينات الحصوية كما في شرق ليبيا ووسط صحراء الجزائر.
العرق	عبارة عن أشربة رملية متعرّجة من الكثبان الرملية.
السهول الفيضية	السهول التي تكوّنت بفعل الإرسابات النهريّة.
السهول الساحليّة	الأراضي المنبسطة المطلّة على المسطّحات المائية.
الإقليم المناخي	جزء من سطح الأرض له خصائص مناخية أو صفات معينة تميّزه عمّا يحيط به من أقاليم أخرى.
الرياح المحليّة	رياح ذات طابع وأثر محلي وتكوّن نتيجة لاختلاف الكسب الحراري بين بعض أجزاء اليابس والماء.
الاحتلال العسكري	عبارة عن لجوء الدّول الاستعماريّة القويّة الى تحقيق أغراضها الاستعماريّة باستخدام القوّة العسكريّة ضدّ الشّعوب الضّعيفة.
التمييز العنصري	حرمان السكّان الأصليين من حقوقهم الاقتصاديّة والاجتماعيّة والسياسيّة والدينيّة، باعتبارهم أدنى مرتبة من المستعمرين الذين يتمتّعون بكل هذه الحقوق.

## قاموس المصطلحات:

المصطلحات	التعريف
الحماية	احتلال بلد معيّن، وإجبار حكّامه على توقيع معاهدات حمايه يتمّ بموجبها وضع الشؤون الخارجيّة والعسكريّة والماليّة تحت السيطره المباشره للدولة التي قامت بالاحتلال، بينما تظلّ الموارد الأخرى في يد أهل البلد.
الثورة الصناعيّة	الاتّجاه نحو الإنتاج باستخدام الآلات الصناعيّة بدلاً من الإنتاج بالاعتماد على العمل اليدوي للإنسان.
التجارة الدوليّة	تبادل (انتقال) السلع والخدمات عبر الحدود الدوليّة، أي بين الدول المختلفة.
التجارة الداخليّة	تبادل السلع والخدمات داخل جميع مدن وقرى الدولة الواحدة كلها.
التجارة الإلكترونيّة	نوع من عمليات البيع والشراء ما بين المنتجين والمستهلكين من خلال استخدام شبكة الإنترنت.
الصّادرات غير المنظورة	الخدمات التي تؤدي للغير.
الواردات غير المنظورة	الخدمات التي يتم تلقيها من الغير
المعاهدة التجاريّة	اتفاق بين دولتين أو عدة دول لفترة محدّدة بهدف تنظيم التّعاون الاقتصادي فيما بينهم.
المنطقة الحرّة	تنظيم اقتصادي يهدف إلى حريّة تبادل المنتجات الوطنيّة بين الدول الأعضاء دون الدول الأخرى.
الصّربية	مبلغ نقدي تفرضه الدول على بعض السلع لمحاربة السلع الصّارة كالسجائر أو تمويل بعض القطاعات في الدولة كقطاع الطرق والصّحة والتّعليم.
السوق المشتركة	منظمة اقتصاديّة إقليميّة تأسّسها حكومات بعض الدول لوضع ضوابط تسهّل المعاملات الاقتصاديّة فيما بينها وتحقق التّقدم الاقتصادي.
الدستور	مجموعة القواعد والقوانين التي تحدّد نظام الحكم في الدولة، وتتنظّم السلطات العامّة في الدولة وتحدّد مهامها، وتبيّن ما للأفراد من حريّات عامّة وحقوق وواجبات.
التضامن العربي	تعاون ومساندة الدول بعضها بعضاً لما فيه مصلحتها المشتركة، عن طريق الاتفاقيّات الثنائيّة أو الجماعيّة في شتى ميادين التضامن السياسيّة أو العسكريّة أو الثقافيّة... .