

تم تحميل هذا الملف من موقع المناهج الإماراتية



* للحصول على أوراق عمل لجميع الصفوف وجميع المواد اضغط هنا

<https://almanahj.com/ae>

* للحصول على أوراق عمل لجميع مواد الصف التاسع اضغط هنا

<https://almanahj.com/ae/9>

* للحصول على جميع أوراق الصف التاسع في مادة اجتماعيات ولجميع الفصول, اضغط هنا

<https://almanahj.com/ae/9>

* للحصول على أوراق عمل لجميع مواد الصف التاسع في مادة اجتماعيات الخاصة بـ اضغط هنا

<https://almanahj.com/ae/9>

* لتحميل كتب جميع المواد في جميع الفصول للـ الصف التاسع اضغط هنا

<https://almanahj.com/ae/grade9>

للتحدث إلى بوت المناهج على تلغرام: اضغط هنا

https://t.me/almanahj_bot



alshorouq private school

الصف / التاسع

2020 - 2019

مدرسة الشروق الخاصة
قسم الدراسات الاجتماعية والتربية الوطنية
مراجعة الفصل الدراسي الأول



دستور دولة الإمارات العربية المتحدة

♦ اقرأ الفقرة التالية ، ثم أجب عن الأسئلة :-

(شرعت الدول الحديثة الدستور لتنظيم الحياة بمختلف جوانبها ولكل دولة في وقتنا الحالي دستور يرمز إلى استقلالها ويحقق فيها معاني التقدم والعدالة ويشكل مصدراً أساسياً لشرعية السلطة فالذي يمارس السلطة في أي دولة يمارسها بموجب الدستور والقوانين)

(1) وضع المقصود بالدستور .

(2) عنى دستور دولة الإمارات العربية المتحدة بالاتجاهات الوطنية لدعم الاتحاد والحفاظ عليه ومن أهمها :

1

2

3

(3) للدستور أهمية كبيرة وهي :

للدولة

للمواطن

(4) قارن بين : حقوق وواجبات الأفراد التي أقرها الدستور في الجدول التالي :

الواجبات	الحقوق

(5) ميز العبارة الصحيحة من العبارة غير الصحيحة فيما يلي :

- 1 - يتكون دستور الإمارات من 125 .
- 2 - أصبح دستور الإمارات دائماً في عام 1996 .
- 3 - يحتوي دستور الإمارات على عشرة أبواب .
- 4 - نص الدستور على أن الإمارات دولة اتحادية مستقلة ذات سيادة .

رؤية المدرسة : المساهمة في بناء جيل واع متميز خلقاً وعلماً ، وطني الانتماء عالمي التفكير

التضامن العربي

◆ إقرأ الخريطة ، ثم أجب عن الأسئلة التالية :-

(1) ما المقصود بالتضامن العربي .


.....

.....

.....

(2) ما هي نتائج حرب أكتوبر عام 1973 م التي اندلعت

بين إسرائيل - ومصر وسوريا .



(3) قال الشيخ زايد - رحمه الله (النفط العربي ليس بأغلى

من الدم العربي) من خلال العبارة وضح دور الإمارات

والدول العربية في حرب أكتوبر 1973 م .

◆ بين أهداف التضامن العربي .



1

2

3

♦ صمم مخططاً ذهنياً يمثل عملية عاصفة الحزم متضمناً الدول المشاركة وأسبابها .

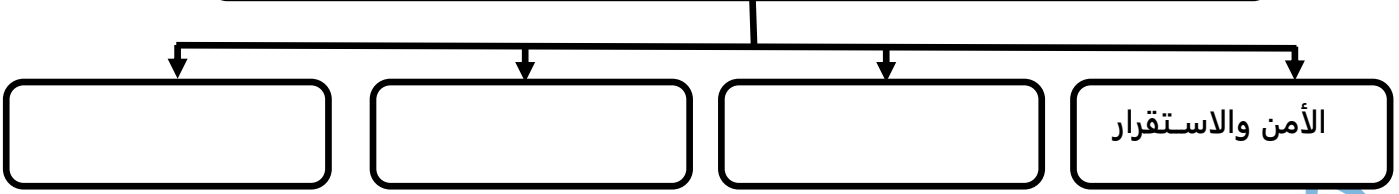
[illegible]

رؤية المدرسة : المساهمة في بناء جيل واع متميز خلقاً وعلماً ، وطني الانتماء عالمي التفكير

شراكة إماراتية - سعودية راسخة

(1) أكمل المخطط الذهني التالي :-

مقومات السياحة في دولة الإمارات العربية المتحدة والمملكة العربية السعودية



(2) أوضح الروابط المشتركة بين البلدين الشقيقين (دولة الإمارات ودولة السعودية) .

.....

.....

.....

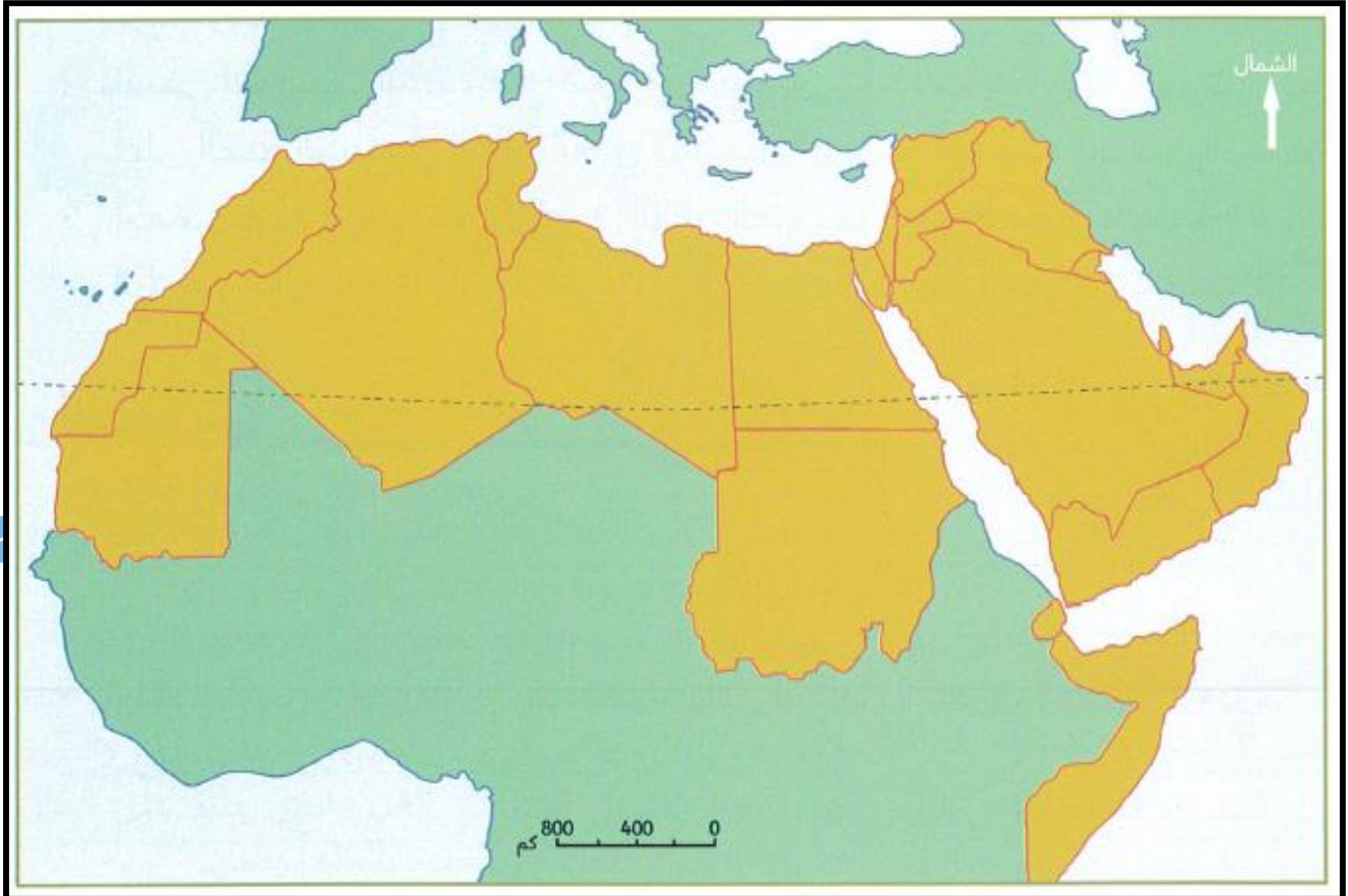
.....

(3) عدد مجالات التعاون الاقتصادي بين البلدين .

(أ) (ب) (ج)

(4) حدد على خريطة الوطن العربي الصماء ما يأتي :

(دولة الإمارات العربية المتحدة - المملكة العربية السعودية - أبوظبي العاصمة - مدينة جدة - مدينة الرياض) .



رؤية المدرسة : المساهمة في بناء جيل واع متميز خلقاً وعلماً ، وطني الانتماء عالمي التفكير

موقع الوطن العربي وأهميته

(1) عدد أهمية موقع الوطن العربي .

(2) أصوغ تعريفاً مناسباً لكل من :

- المياه الإقليمية

- الموقع الجغرافي

- الحدود السياسية

(3) أكمل العبارات التالية بما يناسبها :-

- دائرة العرض الرئيسة التي تقطع أراضي الوطن العربي من الجنوب

- يحد الوطن العربي من الشمال جبال طوروس والبحر

- المسطح المائي الذي يصل جناحي الوطن العربي هو

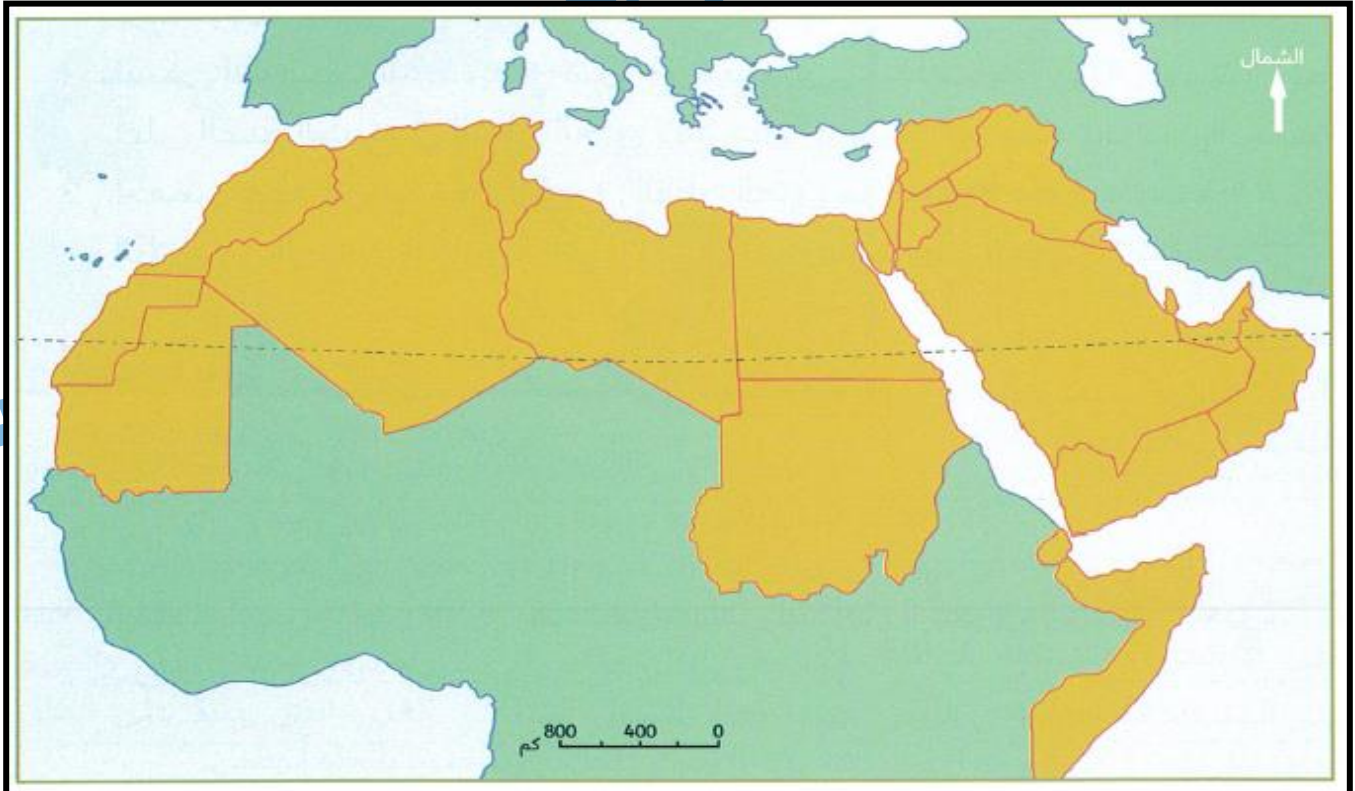
- تقع غالبية الدول العربية في الجناح العربي

(4) قدم حل مناسب من وجهة نظرك للقضية العربية الآتية :

(إستعادة دولة الإمارات العربية المتحدة لجزرها الثلاث المحتلة)

(5) حدد على خريطة الوطن العربي الصماء ما يأتي :

(دولة الإمارات العربية المتحدة - جمهورية مصر العربية - مضيق باب المندب - المملكة العربية السعودية - المملكة المغربية - بحر عمان - خط الاستواء - قناة السويس) .

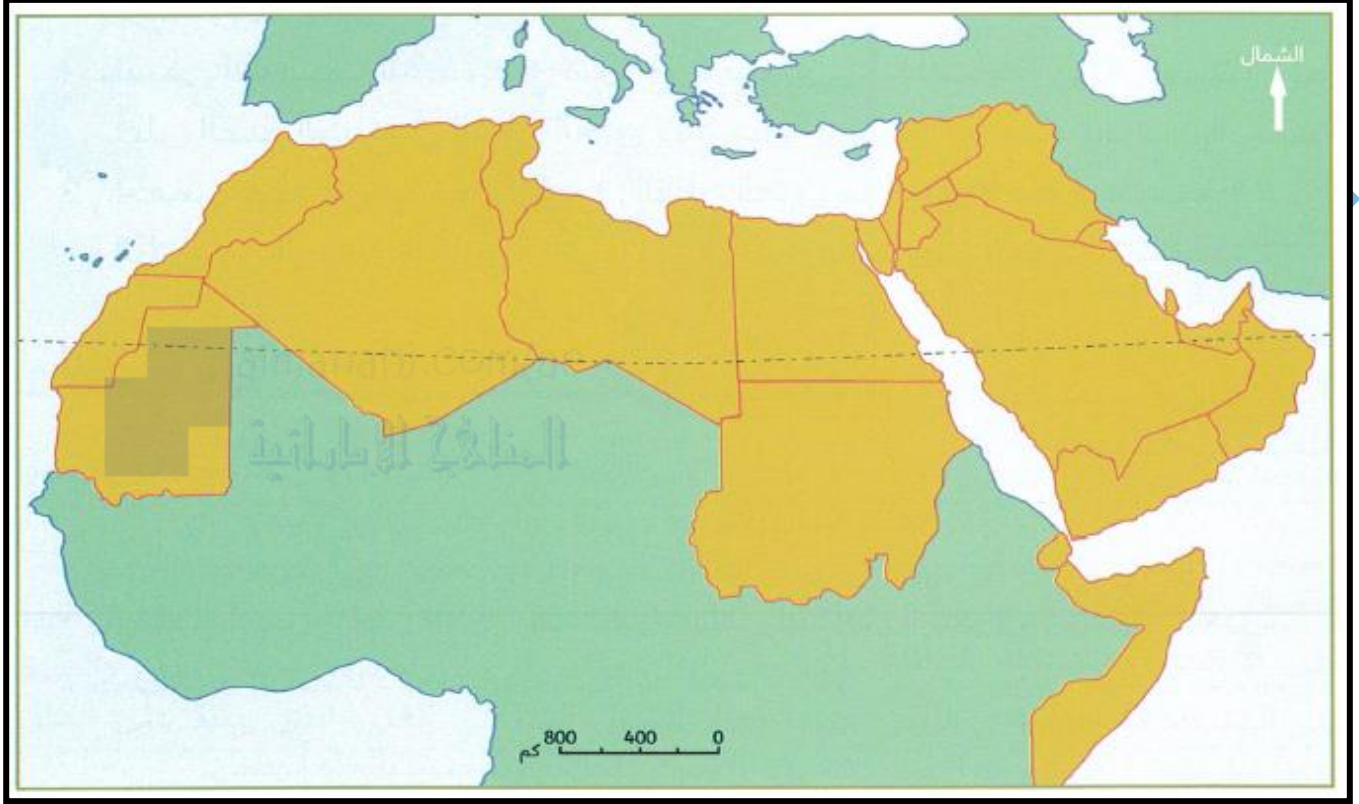


رؤية المدرسة : المساهمة في بناء جيل واع متميز خلقاً وعلماً ، وطني الانتماء عالمي التفكير

تضاريس الوطن العربي

(1) حدد على خريطة الوطن العربي الصماء ما يأتي :

(الجبل الأخضر في عُمان - الربع الخالي - جبال أطلس - سهول النيل - الخليج العربي - جبال عسير - جبال زاجروس - واحة ليوا)



(2) ما المقصود بكل من :

- السهول الفيضية
- الجبال الانكسارية
- الحماد
- الرق

(3) صنف الظاهرات الجغرافية الآتية وفق الجدول الآتي :

(الفرات - بادية الشام - الكوس - تهامة - مسافي - النيل - طوبقال - الذيد)

جبال	سهول فيضية	واحات	هضاب	سهول ساحلية	لا تنتمي

المناخ والنبات الطبيعي في الوطن العربي

(1) وضح تأثير التضاريس في مناخ الوطن العربي .

(2) بم تفسر : سقوط الأمطار على دولة الإمارات العربية المتحدة شتاء .

(3) أصوغ تعريفاً مناسباً للمفاهيم و المصطلحات الآتية :

- المناخ
- الموقع الفلكي
- الإقليم المناخي
- النبات المعمر

(4) قارن بين :

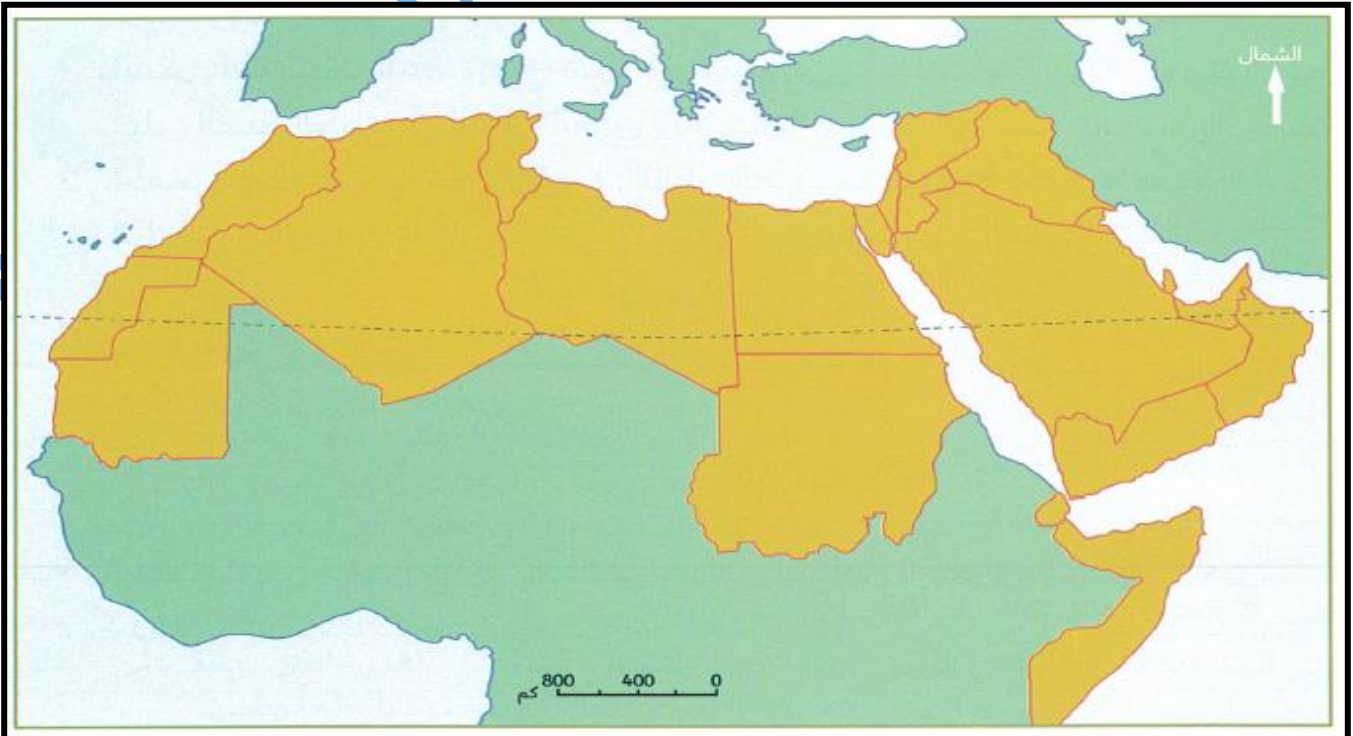
مناخ إقليم البحر المتوسط ومناخ الإقليم المداري وفق الجدول التالي :

وجه المقارنة	مناخ البحر المتوسط	المناخ المداري
الجهات التي يسود فيها		
المميزات المناخية		
نوع النبات الطبيعي		

(5) بم تفسر : وقوع الجزء الأكبر من الوطن العربي ضمن الإقليم الصحراوي الحار .

(6) حدد على خريطة الوطن العربي الصماء ما يأتي :

(اتجاه هبوب رياح الكوس - مواقع الاقاليم المناخية الثلاث - منطقة تسقط عليها الأمطار صيفاً - منطقة العين) .



التجارة الدولية

(1) ما المقصود بالتجارة الدولية .

(2) صنف السلع التي بين القوسين وفقاً لما يناسبها في الجدول الآتي :
(الثلاجة - المطاط - النحاس - القوارب - الطائرة)

بضائع محلية	بضائع دولية	بضائع شبه دولية

(3) قدم مثالين لكل مما يأتي :

• عملات قابلة للتحويل .

• مجالات التجارة الإلكترونية .

(4) من أهم سمات التجارة الإلكترونية .

1

2

3

(5) عدد مزايا التجارة الدولية ، مع ذكر أمثلة من صادرات دولة الإمارات .

(6) وضح المقصود بالمفاهيم والمصطلحات الآتية :

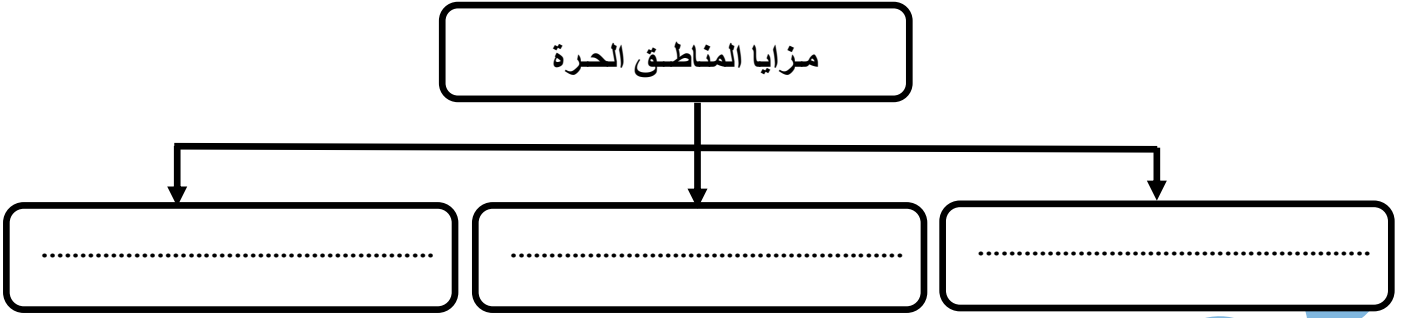
- التجارة الإلكترونية :

- الصادرات غير المنظورة :

رؤية المدرسة : المساهمة في بناء جيل واع متميز خلقاً وعلماً ، وطني الانتماء عالمي التفكير

التكتلات الاقتصادية

(1) أكمل المخطط الذهني التالي :-



(2) قدم توقعاً يمكن أن يحدث لو :

- رفعت الدولة قيمة الضرائب على السلع التجارية المستوردة .

- لم تلتزم الدول ببراءة الاختراع والعلامة التجارية .

- تم توحيد العملة بين الدول الأعضاء في الاتفاقية الاقتصادية الموحدة .

(3) بم تفسر :

- وضع ضوابط من قبل الدولة على المناطق الحرة .

- اهتمام دولة الإمارات بإقامة مناطق تجارية حرة على أراضيها .

(4) إستكمل العبارات الآتية بما يناسبها :

- تقع منطقة الحمرة الحرة في مدينة
- أهم بنود المعاهدة التجارية المعاملة بالمثل و
- العملة الرسمية للدول الأعضاء في الإتحاد الأوروبي هي
- إنضمت دولة الإمارات إلى اتفاقية الجات عام
- أقرت إتفاقية الاتحاد الأوروبي في مدينة

(5) قدم مقترحاً يسهم في زيادة الأهمية العالمية للاتفاقية الاقتصادية الموحدة .

مع تمنياتي بالنجاح والتوفيق

رؤية المدرسة : المساهمة في بناء جيل واع متميز خلقاً وعلماً ، وطني الانتماء عالمي التفكير