

تم تحميل هذا الملف من موقع المناهج الإماراتية



almanahj.com

موقع
المناهج الإماراتية

*للحصول على أوراق عمل لجميع الصفوف وجميع المواد اضغط هنا

<https://almanahj.com/ae>

* للحصول على أوراق عمل لجميع مواد الصف الثالث اضغط هنا [3/ae/com.almanahj//:https](https://almanahj.com/ae/3)

* للحصول على جميع أوراق الصف الثالث في مادة علوم ولجميع الفصول, اضغط هنا [3science/ae/com.almanahj//:https](https://almanahj.com/ae/3science)

* للحصول على أوراق عمل لجميع مواد الصف الثالث في مادة علوم الخاصة بـ الفصل الأول اضغط هنا


<https://almanahj.com/ae/3science1>

* لتحميل كتب جميع المواد في جميع الفصول للـ الصف الثالث اضغط هنا [grade3/ae/com.almanahj//:https](https://almanahj.com/ae/grade3)

للتحدث إلى بوت المناهج على تلغرام: اضغط هنا [bot_almanahj/me.t//:https](https://t.me/bot_almanahj)

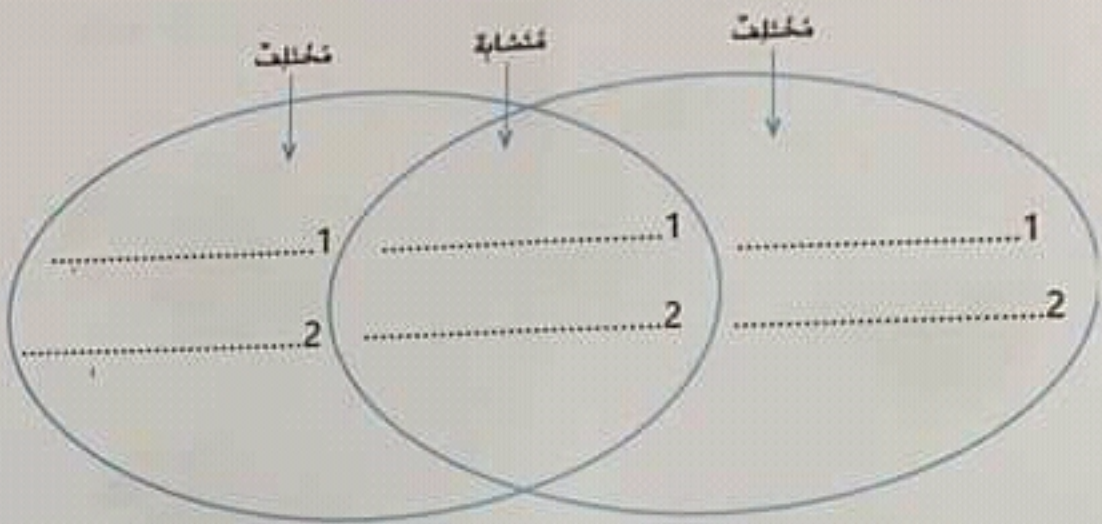
33. اكتب في الفراغ العبارة المناسبة مما يلي :

شجرة كرز صغيرة - بذرة - يحمل النحل حبوب اللقاح - تتكون الثمرة حول البذور - تخرج البذور من الثمرة

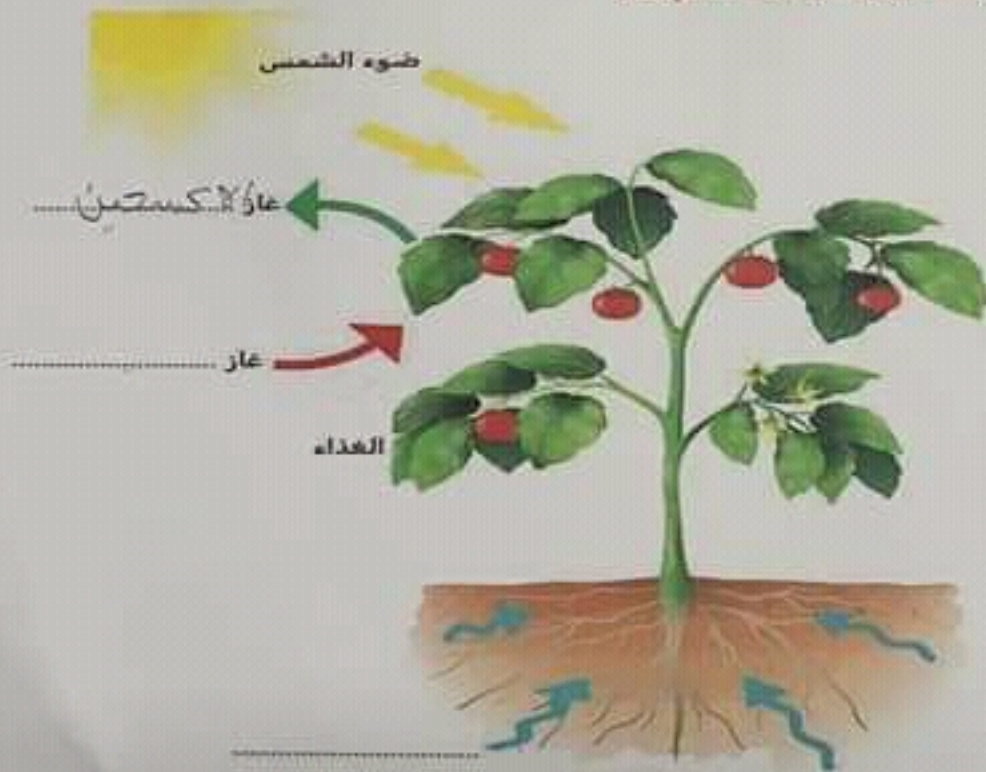


انتهت الأسئلة

31. أكمل مخطط فن لتوضيح التشابه والاختلاف بين البطريق والسمكة .



32. انظر الشكل أدناه، وأجب عن الأسئلة التي تليه



- ما اسم العملية التي يوضحها الشكل؟
- أكمل الفراغات على الشكل.

4. أي مما يلي ليس جذراً وتدياً؟



a




b



c


5. أي دورة حياة مما يلي تشبه دورة حياة سلحفاة بحرية؟



a



b



c

6. أي مما يلي كائن حي لافقاري ومن الحيوانات المفصليّة؟



a



b



c

19. ما الصورة التي تمثل ترشيد استهلاك الماء؟



c



b



a

20. صمم المهندسون نموذج أولي لسيارة مطاطية
ما الخطوة التالية للتصميم؟



c. نيل براءة اختراع

b. مراجعة التصميم

a. اختيار التصميم

السؤال الثاني

40

اقرأ الجمل التالية ثم ضع كلمة (صح) أو (خطأ) بين القوسين

21. (ص) يستخدم العلماء المنهج العلمي لكنهم قد ينفذونه بترتيب مختلف.
22. (خطأ) البيئة هي كل ما يحيط بالكائن الحي من كائنات حية وكائنات غير حية.
23. (خطأ) الخلية وحدة البناء الأساسية التي تكون الكائنات الحية.
24. (خطأ) يستخدم الفيل منقاره لسحب النباتات إلى فمه.
25. (خطأ) يُعد قنديل البحر من الحيوانات اللافقارية.
26. (خطأ) أجزاء الزهرة هي الغلاف والجنين والغذاء المخزن.
27. (خطأ) عندما تنفخ الحشرة من البيضة تسمى الشرنقة.
28. (خطأ) ترث معظم الكائنات الحية صفاتها من كلا الأبوين.
29. (خطأ) براءة الاختراع لا تُعطي الشخص الحق في المطالبة بأن الاختراع ملك له.
30. (خطأ) تساعد التكنولوجيا الجديدة في تحويل النفايات إلى وقود.

المادة	العلوم	الصف	الثالث	المسار	العام	الفصل	الأول	عدد الصفحات	7
--------	--------	------	--------	--------	-------	-------	-------	-------------	---

7. أي مما يلي تمتلك جلداً حرشفيًا يحافظ عليها من الجفاف؟



c




b



a

8. ما الرقم الذي يمثل عضو التنفس بالسمكة؟



3.c

2.b

1.a

9. أي مما يلي حيوان ثديي يعيش في الماء؟



c



b



a

10. ما الترتيب الصحيح لنمو النبات؟

c. نبات كبير، البذرة، البادرة

b. البذرة، البادرة، نبات كبير

a. البادرة، البذرة، نبات كبير

11. اقترح تفسير مناسب للإجابة عن السؤال بحيث يمكن اختبار صحته هو.....

c. التواصل

b. تصميم نموذج

a. وضع الفرضية

12. ماذا ينتج نبات السرخس حتى يفكثر؟



c. أبصال

b. أبواغ

a. بذور

13. أي من التالية تحتاج إليها كل الكائنات الحية لتعيش؟

- a. الصخور والماء
b. الماء والهواء
c. الماء والنار

14. أي دورة توضح دورة حياة الضفدع الصحيحة؟



(c)

b

(a)

15. أي مما يلي ليست تكنولوجيا يستخدمها الأطباء المتخصصون؟



c

(b)

a

16. ما الصفة المكتسبة مما يلي؟

- a. لون الشعر
b. تحدث لغة معينة
c. لون العينين

17. ما الطريقة التي يحافظ بها الطائر على سلامة صغاره؟

- a. يبني عش
b. يحفر حفرة في التراب
c. يحميها بداخله

18. مجموعة الطرق والسيارات والمترو وإشارات المرور والجسور تسمى.....



c. أنظمة المال

b. أنظمة الاتصالات

(a) أنظمة النقل

السؤال الأول

60

ضع دائرة على رمز الإجابة الصحيحة لكل مما يلي (a , b , c) :

1. أي مما يلي تنتج البذور داخل المخاريط؟



c



b



a

2. أي مما يلي تمثل كائن حي يستجيب مع ضوء الشمس؟



c



b



a

3. لماذا يخرج خروف البحر إلى سطح الماء؟



c. للحصول على الماء

b. للحصول على الغذاء

a. لاستنشاق الأكسجين