

## تم تحميل هذا الملف من موقع المناهج الإماراتية



## مراجعة دروس الوحدة الخامسة تغييرات الأرض

موقع المناهج ← المناهج الإماراتية ← الصف الثالث ← علوم ← الفصل الثاني ← ملفات متنوعة ← الملف

تاريخ إضافة الملف على موقع المناهج: 18:06:08 2025-02-13

ملفات اكتب للمعلم اكتب للطالب | اختبارات الكترونية | اختبارات | حلول | عروض بوربوينت | أوراق عمل  
منهج انجليزي | ملخصات وتقارير | مذكرات وبنوك | الامتحان النهائي للمدرس

المزيد من مادة  
علوم:

## التواصل الاجتماعي بحسب الصف الثالث



صفحة المناهج  
الإماراتية على  
فيسبوك

الرياضيات

اللغة الانجليزية

اللغة العربية

التربية الاسلامية

المواد على تلغرام

## المزيد من الملفات بحسب الصف الثالث والمادة علوم في الفصل الثاني

ورقة عمل درس دورة الماء في الطبيعة

1

أسئلة الامتحان التكويني الأول

2

ملخص الدرس الثالث التجوية والتعرية من الوحدة الخامسة تغييرات الأرض

3


عرض بوربوينت حل الدرس الأول خصائص المادة من الوحدة السابعة المادة

4

عرض بوربوينت الدرس الثاني دورة الماء وأنواع السحب من الوحدة السادسة

5

العالم/ة: ..... الصف الثالث (.....)



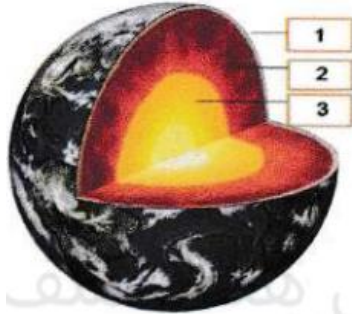
5. يوضح الشكل أدناه قاع المحيط. أي مما يلي يلي إليه الحرف (C)؟
- A. الساحل  
B. الرف القاري  
C. الخندق

1. أي من المسطحات المائية تغطي معظم سطح الأرض؟
- A. المحيطات  
B. البحيرات  
C. الأنهار  
D. البرك

7. جميع ما يأتي عبارة عن تضاريس باستثناء
- A. جزيرة  
B. أخدود  
C. الوشاح  
D. نهر

6. أي من ملامح قاع المحيط تشبه الأخدود؟
- A. سلاسل الجبال البحرية  
B. السهل السحيق  
C. المنحدر القاري  
D. خندق

2. انظر إلى الرسم التخطيطي. إلى أي تضاريس يشير السهم؟
- A. جبل  
B. تل  
C. شبه جزيرة  
D. وادٍ

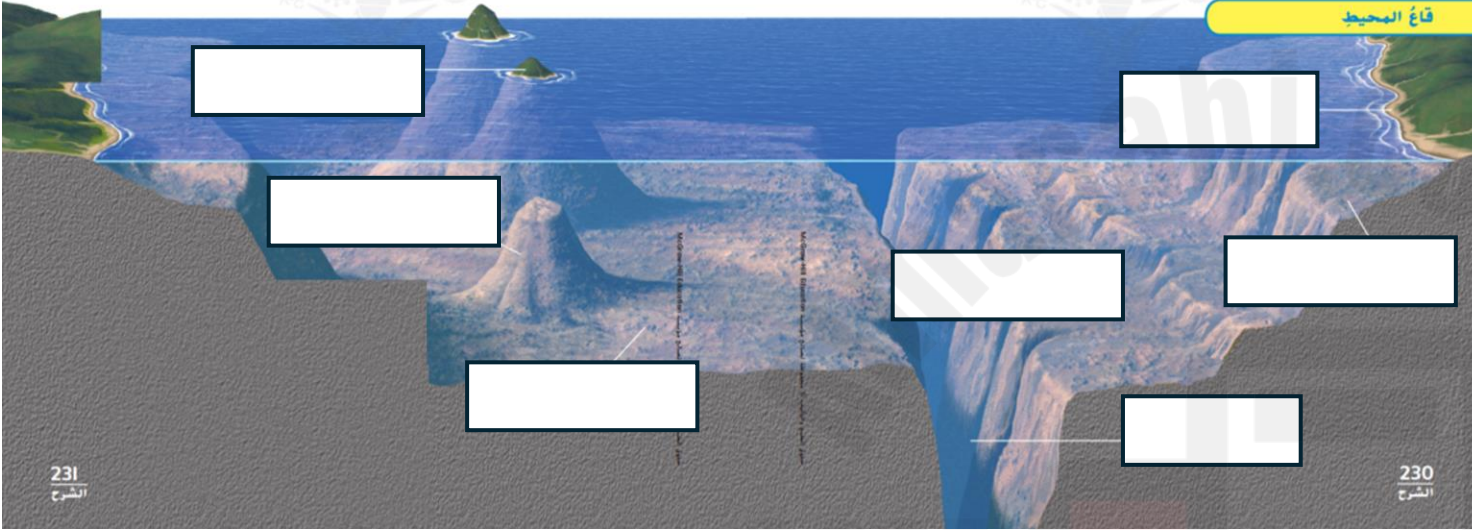


8. في الشكل أدناه، أي رقم مما يلي يشير إلى طبقة **الوشاح**؟
- A. 1  
B. 2  
C. 3

3. أي من التضاريس له جوانب منحدره وقمة مسطحة؟
- A. شبه الجزيرة  
B. الجزيرة  
C. التل  
D. البحيرة

ضع المفردات التالية في الفراغ المناسب في الشكل:

خندق - جزيرة - الساحل - الرف القاري - المنحدر القاري - الأعماق السحيقة - الجبل البحري

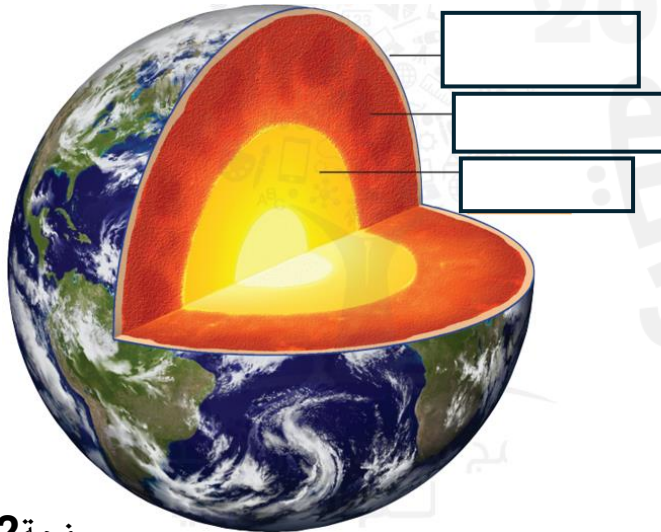


إلى ماذا تشير الأرقام في الصورة أعلاه:

- |         |          |
|---------|----------|
| ..... 1 | ..... 6  |
| ..... 2 | ..... 7  |
| ..... 3 | ..... 8  |
| ..... 4 | ..... 9  |
| ..... 5 | ..... 10 |

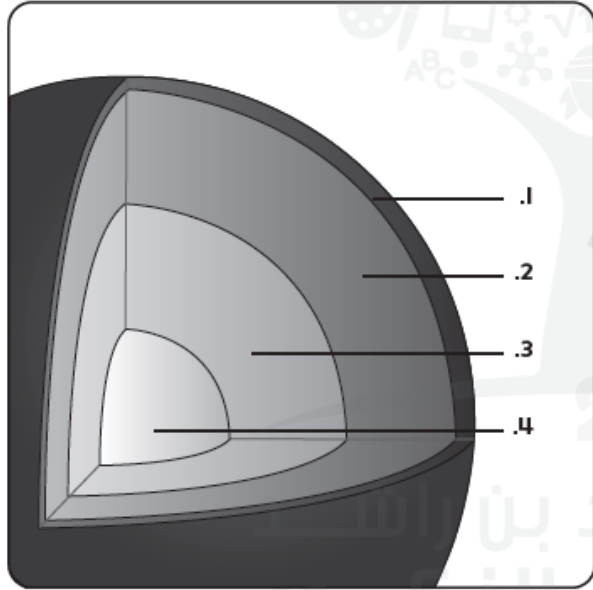
ضع المفردات التالية في الفراغ المناسب في الشكل:

الوشاح - القشرة - اللب



العالم /ة : ..... الصف الثالث (.....)

4. أنظر إلى الرسم التخطيطي الذي يوضح طبقات الأرض.



في أي طبقة يحدث الزلزال؟

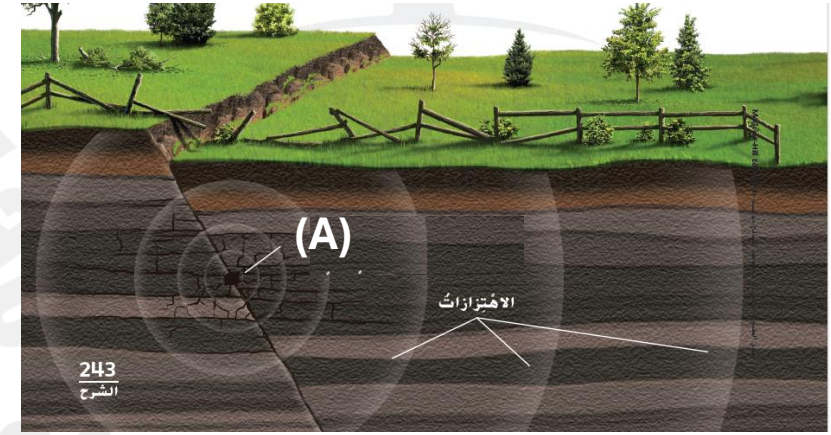
- 1 A  
2 B  
3 C  
4 D

3. سجّلت عالمة جيولوجيا عدد الزلازل في الولايات المتحدة الأمريكية لمدة أربع سنوات. وسجّلت هذه المعلومات في جدول.

الزلازل في الولايات المتحدة الأمريكية	
عدد الزلازل	القوة
0	هائل
1	رئيس
2	قوي
32	متوسط
245	خفيف
800	ضعيف

ما الذي يمكنها استنتاجه من هذه المعلومات؟

- A من المرجح حدوث زلزال ضعيف في مكان ما في الولايات المتحدة الأمريكية كل عام.  
B من المرجح حدوث زلزال هائل في مكان ما في الولايات المتحدة الأمريكية كل عام.  
C ليس من المرجح حدوث زلزال متوسط في أي مكان في الولايات المتحدة الأمريكية.  
D لا يمكن أبدا أن يحدث زلزال خفيف في الولايات المتحدة الأمريكية.



1. ما الذي توضحه الصورة أعلاه:

C. الفيضان

A. الزلزال B. البركان

2. أي مما يلي يشير إليه الحرف (A)؟

C. الفيضان

A. مركز الزلزال B. الاهتزازات

5. ما الذي توضحه الصورة أدناه:




A. الزلزال B. البركان C. الفيضان

7. تسمى الصخور المنصهرة الموجودة أسفل القشرة الأرضية:

A. حمماً بركانية  
B. صخوراً  
C. رماداً  
D. صهارة

8.

يوضح الشكل أدناه انفجار بركاني. أي مما يلي يشير إليه الحرف (A)؟



A. جبل بركاني B. صهارة C. حمم بركانية

9. ما الذي توضحه الصورة أدناه:



A. انهيار أرضي B. بركان C. فيضان

10. يمكن أن تتسبب الجاذبية في حدوث  
A. البراكين  
B. الانهيارات الأرضية  
C. الفيضانات

12. ما الذي توضحه الصورة أدناه:



A. الزلزال B. البركان C. الفيضان

11. أي حدث ينتج عن الأمطار الغزيرة؟  
A. الفيضان  
B. الزلزال  
C. الثوران البركاني

العالم/ة: ..... الصف الثالث (.....)

1. أي من هذه من المرجح أكثر أن تكون عملية تحدث ببطء؟

- A. فيضان الشاطئ  
B. ثوران البركان  
C. تجوية الصخور  
D. زلزال

2. يمكن أن يسبب كل ما يلي تجوية للصخور باستثناء

- A. الثلج  
B. الضوء  
C. الرياح  
D. النباتات

3. أي مما يأتي من المرجح أكثر أنه يسبب التجوية؟

- A. الحيوانات  
B. الصخور  
C. الرياح  
D. التربة

4. يمكن أن تسبب الأنهار الجليدية التعرية

- A. ببطء  
B. بسرعة

5. يمكن أن تسبب الفيضانات التعرية

- A. ببطء  
B. بسرعة

6. أي شكل مما يلي يعبر عن التعرية؟



7. ما الذي توضحه الصورة أدناه؟



A. التجوية

B. التعرية


C. التغير الذي يحدثه الإنسان

8. أي من أسباب التعرية توضحه الصورة:




- A. المياه الجارية  
B. الجاذبية  
C. الأنهار الجليدية

9. أي من أسباب التعرية توضحه الصورة:



- A. المياه الجارية  
B. الجاذبية  
C. الأنهار الجليدية

10. أي من أسباب التعرية توضحه الصورة:



- A. المياه الجارية  
B. الجاذبية  
C. الأنهار الجليدية